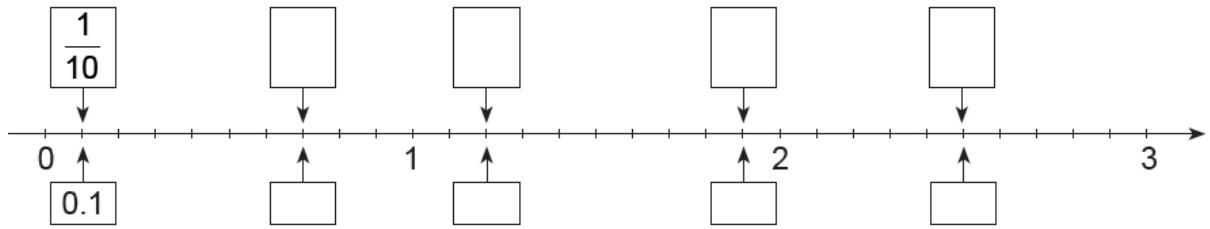


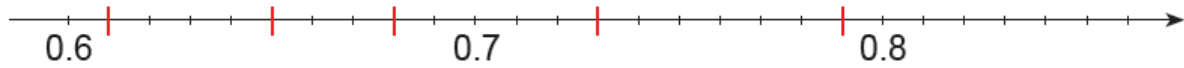
Zadaci za vježbu

Zad 1. U pravokutnike upiši odgovarajuće dekadске razlomke i decimalne brojeve koji nedostaju kako je pokazano.

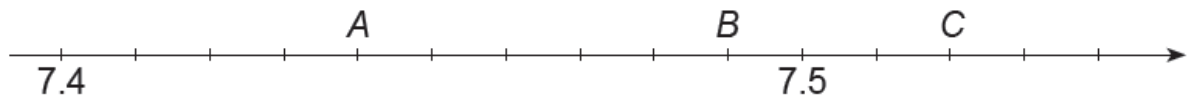


Zad 2. Odredi koji su brojevi označeni crvenim crticama (istaknuti).

a.



Zad 3. Odredi koji su brojevi označeni slovima na brojevnom pravcu.



Zad 4. Decimalne brojeve na zmajevima pridruži točkama brojevnoga pravca.

