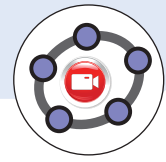


### 3 Elipse



#### PIENSA Y CALCULA

En un triángulo rectángulo, la hipotenusa mide 5 m, y un cateto, 4 m. Halla mentalmente la medida del otro cateto.

#### EVITAR ERRORES

Si los focos están en el eje  $Y$ , la constante es igual a  $2b$

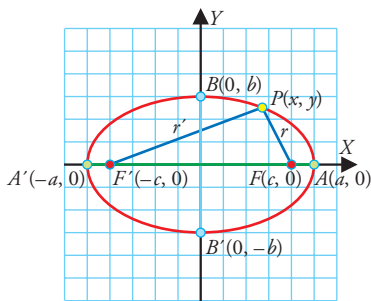
#### 3.1 Elipse

Una **elipse** es el lugar geométrico de los puntos del plano tales que la suma de las distancias a dos puntos fijos llamados focos es constante e igual a  $2a$

$$d(P, F) + d(P, F') = 2a$$

#### Ecuación reducida

Focos en el eje $X$		Focos en el eje $Y$	
$a > b$ $\frac{x^2}{a^2} + \frac{y^2}{b^2} = 1$ Relación fundamental: $a^2 = b^2 + c^2$		$a < b$ $\frac{x^2}{a^2} + \frac{y^2}{b^2} = 1$ Relación fundamental: $b^2 = a^2 + c^2$	

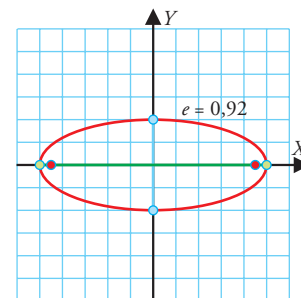
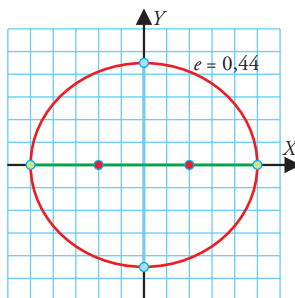


#### Elementos de la elipse con los focos en el eje $X$

- **Puntos:**
  - Centro:** es el punto de intersección de los ejes:  $O(0, 0)$
  - Vértices:** son los puntos:  $A(a, 0)$ ,  $A'(-a, 0)$ ,  $B(0, b)$  y  $B'(0, -b)$
  - Focos:** son los puntos fijos:  $F(c, 0)$ ,  $F'(-c, 0)$
- **Segmentos:**
  - Eje principal o eje focal:** es el segmento  $AA'$ , cuya longitud es  $d(A, A') = 2a$
  - Eje secundario:** es el segmento  $BB'$ , cuya longitud es  $d(B, B') = 2b$
  - Distancia focal:** es la longitud del segmento  $FF'$ :  $d(F, F') = 2c$
  - Radiovectores:** son los segmentos  $r = PF$  y  $r' = PF'$

#### • Excentricidad:

La **excentricidad de una elipse** es el cociente:  $e = c/a$ . Como en una elipse  $0 < c < a$ , la excentricidad será siempre positiva y menor que 1. Si la excentricidad es pequeña, cercana a cero, la elipse se parece a una circunferencia, y si es grande, cercana a uno, estará muy achatada.



## EJERCICIO RESUELTO

- 7** Se tiene una elipse con focos en el eje  $X$  en la que  $a = 5$  y  $c = 4$ . Halla la ecuación reducida, el centro, los vértices, los focos, el eje principal, el eje secundario, la distancia focal y la excentricidad. Dibuja la elipse.

Aplicando la relación fundamental o teorema de Pitágoras, se tiene:

$$b = \sqrt{a^2 - c^2} \Rightarrow b = \sqrt{25 - 16} = 3 \Rightarrow \text{ecuación reducida: } \frac{x^2}{25} + \frac{y^2}{9} = 1$$

• Puntos:

- Centro:  $O(0, 0)$
- Vértices:  $A(5, 0)$ ,  $A'(-5, 0)$ ,  $B(0, 3)$  y  $B'(0, -3)$
- Focos:  $F(4, 0)$ ,  $F'(-4, 0)$

• Segmentos:

- Eje principal:  $2 \cdot 5 = 10$
  - Eje secundario:  $2 \cdot 3 = 6$
  - Distancia focal:  $2 \cdot 4 = 8$
- Excentricidad:  $e = \frac{4}{5} = 0,8$

## 3.2 Elipse centrada en el punto $C(m, n)$

La ecuación reducida de una elipse de centro el punto  $C(m, n)$  se obtiene haciendo una traslación;  $x$  se sustituye por  $x - m$ , e  $y$ , por  $y - n$

$$\frac{(x - m)^2}{a^2} + \frac{(y - n)^2}{b^2} = 1$$

## 3.3 Dibujo de la elipse: método del jardinero

Construye un jardín con forma de elipse en el que el eje mayor mida 20 m, y el eje menor, 12 m

Por tanto:  $2a = 20 \Rightarrow a = 10$  m;  $2b = 12 \Rightarrow b = 6$  m

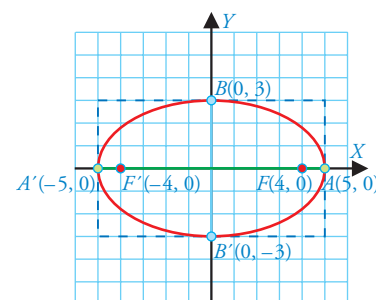
Aplicando la relación fundamental:  $c = \sqrt{a^2 - b^2} \Rightarrow c = \sqrt{100 - 36} = 8$  m

Se aplica el siguiente procedimiento:

- Se clavan dos estacas, una en cada foco, que distan  $2c = 2 \cdot 8 = 16$  m
- Se coge una cuerda de longitud un poco mayor que el eje mayor, algo más de 20 m
- Se ata cada extremo de la cuerda en la base de cada una de las estacas que están en los focos, de forma que la cuerda libre mida exactamente 20 m
- Con una estaca móvil se tensa la cuerda apoyada en la base y se hace un surco en el suelo.

## RECUERDA

Para dibujar una elipse a mano alzada, se hace un rectángulo centrado en el origen, de longitud  $2a$  y altura  $2b$ , y se inscribe dentro la elipse.



## EJERCICIO RESUELTO

- 8** Halla la ecuación de una elipse que tiene el centro en el punto  $C(3, 1)$  y en la que  $a = 5$  y  $b = 2$

$$\frac{(x - 3)^2}{25} + \frac{(y - 1)^2}{4} = 1$$

