

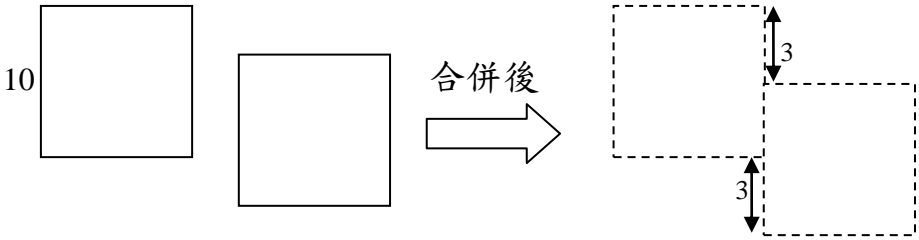
香港嘉諾撒學校  
2016-2017 年度數學科課堂活動紙

姓名：\_\_\_\_\_ ( ) 班別：4 \_\_\_\_\_ 日期：\_\_\_\_\_

周界(圖形合併)

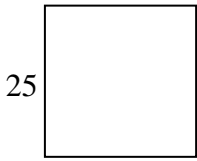
計算圖形的周界：先用顏色筆畫出合併後新圖形的周界，再計算。  
(圖形中的數字以厘米作單位)

1.

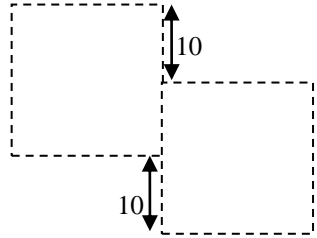
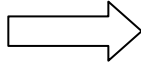


有兩個相同的正方形，  
每個正方形的周界是\_\_\_\_\_厘米。  
合併後，新圖形的周界是\_\_\_\_\_厘米。

2.



合併後



有兩個相同的正方形，

每個正方形的周界是\_\_\_\_\_厘米。

合併後，新圖形的周界是\_\_\_\_\_厘米



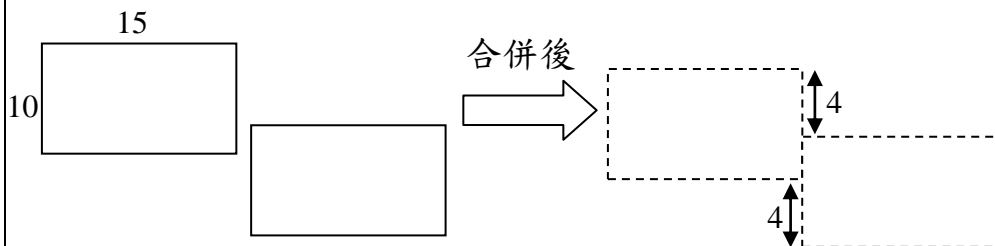
姓名：\_\_\_\_\_ ( ) 班別：4 \_\_\_\_\_ 日期：\_\_\_\_\_

周界(圖形合併)

計算圖形的周界：先用顏色筆畫出合併後新圖形的周界，再計算。

(圖形中的數字以厘米作單位)

3.

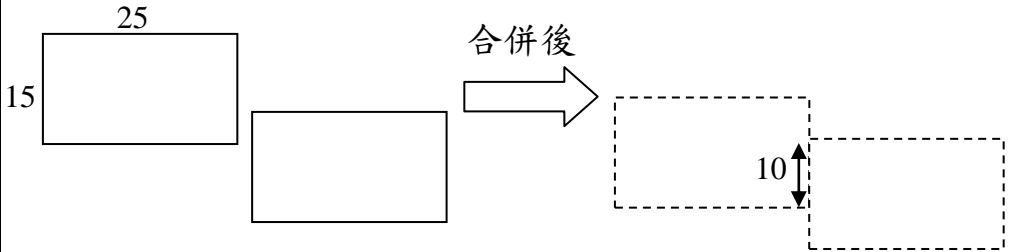


有兩個相同的長方形，

每個長方形的周界是\_\_\_\_\_厘米。

合併後，新圖形的周界是\_\_\_\_\_厘米。

4.



有兩個相同的長方形，

每個長方形的周界是\_\_\_\_\_厘米。

合併後，新圖形的周界是\_\_\_\_\_厘米。



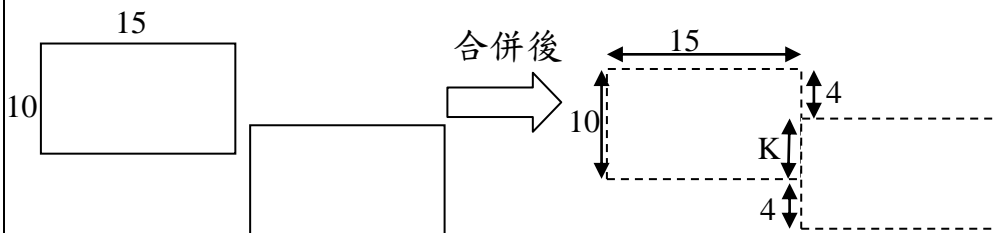
姓名：\_\_\_\_\_ ( ) 班別：4 \_\_\_\_\_ 日期：\_\_\_\_\_

周界(圖形合併)

計算圖形的周界：先用顏色筆畫出合併後新圖形的周界，再計算。

(圖形中的數字以厘米作單位)

3.

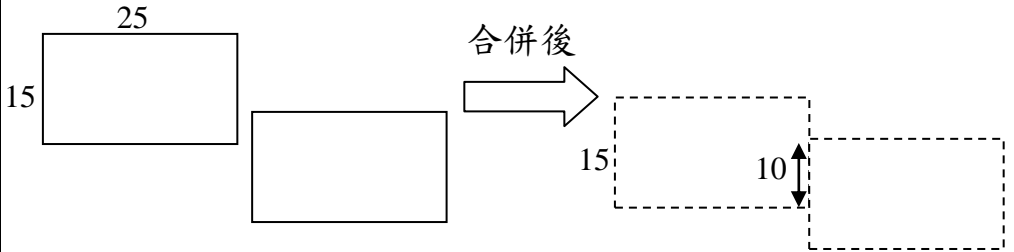


有兩個相同的長方形，

每個長方形的周界是\_\_\_\_\_厘米。

合併後，新圖形的周界是\_\_\_\_\_厘米。

4.



有兩個相同的長方形，

每個長方形的周界是\_\_\_\_\_厘米。

合併後，新圖形的周界是\_\_\_\_\_厘米。

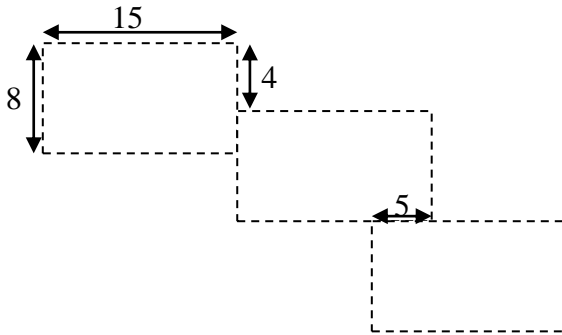
香港嘉諾撒學校  
2016-2017 年度數學科課堂活動紙

姓名：\_\_\_\_\_ ( ) 班別：4 \_\_\_\_\_ 日期：\_\_\_\_\_

周界(圖形合併)

計算圖形的周界 (圖形中的數字以厘米作單位)

挑戰題 1.



有三個相同的長方形，  
每個長方形的周界是\_\_\_\_\_厘米。  
合併後，新圖形的周界是\_\_\_\_\_厘米。