

## ZADACI ZA VJEŽBU

1. Konstruiraj  $k(D, 30\text{ mm})$  te istakni jedan središnji tupi kut i jedan središnji šiljasti kut.

2. Konstruiraj  $k(S, 35\text{ mm})$ . Rabeći kutomjer nacrtaj središnji kut veličine:

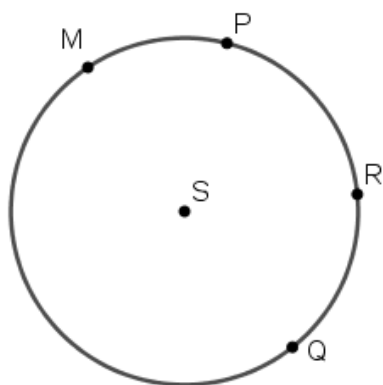
a.  $67^\circ$

b.  $174^\circ$

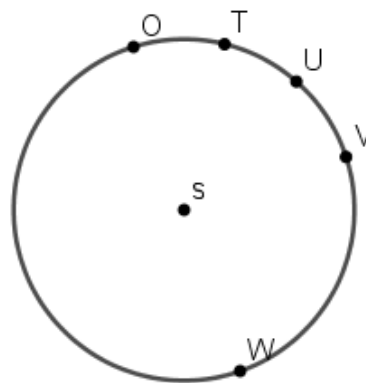
c.  $275^\circ$

3. Dane su kružnice i točke koje pripadaju kružnicama. Nacrtaj središnje kutove pridružene kružnim lukovima.

a.  $\widehat{PM}$ ,  $\widehat{QR}$

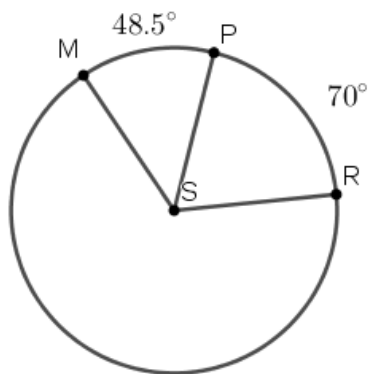


b.  $\widehat{UV}$ ,  $\widehat{WOT}$

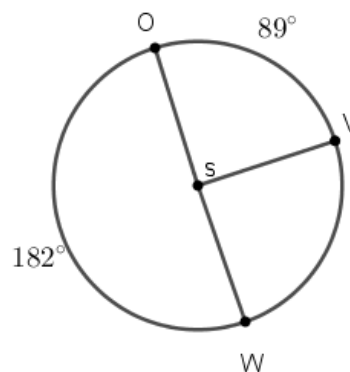


4. Koliko iznose kutne mjere lukova:

a.



b.



5. Konstruiraj  $k(S, 42\text{ mm})$  te konstruiraj središnji kut  $ASB$  veličine  $30^\circ$ .