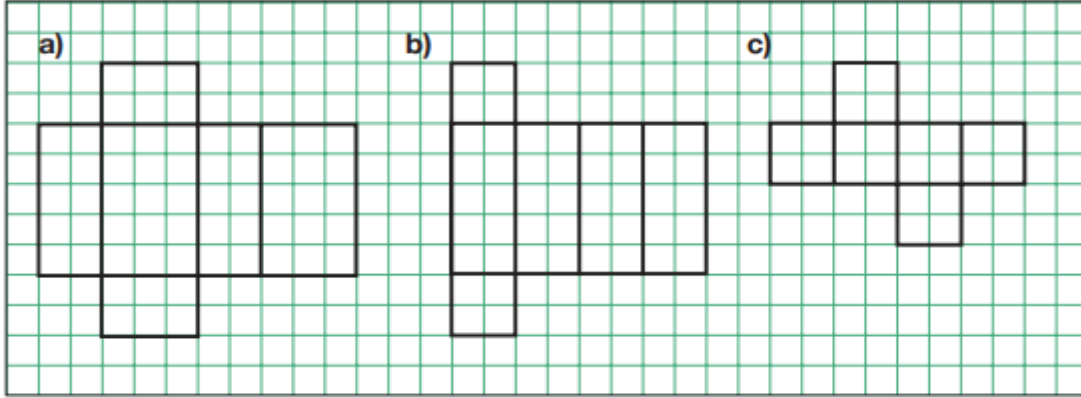


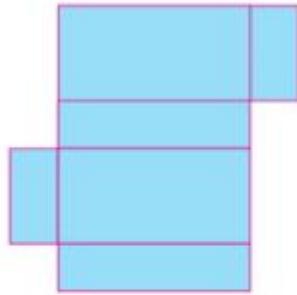
Aşağıdaki kareli kâğıtta verilen açınımların hangi geometrik cisimlere ait olduğunu bulalım.



Aşağıdaki izometrik kâğıda bir dikdörtgenler prizması çiziniz.



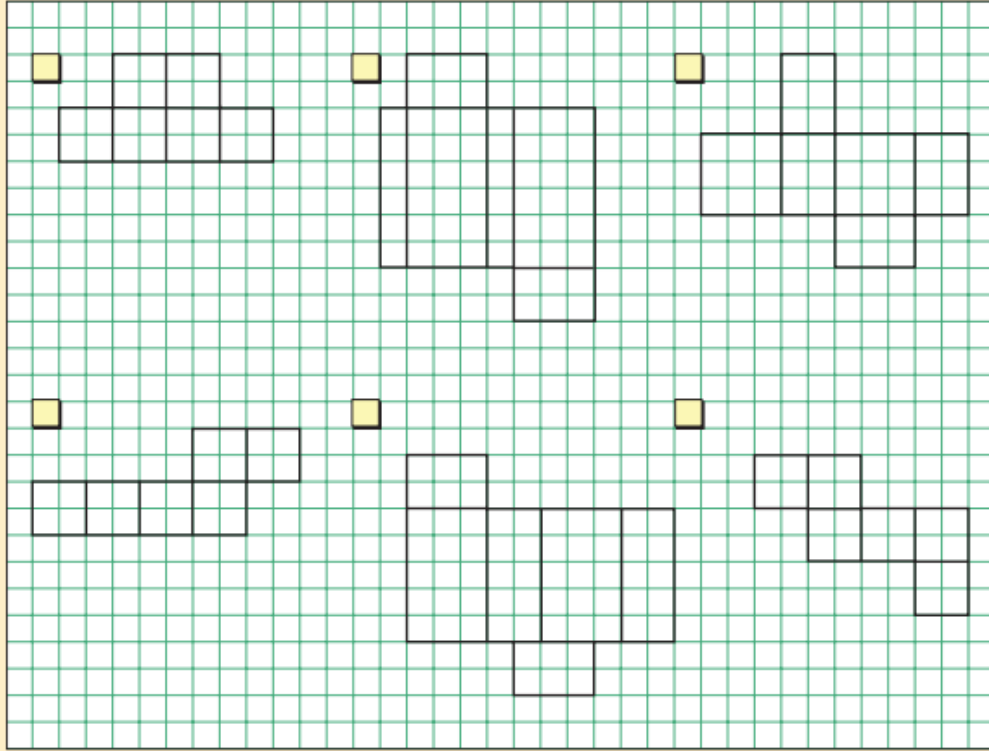
6.



Yukarıda açınımları verilen cisim aşağıdakilerden hangisidir?

- A) Dikdörtgenler prizması B) Küp
C) Üçgen prizma D) Piramit

2) Aşağıda verilen şekillerden prizma açınımları olanların başına "V" işareti, olmayanların başına "X" işareti koyunuz.



3) Aşağıdakilerden hangisi, bir küpün açını-
mı olamaz?

