



20.../20... EĞİTİM-ÖĞRETİM YILI ORTAOKULU
6.SINIF MATEMATİK DERSİ ONDALIK SAYILARDA ÇÖZÜMLEME
ÇALIŞMA KAĞIDI

Öğrencinin Adı Soyadı:

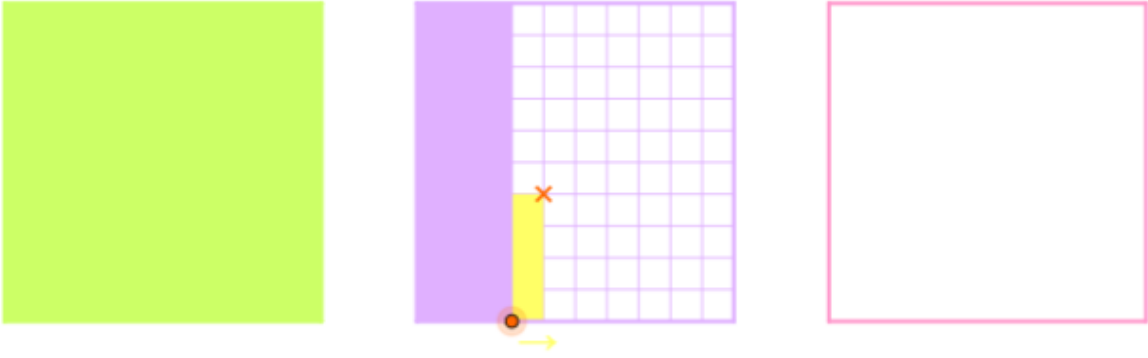
Tarih:

Numarası / Sınıfı:

Soru: Sizce ondalık gösterim nedir? Açıklayınız.

2. Soru: Sizce ondalık çözümlenme nedir ve ne işimize yarar?

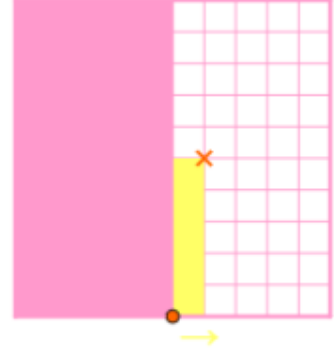


3. Soru:



Yukarıdaki şekli çözümlerken nasıl bir yol izliyorsunuz? Gösteriniz.

4. Soru:





Yukarıdaki şekilleri çözümleniz. Sizce bu şekillerin çözümlenmesinde ne gibi farklar vardır yazınız.