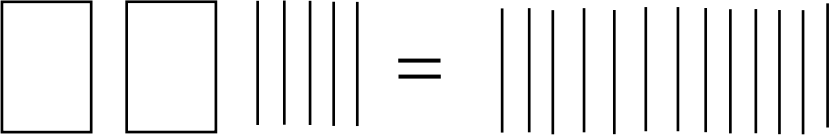
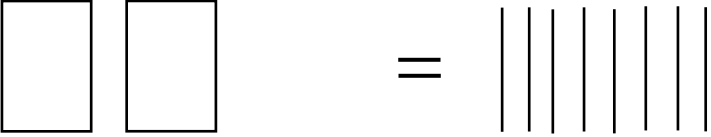
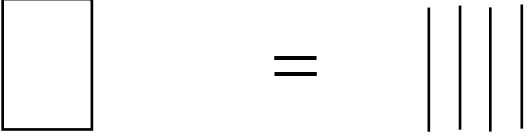


BOXMODELL 2

Boxengleichung	Aktion	Gleichung in Term-Schreibweise	Rechen-anweisung
	<p>Ich nehme auf jeder Seite <u>5</u> Hölzer weg.</p>	$2x + 5 = 13$	$ -5$
	<p>Wenn ich <u>8</u> Hölzer auf <u>2</u> Boxen verteile, dann liegen in einer Box <u>4</u> Hölzer.</p>	$2x = 8$	$:2$
		$x = 4$	
<p>PROBE:</p> 