




Задача на побудову 5. Побудувати висоти трикутника.

Нагадаємо, що *висотою трикутника* називається перпендикуляр, проведений із вершини трикутника до прямої, що містить протилежну сторону цього трикутника.

Покрокова побудова.

1.		Продовжіть сторони трикутника додатковими прямими.
2.		Проведіть висоти до всіх сторін трикутника і знайдіть точку їх перетину
3.		Виділіть побудовані об'єкти кольором і створіть прапорець для контролю видимості елементів креслення.