







Matemática – 6º ano – 2º Período Turma:		Classificação:
Tarefa: Triângulos em papel isométrico		A Prof(a):
Elementos do grupo:		O (A) E.E.:
		Data:

1. Utiliza os pontos como vértices, para desenhar, se possível, os seguintes triângulos.

Triângulo escaleno acutângulo	Triângulo escaleno obtusângulo	Triângulo escaleno retângulo
		

Triângulo isósceles acutângulo	Triângulo isósceles obtusângulo	Triângulo isósceles retângulo
		

2. Desenha três triângulos equiláteros diferentes.

Triângulo equilátero	Triângulo equilátero	Triângulo equilátero
