

ZADACI ZA VJEŽBU

1. Konstruiraj $k(S, 29 \text{ mm})$ te istakni dva obodna kuta tako da jedan kut bude šiljasti, a drugi kut tupi.

2. Konstruiraj $k(M, 39 \text{ mm})$. Koristeći kutomjer nacrtaj obodni kut veličine:

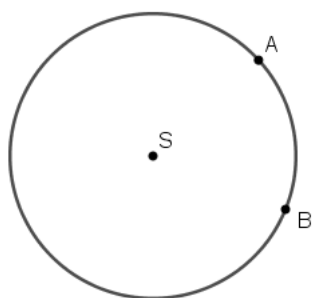
a. 27°

b. 119°

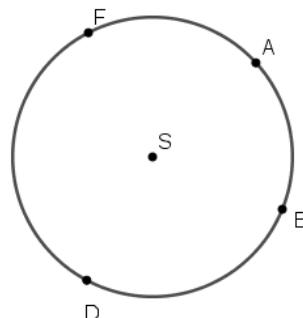
c. 56°

3. Dane su sljedeće slike. Nacrtaj dva obodna kuta pridružena kružnom luku:

a. \widehat{AB}

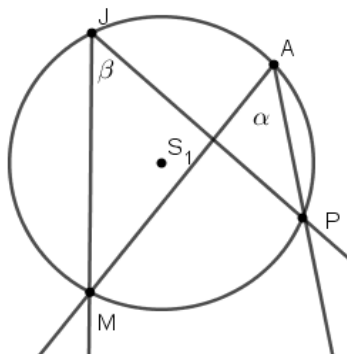


b. \widehat{FDB}

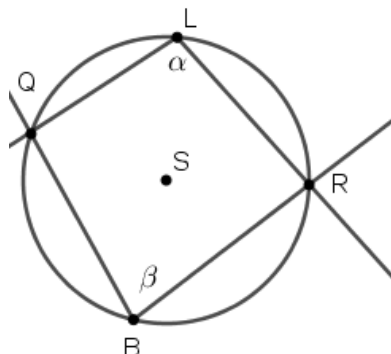


4. Koji su kružni lukovi pridruženi kutovima α i β .

a.



b.



5. Konstruiraj $k(S, 41 \text{ mm})$ te konstruiraj neki obodni kut veličine 75° .