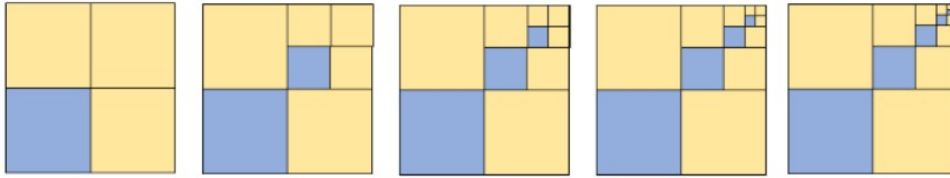
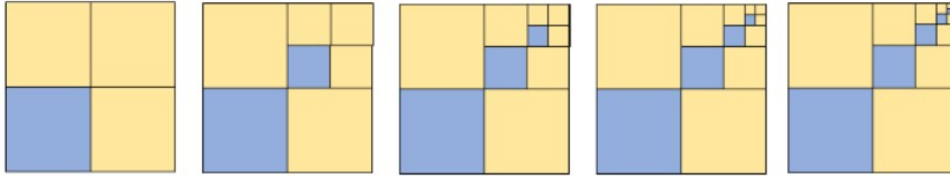


Défi : Carrés à l'infini



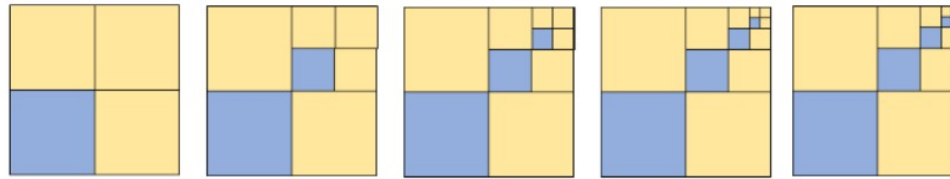
Saurais-tu trouver, dans chacun des 5 cas, quelle fraction de l'aire du carré est coloriée en orange ?

Défi : Carrés à l'infini



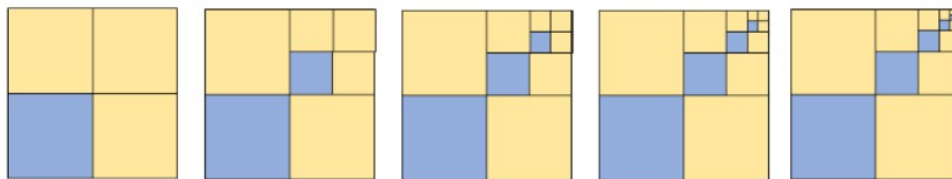
Saurais-tu trouver, dans chacun des 5 cas, quelle fraction de l'aire du carré est coloriée en orange ?

Défi : Carrés à l'infini



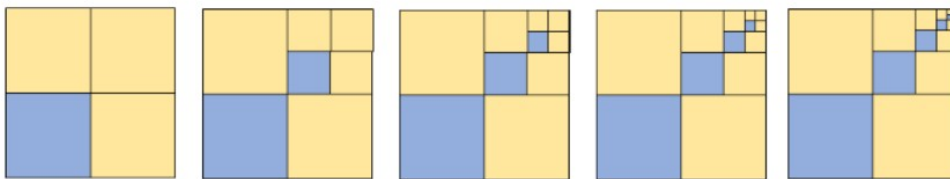
Saurais-tu trouver, dans chacun des 5 cas, quelle fraction de l'aire du carré est coloriée en orange ?

Défi : Carrés à l'infini



Saurais-tu trouver, dans chacun des 5 cas, quelle fraction de l'aire du carré est coloriée en orange ?

Défi : Carrés à l'infini



Saurais-tu trouver, dans chacun des 5 cas, quelle fraction de l'aire du carré est coloriée en orange ?