

樂善堂梁錫琚學校(分校)
四年級上學期數學科工作紙


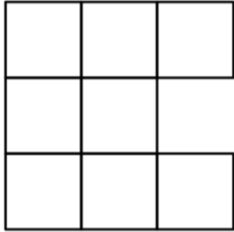
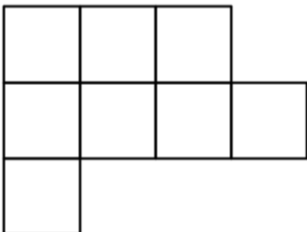
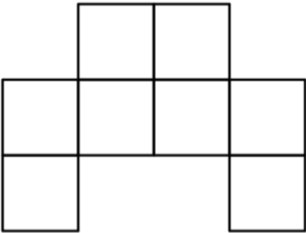

姓名：_____

積分：_____

班別：_____

日期：_____

以下圖形是由 8 個相同大小的正方形(邊長 1cm)拼砌出來的多邊形，請列式計算以下圖形的周界，並找出周界最長的圖形和周界最短的圖形。

<p>A.</p> 	
<p>B.</p> 	
<p>C.</p> 	
<p>D.</p> 	
<p>E.</p> 	

周界最長的是圖_____；周界最短的是圖_____。

樂善堂梁鍊琚學校(分校)
四年級上學期數學科工作紙

姓名：_____

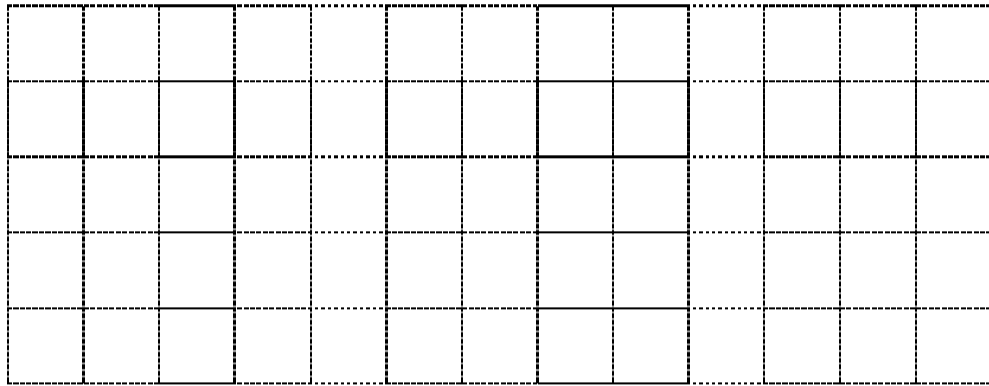
積分：_____

班別：_____

日期：_____

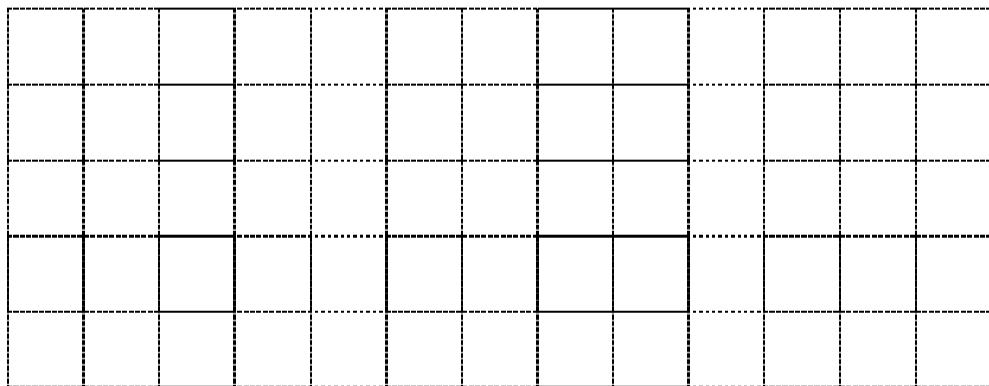
試用以下方格紙，運用 8 個相同大小的正方形(邊長 1 cm)，製造出一個周界最長的圖形和一個周界最短的圖形。

周界最短的圖形



在下方，計算出上圖的周界：

周界最長的圖形



在下方，計算出上圖的周界：

樂善堂梁鍊琚學校(分校)
四年級上學期數學科工作紙

姓名：_____

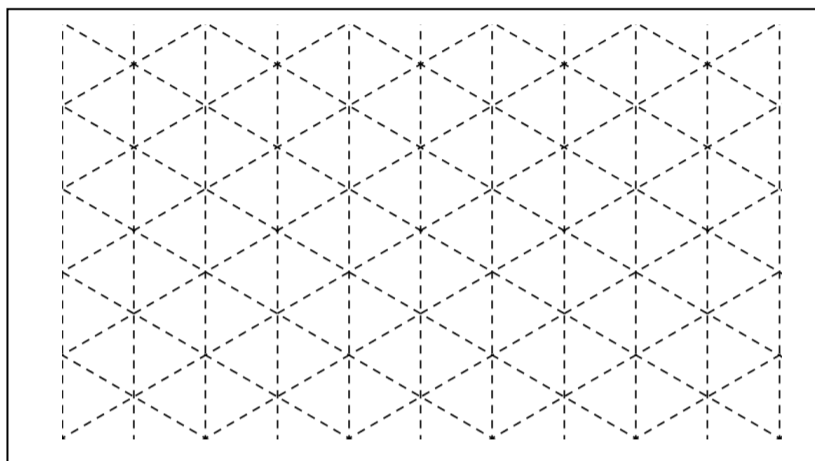
積分：_____

班別：_____

日期：_____

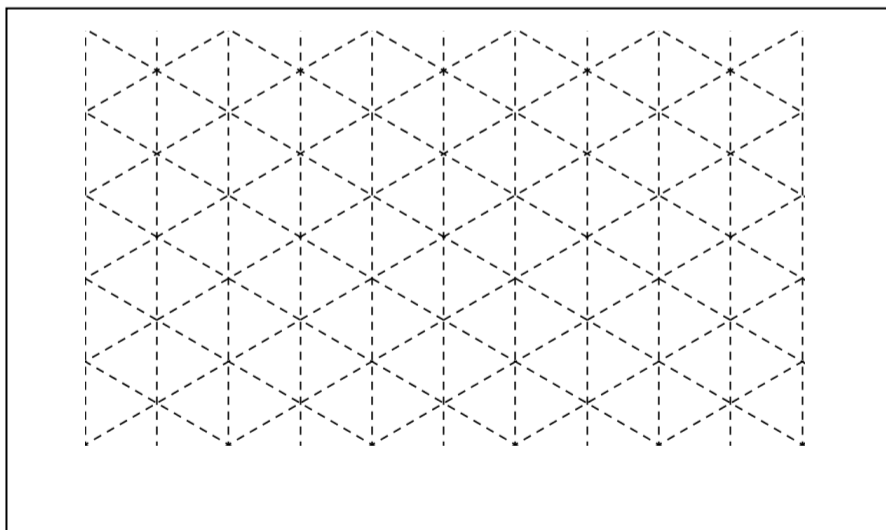
試用以下方格紙，運用 6 相同大小的等邊三角形(邊長 1 cm)，製造出一個周界最長的圖形和一個周界最短的圖形。

周界最短的圖形



在下方，計算出上圖的周界：

周界最長的圖形



在下方，計算出上圖的周界：