

Nama : Mufidatul Hanifah
Kelas : Pendidikan Matematika A
NIM : 22301244017

Kalkulus dengan EMT

Materi Kalkulus mencakup di antaranya:

- Fungsi (fungsi aljabar, trigonometri, eksponensial, logaritma, komposisi fungsi)
- Limit Fungsi,
- Turunan Fungsi,
- Integral Tak Tentu,
- Integral Tentu dan Aplikasinya,
- Barisan dan Deret (kekonvergenan barisan dan deret).

EMT (bersama Maxima) dapat digunakan untuk melakukan semua perhitungan di dalam kalkulus, baik secara numerik maupun analitik (eksak).

Mendefinisikan Fungsi

Terdapat beberapa cara mendefinisikan fungsi pada EMT, yakni:

- Menggunakan format `nama_fungsi := rumus fungsi` (untuk fungsi numerik),
- Menggunakan format `nama_fungsi &= rumus fungsi` (untuk fungsi simbolik, namun dapat dihitung secara numerik),
- Menggunakan format `nama_fungsi &&= rumus fungsi` (untuk fungsi simbolik murni, tidak dapat dihitung langsung),
- Fungsi sebagai program EMT.

Setiap format harus diawali dengan perintah `function` (bukan sebagai ekspresi).

Berikut adalah beberapa contoh cara mendefinisikan fungsi.

$$f(x) = 2x^2 + e^{\sin(x)}.$$

```
>function f(x) := 2*x^2+exp(sin(x)) // fungsi numerik  
>f(0), f(1), f(pi)
```

```
1  
4.31977682472  
20.7392088022
```

```
>f(a) // tidak dapat dihitung nilainya
```

```
Variable or function a not found.  
Error in:  
f(a) // tidak dapat dihitung nilainya ...  
^
```

Silakan Anda plot kurva fungsi di atas!

Berikutnya kita definisikan fungsi:

$$g(x) = \frac{\sqrt{x^2 - 3x}}{x + 1}.$$

```
>function g(x) := sqrt(x^2-3x)/(x+1)
>g(3)
```

0

```
>g(0)
```

0

```
>g(1)
```

```
Floating point error!
Error in sqrt
Try "trace errors" to inspect local variables after errors.
g:
  useglobal; return sqrt(x^2-3x)/(x+1)
Error in:
g(1) ...
  ^
```

Silakan Anda plot kurva fungsi di atas!

```
>f(g(5)) // komposisi fungsi
```

2.20920171961

```
>g(f(5))
```

0.950898070639

```
>function h(x) := f(g(x)) // definisi komposisi fungsi
>h(5) // sama dengan f(g(5))
```

2.20920171961

Silakan Anda plot kurva fungsi komposisi fungsi f dan g:

$$h(x) = f(g(x))$$

dan

$$u(x) = g(f(x))$$

bersama-sama kurva fungsi f dan g dalam satu bidang koordinat.

```
>f(0:10) // nilai-nilai f(1), f(2), ..., f(10)
```

```
[0, 1, 8, 27, 64, 125, 216, 343, 512, 729, 1000]
```

```
>fmap(0:10) // sama dengan f(0:10), berlaku untuk semua fungsi
```

```
[0, 1, 8, 27, 64, 125, 216, 343, 512, 729, 1000]
```

```
>gmap(200:210)
```

```
[0.987534, 0.987596, 0.987657, 0.987718, 0.987778, 0.987837,  
0.987896, 0.987954, 0.988012, 0.988069, 0.988126]
```

Misalkan kita akan mendefinisikan fungsi

$$f(x) = \begin{cases} x^3 & x > 0 \\ x^2 & x \leq 0. \end{cases}$$

Fungsi tersebut tidak dapat didefinisikan sebagai fungsi numerik secara "inline" menggunakan format `:=`, melainkan didefinisikan sebagai program. Perhatikan, kata "map" digunakan agar fungsi dapat menerima vektor sebagai input, dan hasilnya berupa vektor. Jika tanpa kata "map" fungsinya hanya dapat menerima input satu nilai.

```
>function map f(x) ...
```

```
    if x>0 then return x^3  
    else return x^2  
    endif;  
endfunction
```

```
>f(1)
```

```
1
```

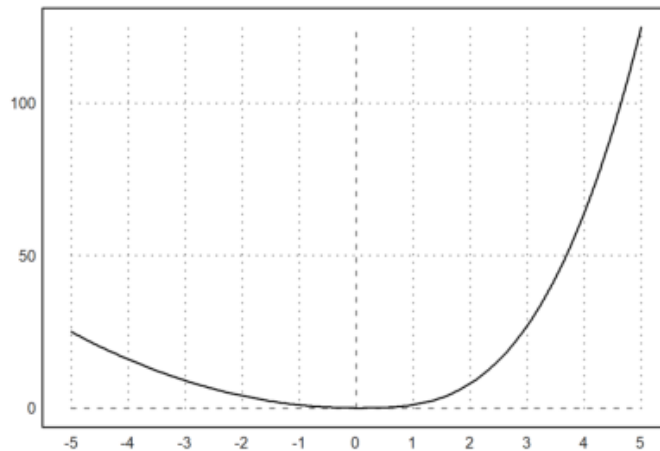
```
>f(-2)
```

```
4
```

```
>f(-5:5)
```

```
[25, 16, 9, 4, 1, 0, 1, 8, 27, 64, 125]
```

```
>aspect(1.5); plot2d("f(x)",-5,5):
```



```
>function f(x) &= 2*E^x // fungsi simbolik
```

$$2 E^x$$

```
>$f(a) // nilai fungsi secara simbolik
```

$$2e^a$$

```
>f(E) // nilai fungsi berupa bilangan desimal $f(a) // nilai fungsi secara simbolik
```

```
30.308524483
```

```
>$f(E), $float(%)
```

```
30.30852448295852
```

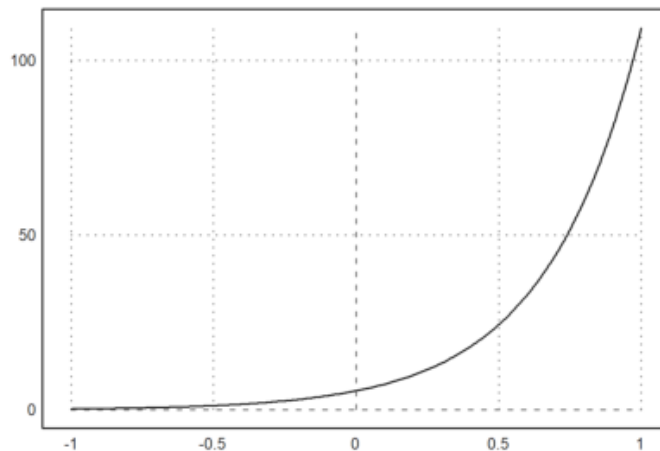
```
>function g(x) &= 3*x+1
```

$$3x + 1$$

```
>function h(x) &= f(g(x)) // komposisi fungsi
```

$$\begin{matrix} 3x + 1 \\ 2x \end{matrix}$$

```
>plot2d("h(x)", -1, 1):
```



Latihan

Bukalah buku Kalkulus. Cari dan pilih beberapa (paling sedikit 5 fungsi berbeda tipe/bentuk/jenis) fungsi dari buku tersebut, kemudian definisikan di EMT pada baris-baris perintah berikut (jika perlu tambahkan lagi). Untuk setiap fungsi, hitung beberapa nilainya, baik untuk satu nilai maupun vektor. Gambar grafik tersebut.

Juga, carilah fungsi beberapa (dua) variabel. Lakukan hal sama seperti di atas.

Nomor 1

$$a(x) = x^3 + 3x^2 - 6x - 18$$

```
>function a(x) &= (x^3 + 3*x^2 - 6*x - 18) // fungsi simbolik
```

$$x^3 + 3x^2 - 6x - 18$$

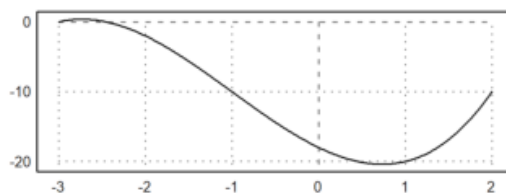
```
>function a(x) := (x^3+3*x^2-6*x-18) // fungsi numerik
>a(4)
```

70

```
>a(-3:2)
```

[0, -2, -10, -18, -20, -10]

```
>aspect(3); plot2d("a(x)",-3,2):
```



>

Nomor 2

$$g(x) = \sqrt{x^2 + 36}$$

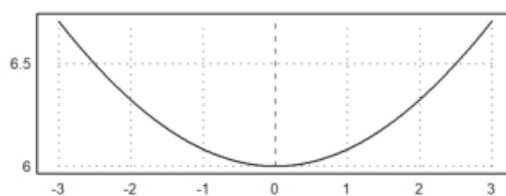
```
>function g(x) := (sqrt(x^2+36)) // fungsi numerik
>g(6)
```

8.48528137424

```
>g=(-3:3)
```

[-3, -2, -1, 0, 1, 2, 3]

```
>aspect(3); plot2d("g(x)",-3,3):
```



Nomor 3

$$d(x) = \frac{x^2 + 6}{2x}$$

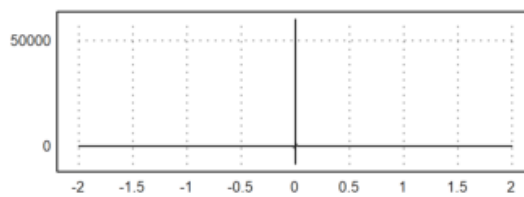
```
>function d(x) := ((x^2+6)/(2*x)) // fungsi numerik  
>d(2)
```

2.5

```
>d=(-2:2)
```

[-2, -1, 0, 1, 2]

```
>aspect(3); plot2d("d(x)",-2,2):
```



Nomor 4

$$f(x) = \cos x$$

$$g(x) = \sin x$$

```
>function f(x) &= (cos(x)) // fungsi numerik
```

cos(x)

```
>f(pi)
```

-1

```
>f(3*pi)
```

-1

```
>function g(x) &= (sin(x)) // fungsi numerik
```

sin(x)

```
>g(pi)
```

0

```
>g(2*pi)
```

0

```
>f(g(pi)) // komposisi fungsi
```

1

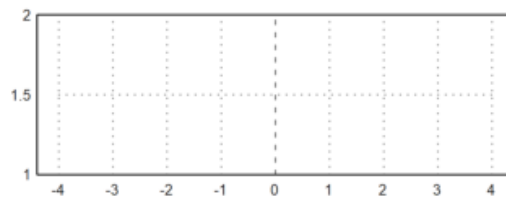
```
>g(f(pi))
```

-0.841470984808

```
>function h(x) &= f(g(pi))
```

1

```
>plot2d("h(x)", -4, 4):
```



Nomor 5

$$e(x) = \begin{cases} x - 3 & x < 2 \\ 1 - x & x \geq 2. \end{cases}$$


```
>function map e(x) ...
```

```
  if x<2 then return x-3
  else return 1-x
endif;e(5)
endfunction
```

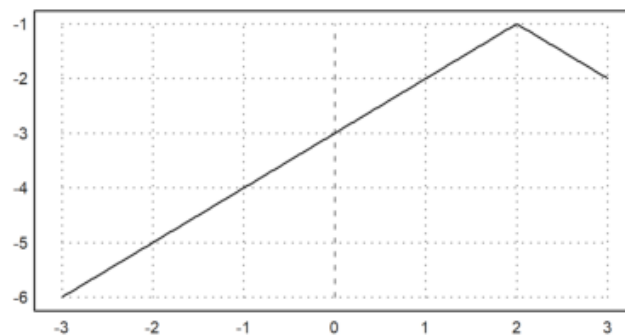
```
>e(5)
```

-4

```
>e=(-3:3)
```

[-3, -2, -1, 0, 1, 2, 3]

```
>aspect(2); plot2d("e(x)",-3,3):
```



Menghitung Limit

Perhitungan limit pada EMT dapat dilakukan dengan menggunakan fungsi Maxima, yakni "limit". Fungsi "limit" dapat digunakan untuk menghitung limit fungsi dalam bentuk ekspresi maupun fungsi yang sudah didefinisikan sebelumnya. Nilai limit dapat dihitung pada sebarang nilai atau pada tak hingga (-inf, minf, dan inf). Limit kiri dan limit kanan juga dapat dihitung, dengan cara memberi opsi "plus" atau "minus". Hasil limit dapat berupa nilai, "und" (tak definisi), "ind" (tak tentu namun terbatas), "infinity" (kompleks tak hingga). Perhatikan beberapa contoh berikut. Perhatikan cara menampilkan perhitungan secara lengkap, tidak hanya menampilkan hasilnya saja.

```
>$showev('limit(sqrt(x^2-3*x)/(x+1),x,inf))
```

$$\lim_{x \rightarrow \infty} \frac{\sqrt{x^2 - 3x}}{x + 1} = 1$$

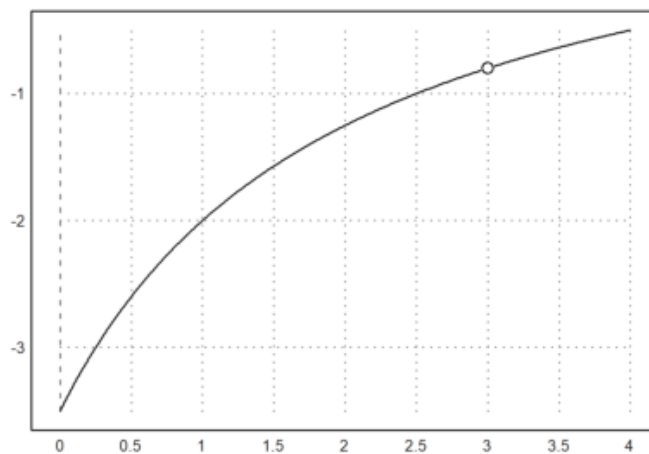
```
>$limit((x^3-13*x^2+51*x-63)/(x^3-4*x^2-3*x+18),x,3)
```

$$-\frac{4}{5}$$

$$\lim_{x \rightarrow 3} \frac{x^3 - 13x^2 + 51x - 63}{x^3 - 4x^2 - 3x + 18} = -\frac{4}{5}$$

Fungsi tersebut diskontinu di titik $x=3$. Berikut adalah grafik fungsinya.

```
>aspect(1.5); plot2d("(x^3-13*x^2+51*x-63)/(x^3-4*x^2-3*x+18)",0,4); plot2d(3,-4/5,>points
```



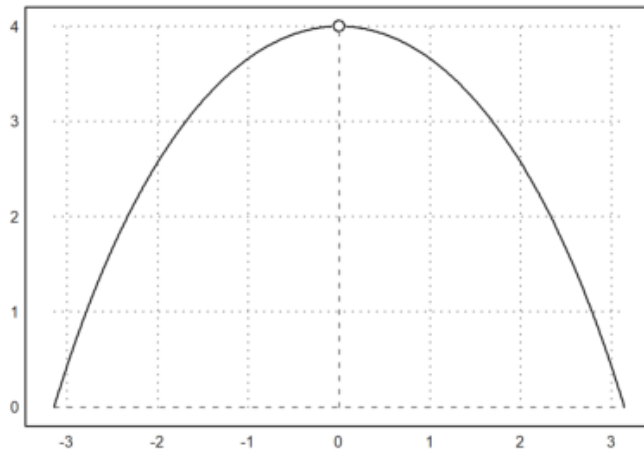
```
>$limit(2*x*sin(x)/(1-cos(x)),x,0)
```

$$4$$

$$2 \left(\lim_{x \rightarrow 0} \frac{x \sin x}{1 - \cos x} \right) = 4$$

Fungsi tersebut diskontinu di titik $x=0$. Berikut adalah grafik fungsinya.

```
>plot2d("2*x*sin(x)/(1-cos(x))",-pi,pi); plot2d(0,4,>points,style="ow",>add):
```



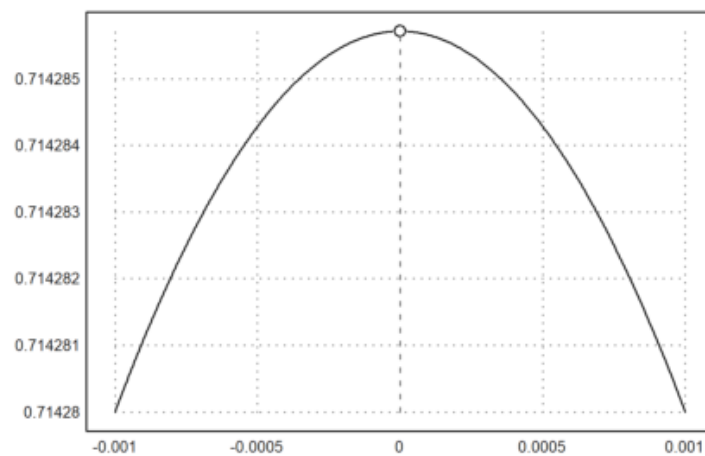
```
>$limit(cot(7*h)/cot(5*h),h,0)
```

$$\frac{5}{7}$$

$$\lim_{h \rightarrow 0} \frac{\cot(7h)}{\cot(5h)} = \frac{5}{7}$$

Fungsi tersebut juga diskontinu (karena tidak terdefinisi) di $x=0$. Berikut adalah grafiknya.

```
>plot2d("cot(7*x)/cot(5*x)",-0.001,0.001); plot2d(0,5/7,>points,style="ow",>add):
```



```
>$showev('limit((x/8)^(1/3)-1)/(x-8),x,8)
```

$$\lim_{x \rightarrow 8} \frac{\frac{x^{\frac{1}{3}}}{2} - 1}{x - 8} = \frac{1}{24}$$

Tunjukkan limit tersebut dengan grafik, seperti contoh-contoh sebelumnya.

```
>$showev('limit(1/(2*x-1), x, 0))
```

$$\lim_{x \rightarrow 0} \frac{1}{2x-1} = -1$$

Tunjukkan limit tersebut dengan grafik, seperti contoh-contoh sebelumnya.

```
>$showev('limit((x^2-3*x-10)/(x-5), x, 5))
```

$$\lim_{x \rightarrow 5} \frac{x^2 - 3x - 10}{x - 5} = 7$$

Tunjukkan limit tersebut dengan grafik, seperti contoh-contoh sebelumnya.

```
>$showev('limit(sqrt(x^2+x)-x, x, inf))
```

$$\lim_{x \rightarrow \infty} \sqrt{x^2 + x} - x = \frac{1}{2}$$

Tunjukkan limit tersebut dengan grafik, seperti contoh-contoh sebelumnya.

```
>$showev('limit(abs(x-1)/(x-1), x, 1, minus))
```

$$\lim_{x \uparrow 1} \frac{|x-1|}{x-1} = -1$$

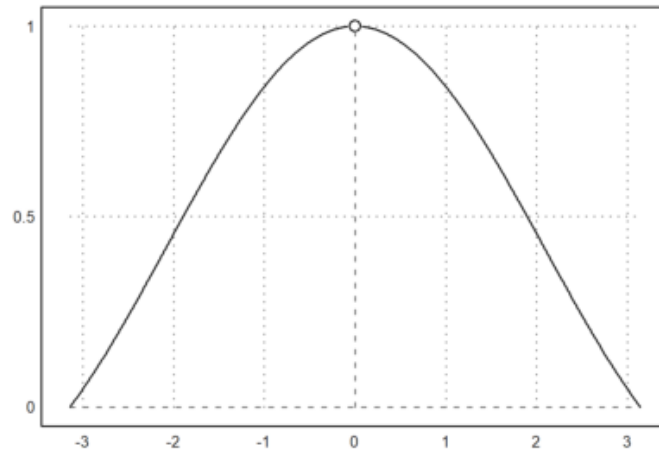
Hitung limit di atas untuk x menuju 1 dari kanan.

Tunjukkan limit tersebut dengan grafik, seperti contoh-contoh sebelumnya.

```
>$showev('limit(sin(x)/x, x, 0))
```

$$\lim_{x \rightarrow 0} \frac{\sin x}{x} = 1$$

```
>plot2d("sin(x)/x", -pi, pi); plot2d(0, 1, >points, style="ow", >add):
```



```
>$showev('limit(sin(x^3)/x,x,0))
```

$$\lim_{x \rightarrow 0} \frac{\sin x^3}{x} = 0$$

Tunjukkan limit tersebut dengan grafik, seperti contoh-contoh sebelumnya.

```
>$showev('limit(log(x), x, minf))
```

$$\lim_{x \rightarrow -\infty} \log x = \textit{infinity}$$

```
>$showev('limit((-2)^x,x, inf))
```

$$\lim_{x \rightarrow \infty} (-2)^x = \textit{infinity}$$

```
>$showev('limit(t-sqrt(2-t),t,2,minus))
```

$$\lim_{t \uparrow 2} t - \sqrt{2-t} = 2$$

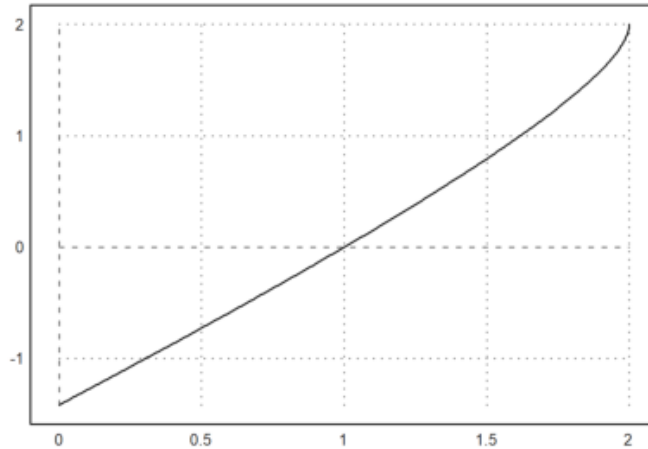
```
>$showev('limit(t-sqrt(2-t),t,2,plus))
```

$$\lim_{t \downarrow 2} t - \sqrt{2-t} = 2$$

```
>$showev('limit(t-sqrt(2-t),t,5,plus)) // Perhatikan hasilnya
```

$$\lim_{t \downarrow 5} t - \sqrt{2-t} = 5 - \sqrt{3}i$$

```
>plot2d("x-sqrt(2-x)", 0, 2):
```



```
>$showev('limit((x^2-9)/(2*x^2-5*x-3), x, 3)')
```

$$\lim_{x \rightarrow 3} \frac{x^2 - 9}{2x^2 - 5x - 3} = \frac{6}{7}$$

Tunjukkan limit tersebut dengan grafik, seperti contoh-contoh sebelumnya.

```
>$showev('limit((1-cos(x))/x, x, 0)')
```

$$\lim_{x \rightarrow 0} \frac{1 - \cos x}{x} = 0$$

Tunjukkan limit tersebut dengan grafik, seperti contoh-contoh sebelumnya.

```
>$showev('limit((x^2+abs(x))/(x^2-abs(x)), x, 0)')
```

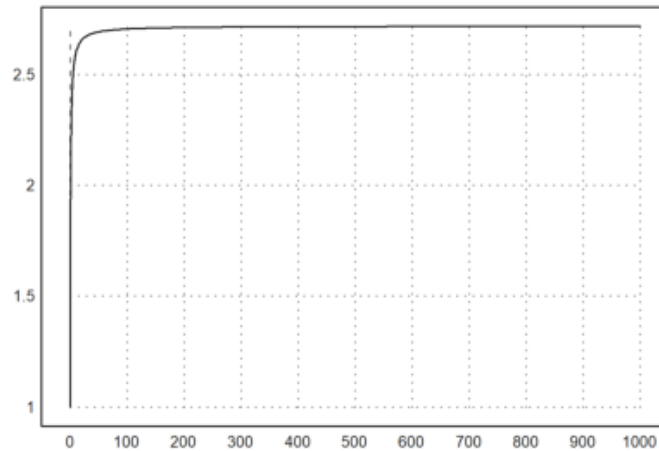
$$\lim_{x \rightarrow 0} \frac{|x| + x^2}{x^2 - |x|} = -1$$

Tunjukkan limit tersebut dengan grafik, seperti contoh-contoh sebelumnya.

```
>$showev('limit((1+1/x)^x, x, inf)')
```

$$\lim_{x \rightarrow \infty} \left(\frac{1}{x} + 1 \right)^x = e$$

```
>plot2d("(1+1/x)^x",0,1000):
```



```
>$showev('limit((1+k/x)^x,x,inf))
```

$$\lim_{x \rightarrow \infty} \left(\frac{k}{x} + 1 \right)^x = e^k$$

```
>$showev('limit((1+x)^(1/x),x,0))
```

$$\lim_{x \rightarrow 0} (x+1)^{\frac{1}{x}} = e$$

Tunjukkan limit tersebut dengan grafik, seperti contoh-contoh sebelumnya.

```
>$showev('limit((x/(x+k))^x,x,inf))
```

$$\lim_{x \rightarrow \infty} \left(\frac{x}{x+k} \right)^x = e^{-k}$$

```
>$showev('limit((E^x-E^2)/(x-2),x,2))
```

$$\lim_{x \rightarrow 2} \frac{e^x - e^2}{x - 2} = e^2$$

Tunjukkan limit tersebut dengan grafik, seperti contoh-contoh sebelumnya.

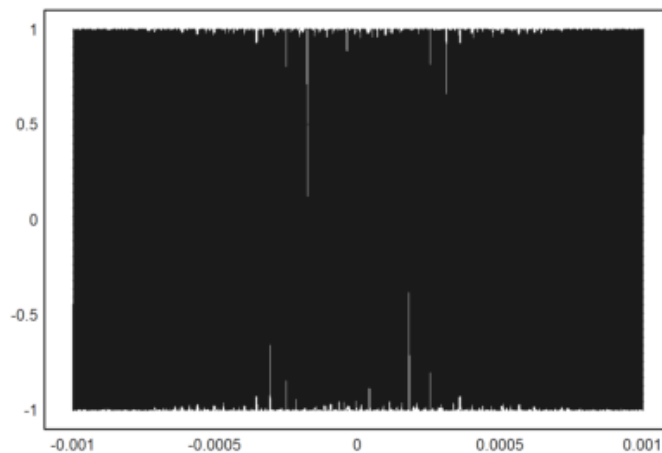
```
>$showev('limit(sin(1/x),x,0)
```

$$\lim_{x \rightarrow 0} \sin\left(\frac{1}{x}\right) = ind$$

```
>$showev('limit(sin(1/x),x,inf)
```

$$\lim_{x \rightarrow \infty} \sin\left(\frac{1}{x}\right) = 0$$

```
>plot2d("sin(1/x)",-0.001,0.001):
```



Latihan

Bukalah buku Kalkulus. Cari dan pilih beberapa (paling sedikit 5 fungsi berbeda tipe/bentuk/jenis) fungsi dari buku tersebut, kemudian definisikan di EMT pada baris-baris perintah berikut (jika perlu tambahkan lagi). Untuk setiap fungsi, hitung nilai limit fungsi tersebut di beberapa nilai dan di tak hingga. Gambar grafik fungsi tersebut untuk mengkonfirmasi nilai-nilai limit tersebut.

Nomor 1

```
>$showev('limit((x^2+2*x+6),x,3)
```

$$\lim_{x \rightarrow 3} x^2 + 2x + 6 = 21$$

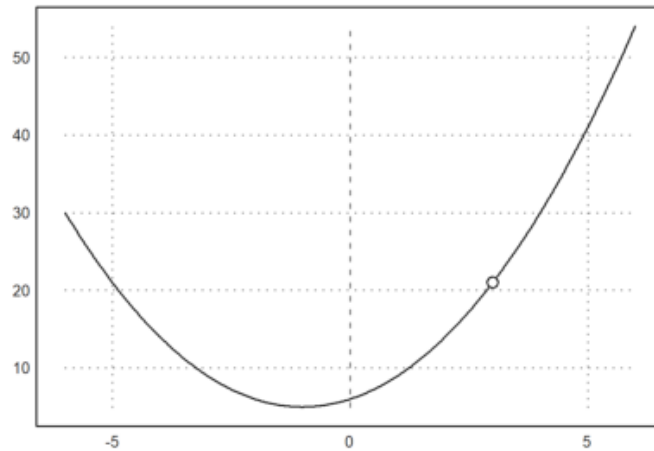
```
>$showev('limit((x^2+2*x+6),x,2)
```


$$\lim_{x \rightarrow 2} x^2 + 2x + 6 = 14$$

```
>$showev('limit((x^2+2*x+6),x,inf)')
```

$$\lim_{x \rightarrow \infty} x^2 + 2x + 6 = \infty$$

```
>plot2d("(x^2+2*x+6)",-6,6); plot2d(3,21,>points,style="ow",>add):
```



Nomor 2

```
>$showev('limit((x^4 + 2*x^3 - x^2)/(x^2),x,0)')
```

$$\lim_{x \rightarrow 0} \frac{x^4 + 2x^3 - x^2}{x^2} = -1$$

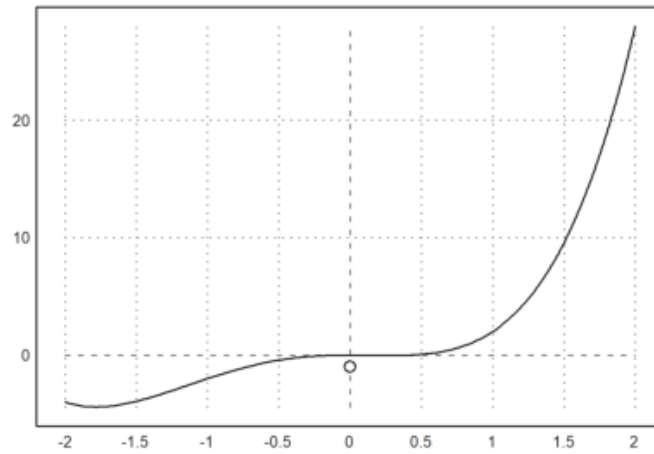
```
>$showev('limit((x^4 + 2*x^3 - x^2)/(x^2),x,2)')
```

$$\lim_{x \rightarrow 2} \frac{x^4 + 2x^3 - x^2}{x^2} = 7$$

```
>$showev('limit((x^4 + 2*x^3 - x^2)/(x^2),x,inf)')
```

$$\lim_{x \rightarrow \infty} \frac{x^4 + 2x^3 - x^2}{x^2} = \infty$$

```
>plot2d("(x^4 + 2*x^3 - x^2)",-2,2); plot2d(0,-1,>points,style="ow",>add):
```



Nomor 3

```
>$showev('limit(sqrt(x+16),x,inf))
```

$$\lim_{x \rightarrow \infty} \sqrt{x+16} = \infty$$

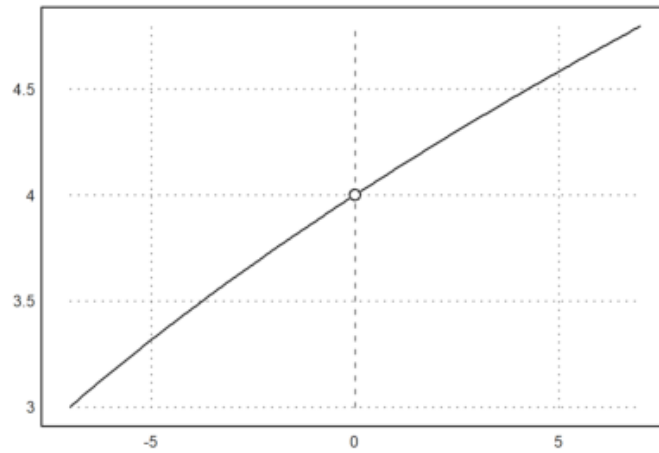
```
>$showev('limit(sqrt(x+16),x,0))
```

$$\lim_{x \rightarrow 0} \sqrt{x+16} = 4$$

```
>$showev('limit(sqrt(x+16),x,4))
```

$$\lim_{x \rightarrow 4} \sqrt{x+16} = 2\sqrt{5}$$

```
>plot2d("sqrt(x+16)",-7,7); plot2d(0,4,>points,style="ow",>add):
```



Nomor 4

```
>$showev('limit((x^2)+(2*x)),x,0,plus)
```

$$\lim_{x \downarrow 0} x^2 + 2x = 0$$

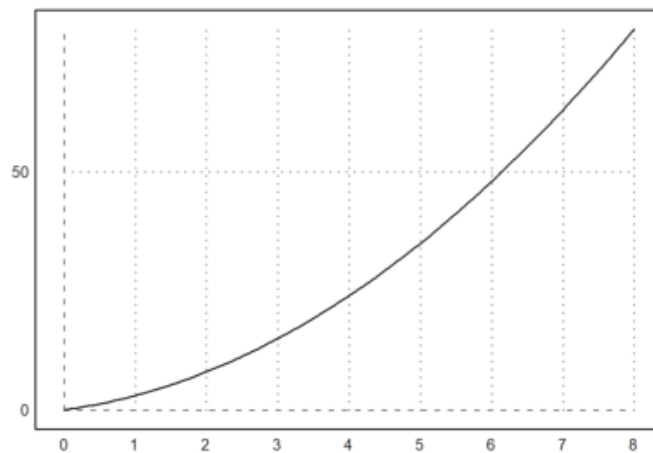
```
>$showev('limit((x^2)+(2*x)),x,2,minus)
```

$$\lim_{x \uparrow 2} x^2 + 2x = 8$$

```
>$showev('limit((x^2)+(2*x)),x,inf)
```

$$\lim_{x \rightarrow \infty} x^2 + 2x = \infty$$

```
>plot2d("(x^2)+(2*x)",0,8):
```



Nomor 5

```
>$showev('limit((1-cos(x))/x^2,x,0))
```

$$\lim_{x \rightarrow 0} \frac{1 - \cos x}{x^2} = \frac{1}{2}$$

```
>$showev('limit((1-cos(x))/x^2,x,inf))
```

$$\lim_{x \rightarrow \infty} \frac{1 - \cos x}{x^2} = 0$$

```
>$showev('limit((1-cos(x))/x^2,x,2))
```

$$\lim_{x \rightarrow 2} \frac{1 - \cos x}{x^2} = \frac{1}{4} - \frac{\cos 2}{4}$$

```
>plot2d("(1-cos(x))/x^2",-3,3):
```



Turunan Fungsi

Definisi turunan:

$$f'(x) = \lim_{h \rightarrow 0} \frac{f(x+h) - f(x)}{h}$$

Berikut adalah contoh-contoh menentukan turunan fungsi dengan menggunakan definisi turunan (limit).

```
>$showev('limit(((x+h)^2-x^2)/h,h,0)) // turunan x^2
```

$$\lim_{h \rightarrow 0} \frac{(x+h)^2 - x^2}{h} = 2x$$

```
>p &= expand((x+h)^2-x^2)|simplify; $p //pembilang dijabarkan dan disederhanakan
```

$$2hx + h^2$$

```
>q &=ratsimp(p/h); $q // ekspresi yang akan dihitung limitnya disederhanakan
```

$$2x + h$$

```
>$limit(q,h,0) // nilai limit sebagai turunan
```

$$2x$$

```
>$showev('limit(((x+h)^n-x^n)/h,h,0)) // turunan x^n
```

$$\lim_{h \rightarrow 0} \frac{(x+h)^n - x^n}{h} = nx^{n-1}$$

Mengapa hasilnya seperti itu? Tuliskan atau tunjukkan bahwa hasil limit tersebut benar, sehingga benar turunan fungsinya benar. Tulis penjelasan Anda di komentar ini.

Sebagai petunjuk, ekspansikan $(x+h)^n$ dengan menggunakan teorema binomial.

```
>$showev('limit((sin(x+h)-sin(x))/h,h,0)) // turunan sin(x)
```

$$\lim_{h \rightarrow 0} \frac{\sin(x+h) - \sin x}{h} = \cos x$$

Mengapa hasilnya seperti itu? Tuliskan atau tunjukkan bahwa hasil limit tersebut benar, sehingga benar turunan fungsinya benar. Tulis penjelasan Anda di komentar ini.

Sebagai petunjuk, ekspansikan $\sin(x+h)$ dengan menggunakan rumus jumlah dua sudut.

```
>$showev('limit((log(x+h)-log(x))/h,h,0)) // turunan log(x)
```

$$\lim_{h \rightarrow 0} \frac{\log(x+h) - \log x}{h} = \frac{1}{x}$$

Mengapa hasilnya seperti itu? Tuliskan atau tunjukkan bahwa hasil limit tersebut benar, sehingga benar turunan fungsinya benar. Tulis penjelasan Anda di komentar ini. Sebagai petunjuk, gunakan sifat-sifat logaritma dan hasil limit pada bagian sebelumnya di atas.

```
>$showev('limit((1/(x+h)-1/x)/h,h,0)) // turunan 1/x
```

$$\lim_{h \rightarrow 0} \frac{\frac{1}{x+h} - \frac{1}{x}}{h} = -\frac{1}{x^2}$$

```
>$showev('limit((E^(x+h)-E^x)/h,h,0)) // turunan f(x)=e^x
```

```
Answering "Is x an integer?" with "integer"
Answering "Is x an integer?" with "integer"
Answering "Is x an integer?" with "integer"
Answering "Is x an integer?" with "integer"
Answering "Is x an integer?" with "integer"
Maxima is asking
Acceptable answers are: yes, y, Y, no, n, N, unknown, uk
Is x an integer?

Use assume!
Error in:
  $showev('limit((E^(x+h)-E^x)/h,h,0)) // turunan f(x)=e^x ...
      ^
```

Maxima bermasalah dengan limit:

$$\lim_{h \rightarrow 0} \frac{e^{x+h} - e^x}{h}$$

Oleh karena itu diperlukan trik khusus agar hasilnya benar.

```
>$showev('limit((E^h-1)/h,h,0))
```

$$\lim_{h \rightarrow 0} \frac{e^h - 1}{h} = 1$$

```
>$factor(E^(x+h)-E^x)
```

$$(e^h - 1) e^x$$

```
>$showev('limit(factor((E^(x+h)-E^x)/h),h,0)) // turunan f(x)=e^x
```

$$\left(\lim_{h \rightarrow 0} \frac{e^h - 1}{h} \right) e^x = e^x$$

```
>function f(x) &= x^x
```

$$\frac{x}{x}$$

```
>$showev('limit(f(x),x,0)
```

$$\lim_{x \rightarrow 0} x^x = 1$$

Silakan Anda gambar kurva

$$y = x^x.$$

```
>$showev('limit((f(x+h)-f(x))/h,h,0) // turunan f(x)=x^x
```

$$\lim_{h \rightarrow 0} \frac{(x+h)^{x+h} - x^x}{h} = \text{infinity}$$

Di sini Maxima juga bermasalah terkait limit:

$$\lim_{h \rightarrow 0} \frac{(x+h)^{x+h} - x^x}{h}.$$

Dalam hal ini diperlukan asumsi nilai x.

```
>&assume(x>0); $showev('limit((f(x+h)-f(x))/h,h,0) // turunan f(x)=x^x
```

$$\lim_{h \rightarrow 0} \frac{(x+h)^{x+h} - x^x}{h} = x^x (\log x + 1)$$

```
>&forget(x>0) // jangan lupa, lupakan asumsi untuk kembali ke semula
```

$$[x > 0]$$

```
>&forget(x<0)
```

$$[x < 0]$$

```
>&facts()
```

```
[]
```

```
>$showev('limit((asin(x+h)-asin(x))/h,h,0)) // turunan arcsin(x)
```

$$\lim_{h \rightarrow 0} \frac{\arcsin(x+h) - \arcsin x}{h} = \frac{1}{\sqrt{1-x^2}}$$

Mengapa hasilnya seperti itu? Tuliskan atau tunjukkan bahwa hasil limit tersebut benar, sehingga benar turunan fungsinya benar. Tulis penjelasan Anda di komentar ini.

```
>$showev('limit((tan(x+h)-tan(x))/h,h,0)) // turunan tan(x)
```

$$\lim_{h \rightarrow 0} \frac{\tan(x+h) - \tan x}{h} = \frac{1}{\cos^2 x}$$

Mengapa hasilnya seperti itu? Tuliskan atau tunjukkan bahwa hasil limit tersebut benar, sehingga benar turunan fungsinya benar. Tulis penjelasan Anda di komentar ini.

```
>function f(x) &= sinh(x) // definisikan f(x)=sinh(x)
```

```
sinh(x)
```

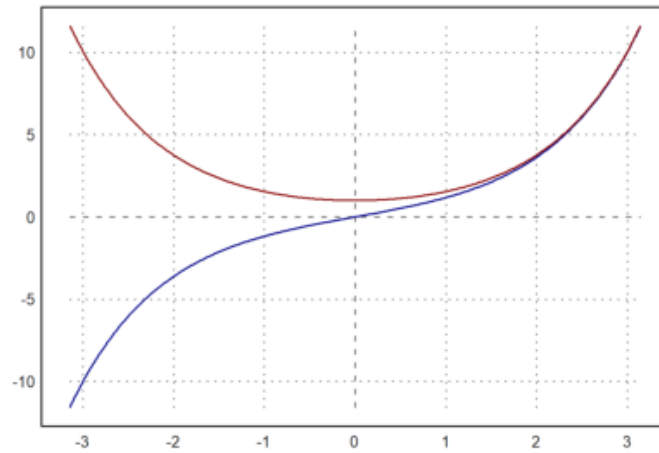
```
>function df(x) &= limit((f(x+h)-f(x))/h,h,0); $df(x) // df(x) = f'(x)
```

$$\frac{e^{-x}(e^{2x}+1)}{2}$$

Hasilnya adalah $\cosh(x)$, karena

$$\frac{e^x + e^{-x}}{2} = \cosh(x).$$

```
>plot2d(["f(x)", "df(x)"], -pi, pi, color=[blue, red]):
```

```
>function f(x) &= sin(3*x^5+7)^2
```

$$\sin^2(3x^5 + 7)$$

```
>diff(f,3), diffc(f,3)
```

```
1198.32948904
1198.72863721
```

Apakah perbedaan diff dan diffc?

```
>$showev('diff(f(x),x)')
```

$$\frac{d}{dx} \sin^2(3x^5 + 7) = 30x^4 \cos(3x^5 + 7) \sin(3x^5 + 7)$$

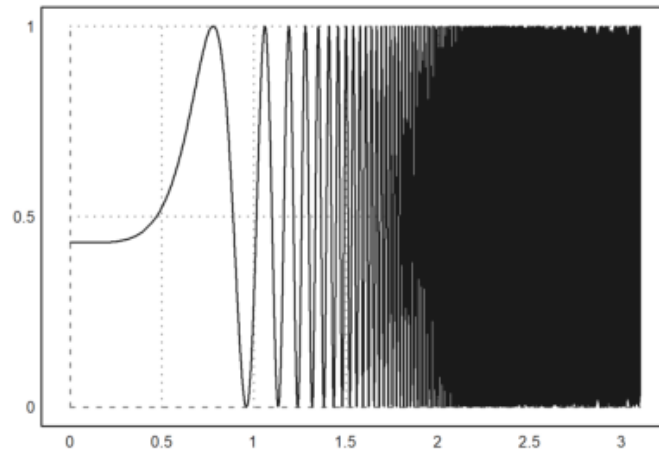
```
>$% with x=3
```

$$\%at \left(\frac{d}{dx} \sin^2(3x^5 + 7), x = 3 \right) = 2430 \cos 736 \sin 736$$

```
>$float(%)
```

$$\%at \left(\frac{d^{1.0}}{dx^{1.0}} \sin^2(3.0x^5 + 7.0), x = 3.0 \right) = 1198.728637211748$$

```
>plot2d(f,0,3.1):
```



```
>function f(x) &=5*cos(2*x)-2*x*sin(2*x) // mendefinisikan fungsi f
```

$$5 \cos(2 x) - 2 x \sin(2 x)$$

```
>function df(x) &=diff(f(x),x) // fd(x) = f'(x)
```

$$- 12 \sin(2 x) - 4 x \cos(2 x)$$

```
>$'f(1)=f(1), $float(f(1)), $'f(2)=f(2), $float(f(2)) // nilai f(1) dan f(2)
```

$$-0.2410081230863468$$

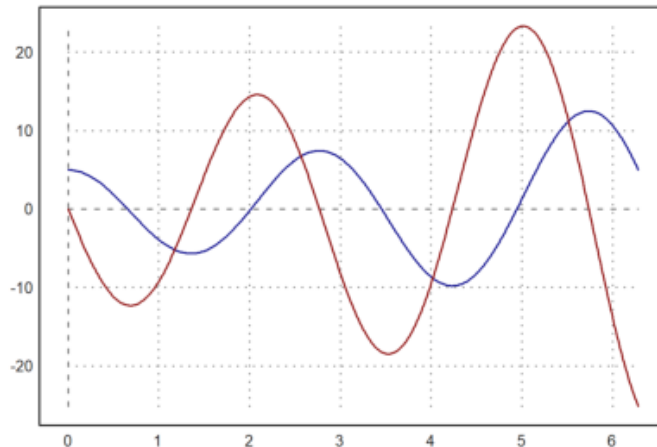
```
>xp=solve("df(x)",1,2,0) // solusi f'(x)=0 pada interval [1, 2]
```

$$1.35822987384$$

```
>df(xp), f(xp) // cek bahwa f'(xp)=0 dan nilai ekstrim di titik tersebut
```

```
0  
-5.67530133759
```

```
>plot2d(["f(x)", "df(x)"], 0, 2*pi, color=[blue, red]): //grafik fungsi dan turunannya
```



Perhatikan titik-titik "puncak" grafik $y=f(x)$ dan nilai turunan pada saat grafik fungsinya mencapai titik "puncak" tersebut.

Latihan

Bukalah buku Kalkulus. Cari dan pilih beberapa (paling sedikit 5 fungsi berbeda tipe/bentuk/jenis) fungsi dari buku tersebut, kemudian definisikan di EMT pada baris-baris perintah berikut (jika perlu tambahkan lagi). Untuk setiap fungsi, tentukan turunannya dengan menggunakan definisi turunan (limit), seperti contoh-contoh tersebut. Gambar grafik fungsi asli dan fungsi turunannya pada sumbu koordinat yang sama.

Nomor 1

```
>function f(x) := cos(x^2)  
>$showev('limit((cos((x+h)^2)-cos(x^2))/h,h,0))
```

$$\lim_{h \rightarrow 0} \frac{\cos(x+h)^2 - \cos x^2}{h} = -2x \sin x^2$$

Nomor 2

```
>function f(x) := sqrt(x^2+4)  
>$showev('limit((sqrt((x+h)^2+4)-sqrt(x^2+4))/h,h,0))
```

$$\lim_{h \rightarrow 0} \frac{\sqrt{(x+h)^2+4} - \sqrt{x^2+4}}{h} = \frac{x}{\sqrt{x^2+4}}$$

Nomor 3

```
>function f(x) :=(3-x)^3
>$showev('limit((3-(x+h))^3-(3-x)^3)/h,h,0)
```

$$\lim_{h \rightarrow 0} \frac{(-x-h+3)^3 - (3-x)^3}{h} = -3x^2 + 18x - 27$$

Nomor 4

```
>function f(x) :=sin(x)+2*cos(x)
>$showev('limit((sin(x+h)+2*cos(x+h)-(sin(x)+2*cos(x)))/h,h,0))
```

$$\lim_{h \rightarrow 0} \frac{\sin(x+h) + 2 \cos(x+h) - \sin x - 2 \cos x}{h} = \cos x - 2 \sin x$$

Nomor 5

```
>function f(x) :=10*x-2
>$showev('limit((10*(x+h)-2)-(10*x-2))/h,h,0)
```

$$\lim_{h \rightarrow 0} \frac{10(x+h) - 10x}{h} = 10$$

Integral

EMT dapat digunakan untuk menghitung integral, baik integral tak tentu maupun integral tentu. Untuk integral tak tentu (simbolik) sudah tentu EMT menggunakan Maxima, sedangkan untuk perhitungan integral tentu EMT sudah menyediakan beberapa fungsi yang mengimplementasikan algoritma kuadratur (perhitungan integral tentu menggunakan metode numerik).

Pada notebook ini akan ditunjukkan perhitungan integral tentu dengan menggunakan Teorema Dasar Kalkulus:

$$\int_a^b f(x) dx = F(b) - F(a), \quad \text{dengan } F'(x) = f(x).$$

Fungsi untuk menentukan integral adalah `integrate`. Fungsi ini dapat digunakan untuk menentukan, baik integral tentu maupun tak tentu (jika fungsinya memiliki antiderivatif). Untuk perhitungan integral tentu fungsi `integrate` menggunakan metode numerik (kecuali fungsinya tidak integrabel, kita tidak akan menggunakan metode ini).

```
>$showev('integrate(x^n,x)
```

Answering "Is n equal to -1?" with "no"

$$\int x^n dx = \frac{x^{n+1}}{n+1}$$

```
>$showev('integrate(1/(1+x),x)
```

$$\int \frac{1}{x+1} dx = \log(x+1)$$

```
>$showev('integrate(1/(1+x^2),x)
```

$$\int \frac{1}{x^2+1} dx = \arctan x$$

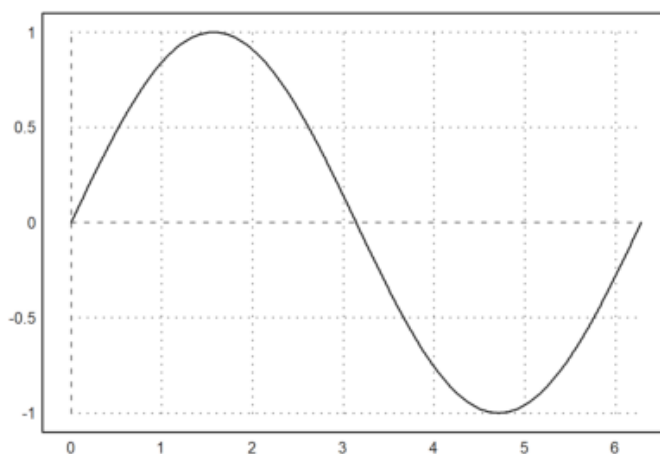
```
>$showev('integrate(1/sqrt(1-x^2),x)
```

$$\int \frac{1}{\sqrt{1-x^2}} dx = \arcsin x$$

```
>$showev('integrate(sin(x),x,0,pi)
```

$$\int_0^{\pi} \sin x dx = 2$$

```
>plot2d("sin(x)",0,2*pi):
```



```
>$showev('integrate(sin(x),x,a,b)
```

$$\int_a^b \sin x dx = \cos a - \cos b$$

```
>$showev('integrate(x^n,x,a,b)')
```

Answering "Is n positive, negative or zero?" with "positive"

$$\int_a^b x^n dx = \frac{b^{n+1}}{n+1} - \frac{a^{n+1}}{n+1}$$

```
>$showev('integrate(x^2*sqrt(2*x+1),x)')
```

$$\int x^2 \sqrt{2x+1} dx = \frac{(2x+1)^{\frac{7}{2}}}{28} - \frac{(2x+1)^{\frac{5}{2}}}{10} + \frac{(2x+1)^{\frac{3}{2}}}{12}$$

```
>$showev('integrate(x^2*sqrt(2*x+1),x,0,2)')
```

$$\int_0^2 x^2 \sqrt{2x+1} dx = \frac{25^{\frac{5}{2}}}{21} - \frac{2}{105}$$

```
>$ratsimp(%)
```

$$\int_0^2 x^2 \sqrt{2x+1} dx = \frac{25^{\frac{7}{2}} - 2}{105}$$

```
>$showev('integrate((sin(sqrt(x)+a)*E^sqrt(x))/sqrt(x),x,0,pi^2)')
```

$$\int_0^{\pi^2} \frac{\sin(\sqrt{x}+a) e^{\sqrt{x}}}{\sqrt{x}} dx = (-e^{\pi} - 1) \sin a + (e^{\pi} + 1) \cos a$$

```
>$factor(%)
```

$$\int_0^{\pi^2} \frac{\sin(\sqrt{x}+a) e^{\sqrt{x}}}{\sqrt{x}} dx = (-e^{\pi} - 1) (\sin a - \cos a)$$

```
>function map f(x) &= E^(-x^2)
```

$$E^{-x^2}$$

```
>$showev('integrate(f(x),x)
```

$$\int e^{-x^2} dx = \frac{\sqrt{\pi} \operatorname{erf}(x)}{2}$$

Fungsi f tidak memiliki antiturunan, integralnya masih memuat integral lain.

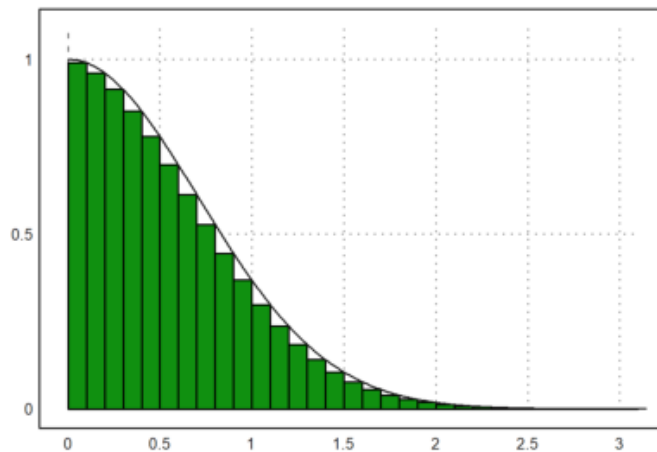
$$\operatorname{erf}(x) = \int \frac{e^{-x^2}}{\sqrt{\pi}} dx.$$

Kita tidak dapat menggunakan teorema Dasar kalkulus untuk menghitung integral tentu fungsi tersebut jika semua batasnya berhingga. Dalam hal ini dapat digunakan metode numerik (rumus kuadratur).

Misalkan kita akan menghitung:

$$\int_0^{\pi} e^{-x^2} dx$$

```
>x=0:0.1:pi-0.1; plot2d(x,f(x+0.1),>bar); plot2d("f(x)",0,pi,>add):
```



Integral tentu

$$\int_0^{\pi} e^{-x^2} dx$$

dapat dihampiri dengan jumlah luas persegi-persegi panjang di bawah kurva $y=f(x)$ tersebut. Langkah-langkahnya adalah sebagai berikut.

```
>t &= makelist(a,a,0,pi-0.1,0.1); // t sebagai list untuk menyimpan nilai-nilai x  
>fx &= makelist(f(t[i]+0.1),i,1,length(t)); // simpan nilai-nilai f(x)  
>// jangan menggunakan x sebagai list, kecuali Anda pakar Maxima!
```

Hasilnya adalah:

$$\int_0^{\pi} e^{-x^2} dx = 0.8362196102528469$$

Jumlah tersebut diperoleh dari hasil kali lebar sub-subinterval (=0.1) dan jumlah nilai-nilai f(x) untuk x = 0.1, 0.2, 0.3, ..., 3.2.

```
>0.1*sum(f(x+0.1)) // cek langsung dengan perhitungan numerik EMT
```

```
0.836219610253
```

Untuk mendapatkan nilai integral tentu yang mendekati nilai sebenarnya, lebar sub-intervalnya dapat diperkecil lagi, sehingga daerah di bawah kurva tertutup semuanya, misalnya dapat digunakan lebar subinterval 0.001. (Silakan dicoba!)

Meskipun Maxima tidak dapat menghitung integral tentu fungsi tersebut untuk batas-batas yang berhingga, namun integral tersebut dapat dihitung secara eksak jika batas-batasnya tak hingga. Ini adalah salah satu keajaiban di dalam matematika, yang terbatas tidak dapat dihitung secara eksak, namun yang tak hingga malah dapat dihitung secara eksak.

```
>$showev('integrate(f(x),x,0,inf))
```

$$\int_0^{\infty} e^{-x^2} dx = \frac{\sqrt{\pi}}{2}$$

Berikut adalah contoh lain fungsi yang tidak memiliki antiderivatif, sehingga integral tentunya hanya dapat dihitung dengan metode numerik.

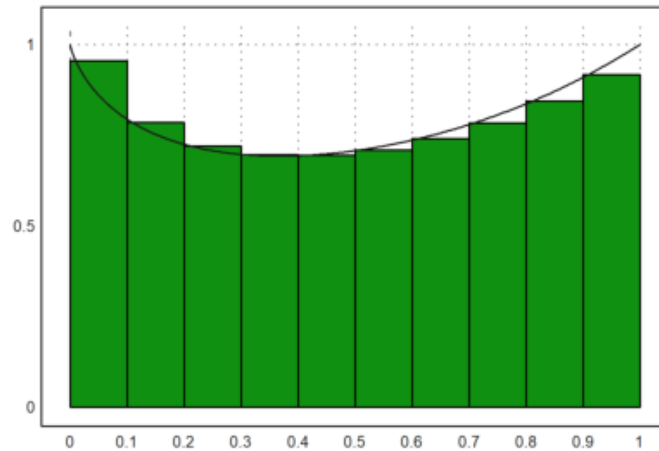
```
>function f(x) &= x^x
```

```
x
x
```

```
>$showev('integrate(f(x),x,0,1))
```

$$\int_0^1 x^x dx = \int_0^1 x^x dx$$

```
>x=0:0.1:1-0.01; plot2d(x,f(x+0.01),>bar); plot2d("f(x)",0,1,>add) :
```

Maxima gagal menghitung integral tentu tersebut secara langsung menggunakan perintah `integrate`. Berikut kita lakukan seperti contoh sebelumnya untuk mendapat hasil atau pendekatan nilai integral tentu tersebut.

```
>t := makelist(a,a,0,1-0.01,0.01);
>fx := makelist(f(t[i]+0.01),i,1,length(t));
```

$$\int_0^1 x^x dx = 0.7834935879025506$$

Apakah hasil tersebut cukup baik? perhatikan gambarnya.

```
>function f(x) := sin(3*x^5+7)^2
```

$$\sin^2(3x^5 + 7)$$

```
>integrate(f,0,1)
```

```
0.542581176074
```

```
>&showev('integrate(f(x),x,0,1))
```

$$\int_0^1 \sin^2(3x^5 + 7) dx = \frac{\frac{1}{5} \gamma(-\frac{1}{5}) \sin(14) \sin(\frac{\pi}{10})}{10^6} - \left(\left(\frac{6}{5} \gamma_{\text{incomplete}}(-, 6 I) + 6 \frac{4}{5} \gamma_{\text{incomplete}}(-, -6 I) \right) \right)$$

$$\sin(14) + \left(6^{4/5} \Gamma\left(\frac{1}{5}, 6\right) - 6^{4/5} \Gamma\left(\frac{1}{5}, -6\right)\right) \cos(14) \sin\left(\frac{\pi}{10}\right) - 60/120$$

```
>&float(%)
```

```
1.0
/
[      2      5
I      sin (3.0 x  + 7.0) dx =
]
/
0.0
0.09820784258795788 - 0.008333333333333333
(0.3090169943749474 (0.1367372182078336
(4.192962712629476 I gamma__incomplete(0.2, 6.0 I)
- 4.192962712629476 I gamma__incomplete(0.2, - 6.0 I))
+ 0.9906073556948704 (4.192962712629476 gamma__incomplete(0.2, 6.0 I)
+ 4.192962712629476 gamma__incomplete(0.2, - 6.0 I))) - 60.0)
```

```
>$showev('integrate(x*exp(-x),x,0,1)) // Integral tentu (eksak)
```

$$\int_0^1 x e^{-x} dx = 1 - 2e^{-1}$$

Latihan

- Bukalah buku Kalkulus.
- Cari dan pilih beberapa (paling sedikit 5 fungsi berbeda tipe/bentuk/jenis) fungsi dari buku tersebut, kemudian definisikan di EMT pada baris-baris perintah berikut (jika perlu tambahkan lagi).
- Untuk setiap fungsi, tentukan anti turunannya (jika ada), hitunglah integral tentu dengan batas-batas yang menarik (Anda tentukan sendiri), seperti contoh-contoh tersebut.
- Lakukan hal yang sama untuk fungsi-fungsi yang tidak dapat diintegrasikan (cari sedikitnya 3 fungsi).
- Gambar grafik fungsi dan daerah integrasinya pada sumbu koordinat yang sama.
- Gunakan integral tentu untuk mencari luas daerah yang dibatasi oleh dua kurva yang berpotongan di dua titik. (Cari dan gambar kedua kurva dan arsir (warnai) daerah yang dibatasi oleh keduanya.)
- Gunakan integral tentu untuk menghitung volume benda putar kurva $y=f(x)$ yang diputar mengelilingi sumbu x dari $x=a$ sampai $x=b$, yakni

$$V = \int_a^b \pi(f(x))^2 dx.$$

(Pilih fungsinya dan gambar kurva dan benda putar yang dihasilkan. Anda dapat mencari contoh-contoh bagaimana cara menggambar benda hasil perputaran suatu kurva.)

- Gunakan integral tentu untuk menghitung panjang kurva $y=f(x)$ dari $x=a$ sampai $x=b$ dengan menggunakan rumus:

$$S = \int_a^b \sqrt{1 + (f'(x))^2} dx.$$

(Pilih fungsi dan gambar kurvanya.)

- Apabila fungsi dinyatakan dalam koordinat kutub $x=f(r,t)$, $y=g(r,t)$, $r=h(t)$, $x=a$ bersesuaian dengan $t=t_0$ dan $x=b$ bersesuaian dengan $t=t_1$, maka rumus di atas akan menjadi:

$$S = \int_{t_0}^{t_1} \sqrt{x'(t)^2 + y'(t)^2} dt.$$

- Pilih beberapa kurva menarik (selain lingkaran dan parabola) dari buku kalkulus. Nyatakan setiap kurva tersebut dalam bentuk:

- koordinat Kartesius (persamaan $y=f(x)$)
- koordinat kutub ($r=r(\theta)$)
- persamaan parametrik $x=x(t)$, $y=y(t)$
- persamaan implisit $F(x,y)=0$

- Tentukan kurvatur masing-masing kurva dengan menggunakan keempat representasi tersebut (hasilnya harus sama).

- Gambarlah kurva asli, kurva kurvatur, kurva jari-jari lingkaran oskulasi, dan salah satu lingkaran oskulasinya.

Nomor 1

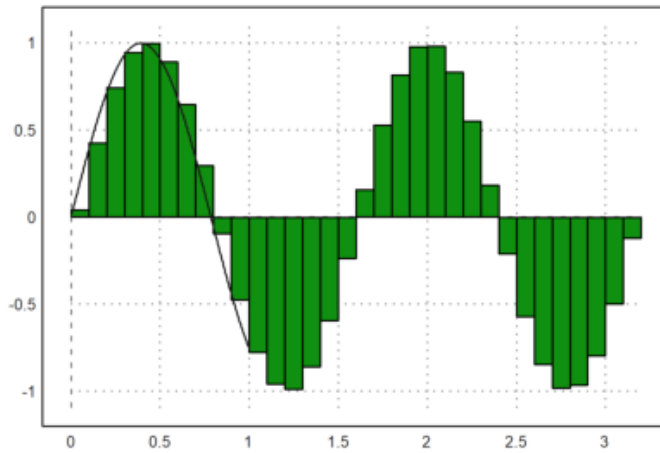
```
>function f(x):=sin(4x)
>$showev('integrate(sin(3*x),x)
```

$$\int \sin(3x) dx = -\frac{\cos(3x)}{3}$$

```
>$showev('integrate(sin(3*x),x,0,pi/4)
```

$$\int_0^{\frac{\pi}{4}} \sin(3x) dx = \frac{1}{3\sqrt{2}} + \frac{1}{3}$$

```
>x=0:0.1:pi-0.01; plot2d(x,f(x+0.01),>bar); plot2d("f(x)",0,1,>add):
```



Nomor 2

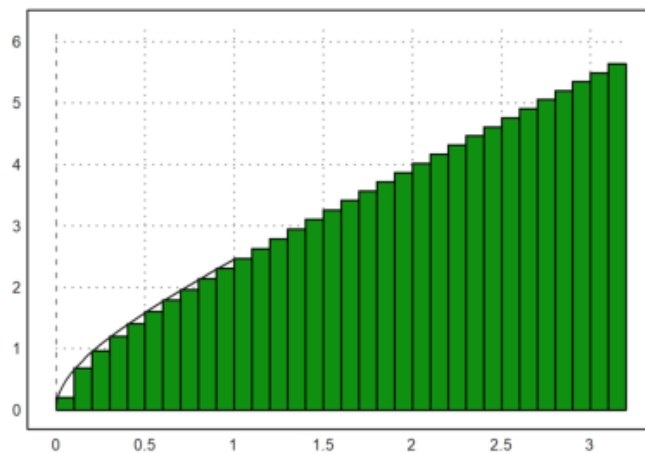
```
>function f(x):=sqrt(2*x^2+4*x)
>$showev('integrate(f(x),x)
```

$$\int \sin^2(3x^5 + 7) dx = \frac{106^{\frac{1}{5}} x + \left((-\text{gamma_incomplete}(\frac{1}{5}, 6ix^5) - \text{gamma_incomplete}(\frac{1}{5}, -6ix^5)) \sin 14 + (i \text{gamma_incomplete}(\frac{1}{5}, 6ix^5) - (-i \text{gamma_incomplete}(\frac{1}{5}, -6ix^5))) \cos 14 \right)}{206^{\frac{1}{5}}}$$

```
>$showev('integrate(sqrt(2*x^2+4*x),x,0,2))
```

$$\int_0^2 \sqrt{2x^2 + 4x} dx = \frac{\log 4}{\sqrt{2}} - \frac{\sqrt{2} \log(2^{\frac{7}{2}} + 12) - 12}{2}$$

```
>x=0:0.1:pi-0.01; plot2d(x,f(x+0.01),>bar); plot2d("f(x)",0,1,>add):
```



Nomor 3

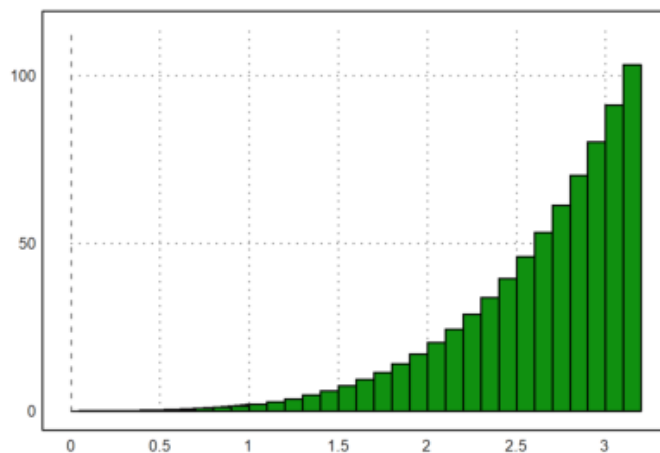
```
>function f(x):=(x^4+x^2)
>$showev('integrate((x^4+x^2),x)
```

$$\int x^4 + x^2 dx = \frac{x^5}{5} + \frac{x^3}{3}$$

```
>$showev('integrate(x^4+x^2,x,0,2)
```

$$\int_0^2 x^4 + x^2 dx = \frac{136}{15}$$

```
>x=0:0.1:pi-0.01; plot2d(x,f(x+0.01),>bar); plot2d("f(x)",0,1,>add):
```



Nomor 4

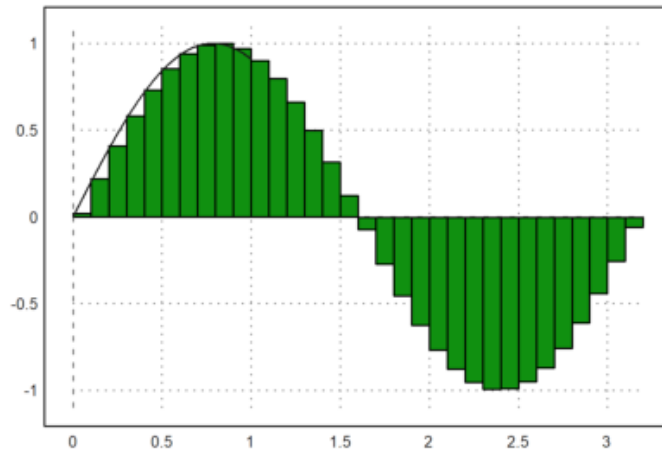
```
>function f(x):=sin(2x)
>$showev('integrate(sin(2*x),x)
```

$$\int \sin(2x) dx = -\frac{\cos(2x)}{2}$$

```
>$showev('integrate(sin(2*x),x,0,pi/4)
```

$$\int_0^{\pi/4} \sin(2x) dx = \frac{1}{2}$$

```
>x=0:0.1:pi-0.01; plot2d(x,f(x+0.01),>bar); plot2d("f(x)",0,1,>add):
```



Nomor 5

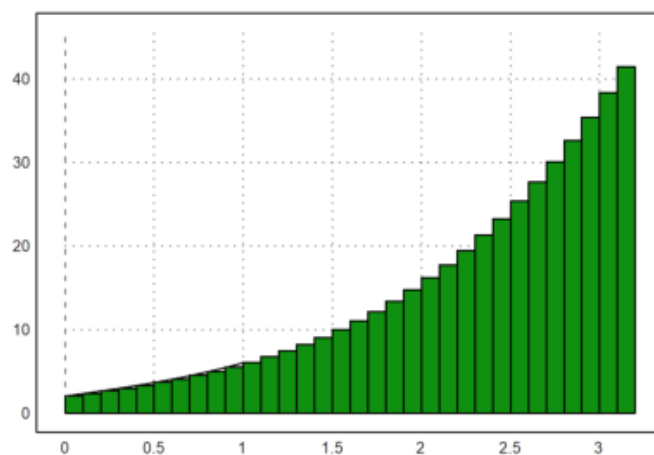
```
>function f(x):=x^3+3*x+2
>$showev('integrate(x^3+3*x+2,x)
```

$$\int x^3 + 3x + 2 dx = \frac{x^4}{4} + \frac{3x^2}{2} + 2x$$

```
>$showev('integrate(x^3+3*x+2,x,0,pi/4)
```

$$\int_0^{\frac{\pi}{4}} x^3 + 3x + 2 dx = \frac{\pi^4 + 96\pi^2 + 512\pi}{1024}$$

```
>x=0:0.1:pi-0.01; plot2d(x,f(x+0.01),>bar); plot2d("f(x)",0,1,>add):
```



(Catatan: bagian ini belum lengkap. Anda dapat membaca contoh-contoh penggunaan EMT dan Maxima untuk menghitung limit barisan, rumus jumlah parsial suatu deret, jumlah tak hingga suatu deret konvergen, dan sebagainya. Anda dapat mengeksplor contoh-contoh di EMT atau berbagai panduan penggunaan Maxima di software Maxima atau dari Internet.)

Barisan dapat didefinisikan dengan beberapa cara di dalam EMT, di antaranya:

- dengan cara yang sama seperti mendefinisikan vektor dengan elemen-elemen beraturan (menggunakan titik dua ":");
- menggunakan perintah "sequence" dan rumus barisan (suku ke -n);
- menggunakan perintah "iterate" atau "niterate";
- menggunakan fungsi Maxima "create_list" atau "makelist" untuk menghasilkan barisan simbolik;
- menggunakan fungsi biasa yang inputnya vektor atau barisan;
- menggunakan fungsi rekursif.

EMT menyediakan beberapa perintah (fungsi) terkait barisan, yakni:

- sum: menghitung jumlah semua elemen suatu barisan
- cumsum: jumlah kumulatif suatu barisan
- differences: selisih antar elemen-elemen berturutan

EMT juga dapat digunakan untuk menghitung jumlah deret berhingga maupun deret tak hingga, dengan menggunakan perintah (fungsi) "sum". Perhitungan dapat dilakukan secara numerik maupun simbolik dan eksak.

Berikut adalah beberapa contoh perhitungan barisan dan deret menggunakan EMT.

```
>1:10 // barisan sederhana
```

```
[1, 2, 3, 4, 5, 6, 7, 8, 9, 10]
```

```
>1:2:30
```

```
[1, 3, 5, 7, 9, 11, 13, 15, 17, 19, 21, 23, 25, 27, 29]
```

```
>sum(1:2:30), sum(1/(1:2:30))
```

```
225  
2.33587263431
```

```
>$'sum(k, k, 1, n) = factor(ev(sum(k, k, 1, n), simpsum=true)) // simpsum:menghitung deret
```

$$\sum_{k=1}^n k = \frac{n(n+1)}{2}$$

```
>$'sum(1/(3^k+k), k, 0, inf) = factor(ev(sum(1/(3^k+k), k, 0, inf), simpsum=true))
```

$$\sum_{k=0}^{\infty} \frac{1}{3^k + k} = \sum_{k=0}^{\infty} \frac{1}{3^k + k}$$

Di sini masih gagal, hasilnya tidak dihitung.

```
>$'sum(1/x^2, x, 1, inf)= ev(sum(1/x^2, x, 1, inf),simpsum=true) // ev: menghitung nilai e
```

$$\sum_{x=1}^{\infty} \frac{1}{x^2} = \frac{\pi^2}{6}$$

```
>$'sum((-1)^(k-1)/k, k, 1, inf) = factor(ev(sum((-1)^(x-1)/x, x, 1, inf),simpsum=true))
```

$$\sum_{k=1}^{\infty} \frac{(-1)^{k-1}}{k} = - \sum_{x=1}^{\infty} \frac{(-1)^x}{x}$$

Di sini masih gagal, hasilnya tidak dihitung.

```
>$'sum((-1)^k/(2*k-1), k, 1, inf) = factor(ev(sum((-1)^k/(2*k-1), k, 1, inf),simpsum=true))
```

$$\sum_{k=1}^{\infty} \frac{(-1)^k}{2k-1} = \sum_{k=1}^{\infty} \frac{(-1)^k}{2k-1}$$

```
>$ev(sum(1/n!, n, 0, inf),simpsum=true)
```

$$\sum_{n=0}^{\infty} \frac{1}{n!}$$

Di sini masih gagal, hasilnya tidak dihitung, harusnya hasilnya e.

```
>&assume(abs(x)<1); '$'sum(a*x^k, k, 0, inf)=ev(sum(a*x^k, k, 0, inf),simpsum=true), &forge
```

$$a \sum_{k=0}^{\infty} x^k = \frac{a}{1-x}$$

Deret geometri tak hingga, dengan asumsi rasional antara -1 dan 1.

Deret Taylor

Deret Taylor suatu fungsi f yang diferensiabel sampai tak hingga di sekitar $x=a$ adalah:

$$f(x) = \sum_{k=0}^{\infty} \frac{(x-a)^k f^{(k)}(a)}{k!}.$$

```
>$'e^x =taylor(exp(x),x,0,10) // deret Taylor e^x di sekitar x=0, sampai suku ke-11
```

$$e^x = \frac{x^{10}}{3628800} + \frac{x^9}{362880} + \frac{x^8}{40320} + \frac{x^7}{5040} + \frac{x^6}{720} + \frac{x^5}{120} + \frac{x^4}{24} + \frac{x^3}{6} + \frac{x^2}{2} + x + 1$$


```
>$'log(x)=taylor(log(x),x,1,10)// deret log(x) di sekitar x=1
```

$$\log x = x - \frac{(x-1)^{10}}{10} + \frac{(x-1)^9}{9} - \frac{(x-1)^8}{8} + \frac{(x-1)^7}{7} - \frac{(x-1)^6}{6} + \frac{(x-1)^5}{5} - \frac{(x-1)^4}{4} + \frac{(x-1)^3}{3} - \frac{(x-1)^2}{2} - 1$$