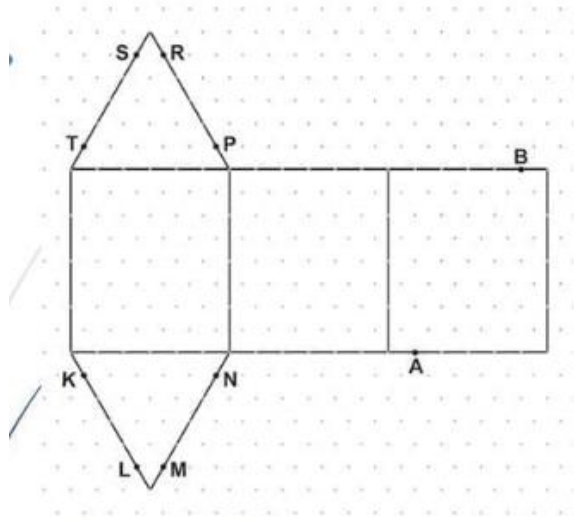


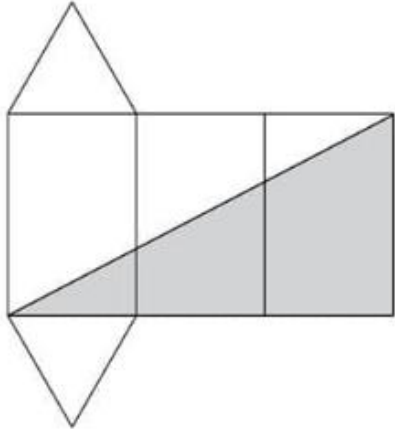
1)



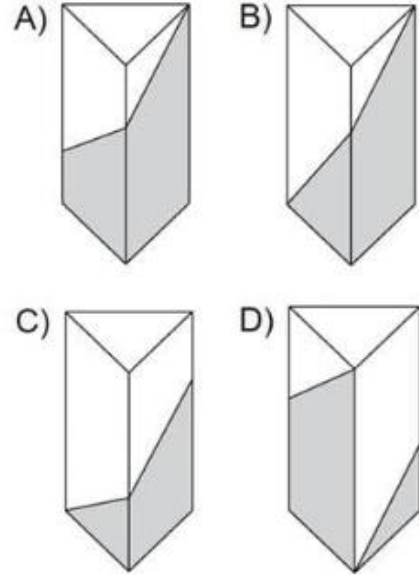
Şekilde izometrik kağıtta verilen açınım, üçgen dik prizma oluşturacak şekilde kapatıldığında, A ve B noktaları hangi noktalar ile eşleşir?

- A) K ve S B) L ve T C) N ve R D) M ve P

2)



Bir üçgen prizmanın açınımı olan kartonun tek tarafı şekildeki gibi boyanıyor. Bu karton boyalı kısmı dışarıda kalacak şekilde kapatıldığında elde edilen üçgen prizmanın görünümü aşağıdakilerden hangisi olamaz?



3)

Birbirine eş 4 tane eşkenar üçgen ve bir kareden oluşan aşağıdaki şekillerden hangisi, bir kare dik piramidin açılımını olamaz?

