







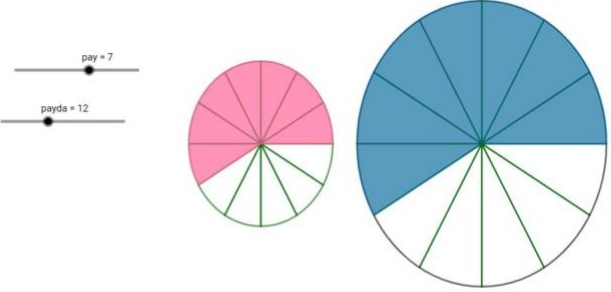
## Farklı Bütünler Eşit Kesirler

Aşağıda verilen görselde “pay” ve “payda” sürgüsünü hareket ettiriniz.

17:41   4.5G   %98

 **GeoGebra** **DERS OLUŞTUR** 

**Yazar:** Berra Nur Atay, Ayşe Gül Yıldız



*Yukarıdaki daire dilimlerini inceleyiniz. Hangi kesirleri ifade ettiğini açıklayınız.*

**1.Soru** “pay” sürgüsünü hareket ettirdiğimizde neler değişti?

**2.Soru** “payda” sürgüsünü hareket ettirdiğimizde şekilde ne gibi değişiklikler ?

**3.Soru** Sizce şekildeki taralı alanların tüm daireyi oranını veren kesirler birbirine eşit midir?

**4.Soru** Birbirine eşit olan kesirler her zaman aynı miktarı mı