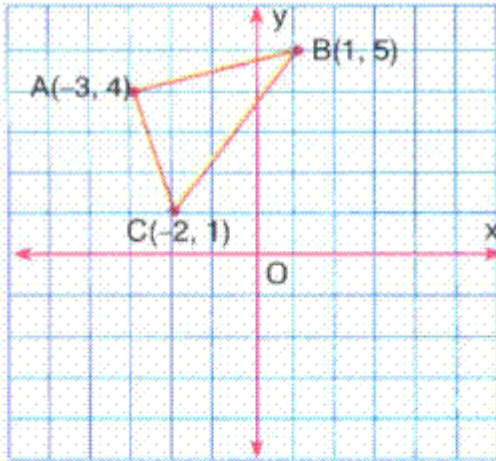


Soru 1

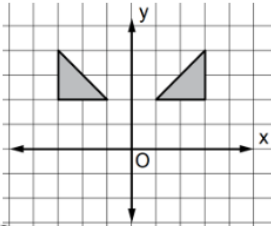


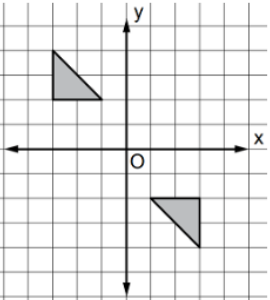
Aşağıdakilerden hangisi, yukarıda verilen üçgenin x eksenine göre yansıması altındaki görüntüsünün köşe noktalarından biri değildir?

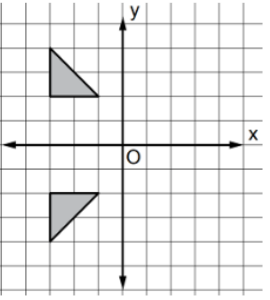
- A)  $(-3, -4)$                       B)  $(-2, -1)$   
C)  $(1, -5)$                       D)  $(-1, 5)$

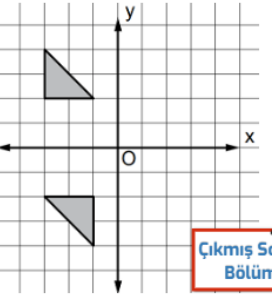
Soru 2

Aşağıdakilerin hangisindeki üçgenler x eksenine göre birbirinin yansımasıdır?

A) 

B) 

C) 

D) 

Ötelemeli Yansıması

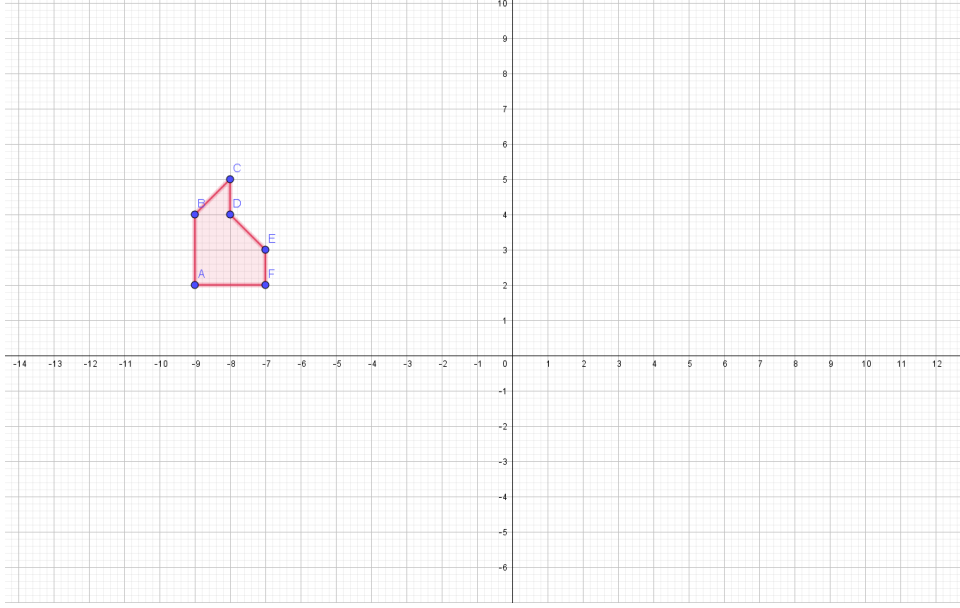
Çıkış Sı Bölüm

Soru 3

A(3,2), B(6,-5), C(-1,0) noktalarını sırasıyla x, y, orijin,  $y=x$  ve  $y=-x$  doğrularına göre yansımalarının koordinatlarını yazınız.

#### Soru 4

Verilen şekli y eksenine göre yansıtınız.



#### Soru 5

Verilen şekli orijine göre yansıtınız.

