

## Fiche élève - Détecter l'invisible

Voici quatre figures :

Figure 1

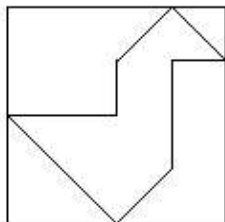


Figure 2

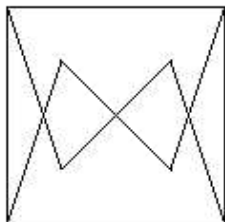


Figure 3

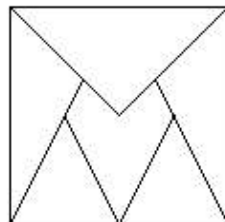
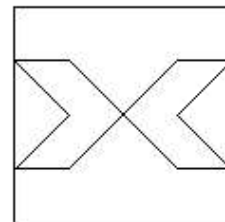



Figure 4



Construis l'agrandissement de la figure de ton choix parmi les quatre figures proposées en prenant comme contour le carré tracé ci-dessous.



### Vérification

Quand tu le souhaites, tu peux vérifier si ta figure est la même que celle du transparent solution. Si ce n'est pas le cas, écris dans le tableau ci-dessous, à chaque fois que tu vérifies, ce qui ne va pas dans ta figure.

Vérifications	Figure correcte		Explique
	Oui	Non	
1			
2			
3			