

Visualisasi dan Perhitungan Geometri dengan EMT

Euler menyediakan beberapa fungsi untuk melakukan visualisasi dan perhitungan geometri, baik secara numerik maupun analitik (seperti biasanya tentunya, menggunakan Maxima). Fungsi-fungsi untuk visualisasi dan perhitungan geometri tersebut disimpan di dalam file program "geometry.e", sehingga file tersebut harus dipanggil sebelum menggunakan fungsi-fungsi atau perintah-perintah untuk geometri.

```
>load geometry
```

Numerical and symbolic geometry.

Fungsi-fungsi Geometri

Fungsi-fungsi untuk Menggambar Objek Geometri:

```
defaultd:=textheight()*1.5: nilai asli untuk parameter d
setPlotRange(x1,x2,y1,y2): menentukan rentang x dan y pada bidang koordinat
setPlotRange(r): pusat bidang koordinat (0,0) dan batas-batas sumbu-x dan y adalah -r sd r
plotPoint (P, "P"): menggambar titik P dan diberi label "P"
plotSegment (A,B, "AB", d): menggambar ruas garis AB, diberi label "AB" sejauh d
plotLine (g, "g", d): menggambar garis g diberi label "g" sejauh d
plotCircle (c, "c", v, d): Menggambar lingkaran c dan diberi label "c"
plotLabel (label, P, V, d): menuliskan label pada posisi P
```

Fungsi-fungsi Geometri Analitik (numerik maupun simbolik):

```
turn(v, phi): memutar vektor v sejauh phi
turnLeft(v): memutar vektor v ke kiri
turnRight(v): memutar vektor v ke kanan
normalize(v): normal vektor v
crossProduct(v, w): hasil kali silang vektor v dan w.
lineThrough(A, B): garis melalui A dan B, hasilnya [a,b,c] sdh. ax+by=c.
lineWithDirection(A,v): garis melalui A searah vektor v
getLineDirection(g): vektor arah (gradien) garis g
getNormal(g): vektor normal (tegak lurus) garis g
getPointOnLine(g): titik pada garis g
perpendicular(A, g): garis melalui A tegak lurus garis g
parallel (A, g): garis melalui A sejajar garis g
lineIntersection(g, h): titik potong garis g dan h
projectToLine(A, g): proyeksi titik A pada garis g
distance(A, B): jarak titik A dan B
distanceSquared(A, B): kuadrat jarak A dan B
quadrance(A, B): kuadrat jarak A dan B
areaTriangle(A, B, C): luas segitiga ABC
computeAngle(A, B, C): besar sudut <ABC
angleBisector(A, B, C): garis bagi sudut <ABC
circleWithCenter (A, r): lingkaran dengan pusat A dan jari-jari r
getCircleCenter(c): pusat lingkaran c
getCircleRadius(c): jari-jari lingkaran c
circleThrough(A,B,C): lingkaran melalui A, B, C
middlePerpendicular(A,B): titik tengah AB
lineCircleIntersections(g, c): titik potong garis g dan lingkaran c
circleCircleIntersections (c1, c2): titik potong lingkaran c1 dan c2
planeThrough(A, B, C): bidang melalui titik A, B, C
```

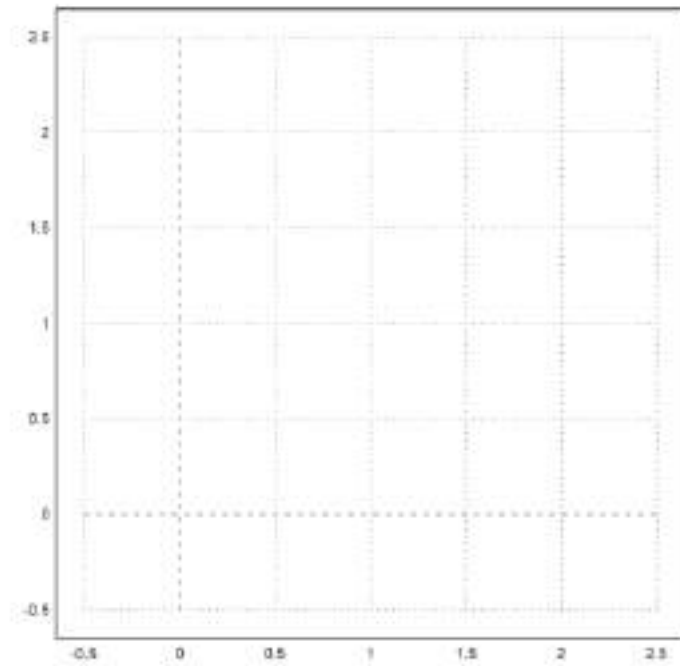
Fungsi-fungsi Khusus Untuk Geometri Simbolik:

```
getLineEquation (g,x,y): persamaan garis g dinyatakan dalam x dan y
getHesseForm (g,x,y,A): bentuk Hesse garis g dinyatakan dalam x dan y dengan titik A pada sisi positif (kanan/atas) garis
quad(A,B): kuadrat jarak AB
spread(a,b,c): Spread segitiga dengan panjang sisi-sisi a,b,c, yakni  $\sin(\alpha)^2$  dengan alpha sudut yang menghadap sisi a.
crosslaw(a,b,c,sa): persamaan 3 quads dan 1 spread pada segitiga dengan panjang sisi a, b, c
triplespread(sa,sb,sc): persamaan 3 spread sa,sb,sc yang membentuk suatu segitiga
doublespread(sa): Spread sudut rangkap  $2\phi$ , dengan  $sa=\sin(\phi)^2$  spread a.
```

Contoh 1: Luas, Lingkaran Luar, Lingkaran Dalam Segitiga

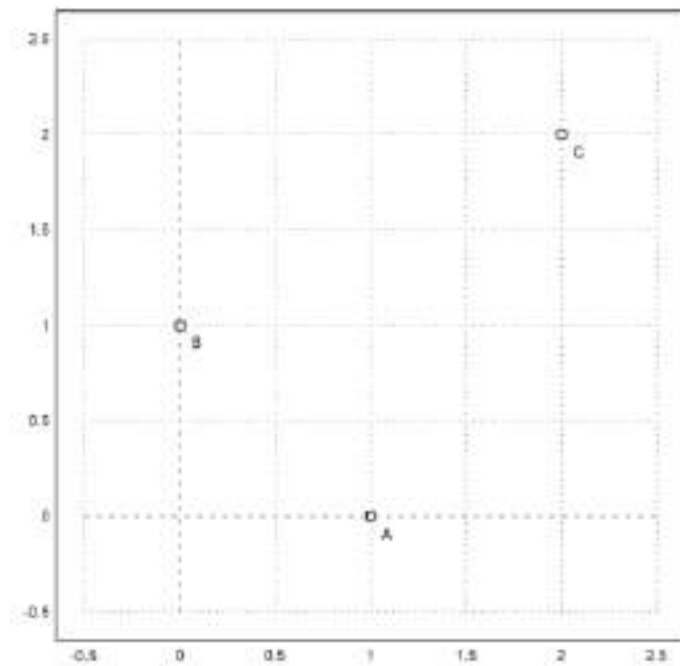
Untuk menggambar objek-objek geometri, langkah pertama adalah menentukan rentang sumbu-sumbu koordinat. Semua objek geometri akan digambar pada satu bidang koordinat, sampai didefinisikan bidang koordinat yang baru.

```
>setPlotRange(-0.5,2.5,-0.5,2.5): // mendefinisikan bidang koordinat baru
```



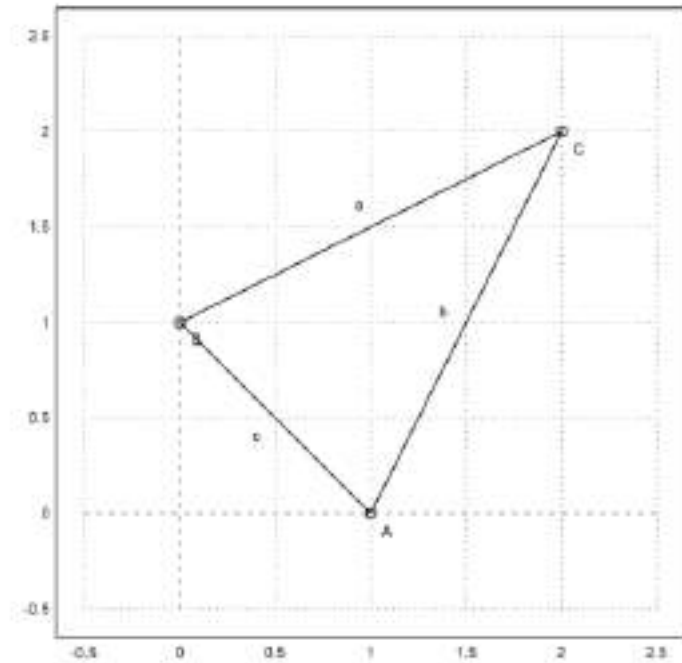
Sekarang tetapkan tiga titik dan plotlah.

```
>A=[1,0]; plotPoint(A,"A"); // definisi dan gambar tiga titik  
>B=[0,1]; plotPoint(B,"B");  
>C=[2,2]; plotPoint(C,"C"):
```



Lalu tiga segmen.

```
>plotSegment(A,B,"c"); // c=AB  
>plotSegment(B,C,"a"); // a=BC  
>plotSegment(A,C,"b"): // b=AC
```



Fungsi geometri mencakup fungsi untuk membuat garis dan lingkaran. Format untuk garis adalah [a,b,c], yang merepresentasikan garis dengan persamaan $ax+by=c$.

```
>lineThrough(B,C) // garis yang melalui B dan C
```

```
[-1, 2, 2]
```

Hitunglah garis tegak lurus melalui A pada BC.

```
>h=perpendicular(A,lineThrough(B,C)); // garis h tegak lurus BC melalui A
```

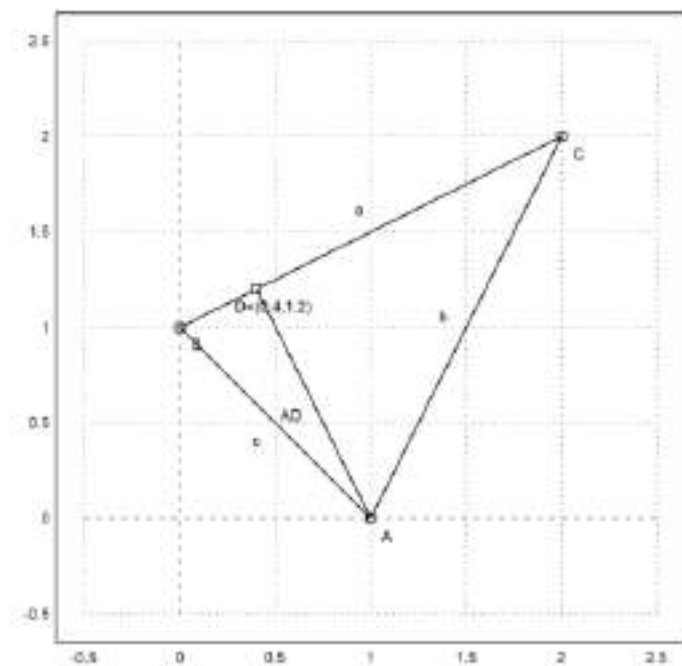
Dan persimpangannya dengan BC.

```
>D=lineIntersection(h,lineThrough(B,C)); // D adalah titik potong h dan BC
```

Gambarkan itu.

```
>plotPoint(D,value=1); // koordinat D ditampilkan
```

```
>aspect(1); plotSegment(A,D); // tampilkan semua gambar hasil plot...()
```



Hitung luas ABC:

lateks: $L_{\{\text{segitiga ABC}\}} = \frac{1}{2}AD \cdot BC$.

```
>norm(A-D)*norm(B-C)/2 // AD=norm(A-D), BC=norm(B-C)
```

1.5

Bandingkan dengan rumus determinan.

```
>areaTriangle(A,B,C) // hitung luas segitiga langsung dengan fungsi
```

1.5

Cara lain menghitung luas segitiga ABC:

```
>distance(A,D)*distance(B,C)/2
```

1.5

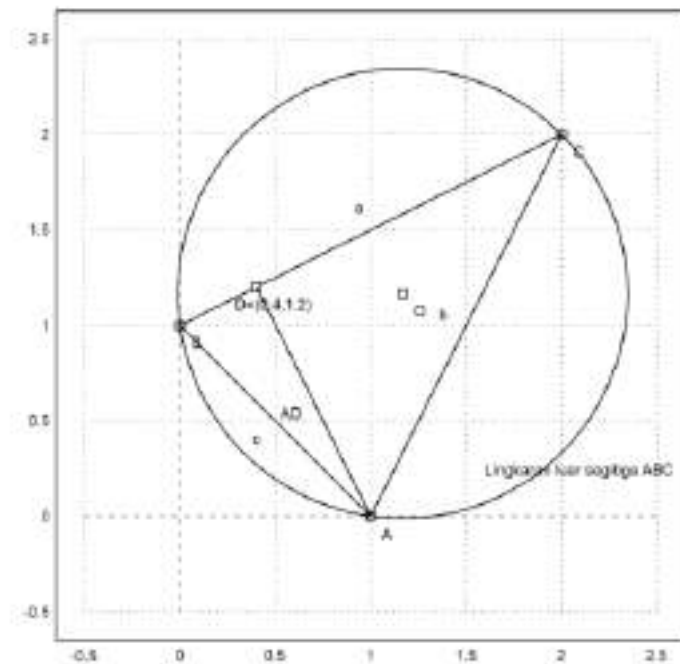
Sudut di C.

```
>degprint(computeAngle(B,C,A))
```

36°52'11.63''

Sekarang lingkaran luar segitiga.

```
>c=circleThrough(A,B,C); // lingkaran luar segitiga ABC  
>R=getCircleRadius(c); // jari2 lingkaran luar  
>O=getCircleCenter(c); // titik pusat lingkaran c  
>plotPoint(O,"O"); // gambar titik "O"  
>plotCircle(c,"Lingkaran luar segitiga ABC");
```



Tampilkan koordinat titik pusat dan jari-jari lingkaran luar.

```
>O, R
```

```
[1.16667, 1.16667]  
0.412, 1.12
```

Sekarang akan digambar lingkaran dalam segitiga ABC. Titik pusat lingkaran dalam adalah titik potong garis-garis bagi sudut.

```
>l=angleBisector(A,C,B); // garis bagi <ACB  
>g=angleBisector(C,A,B); // garis bagi <CAB
```

```
>P=lineIntersection(l,g) // titik potong kedua garis bagi sudut
```

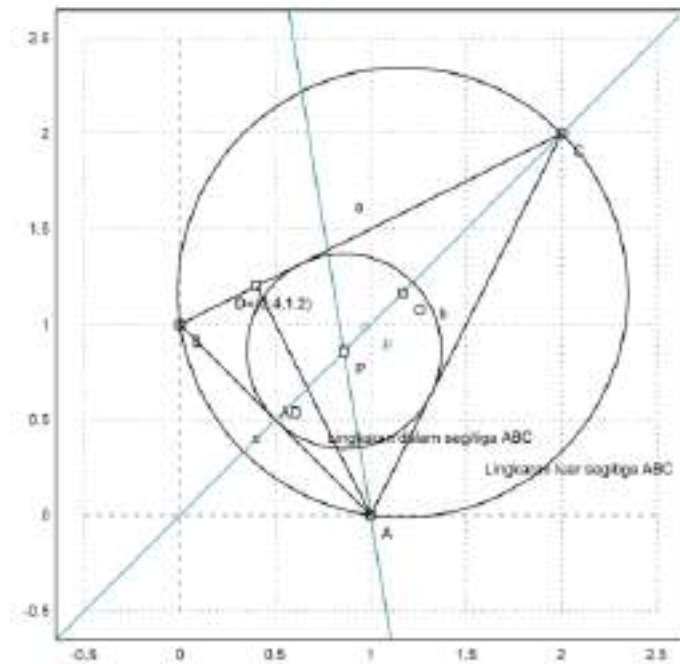
```
[0.86038, 0.86038]
```

Tambahkan semuanya ke dalam gambar.

```
>color(5); plotLine(l); plotLine(g); color(1); // gambar kedua garis bagi sudut  
>plotPoint(P,"P"); // gambar titik potongnya  
>r=norm(P-projectToLine(P,lineThrough(A,B))) // jari-jari lingkaran dalam
```

```
0.509653732104
```

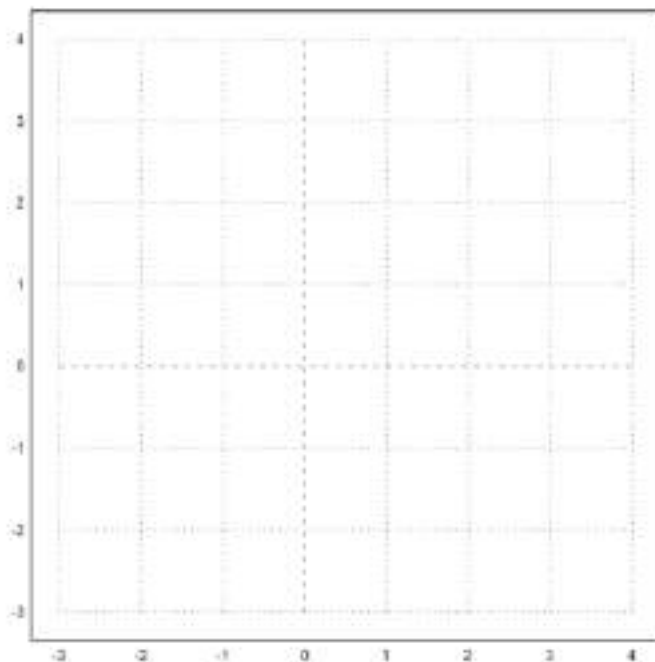
```
>plotCircle(circleWithCenter(P,r),"Lingkaran dalam segitiga ABC"): // gambar lingkaran dalam
```



Latihan

1. Tentukan ketiga titik singgung lingkaran dalam dengan sisi-sisi segitiga ABC.

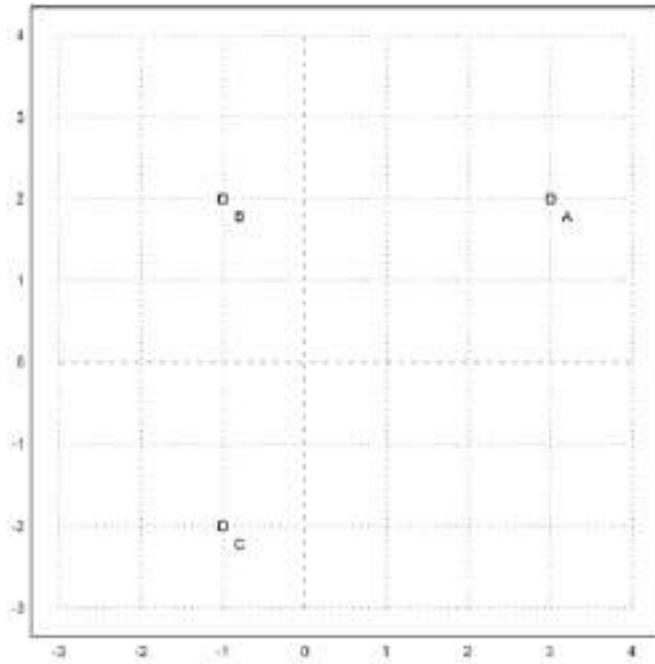
```
>setPlotRange(-3,4,-3,4):
```



```

>A=[3,2]; plotPoint(A,"A");
>B=[-1,2]; plotPoint(B,"B");
>C=[-1,-2]; plotPoint(C,"C"):

```

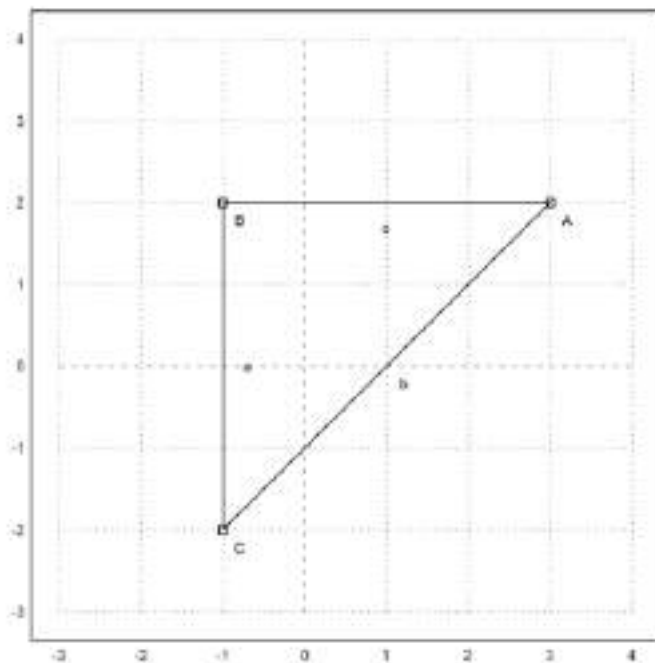


2. Gambar segitiga dengan titik-titik sudut ketiga titik singgung tersebut. Merupakan segitiga apakah itu?

```

>plotSegment(A,B,"c")
>plotSegment(B,C,"a")
>plotSegment(A,C,"b")
>aspect(1):

```



Segitiga tersebut merupakan segitiga siku-siku

3. Hitung luas segitiga tersebut.

```

>norm(A-D) * norm(B-C) / 2 // AD=norm(A-D), BC=norm(B-C)

```

5.44058820349

4. Tunjukkan bahwa garis bagi sudut yang ke tiga juga melalui titik pusat lingkaran dalam.

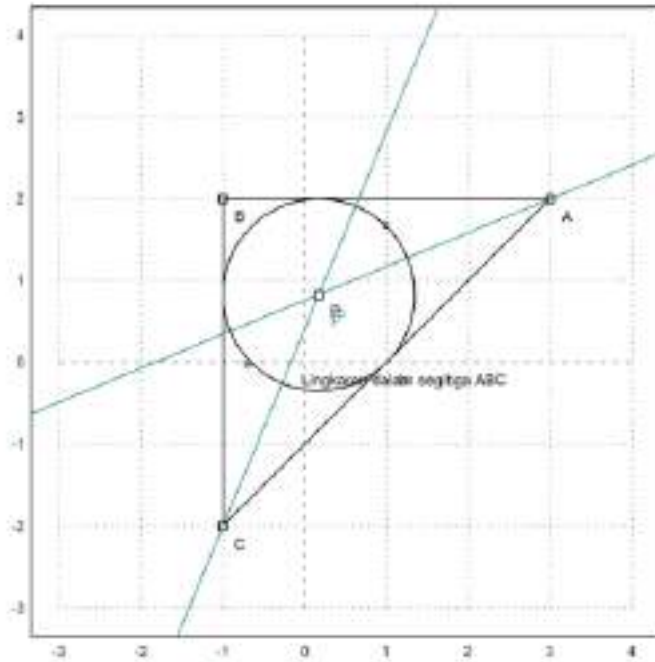
```
>l=angleBisector(A,C,B);  
>g=angleBisector(C,A,B);  
>P=lineIntersection(l,g)
```

```
[0.171573, 0.828427]
```

```
>color(5); plotLine(l); plotLine(g); color(1);  
>plotPoint(P,"P");  
>r=norm(P-projectToLine(P,lineThrough(A,B)))
```

```
1.17157287525
```

```
>plotCircle(circleWithCenter(P,r),"Lingkaran dalam segitiga ABC"):
```



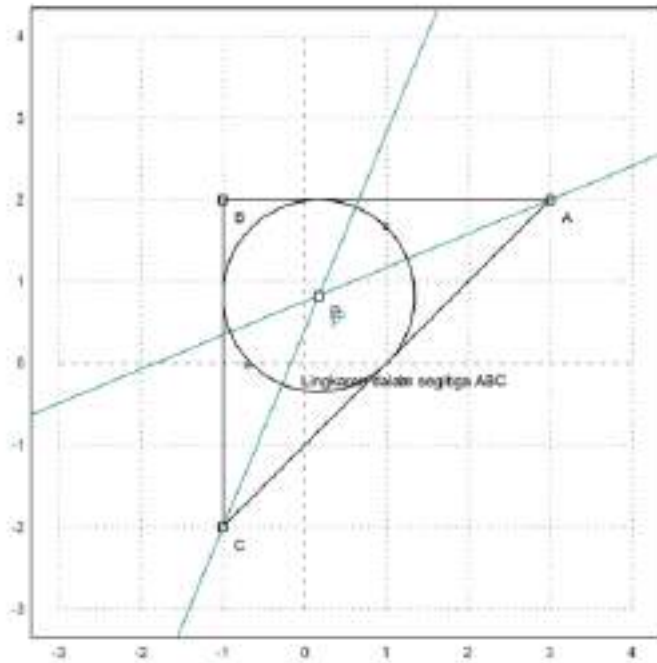
Jadi benar garis bagi sudut segitiga melalui titik pusat lingkaran

5. Gambar jari-jari lingkaran dalam.

```
>r=norm(P-projectToLine(P,lineThrough(A,B)))
```

```
1.17157287525
```

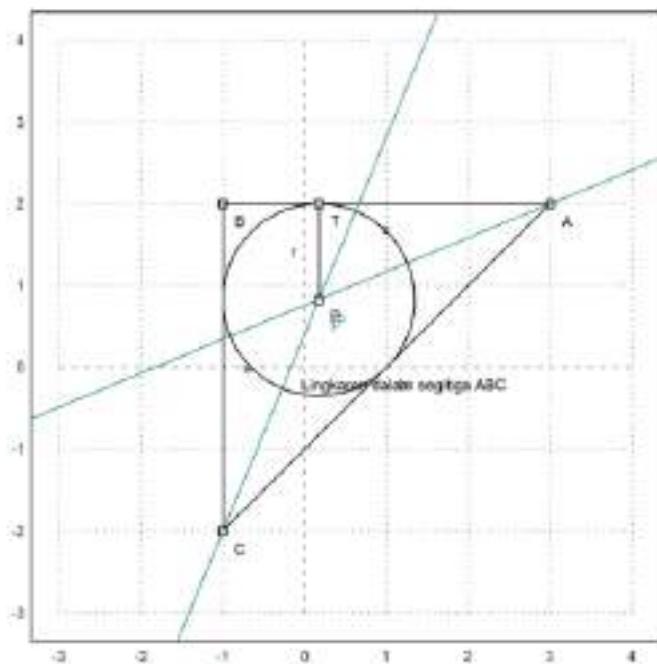
```
>plotCircle(circleWithCenter(P,r),"Lingkaran dalam segitiga ABC"):
```



>P

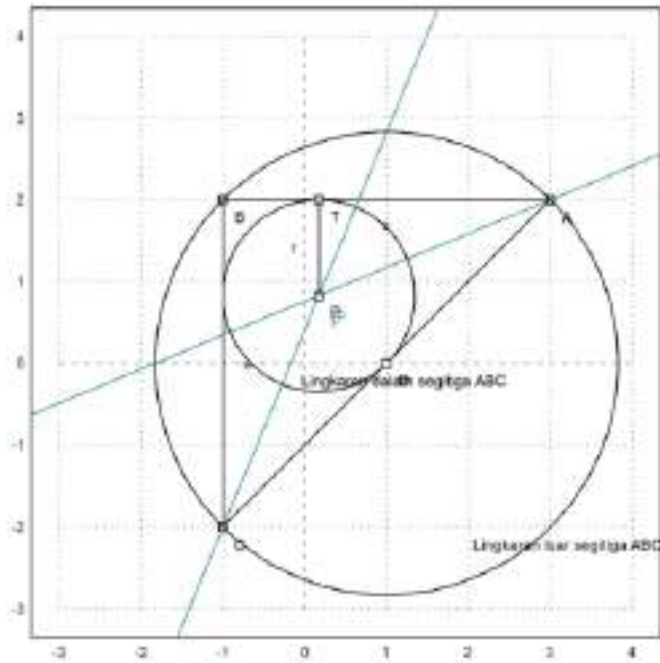
[0.171573, 0.828427]

```
>T=[0.171573,2]; plotPoint(T,"T");
>plotSegment(P,T,"r"):
```

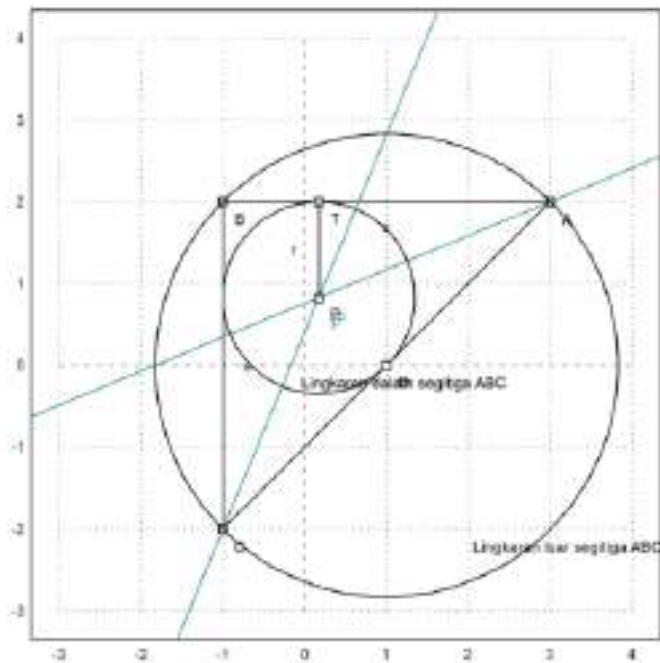


6. Hitung luas lingkaran luar dan luas lingkaran dalam segitiga ABC. Adakah hubungan antara luas kedua lingkaran tersebut dengan luas segitiga ABC?

```
>c=circleThrough(A,B,C); // lingkaran luar segitiga ABC
>R=getCircleRadius(c); // jari2 lingkaran luar
>O=getCircleCenter(c); // titik pusat lingkaran c
>plotPoint(O,"O"); // gambar titik "O"
>plotCircle(c,"Lingkaran luar segitiga ABC"):
```

```
>luas := pi*r^2:
```



Contoh 2: Geometri Smbolik

Kita dapat menghitung geometri eksak dan simbolik menggunakan Maxima.

File `geometry.e` menyediakan fungsi yang sama (dan lebih banyak lagi) di Maxima. Akan tetapi, kita sekarang dapat menggunakan perhitungan simbolik.

```
>load geometry
```

```
Numerical and symbolic geometry.
```

```
>A &= [1,0]; B &= [0,1]; C &= [2,2]; // menentukan tiga titik A, B, C
```

Fungsi untuk garis dan lingkaran bekerja seperti fungsi Euler, tetapi menyediakan perhitungan simbolis.

```
>c &= lineThrough(B,C) // c=BC
```

[- 1, 2, 2]

Kita dapat memperoleh persamaan garis dengan mudah.

```
>$getLineEquation(c,x,y), $solve(%,y) | expand // persamaan garis c
```

$$2y - x = 2$$

$$\left[y = \frac{x}{2} + 1 \right]$$

```
>$getLineEquation(lineThrough([x1,y1],[x2,y2]),x,y), $solve(%,y) // persamaan garis melalui (x1, y1)
```

$$x(y_1 - y_2) + (x_2 - x_1)y = x_2(y_1 - y_2) + (x_1 - x_2)y_1$$

$$\left[y = \frac{-(x_1 - x_2)y_2 - (x - x_2)y_1}{x_2 - x_1} \right]$$

```
>$getLineEquation(lineThrough(A,[x1,y1]),x,y) // persamaan garis melalui A dan (x1, y1)
```

$$(x_2 - 1)y - x y_2 = -y_1$$

```
>h &= perpendicular(A,lineThrough(B,C)) // h melalui A tegak lurus BC
```

[2, 1, 2]

```
>Q &= lineIntersection(c,h) // Q titik potong garis c=BC dan h
```

2 6
[-, -]
5 5

```
>$projectToLine(A,lineThrough(B,C)) // proyeksi A pada BC
```

$\left[\frac{2}{5}, \frac{6}{5} \right]$

```
>$distance(A,Q) // jarak AQ
```

$\frac{3}{\sqrt{5}}$

```
>cc &= circleThrough(A,B,C); $cc // (titik pusat dan jari-jari) lingkaran melalui A, B, C
```

$\left[\frac{7}{6}, \frac{7}{6}, \frac{5}{3\sqrt{2}} \right]$

```
>$r=&getCircleRadius(cc); $r, $float(r) // tampilkan nilai jari-jari
```

$\frac{5}{3\sqrt{2}}$

1.178511301977579

```
>$computeAngle(A,C,B) // nilai <ACB
```

$\arccos\left(\frac{4}{5}\right)$

```
>$solve(getLineEquation(angleBisector(A,C,B),x,y),y)[1] // persamaan garis bagi <ACB
```

$y = x$

```
>P &= lineIntersection(angleBisector(A,C,B),angleBisector(C,B,A)); $P // titik potong 2 garis bagi s
```

$$\left[\frac{\sqrt{2}\sqrt{5}+2}{6}, \frac{\sqrt{2}\sqrt{5}+2}{6} \right]$$

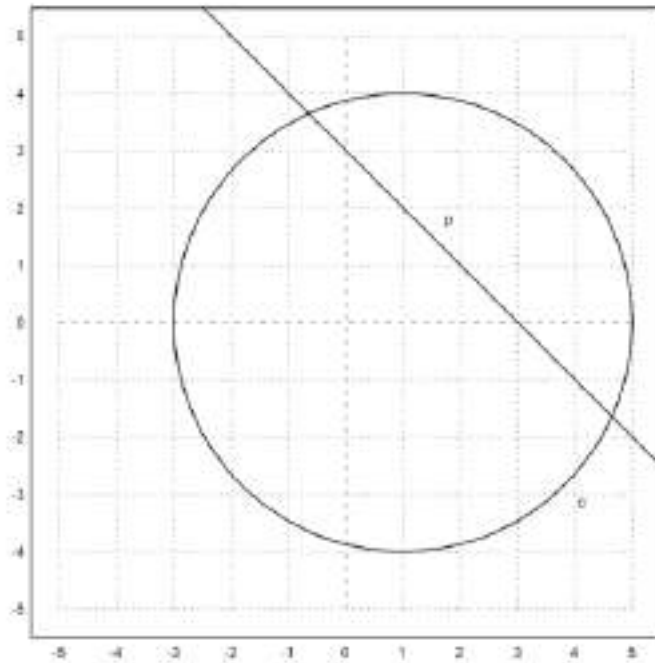
```
>P() // hasilnya sama dengan perhitungan sebelumnya
```

```
[0.86038, 0.86038]
```

Garis dan Lingkaran yang Berpotongan

Tentu saja, kita juga dapat membuat garis berpotongan dengan lingkaran, dan lingkaran dengan lingkaran.

```
>A := [1,0]; c=circleWithCenter(A,4);
>B := [1,2]; C := [2,1]; l=lineThrough(B,C);
>setPlotRange(5); plotCircle(c); plotLine(l):
```

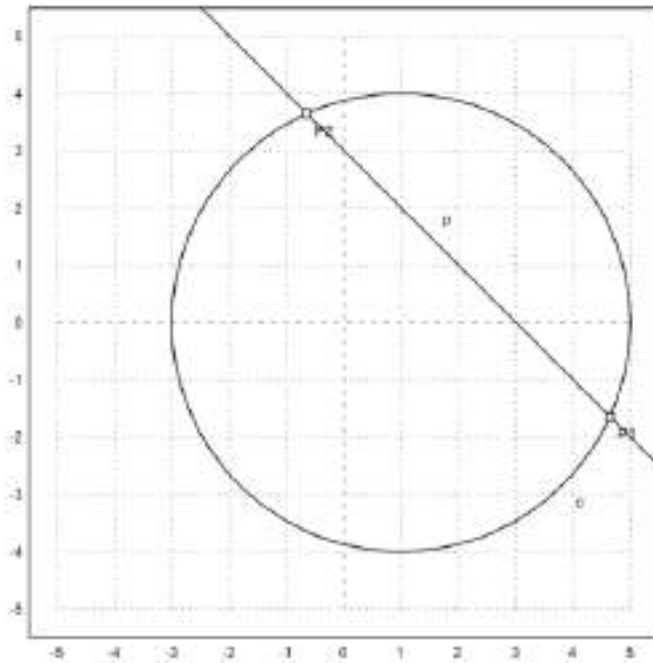


Perpotongan garis dengan lingkaran menghasilkan dua titik dan jumlah titik perpotongan.

```
>{P1,P2,f}=lineCircleIntersections(l,c);
>P1, P2, f
```

```
[4.64575, -1.64575]
[-0.645751, 3.64575]
2
```

```
>plotPoint(P1); plotPoint(P2):
```



Sama halnya di Maxima.

```
>c := circleWithCenter(A,4) // lingkaran dengan pusat A jari-jari 4
```

```
[1, 0, 4]
```

```
>l := lineThrough(B,C) // garis l melalui B dan C
```

```
[1, 1, 3]
```

```
>$lineCircleIntersections(l,c) | radcan, // titik potong lingkaran c dan garis l
```

```
 $[[\sqrt{7}+2, 1-\sqrt{7}], [2-\sqrt{7}, \sqrt{7}+1]]$ 
```

Akan ditunjukkan bahwa sudut-sudut yang menghadap busur yang sama adalah sama besar.

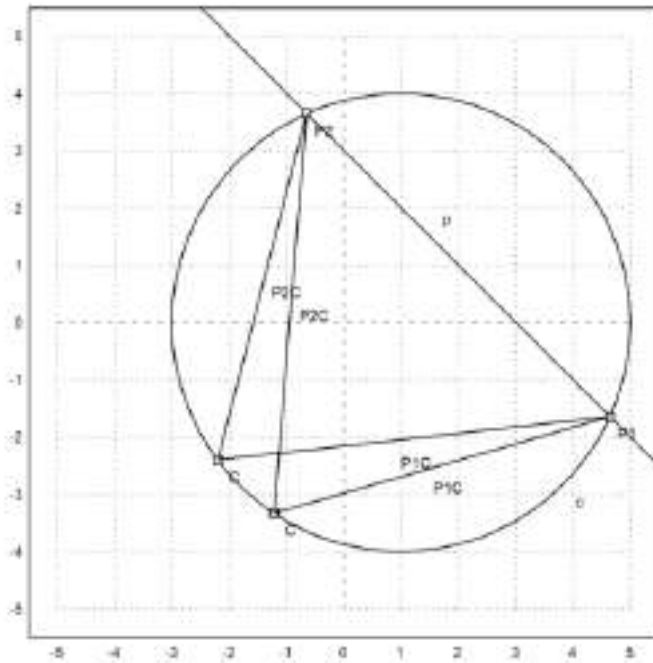
```
>C=A+normalize([-2,-3])*4; plotPoint(C); plotSegment(P1,C); plotSegment(P2,C);
>degprint(computeAngle(P1,C,P2))
```

```
69°17'42.68''
```

```
>C=A+normalize([-4,-3])*4; plotPoint(C); plotSegment(P1,C); plotSegment(P2,C);
>degprint(computeAngle(P1,C,P2))
```

```
69°17'42.68''
```

```
>insimg;
```

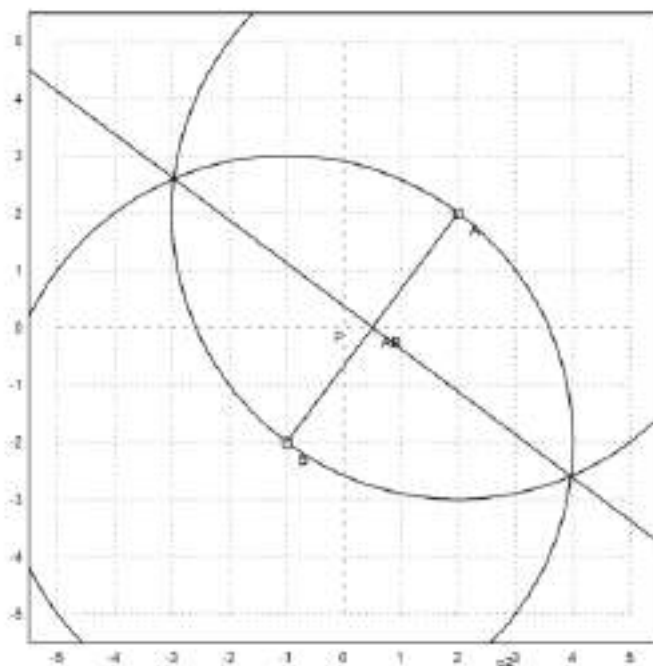


Garis Sumbu

Berikut adalah langkah-langkah menggambar garis sumbu ruas garis AB:

1. Gambar lingkaran dengan pusat A melalui B.
2. Gambar lingkaran dengan pusat B melalui A.
3. Tarik garis melalui kedua titik potong kedua lingkaran tersebut. Garis ini merupakan garis sumbu (melalui titik tengah dan tegak lurus) AB.

```
>A=[2,2]; B=[-1,-2];
>c1=circleWithCenter(A,distance(A,B));
>c2=circleWithCenter(B,distance(A,B));
>{P1,P2,f}=circleCircleIntersections(c1,c2);
>l=lineThrough(P1,P2);
>setPlotRange(5); plotCircle(c1); plotCircle(c2);
>plotPoint(A); plotPoint(B); plotSegment(A,B); plotLine(l);
```



Selanjutnya, kita melakukan hal yang sama di Maxima dengan koordinat umum.

```
>A &= [a1,a2]; B &= [b1,b2];
>c1 &= circleWithCenter(A,distance(A,B));
>c2 &= circleWithCenter(B,distance(A,B));
>P &= circleCircleIntersections(c1,c2); P1 &= P[1]; P2 &= P[2];
```

Persamaan untuk perpotongan cukup rumit. Namun, kita dapat menyederhanakannya, jika kita mencari nilai y.

```
>g &= getLineEquation(lineThrough(P1,P2),x,y);
>$solve(g,y)
```

$$\left[y = \frac{-(2 b_1 - 2 a_1) x + b_2^2 + b_1^2 - a_2^2 - a_1^2}{2 b_2 - 2 a_2} \right]$$

Ini memang sama dengan tegak lurus tengah, yang dihitung dengan cara yang sepenuhnya berbeda.

```
>$solve(getLineEquation(middlePerpendicular(A,B),x,y),y)
```

$$\left[y = \frac{-(2 b_1 - 2 a_1) x + b_2^2 + b_1^2 - a_2^2 - a_1^2}{2 b_2 - 2 a_2} \right]$$

```
>h &=getLineEquation(lineThrough(A,B),x,y);
>$solve(h,y)
```

$$\left[y = \frac{(b_2 - a_2) x - a_1 b_2 + a_2 b_1}{b_1 - a_1} \right]$$

Perhatikan hasil kali gradien garis g dan h adalah:

Artinya kedua garis tegak lurus.

Contoh 3: Rumus Heron

Rumus Heron menyatakan bahwa luas segitiga dengan panjang sisi-sisi a, b dan c adalah:

$$L = \sqrt{s(s-a)(s-b)(s-c)} \quad \text{dengan } s = (a+b+c)/2,$$

atau bisa ditulis dalam bentuk lain:

$$L = \frac{1}{4} \sqrt{(a+b+c)(b+c-a)(a+c-b)(a+b-c)}$$

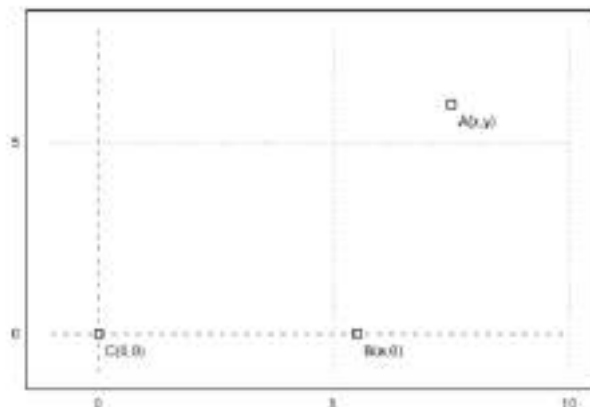
Untuk membuktikan hal ini kita misalkan C(0,0), B(a,0) dan A(x,y), b=AC, c=AB. Luas segitiga ABC adalah

$$L_{\Delta ABC} = \frac{1}{2} a \times y.$$

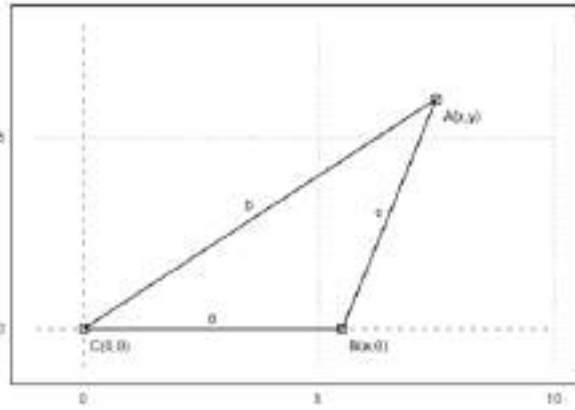
Nilai y didapat dengan menyelesaikan sistem persamaan:

$$x^2 + y^2 = b^2, \quad (x-a)^2 + y^2 = c^2.$$

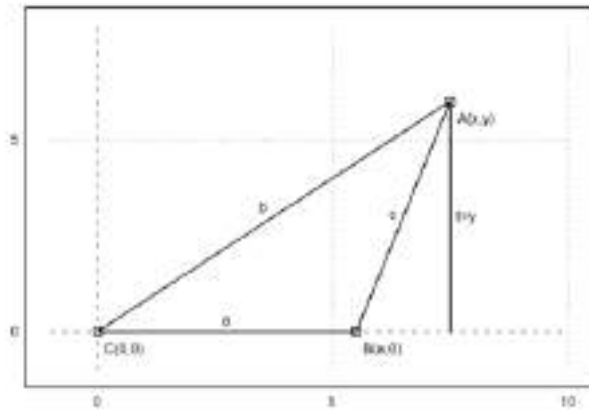
```
>setPlotRange(-1,10,-1,8); plotPoint([0,0], "C(0,0)"); plotPoint([5.5,0], "B(a,0)"); ...
plotPoint([7.5,6], "A(x,y)");
```



```
>plotSegment([0,0],[5.5,0], "a",25); plotSegment([5.5,0],[7.5,6], "c",15); ...
plotSegment([0,0],[7.5,6], "b",25);
```



```
>plotSegment([7.5,6],[7.5,0],"t=y",25):
```



```
>&assume(a>0); sol &= solve([x^2+y^2=b^2, (x-a)^2+y^2=c^2], [x, y])
```

[]

Ekstrak solusi y.

```
>ysol &= y with sol[2][2]; $'y=sqrt(factor(ysol^2))
```

```
Maxima said:
part: invalid index of list or matrix.
-- an error. To debug this try: debugmode(true);
```

```
Error in:
ysol &= y with sol[2][2]; $'y=sqrt(factor(ysol^2)) ...
```

Kita mendapatkan rumus Heron.

```
>function H(a,b,c) &= sqrt(factor((ysol*a/2)^2)); $'H(a,b,c)=H(a,b,c)
```

$$H(a,b,c) = \frac{\sqrt{(-2a^2+2b^2+c^2)(2a^2-2b^2+c^2)(2a^2-2c^2+b^2)(2a^2-2c^2+b^2)}}{4}$$

```
>$'Luas=H(2,5,6) // luas segitiga dengan panjang sisi-sisi 2, 5, 6
```

$$Luas = \frac{\sqrt{(-2 \cdot 2^2 + 2 \cdot 5^2 + 6^2)(2 \cdot 2^2 - 2 \cdot 5^2 + 6^2)(2 \cdot 2^2 - 2 \cdot 6^2 + 5^2)(2 \cdot 2^2 - 2 \cdot 6^2 + 5^2)}}{4}$$

Tentu saja, setiap segitiga siku-siku adalah kasus yang terkenal.

```
>$'Luas=H(3,4,5) //luas segitiga siku-siku dengan panjang sisi 3, 4, 5
```

$$Luas = H(3,4,5)$$

Dan jelas pula, bahwa ini adalah segitiga dengan luas maksimal dan dua sisinya 3 dan 4.

```
>aspect (1.5); plot2d(&H(3,4,x),1,7): // Kurva luas segitiga sengan panjang sisi 3, 4, x (1<= x <=7)
```

```
Function H not found.
Try list ... to find functions!
Error in expression: H(3,4,x)
%ploteval:
  y0=f$(x[1],args());
adaptiveevalone:
  s=%ploteval(g$,t;args());
Try "trace errors" to inspect local variables after errors.
plot2d:
  dw/n,dw/n^2,dw/n,auto;args());
```

Kasus umum juga berfungsi.

```
>$solve(diff(H(a,b,c)^2,c)=0,c) ...
```

Sekarang mari kita cari himpunan semua titik di mana $b+c=d$ untuk suatu konstanta d . Diketahui bahwa ini adalah elips.

```
>s1 &= subst(d-c,b,sol[2]): $s1
```

s_1

Dan buat fungsi ini.

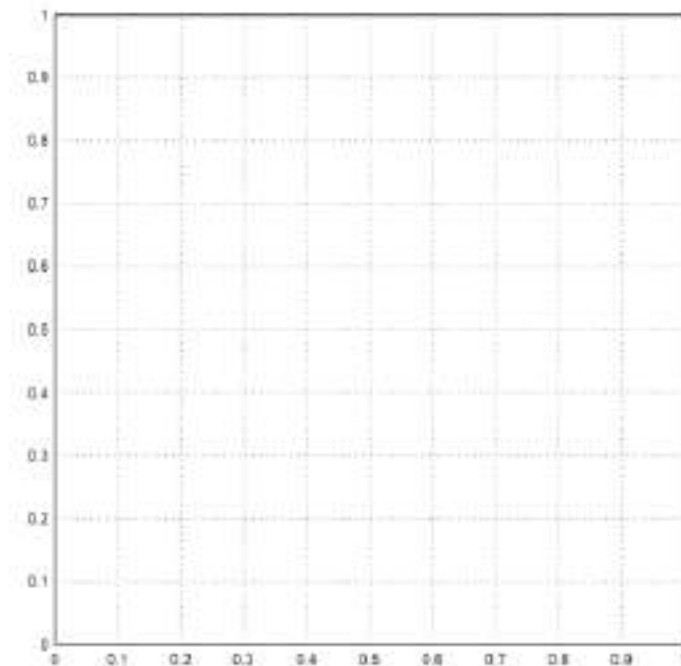
```
>function fx(a,c,d) &= rhs(s1[1]); $fx(a,c,d), function fy(a,c,d) &= rhs(s1[2]); $fy(a,c,d)
```

0

0

Sekarang kita dapat menggambar himpunannya. Sisi b bervariasi dari 1 hingga 4. Diketahui bahwa kita mendapatkan elips.

```
>aspect(1); plot2d(&fx(3,x,5),&fy(3,x,5),xmin=1,xmax=4,square=1):
```



Kita dapat memeriksa persamaan umum untuk elips ini, yaitu:

$$\frac{(x - x_m)^2}{u^2} + \frac{(y - y_m)^2}{v^2} = 1,$$

di mana (x_m, y_m) adalah pusat, dan u dan v adalah sumbu setengah.

```
>$ratsimp((fx(a,c,d)-a/2)^2/u^2+fy(a,c,d)^2/v^2 with [u=d/2,v=sqrt(d^2-a^2)/2])
```

1

Kita melihat bahwa tinggi dan luas segitiga tersebut adalah maksimum untuk $x=0$. Jadi luas segitiga dengan $a+b+c=d$ adalah maksimum, jika segitiga tersebut sama sisi. Kita ingin memperolehnya secara

analitis.

```
>eqns &= [diff(H(a,b,d-(a+b))^2,a)=0,diff(H(a,b,d-(a+b))^2,b)=0]; $eqns
```

Kita memperoleh beberapa nilai minimum, yang dimiliki oleh segitiga dengan satu sisi 0, dan solusinya $a=b=c=d/3$.

```
>$solve(eqns, [a,b])
```

```
[a=0,b=0], [a=0,b=d/3], [a=d/3,b=0], [a=d/3,b=d/3], [a=d/3,b=d/3], [a=d/3,b=d/3], [a=d/3,b=d/3]
```

Ada juga metode Lagrange, yang memaksimalkan $H(a,b,c)^2$ terhadap $a+b+c=d$.

```
>&solve([diff(H(a,b,c)^2,a)=1a,diff(H(a,b,c)^2,b)=1a, ...  
diff(H(a,b,c)^2,c)=1a,a+b+c=d],[a,b,c,1a])
```

Maxima said:

```
diff: second argument must be a variable; found [-1,2,2]  
-- an error. To debug this try: debugmode(true);
```

Error in:

```
... 1a, diff(H(a,b,c)^2,c)=1a,a+b+c=d],[a,b,c,1a) ...  
^
```

Kita bisa membuat plot dari situasinya

Pertama-tama atur titik di Maxima.

```
>A &= at([x,y],sol[2]); $A
```

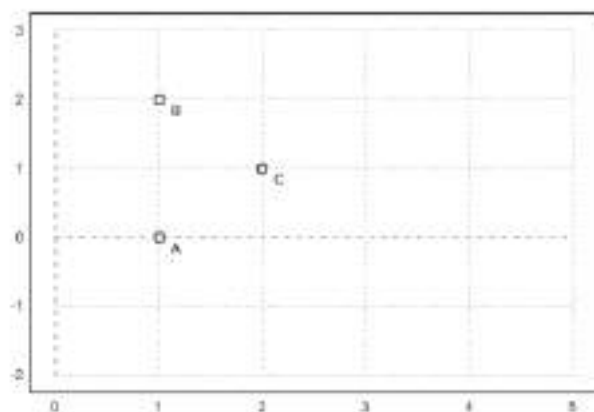
```
>B &= [0,0]; $B, C &= [a,0]; $C
```

```
[0,0]
```

```
[a,0]
```

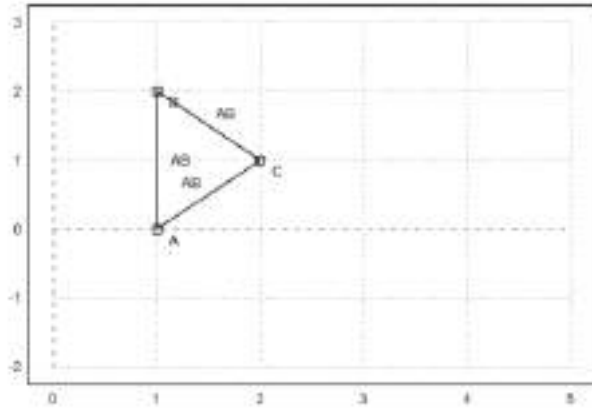
Kemudian atur rentang plot dan plot titik-titiknya.

```
>setPlotRange(0,5,-2,3); ...  
a=4; b=3; c=2; ...  
plotPoint(mxmeval("B"),"B"); plotPoint(mxmeval("C"),"C"); ...  
plotPoint(mxmeval("A"),"A");
```



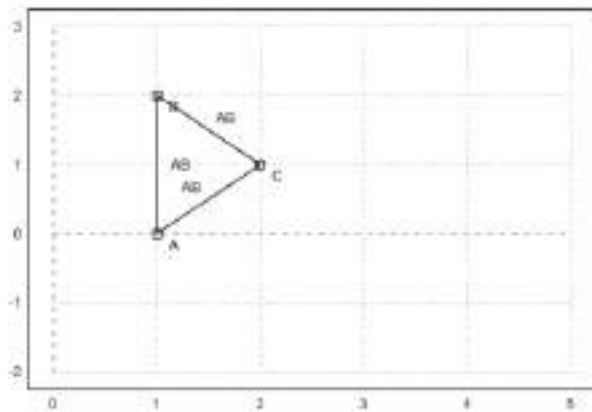
Gambarkan segmen-segmennya.

```
>plotSegment(mxmeval("A"),mxmeval("C")); ...  
plotSegment(mxmeval("B"),mxmeval("C")); ...  
plotSegment(mxmeval("B"),mxmeval("A")):
```



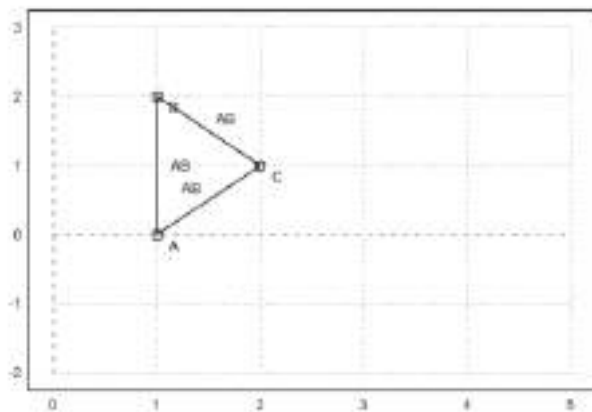
Hitunglah garis tegak lurus tengah di Maxima.

```
>h := middlePerpendicular(A,B); g := middlePerpendicular(B,C):
```



Dan pusat kelilingnya.

```
>U := lineIntersection(h,g):
```



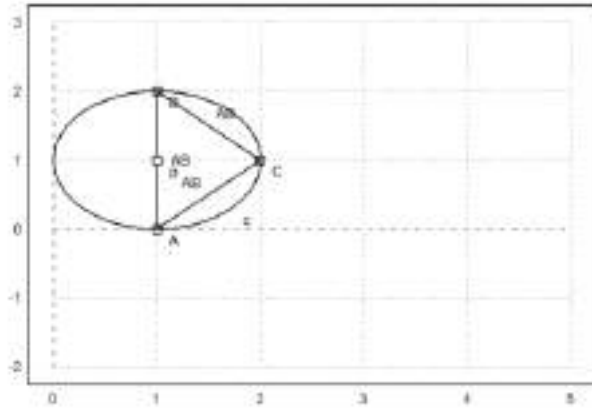
Kita mendapatkan rumus untuk jari-jari lingkaran luar.

```
>&assume(a>0,b>0,c>0); $distance(U,B) | radcan
```

$$\frac{2abc\sqrt{a^2 - b^2 + c^2 + 4ab}}{\sqrt{4a^2 - b^2 - c^2 - a + 8\sqrt{a^2 - b^2 + c^2 + 4ab}} - 8a + b + c + \sqrt{4a^2 - b^2 - c^2 - a + 8\sqrt{a^2 - b^2 + c^2 + 4ab}} - 8a + b + c + 8}$$

Mari kita tambahkan ini ke dalam alur cerita.

```
>plotPoint(U()); ...
plotCircle(circleWithCenter(mxmeval("U"),mxmeval("distance(U,C)"))):
```



Dengan menggunakan geometri, kita peroleh rumus sederhana

$$\frac{a}{\sin(\alpha)} = 2r$$

untuk jari-jari. Kita dapat memeriksa apakah ini benar dengan Maxima. Maxima akan memfaktorkan ini hanya jika kita mengkuadratkannya.

```
>$c^2/sin(computeAngle(A,B,C))^2 | factor
```

$$\frac{16r^2(2r-2)^4}{(20r^2-20r-4r^2+8)(20r^2-40r-4r^2+8)(20r^2-80r+4r^2+8)(20r^2-80r+4r^2+8)}$$

Contoh 4: Garis Euler dan Parabola

Garis Euler adalah garis yang ditentukan dari setiap segitiga yang tidak sama sisi. Garis ini merupakan garis pusat segitiga, dan melewati beberapa titik penting yang ditentukan dari segitiga tersebut, termasuk orthocenter, circumcenter, centroid, titik Exeter, dan pusat lingkaran sembilan titik pada segitiga tersebut.

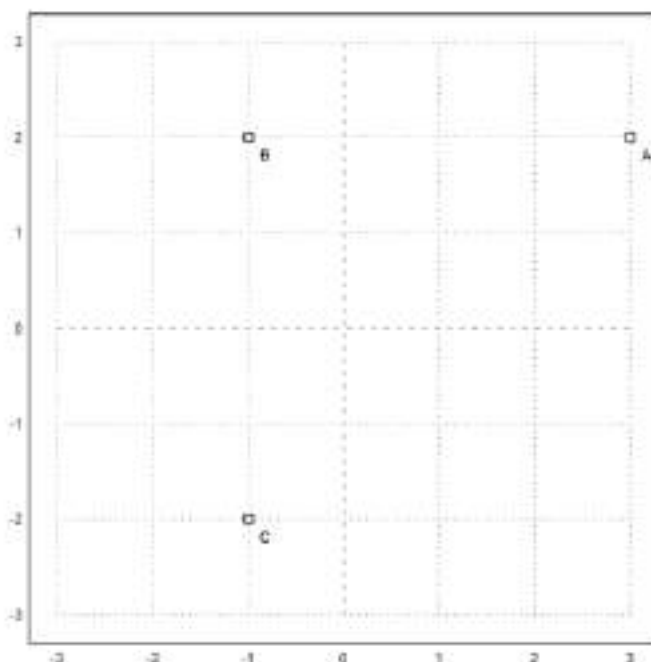
Sebagai contoh, kami menghitung dan memplot garis Euler dalam sebuah segitiga.

Pertama, kami mendefinisikan sudut-sudut segitiga dalam Euler. Kami menggunakan definisi, yang terlihat dalam ekspresi simbolik.

```
>A:=[-1,-1]; B:=[2,0]; C:=[1,2];
```

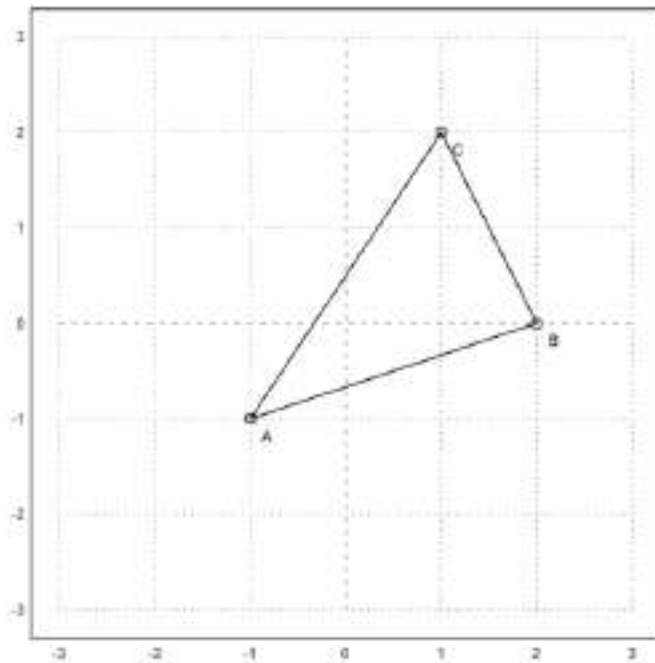
Untuk memplot objek geometris, kita menyiapkan area plot, dan menambahkan titik-titik ke dalamnya. Semua plot objek geometris ditambahkan ke plot saat ini.

```
>setPlotRange(3); plotPoint(A,"A"); plotPoint(B,"B"); plotPoint(C,"C"):
```



Kita juga dapat menambahkan sisi-sisi segitiga.

```
>plotSegment(A,B,""); plotSegment(B,C,""); plotSegment(C,A,""):
```



Berikut adalah luas segitiga, menggunakan rumus determinan. Tentu saja, kita harus mengambil nilai absolut dari hasil ini.

```
>$areaTriangle(A,B,C)
```

$$\frac{7}{2}$$

Kita dapat menghitung koefisien sisi c.

```
>c &= lineThrough(A,B)
```

$$[-1, 3, -2]$$

Dan dapatkan juga rumus untuk garis ini.

```
>$getLineEquation(c,x,y)
```

$$3y - x = -2$$

Untuk bentuk Hesse, kita perlu menentukan suatu titik, sehingga titik tersebut berada di sisi positif bentuk Hesse. Memasukkan titik akan menghasilkan jarak positif ke garis.

```
>$getHesseForm(c,x,y,C), $at(%, [x=C[1],y=C[2]])
```

$$\frac{3y - x + 2}{\sqrt{10}}$$

$$\frac{7}{\sqrt{10}}$$

Sekarang kita hitung lingkaran luar ABC.

```
>LL &= circleThrough(A,B,C); $getCircleEquation(LL,x,y)
```

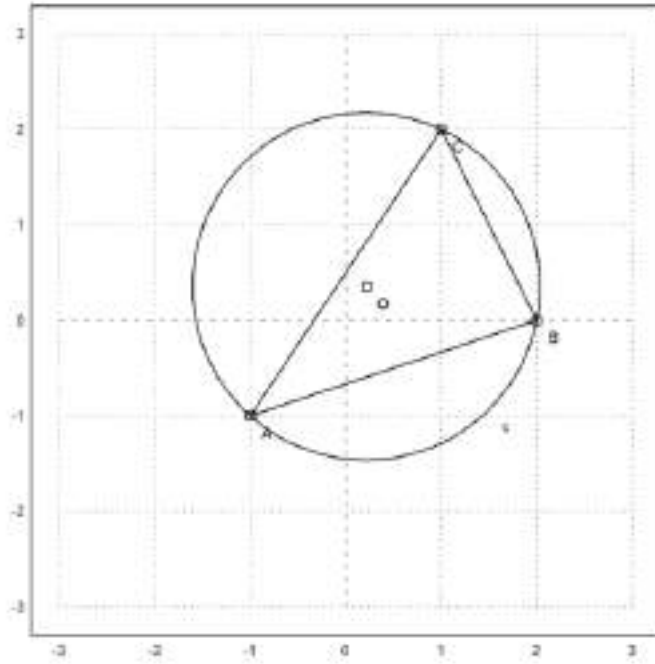
$$\left(y - \frac{5}{14}\right)^2 + \left(x - \frac{3}{14}\right)^2 = \frac{325}{98}$$

```
>O &= getCircleCenter(LL); $O
```

$$\begin{bmatrix} 3/14 \\ 5/14 \end{bmatrix}$$

Gambarkan lingkaran dan titik pusatnya. Cu dan U adalah simbol. Kita evaluasi ekspresi ini untuk Euler.

```
>plotCircle(LL()); plotPoint(O(),"O"):
```



Kita dapat menghitung perpotongan tinggi di ABC (orthocenter) secara numerik dengan perintah berikut.

```
>H &= lineIntersection(perpendicular(A,lineThrough(C,B)),...  
perpendicular(B,lineThrough(A,C))); $H
```

$$\begin{bmatrix} 11 & 2 \\ 7 & 7 \end{bmatrix}$$

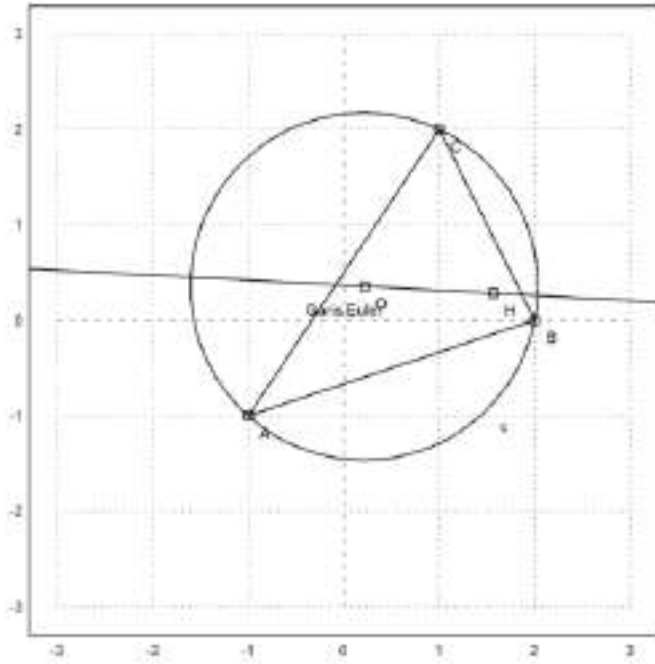
Sekarang kita dapat menghitung garis Euler dari segitiga tersebut.

```
>el &= lineThrough(H,O); $getLineEquation(el,x,y)
```

$$\frac{19y}{14} - \frac{x}{14} = -\frac{1}{2}$$

Tambahkan ke plot kita.

```
>plotPoint(H(),"H"); plotLine(el(),"Garis Euler"):
```

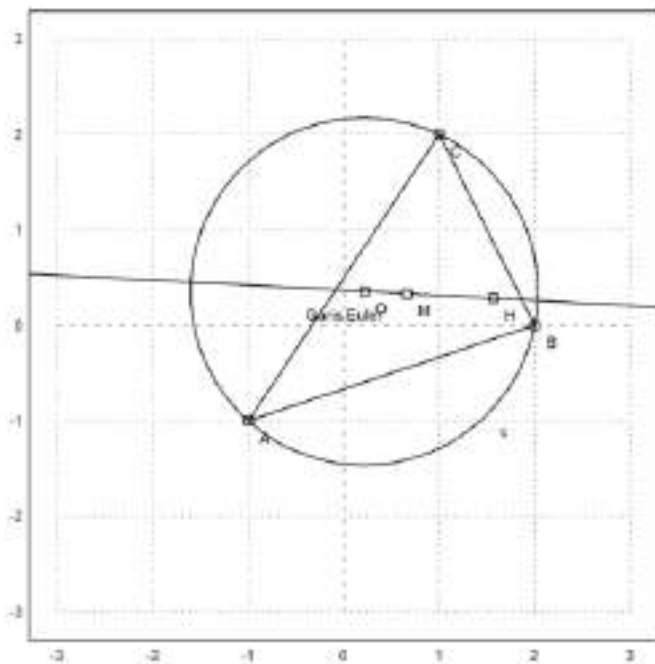


Pusat gravitasi seharusnya berada pada garis ini.

```
>M = (A+B+C)/3; $getLineEquation(e1,x,y) with [x=M[1],y=M[2]]
```

$$\frac{1}{2} = -\frac{1}{2}$$

```
>$plotPoint(M(),"M"): // titik berat
```



Teori ini memberi tahu kita $MH=2*MO$. Kita perlu menyederhanakannya dengan radcan untuk mencapainya.

```
>$distance(M,H)/distance(M,O) | radcan
```

2

Fungsinya termasuk fungsi untuk sudut juga.

```
>$computeAngle(A,C,B), degprint(%())
```

$$\arccos\left(\frac{4}{\sqrt{5}\sqrt{13}}\right)$$

60°15'18.43''

Persamaan untuk pusat lingkaran dalam tidak terlalu bagus.

```
>Q &= lineIntersection(angleBisector(A,C,B),angleBisector(C,B,A))|radcan; $Q
```

$$\left[\frac{\left(2^{\frac{3}{2}}+1\right)\sqrt{5}\sqrt{13}-15\sqrt{2}+3}{14}, \frac{(\sqrt{2}-3)\sqrt{5}\sqrt{13}+5\cdot 2^{\frac{3}{2}}+5}{14} \right]$$

Mari kita hitung juga ekspresi untuk jari-jari lingkaran dalam.

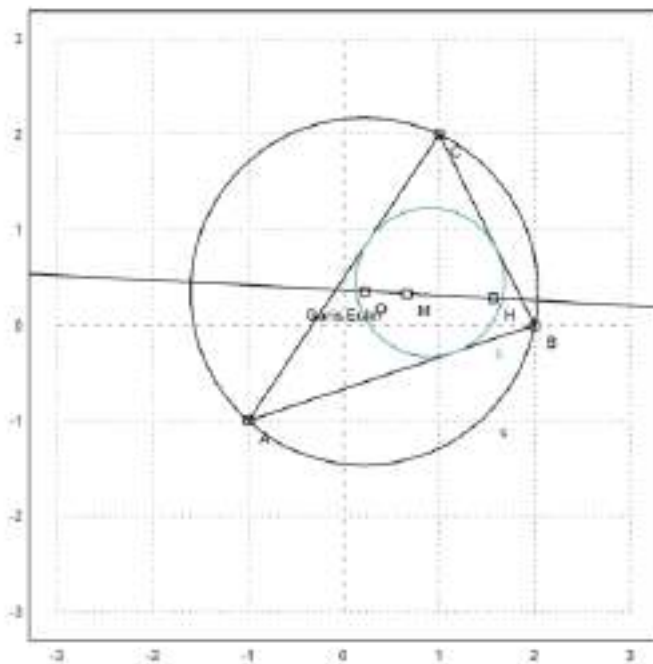
```
>r &= distance(Q,projectToLine(Q,lineThrough(A,B)))|ratsimp; $r
```

$$\frac{\sqrt{(-41\sqrt{2}-31)\sqrt{5}\sqrt{13}+115\sqrt{2}+614}}{7\sqrt{2}}$$

```
>LD &= circleWithCenter(Q,r); // Lingkaran dalam
```

Mari kita tambahkan ini ke dalam alur cerita.

```
>color(5); plotCircle(LD()):
```



Parabola

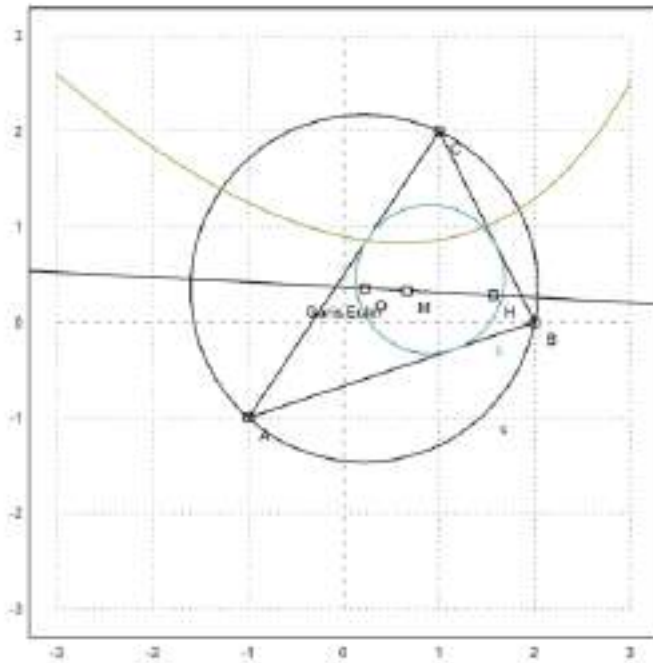
Selanjutnya akan dicari persamaan tempat kedudukan titik-titik yang berjarak sama ke titik C dan ke garis AB.

```
>p &= getHesseForm(lineThrough(A,B),x,y,C)-distance([x,y],C); $p='0
```

$$\frac{3y-x+2}{\sqrt{10}} - \sqrt{(2-y)^2 + (1-x)^2} = 0$$

Persamaan tersebut dapat digambar menjadi satu dengan gambar sebelumnya.

```
>plot2d(p,level=0,add=1,contourcolor=6):
```



Ini seharusnya merupakan suatu fungsi, tetapi penyelesaian default Maxima hanya dapat menemukan solusinya, jika kita mengkuadratkan persamaannya. Akibatnya, kita mendapatkan solusi palsu.

```
>akar &= solve(getHesseForm(lineThrough(A,B),x,y,C)^2-distance([x,y],C)^2,y)
```

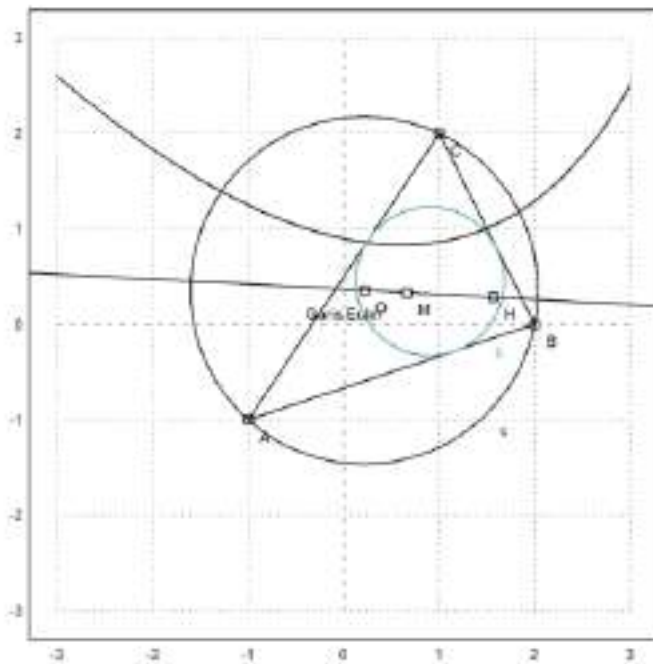
$$\begin{aligned} [y = -3x - \sqrt{70} \sqrt{9 - 2x} + 26, \\ y = -3x + \sqrt{70} \sqrt{9 - 2x} + 26] \end{aligned}$$

Solusi pertama adalah

$y = -3x - \sqrt{70} \sqrt{9 - 2x} + 26$

Dengan menambahkan solusi pertama ke dalam plot, terlihat bahwa itu memang jalur yang kita cari. Teori tersebut memberi tahu kita bahwa itu adalah parabola yang diputar.

```
>plot2d(&rhs(akar[1]),add=1):
```



```
>function g(x) &= rhs(akar[1]); $'g(x)= g(x)// fungsi yang mendefinisikan kurva di atas
```

$$g(x) = -3x - \sqrt{70} \sqrt{9 - 2x} + 26$$


```
>T &=[-1, g(-1)]; // ambil sebarang titik pada kurva tersebut
>dTC &= distance(T,C); $fullratsimp(dTC), $float(%) // jarak T ke C
```

$$\sqrt{1503 - 54\sqrt{11}\sqrt{70}}$$

2.135605779339061

```
>U &= projectToLine(T,lineThrough(A,B)); $U // proyeksi T pada garis AB
```

$$\left[\frac{80 - 3\sqrt{11}\sqrt{70}}{10}, \frac{20 - \sqrt{11}\sqrt{70}}{10} \right]$$

```
>dU2AB &= distance(T,U); $fullratsimp(dU2AB), $float(%) // jarak T ke AB
```

$$\sqrt{1503 - 54\sqrt{11}\sqrt{70}}$$

2.135605779339061

Ternyata jarak T ke C sama dengan jarak T ke AB. Coba Anda pilih titik T yang lain dan ulangi perhitungan-perhitungan di atas untuk menunjukkan bahwa hasilnya juga sama.

Contoh 5: Trigonometri Rasional

Hal ini terinspirasi dari ceramah N.J.Wildberger. Dalam bukunya "Divine Proportions", Wildberger mengusulkan untuk mengganti konsep klasik jarak dan sudut dengan kuadran dan sebaran. Dengan menggunakan konsep ini, memang memungkinkan untuk menghindari fungsi trigonometri dalam banyak contoh, dan tetap "rasional".

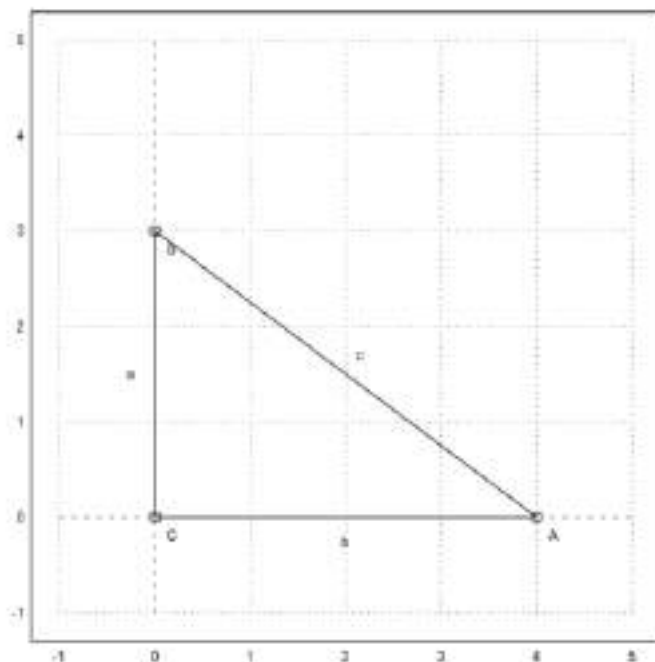
Berikut ini, saya memperkenalkan konsep-konsep tersebut, dan memecahkan beberapa masalah. Saya menggunakan perhitungan simbolik Maxima di sini, yang menyembunyikan keuntungan utama trigonometri rasional bahwa perhitungan dapat dilakukan hanya dengan kertas dan pensil. Anda diundang untuk memeriksa hasilnya tanpa komputer.

Intinya adalah bahwa perhitungan simbolik rasional sering kali menghasilkan hasil yang sederhana. Sebaliknya, trigonometri klasik menghasilkan hasil trigonometri yang rumit, yang hanya mengevaluasi perkiraan numerik.

```
>load geometry;
```

Untuk pengenalan pertama, kami menggunakan segitiga siku-siku dengan proporsi Mesir yang terkenal yaitu 3, 4, dan 5. Perintah berikut adalah perintah Euler untuk memplot geometri bidang yang terdapat dalam file Euler "geometry.e".

```
>C&:=[0,0]; A&:=[4,0]; B&:=[0,3]; ...
setPlotRange(-1,5,-1,5); ...
plotPoint(A,"A"); plotPoint(B,"B"); plotPoint(C,"C"); ...
plotSegment(B,A,"c"); plotSegment(A,C,"b"); plotSegment(C,B,"a"); ...
insimg(30);
```



Tentu saja,

$$\sin(\alpha) = \frac{a}{c},$$

di mana α adalah sudut di A. Cara yang biasa untuk menghitung sudut ini adalah dengan mengambil kebalikan dari fungsi sinus. Hasilnya adalah sudut yang tidak dapat dicerna, yang hanya dapat dicetak secara perkiraan.

```
>wa := arcsin(3/5); degprint(wa)
```

36°52'11.63''

Trigonometri rasional mencoba menghindari hal ini.

Gagasan pertama trigonometri rasional adalah kuadran, yang menggantikan jarak. Faktanya, itu hanyalah kuadrat jarak. Dalam persamaan berikut, a , b , dan c menunjukkan kuadran sisi-sisi.

Teorema Pythagoras menjadi $a+b=c$.

```
>a &= 3^2; b &= 4^2; c &= 5^2; &a+b=c
```

25 = 25

Gagasan kedua dari trigonometri rasional adalah sebaran. Sebaran mengukur celah antara garis. Nilainya 0 jika garisnya sejajar, dan 1 jika garisnya persegi panjang. Nilainya adalah kuadrat sinus sudut antara dua garis.

Penyebaran garis AB dan AC pada gambar di atas didefinisikan sebagai

$$s_a = \sin(\alpha)^2 = \frac{a}{c},$$

di mana a dan c adalah kuadran dari sembarang segitiga siku-siku dengan salah satu sudut di A.

```
>sa &= a/c; $sa
```

$\frac{9}{25}$

Tentu saja, ini lebih mudah dihitung daripada sudut. Namun, Anda kehilangan sifat bahwa sudut dapat ditambahkan dengan mudah.

Tentu saja, kita dapat mengubah nilai perkiraan untuk sudut α menjadi sprad, dan mencetaknya sebagai pecahan.

```
>fracprint(sin(wa)^2)
```

9/25

Hukum kosinus dari trigonometri klasik diterjemahkan ke dalam "hukum silang" berikut.

$$(c + b - a)^2 = 4bc(1 - s_a)$$

Di sini a , b , dan c adalah kuadran sisi-sisi segitiga, dan s_a adalah sebaran di sudut A. Sisi a , seperti biasa, berseberangan dengan sudut A.

Hukum-hukum ini diimplementasikan dalam berkas `geometry.e` yang kami muat ke Euler.

```
>$crosslaw(aa,bb,cc,saa)
```

$$\left[\left(b - a + \frac{c}{2} \right)^2, \left(b - a + \frac{c}{2} \right)^2, \left(b - a + \frac{c}{2} \right)^2 \right] = \left[\frac{4bc(1-s_a)}{8}, \frac{4bc(1-s_a)}{4}, \frac{4bc(1-s_a)}{8} \right]$$

Dalam kasus kami, kami mendapatkan

```
>$crosslaw(a,b,c,sa)
```

1024 = 1024

Mari kita gunakan hukum silang ini untuk menemukan sebaran di A. Untuk melakukannya, kita buat hukum silang untuk kuadran a , b , dan c , dan selesaikan untuk sebaran yang tidak diketahui s_a .

Anda dapat melakukannya dengan mudah secara manual, tetapi saya menggunakan Maxima. Tentu saja, kita mendapatkan hasil yang sudah kita miliki.

```
>$crosslaw(a,b,c,x), $solve(% , x)
```

$$1024 = 1600(1-x)$$

$$\left[x = \frac{9}{25} \right]$$

Kita sudah tahu ini. Definisi sebaran adalah kasus khusus dari hukum silang.

Kita juga dapat memecahkan ini untuk a,b,c umum. Hasilnya adalah rumus yang menghitung sebaran sudut segitiga yang diberikan kuadran ketiga sisinya.

```
>$solve(crosslaw(aa,bb,cc,x),x)
```

$$\left[\left[\frac{9}{25} \right] \right]$$

Kita dapat membuat fungsi dari hasil tersebut. Fungsi tersebut telah didefinisikan dalam berkas geometry.e milik Euler.

```
>$spread(a,b,c)
```

$$\frac{9}{25}$$

Sebagai contoh, kita dapat menggunakannya untuk menghitung sudut segitiga dengan sisi-sisi

$$a, \quad b, \quad \frac{4a}{7}$$

Hasilnya rasional, yang tidak mudah didapat jika kita menggunakan trigonometri klasik.

```
>$spread(a,a,4*a/7)
```

$$\frac{6}{7}$$

Ini adalah sudut dalam derajat.

```
>degprint(arcsin(sqrt(6/7)))
```

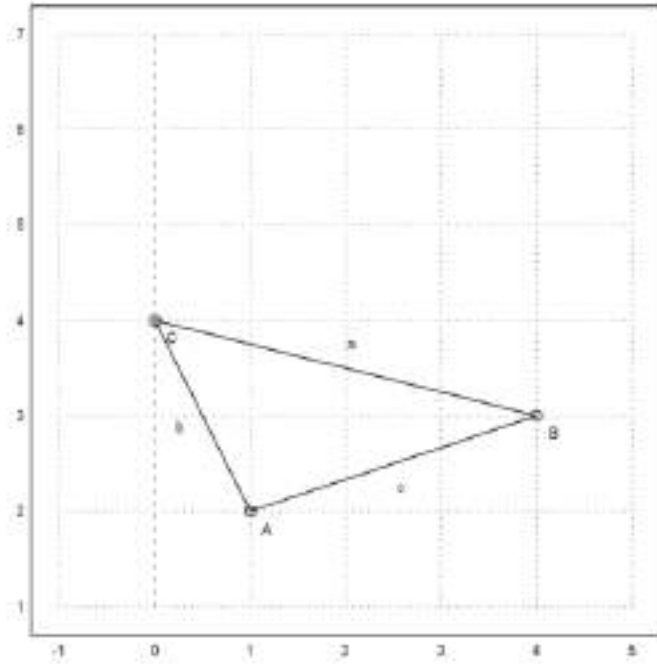
```
67°47'32.44''
```

Contoh Lain

Sekarang, mari kita coba contoh yang lebih maju.

Kita tentukan tiga sudut segitiga sebagai berikut.

```
>A:=[1,2]; B:=[4,3]; C:=[0,4]; ...  
setPlotRange(-1,5,1,7); ...  
plotPoint(A,"A"); plotPoint(B,"B"); plotPoint(C,"C"); ...  
plotSegment(B,A,"c"); plotSegment(A,C,"b"); plotSegment(C,B,"a"); ...  
insimg;
```



Dengan menggunakan Pythagoras, mudah untuk menghitung jarak antara dua titik. Pertama-tama saya menggunakan fungsi distance dari file Euler untuk geometri. Fungsi distance menggunakan geometri klasik.

```
>$distance(A,B)
```

$$\sqrt{10}$$

Euler juga memuat fungsi untuk kuadran antara dua titik.

Dalam contoh berikut, karena c+b bukan a, segitiga tersebut bukan persegi panjang.

```
>c &= quad(A,B); $c, b &= quad(A,C); $b, a &= quad(B,C); $a,
```

10

5

17

Pertama, mari kita hitung sudut tradisional. Fungsi computeAngle menggunakan metode biasa berdasarkan perkalian titik dua vektor. Hasilnya adalah beberapa perkiraan floating point.

$$A = \langle 1, 2 \rangle \quad B = \langle 4, 3 \rangle, \quad C = \langle 0, 4 \rangle$$

$$a = C - B = \langle -4, 1 \rangle, \quad c = A - B = \langle -3, -1 \rangle, \quad \beta = \angle ABC$$

$$a \cdot c = |a| \cdot |c| \cos \beta$$

$$\cos \angle ABC = \cos \beta = \frac{a \cdot c}{|a| \cdot |c|} = \frac{12 - 1}{\sqrt{17} \sqrt{10}} = \frac{11}{\sqrt{17} \sqrt{10}}$$

```
>wb &= computeAngle(A,B,C); $wb, $(wb/pi*180)()
```

$$\arccos\left(\frac{11}{\sqrt{10} \sqrt{17}}\right)$$

32.4711922908

Dengan menggunakan pensil dan kertas, kita dapat melakukan hal yang sama dengan hukum silang. Kita masukkan kuadran a, b, dan c ke dalam hukum silang dan selesaikan untuk x.

```
>$crosslaw(a,b,c,x), $solve(% , x), //(b+c-a)^=4b.c(1-x)
```

$$4 = 200(1-x)$$

$$\left[\begin{array}{l} x = \frac{49}{50} \end{array} \right]$$

Yaitu, apa yang dilakukan fungsi sebaran yang didefinisikan dalam "geometry.e".

```
>sb &= spread(b,a,c); $sb
```

$$\frac{49}{170}$$

Maxima memperoleh hasil yang sama dengan menggunakan trigonometri biasa, jika kita memaksakannya. Maxima memang menyelesaikan suku $\sin(\arccos(\dots))$ menjadi hasil pecahan. Sebagian besar siswa tidak dapat melakukan ini.

```
>$sin(computeAngle(A,B,C))^2
```

$$\frac{49}{170}$$

Setelah kita memiliki sebaran di B, kita dapat menghitung tinggi h_a pada sisi a. Ingat bahwa

$$h_a = \frac{h_b}{c}$$

menurut definisi.

```
>ha &= c*$sb; $ha
```

$$\frac{49}{17}$$

Gambar berikut ini dibuat dengan program geometri C.a.R., yang dapat menggambar kuadran dan sebaran.

gambar: (20) Rational_Geometry_CaR.png

Menurut definisi, panjang h_a adalah akar kuadrat dari kuadrannya.

```
>$sqrt(ha)
```

$$\frac{7}{\sqrt{17}}$$

Sekarang kita bisa menghitung luas segitiga. Jangan lupa, bahwa kita sedang membahas tentang kuadran!

```
>$sqrt(ha)*sqrt(a)/2
```

$$\frac{7}{2}$$

Rumus determinan yang biasa menghasilkan hasil yang sama.

```
>$areaTriangle(B,A,C)
```

$$\frac{7}{2}$$

Rumus Heron

Sekarang, mari kita selesaikan masalah ini secara umum!

```
>&remvalue(a,b,c,sb,ha);
```

Pertama-tama kita hitung sebaran di B untuk segitiga dengan sisi a, b, dan c. Kemudian kita hitung luas kuadrat (yang disebut "quadrea"?), faktorkan dengan Maxima, dan kita dapatkan rumus Heron yang terkenal.

Memang, ini sulit dilakukan dengan pensil dan kertas.

```
>$spread(b^2,c^2,a^2), $factor(%*c^2*a^2/4)
```

$$0$$

$$0$$

Aturan Triple Spread

Kerugian spread adalah tidak lagi sekadar menambahkan sudut yang sama.

Namun, tiga spread segitiga memenuhi aturan "triple spread" berikut.

```
>&remvalue(sa,sb,sc); $triplespread(sa,sb,sc)
```

$$(sc + sb + sa)^2 = 2 (sc^2 + sb^2 + sa^2) + 4 sa sb sc$$

Aturan ini berlaku untuk tiga sudut yang jumlahnya mencapai 180° .

$$\alpha + \beta + \gamma = \pi$$

Karena sebaran

$$\alpha, \pi - \alpha$$

sama, aturan sebaran rangkap tiga juga berlaku, jika

$$\alpha + \beta = \gamma$$

Karena sebaran sudut negatif sama, aturan sebaran rangkap tiga juga berlaku, jika

$$\alpha + \beta + \gamma = 0$$

Misalnya, kita dapat menghitung sebaran sudut 60° . Yaitu $3/4$. Persamaan tersebut memiliki solusi kedua, di mana semua sebarannya adalah 0.

```
>$solve(triplespread(x,x,x),x)
```

$$\left[x = \frac{3}{4}, x = 0 \right]$$

Sebaran 90° jelas adalah 1. Jika dua sudut dijumlahkan menjadi 90° , sebarannya memecahkan persamaan sebaran rangkap tiga dengan a,b,1. Dengan perhitungan berikut kita memperoleh a+b=1.

```
>$triplespread(x,y,1), $solve(%,x)
```

$$(y+x+1)^2 = 2(y^2+x^2+1) + 4xy$$
$$[x = 1 - y]$$

Karena sebaran 180° -t sama dengan sebaran t, rumus sebaran rangkap tiga juga berlaku, jika satu sudut adalah jumlah atau selisih dari dua sudut lainnya.

Jadi kita dapat menemukan sebaran sudut yang digandakan. Perhatikan bahwa ada dua solusi lagi. Kita buat ini menjadi fungsi.

```
>$solve(triplespread(a,a,x),x), function doublespread(a) &= factor(rhs(%[1]))
```

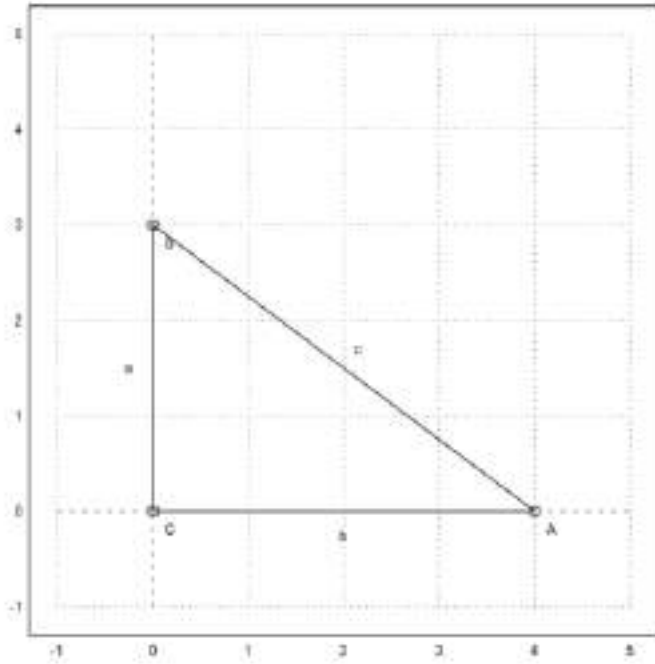
$$[x = 4a - 4a^2, x = 0]$$

$$- 4 (a - 1) a$$

Garis Bagi Sudut

Kita sudah tahu situasinya seperti ini.

```
>C&:=[0,0]; A&:=[4,0]; B&:=[0,3]; ...  
setPlotRange(-1,5,-1,5); ...  
plotPoint(A,"A"); plotPoint(B,"B"); plotPoint(C,"C"); ...  
plotSegment(B,A,"c"); plotSegment(A,C,"b"); plotSegment(C,B,"a"); ...  
insimg;
```



Mari kita hitung panjang garis bagi sudut di A. Namun, kita ingin menyelesaikannya untuk a,b,c umum.

```
>remvalue(a,b,c);
```

Jadi pertama-tama kita hitung sebaran sudut yang dibagi dua di A, menggunakan rumus sebaran rangkap tiga.

Masalah dengan rumus ini muncul lagi. Rumus ini memiliki dua solusi. Kita harus memilih yang benar. Solusi lainnya mengacu pada sudut yang dibagi dua 180°-wa.

```
>$triplespread(x,x,a/(a+b)), $solve(%,x), sa2 &= rhs(%[1]); $sa2
```

$$\left(2x + \frac{a}{b+a}\right)^2 = 2\left(2x^2 + \frac{a^2}{(b+a)^2}\right) + \frac{4ax^2}{b+a}$$

$$\left[x = \frac{-\sqrt{b}\sqrt{b+a} + b + a}{2b+2a}, x = \frac{\sqrt{b}\sqrt{b+a} + b + a}{2b+2a}\right]$$

$$\frac{-\sqrt{b}\sqrt{b+a} + b + a}{2b+2a}$$

Mari kita periksa persegi panjang Mesir.

```
>$sa2 with [a=3^2,b=4^2]
```

$$\frac{1}{10}$$

Kita dapat mencetak sudut dalam Euler, setelah mentransfer sebaran ke radian.

```
>wa2 := arcsin(sqrt(1/10)); degprint(wa2)
```

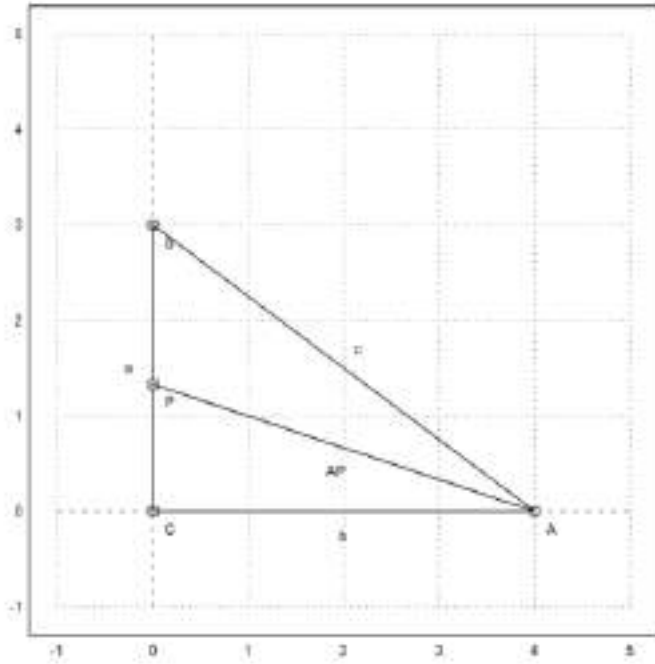
```
18°26'5.82''
```

Titik P merupakan perpotongan garis bagi sudut dengan sumbu y.

```
>P := [0,tan(wa2)*4]
```

```
[0, 1.33333]
```

```
>plotPoint(P,"P"); plotSegment(A,P):
```



Mari kita periksa sudut-sudut pada contoh spesifik kita.

```
>computeAngle(C,A,P) , computeAngle(P,A,B)
```

```
0.321750554397
0.321750554397
```

Sekarang kita hitung panjang garis bagi AP.

Kita gunakan teorema sinus dalam segitiga APC. Teorema ini menyatakan bahwa

$$\frac{BC}{\sin(\alpha)} = \frac{AC}{\sin(\beta)} = \frac{AP}{\sin(\theta)}$$

berlaku di sembarang segitiga. Kuadratkan, maka akan menghasilkan apa yang disebut "hukum sebaran"

$$\frac{a}{\sin A} = \frac{b}{\sin B} = \frac{c}{\sin C}$$

di mana a,b,c menunjukkan kuadran.

Karena CPA sebaran adalah 1-sa2, kita peroleh darinya bisa/1=b/(1-sa2) dan dapat menghitung bisa (kuadran garis bagi sudut).

```
>&factor(ratsimp(b/(1-sa2))); bisa &= %; $bisa
```

$$\frac{2b(b+a)}{\sqrt{b}\sqrt{b+a+b+a}}$$

Mari kita periksa rumus ini untuk nilai-nilai Mesir kita.

```
>sqrt(mxmeval("at(bisa,[a=3^2,b=4^2])"), distance(A,P))
```

```
4.21637021356
4.21637021356
```

Kita juga dapat menghitung P menggunakan rumus spread.

```
>py&=factor(ratsimp(sa2*bisa)); $py
```

$$\frac{b(\sqrt{b}\sqrt{b+a}-b-a)}{\sqrt{b}\sqrt{b+a+b+a}}$$

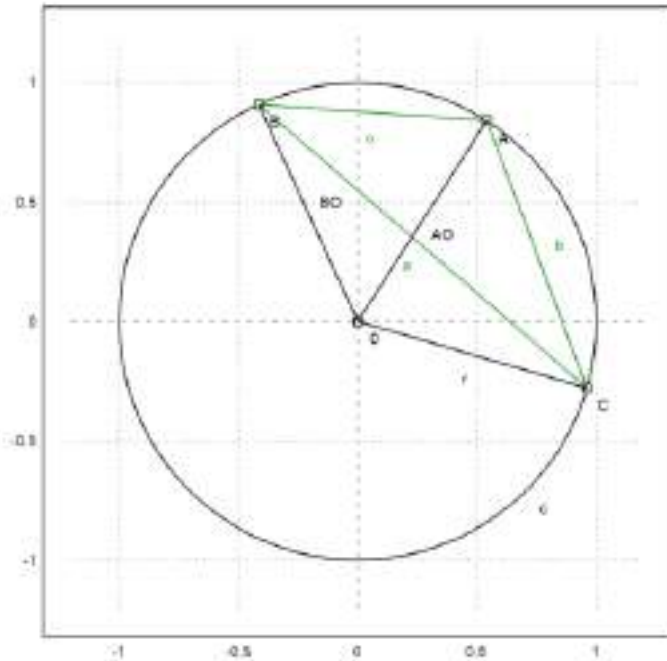
Nilainya sama dengan yang kita dapatkan dengan rumus trigonometri.

```
>sqrt(mxmeval("at(py,[a=3^2,b=4^2])"))
```


Sudut Tali Busur

Perhatikan situasi berikut.

```
>setPlotRange(1.2); ...
color(1); plotCircle(circleWithCenter([0,0],1)); ...
A:=[cos(1),sin(1)]; B:=[cos(2),sin(2)]; C:=[cos(6),sin(6)]; ...
plotPoint(A,"A"); plotPoint(B,"B"); plotPoint(C,"C"); ...
color(3); plotSegment(A,B,"c"); plotSegment(A,C,"b"); plotSegment(C,B,"a"); ...
color(1); O:=[0,0]; plotPoint(O,"O"); ...
plotSegment(A,O); plotSegment(B,O); plotSegment(C,O,"r"); ...
insimg;
```



Kita dapat menggunakan Maxima untuk memecahkan rumus penyebaran rangkap tiga untuk sudut-sudut di pusat O untuk r. Dengan demikian, kita memperoleh rumus untuk jari-jari kuadrat pericircle dalam bentuk kuadran sisi-sisinya.

Kali ini, Maxima menghasilkan beberapa nol kompleks, yang kita abaikan.

```
>remvalue(a,b,c,r); // hapus nilai-nilai sebelumnya untuk perhitungan baru
>rabc &= rhs(solve(triplespread(spread(b,r,r),spread(a,r,r),spread(c,r,r)),r)[4]); $rabc
```

$$\frac{abc}{c^2 - 2bc + a(-2c - 2b) + b^2 + a^2}$$

Kita dapat menjadikannya fungsi Euler.

```
>function periradius(a,b,c) &= rabc;
```

Mari kita periksa hasilnya untuk titik A, B, C.

```
>a:=quadrance(B,C); b:=quadrance(A,C); c:=quadrance(A,B);
```

Radiusnya memang 1.

```
>periradius(a,b,c)
```

1

Faktanya, sebaran CBA hanya bergantung pada b dan c. Ini adalah teorema sudut tali busur.

```
>$spread(b,a,c)*rabc | ratsimp
```

Faktanya, sebenarnya adalah $b/(4r)$, dan kita melihat bahwa sudut tali busur b adalah setengah sudut pusat.

```
>$doublespread(b/(4*r))-spread(b,r,r) | ratsimp
```


0

Contoh 6: Jarak Minimal pada Bidang

Catatan awal

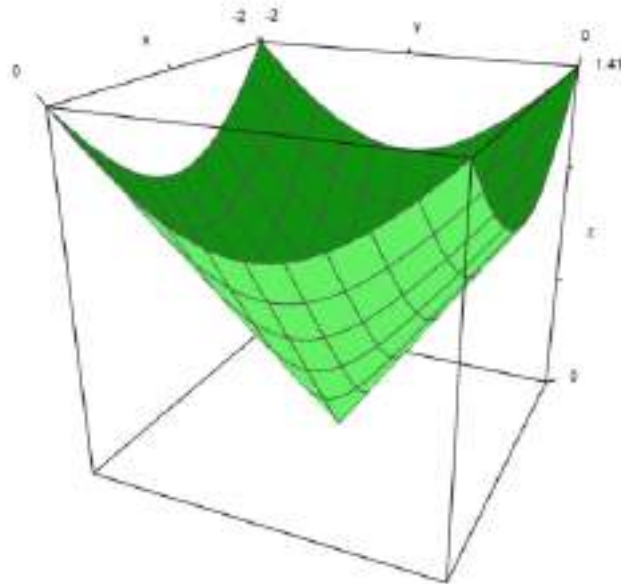
Fungsi yang, pada titik M di bidang, menetapkan jarak AM antara titik tetap A dan M , memiliki garis datar yang agak sederhana: lingkaran yang berpusat di A .

```
>&remvalue();  
>A=[-1,-1];  
>function d1(x,y):=sqrt((x-A[1])^2+(y-A[2])^2)  
>fcontour("d1",xmin=-2,xmax=0,ymin=-2,ymax=0,hue=1, ...  
title="If you see ellipses, please set your window square");
```



dan grafiknya cukup sederhana: bagian atas kerucut:

```
>plot3d("d1",xmin=-2,xmax=0,ymin=-2,ymax=0):
```

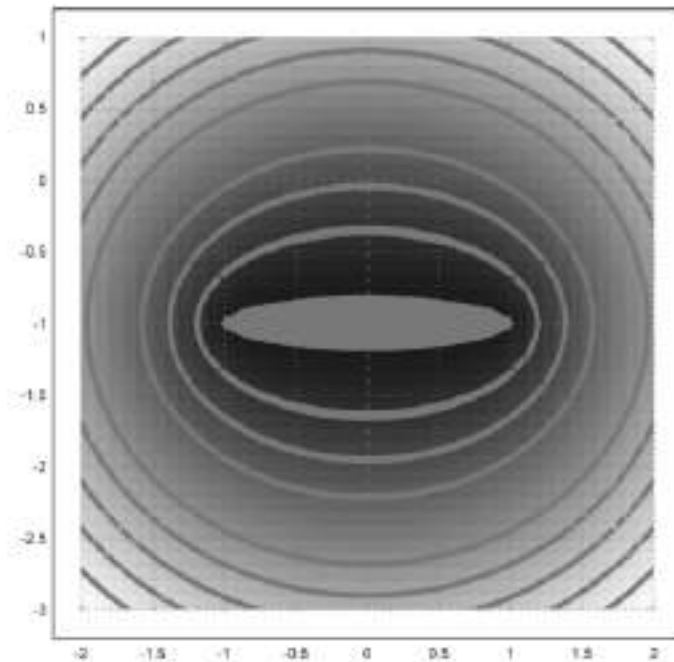


Tentu saja minimum 0 dicapai di A.

Dua titik

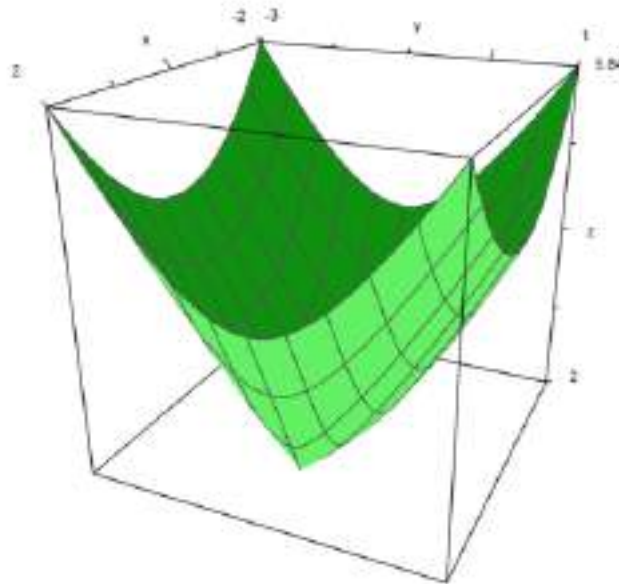
Sekarang kita lihat fungsi $MA+MB$ di mana A dan B adalah dua titik (tetap). Merupakan "fakta yang diketahui" bahwa kurva level adalah elips, titik fokusnya adalah A dan B; kecuali untuk minimum AB yang konstan pada segmen $[AB]$:

```
>B=[1, -1];
>function d2(x,y):=d1(x,y)+sqrt((x-B[1])^2+(y-B[2])^2)
>fcontour("d2",xmin=-2,xmax=2,ymin=-3,ymax=1,hue=1):
```



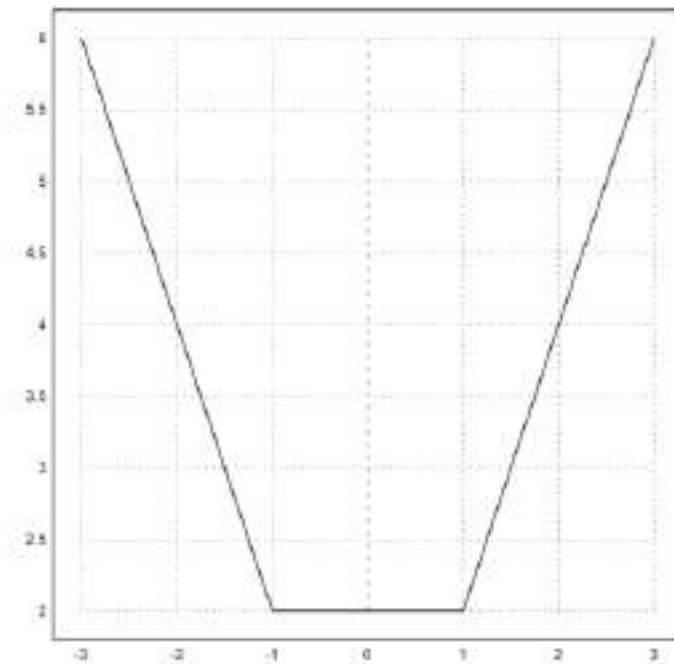
Grafiknya lebih menarik:

```
>plot3d("d2",xmin=-2,xmax=2,ymin=-3,ymax=1):
```



Pembatasan pada garis (AB) lebih terkenal:

```
>plot2d("abs(x+1)+abs(x-1)", xmin=-3, xmax=3):
```



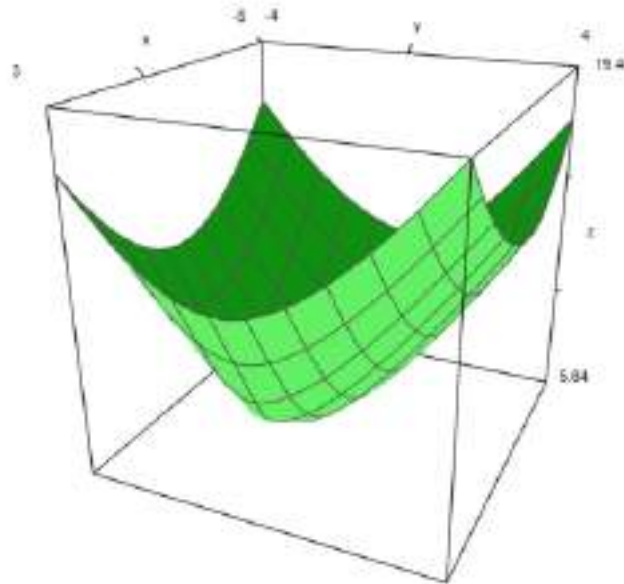
Tiga poin

Sekarang semuanya menjadi kurang sederhana: Tidak banyak yang tahu bahwa $MA+MB+MC$ mencapai nilai minimumnya di satu titik bidang, tetapi menentukannya tidaklah sesederhana itu:

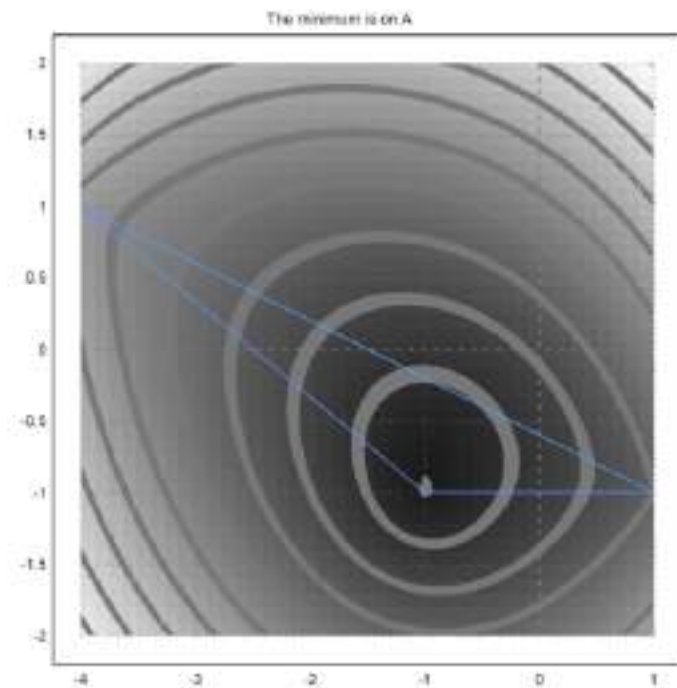
1) Jika salah satu sudut segitiga ABC lebih dari 120° (misalkan di A), maka nilai minimumnya tercapai di titik ini (misalkan $AB+AC$).

Contoh:

```
>C=[-4,1];
>function d3(x,y):=d2(x,y)+sqrt((x-C[1])^2+(y-C[2])^2)
>plot3d("d3", xmin=-5, xmax=3, ymin=-4, ymax=4);
>insimg;
```

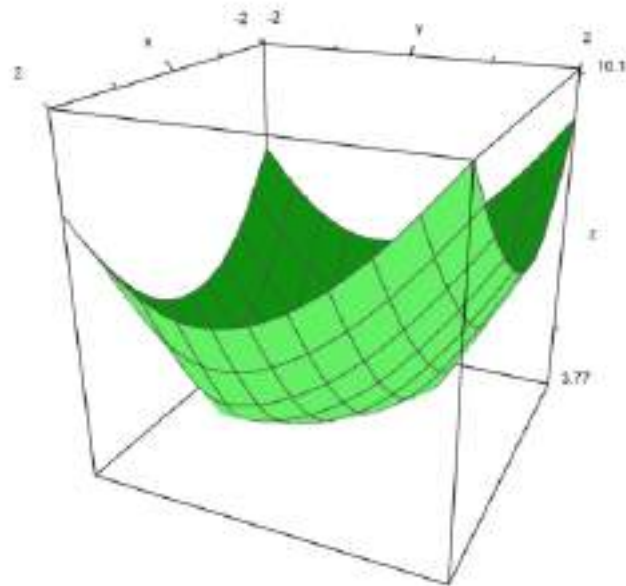


```
>fcontour("d3",xmin=-4,xmax=1,ymin=-2,ymax=2,hue=1,title="The minimum is on A");
>P=(A_B_C_A)'; plot2d(P[1],P[2],add=1,color=12);
>insimg;
```

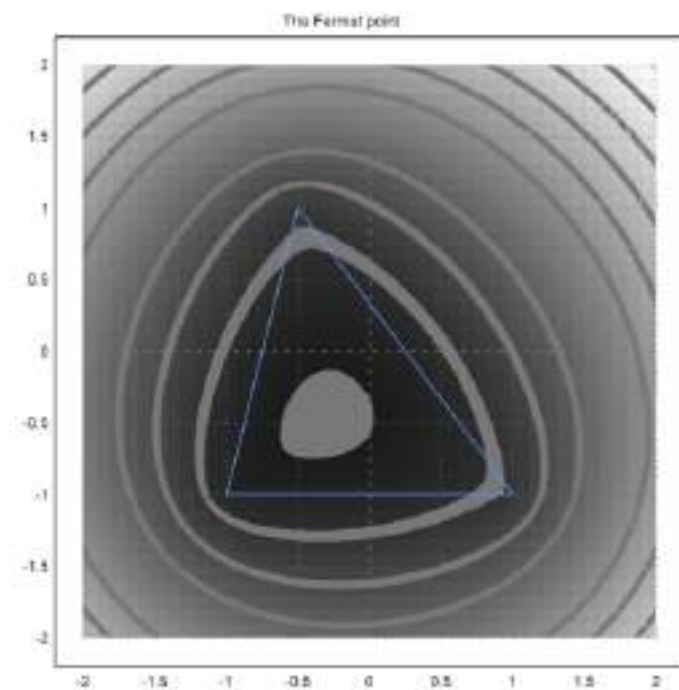


2) Namun jika semua sudut segitiga ABC kurang dari 120° , maka nilai minimumnya berada di titik F di bagian dalam segitiga, yang merupakan satu-satunya titik yang sudut-sudut sisi ABC-nya sama (masing-masing sudutnya 120°):

```
>C=[-0.5,1];
>plot3d("d3",xmin=-2,xmax=2,ymin=-2,ymax=2):
```



```
>fcontour("d3",xmin=-2,xmax=2,ymin=-2,ymax=2,hue=1,title="The Fermat point");
>P=(A_B_C_A)'; plot2d(P[1],P[2],add=1,color=12);
>insimg;
```



Merupakan aktivitas yang menarik untuk mewujudkan gambar di atas dengan perangkat lunak geometri; misalnya, saya mengetahui perangkat lunak yang ditulis dalam Java yang memiliki instruksi "garis kontur"...

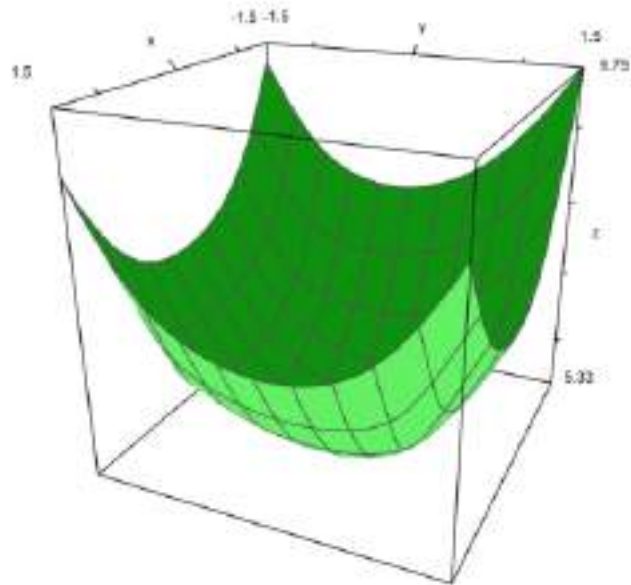
Semua ini ditemukan oleh seorang hakim Prancis bernama Pierre de Fermat; ia menulis surat kepada para diletan lain seperti pendeta Marin Mersenne dan Blaise Pascal yang bekerja di pajak penghasilan. Jadi titik unik F sehingga $FA+FB+FC$ minimal, disebut titik Fermat dari segitiga tersebut. Namun tampaknya beberapa tahun sebelumnya, Torricelli dari Italia telah menemukan titik ini sebelum Fermat menemukannya! Bagaimanapun tradisinya adalah mencatat titik F ini...

Empat titik

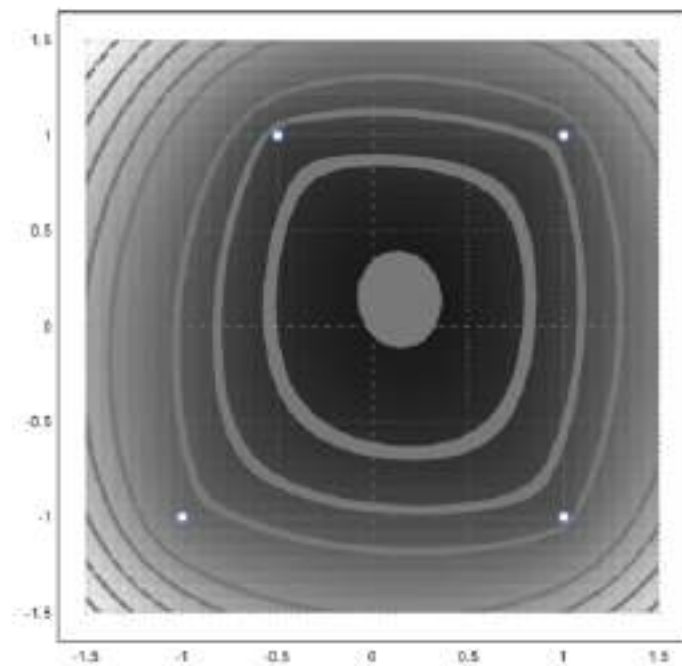
Langkah berikutnya adalah menambahkan titik ke-4 D dan mencoba meminimalkan $MA+MB+MC+MD$; katakanlah Anda adalah operator TV kabel dan ingin mencari di bidang mana Anda harus meletakkan antena Anda sehingga Anda dapat menyalurkan sinyal ke empat desa dan menggunakan panjang kabel sesedikit mungkin!

```
>D=[1,1];
>function d4(x,y):=d3(x,y)+sqrt((x-D[1])^2+(y-D[2])^2)
```

```
>plot3d("d4", xmin=-1.5, xmax=1.5, ymin=-1.5, ymax=1.5) :
```



```
>fcontour("d4", xmin=-1.5, xmax=1.5, ymin=-1.5, ymax=1.5, hue=1);  
>P=(A_B_C_D)'; plot2d(P[1],P[2],points=1,add=1,color=12);  
>insimg;
```



Masih terdapat nilai minimum dan tidak tercapai di titik A, B, C, maupun D:

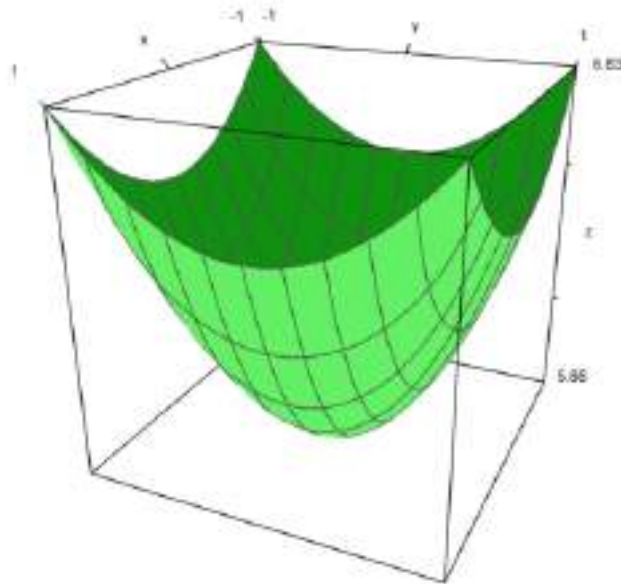
```
>function f(x):=d4(x[1],x[2])  
>neldermin("f", [0.2,0.2])
```

```
[0.142858, 0.142857]
```

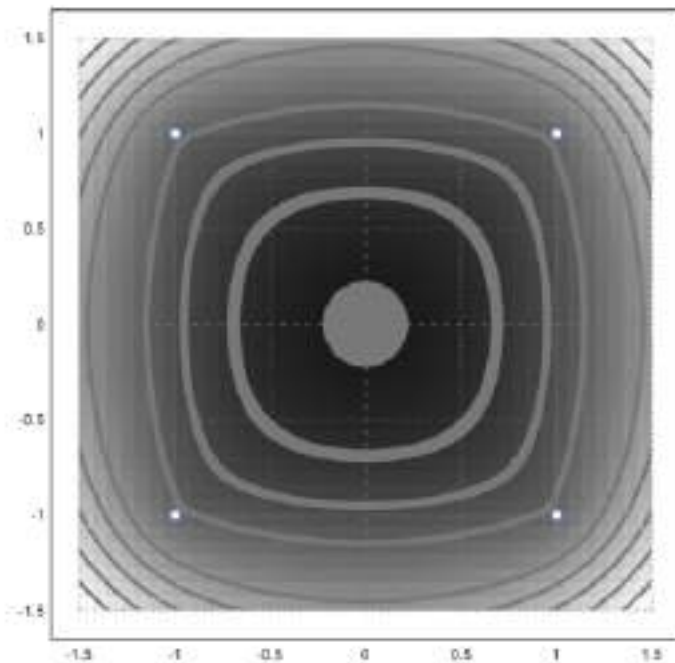
Tampaknya dalam kasus ini, koordinat titik optimal bersifat rasional atau mendekati rasional...

Sekarang ABCD adalah persegi, kita mengharapkan bahwa titik optimal akan menjadi pusat ABCD:

```
>C=[-1,1];  
>plot3d("d4", xmin=-1, xmax=1, ymin=-1, ymax=1) :
```



```
>fcontour("d4",xmin=-1.5,xmax=1.5,ymin=-1.5,ymax=1.5,hue=1);
>P=(A_B_C_D)'; plot2d(P[1],P[2],add=1,color=12,points=1);
>insimg;
```



Contoh 7: Bola Dandelin dengan Povray

Anda dapat menjalankan demonstrasi ini, jika Anda telah menginstal Povray, dan pviewer.exe di jalur program.

Pertama, kita hitung jari-jari bola.

Jika Anda melihat gambar di bawah, Anda melihat bahwa kita memerlukan dua lingkaran yang menyentuh dua garis yang membentuk kerucut, dan satu garis yang membentuk bidang yang memotong kerucut.

Kami menggunakan file geometry.e milik Euler untuk ini.

```
>load geometry;
```

Pertama dua garis membentuk kerucut.

```
>g1 &= lineThrough([0,0],[1,a])
```


$[-a, 1, 0]$

```
>g2 &= lineThrough([0,0],[-1,a])
```

$[-a, -1, 0]$

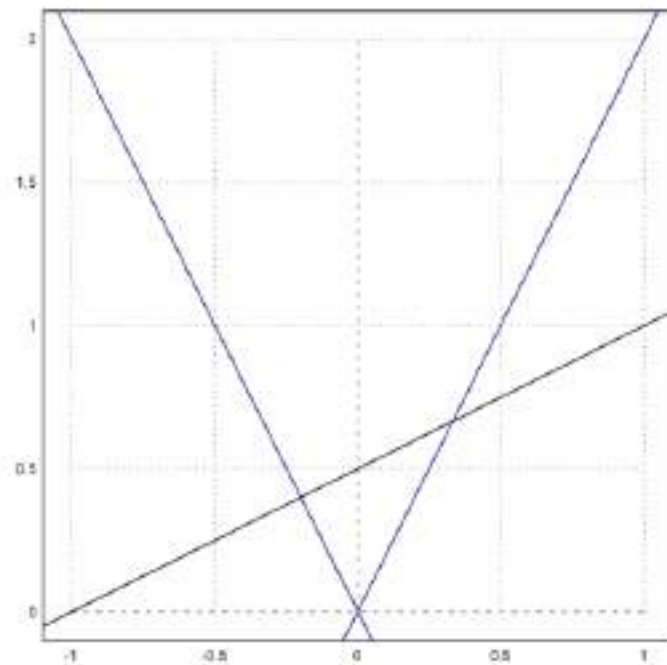
Lalu baris ketiga.

```
>g &= lineThrough([-1,0],[1,1])
```

$[-1, 2, 1]$

Kita merencanakan segalanya sejauh ini.

```
>setPlotRange(-1,1,0,2);  
>color(black); plotLine(g(),"")  
>a:=2; color(blue); plotLine(g1(),""), plotLine(g2(),""):
```



Sekarang kita ambil titik umum pada sumbu y.

```
>P &= [0,u]
```

$[0, u]$

Hitunglah jarak ke g1.

```
>d1 &= distance(P,projectToLine(P,g1)); $d1
```

$$\sqrt{\left(\frac{a^2 u}{a^2 + 1} - u\right)^2 + \frac{a^2 u^2}{(a^2 + 1)^2}}$$

Hitunglah jarak ke g.

```
>d &= distance(P,projectToLine(P,g)); $d
```

$$\sqrt{\left(\frac{u+2}{5} - u\right)^2 + \frac{(2u-1)^2}{25}}$$

Dan temukan pusat kedua lingkaran, yang jaraknya sama.

```
>sol &= solve(d1^2=d^2,u); $sol
```

$$\left[u = \frac{-\sqrt{5}\sqrt{a^2+1}+2a^2+2}{4a^2-1}, u = \frac{\sqrt{5}\sqrt{a^2+1}+2a^2+2}{4a^2-1} \right]$$

Ada dua solusi.

Kita mengevaluasi solusi simbolik, dan menemukan kedua pusat, dan kedua jarak.

```
>u := sol()
```

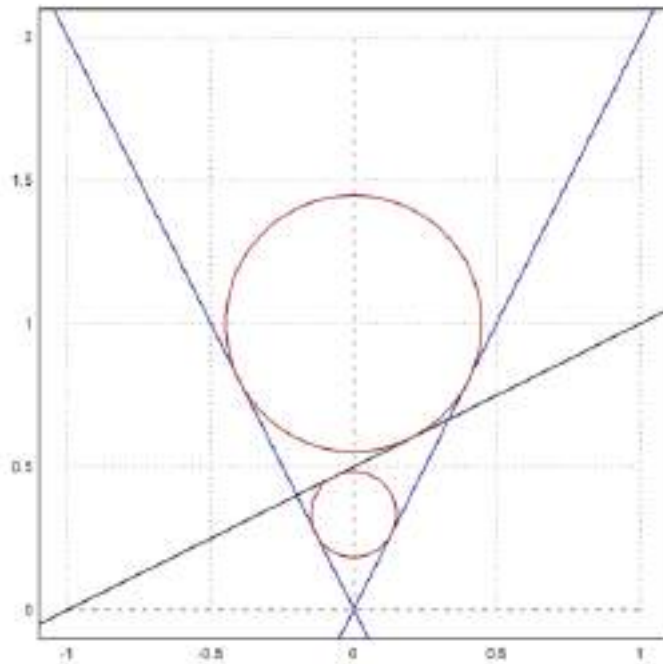
```
[0.333333, 1]
```

```
>dd := d()
```

```
[0.149071, 0.447214]
```

Gambarkan lingkaran-lingkaran tersebut ke dalam gambar.

```
>color(red);  
>plotCircle(circleWithCenter([0,u[1]],dd[1]),"");  
>plotCircle(circleWithCenter([0,u[2]],dd[2]),"");  
>insimg;
```



Plot dengan Povray

Selanjutnya kita plot semuanya dengan Povray. Perhatikan bahwa Anda mengubah perintah apa pun dalam urutan perintah Povray berikut, dan menjalankan kembali semua perintah dengan Shift-Return.

Pertama-tama kita memuat fungsi povray.

```
>load povray;  
>defaultpovray="C:\Program Files\POV-Ray\v3.7\bin\pvengine.exe"
```

```
C:\Program Files\POV-Ray\v3.7\bin\pvengine.exe
```

Kami menyiapkan suasananya dengan tepat.

```
>povstart(zoom=11,center=[0,0,0.5],height=10°,angle=140°);
```

Berikutnya kita menulis kedua bola itu ke dalam file Povray.

```
>writeln(povsphere([0,0,u[1]],dd[1],povlook(red)));
```

```
u is not a variable!  
Error in:  
writeln(povsphere([0,0,u[1]],dd[1],povlook(red))); ...  
      ^
```

```
>writeln(povsphere([0,0,u[2]],dd[2],povlook(red)));
```

```
u is not a variable!  
Error in:  
writeln(povsphere([0,0,u[2]],dd[2],povlook(red))); ...  
      ^
```

Dan kerucutnya, transparan.

```
>writeln(povcone([0,0,0],0,[0,0,a],1,povlook(lightgray,1)));
```

Kita buat bidang yang dibatasi pada kerucut.

```
>gp=g();  
>pc=povcone([0,0,0],0,[0,0,a],1,"");  
>vp=[gp[1],0,gp[2]]; dp=gp[3];  
>writeln(povplane(vp,dp,povlook(blue,0.5),pc));
```

Sekarang kita buat dua titik pada lingkaran, di mana bola menyentuh kerucut.

```
>function turnz(v) := return [-v[2],v[1],v[3]]  
>P1=projectToLine([0,u[1]],g1()); P1=turnz([P1[1],0,P1[2]]);  
>writeln(povpoint(P1,povlook(yellow)));  
>P2=projectToLine([0,u[2]],g1()); P2=turnz([P2[1],0,P2[2]]);  
>writeln(povpoint(P2,povlook(yellow)));
```

Kemudian kita buat dua titik tempat bola-bola tersebut menyentuh bidang. Titik-titik ini adalah fokus elips.

```
>P3=projectToLine([0,u[1]],g()); P3=[P3[1],0,P3[2]];  
>writeln(povpoint(P3,povlook(yellow)));  
>P4=projectToLine([0,u[2]],g()); P4=[P4[1],0,P4[2]];  
>writeln(povpoint(P4,povlook(yellow)));
```

Berikutnya kita hitung perpotongan P1P2 dengan bidang.

```
>t1=scalp(vp,P1)-dp; t2=scalp(vp,P2)-dp; P5=P1+t1/(t1-t2)*(P2-P1);  
>writeln(povpoint(P5,povlook(yellow)));
```

Kita menghubungkan titik-titik dengan segmen garis.

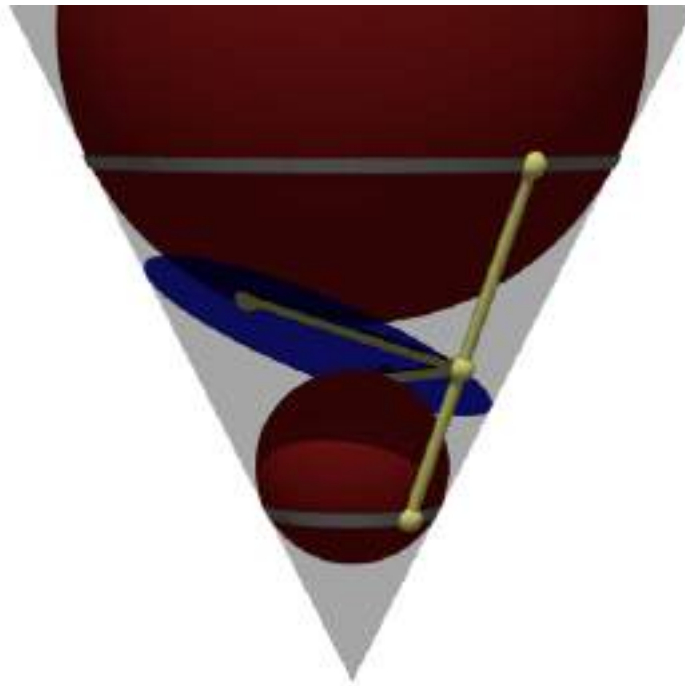
```
>writeln(povsegment(P1,P2,povlook(yellow)));  
>writeln(povsegment(P5,P3,povlook(yellow)));  
>writeln(povsegment(P5,P4,povlook(yellow)));
```

Sekarang kita buat pita abu-abu, di mana bola-bola menyentuh kerucut.

```
>pcw=povcone([0,0,0],0,[0,0,a],1.01);  
>pc1=povcylinder([0,0,P1[3]-defaultpointsize/2],[0,0,P1[3]+defaultpointsize/2],1);  
>writeln(povintersection([pcw,pc1],povlook(gray)));  
>pc2=povcylinder([0,0,P2[3]-defaultpointsize/2],[0,0,P2[3]+defaultpointsize/2],1);  
>writeln(povintersection([pcw,pc2],povlook(gray)));
```

Mulai program Povray.

```
>povend();
```

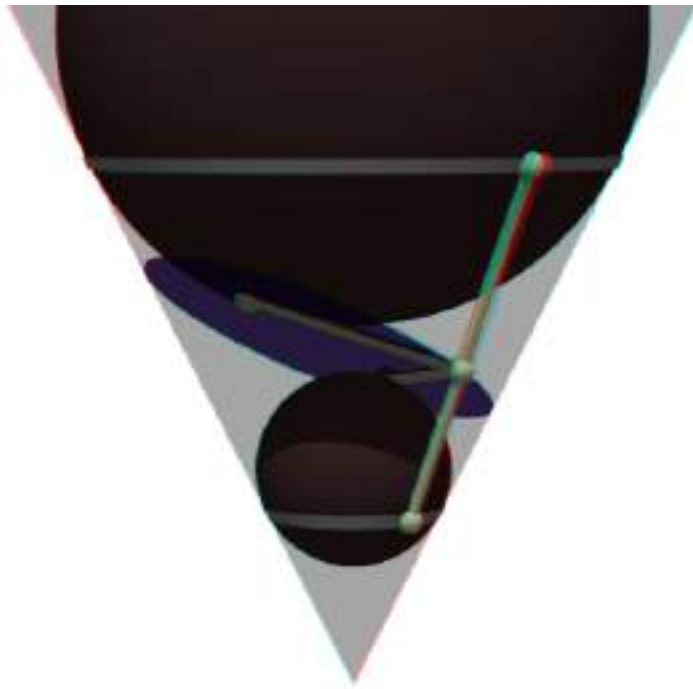


Untuk mendapatkan Anaglyph ini, kita perlu memasukkan semuanya ke dalam fungsi scene. Fungsi ini akan digunakan dua kali nanti.

```
>function scene () ...
global a,u,dd,g,g1,defaultpointsize;
writeln(povsphere([0,0,u[1]],dd[1],povlook(red)));
writeln(povsphere([0,0,u[2]],dd[2],povlook(red)));
writeln(povcone([0,0,0],0,[0,0,a],1,povlook(lightgray,1)));
gp=g();
pc=povcone([0,0,0],0,[0,0,a],1,"");
vp=[gp[1],0,gp[2]]; dp=gp[3];
writeln(povplane(vp,dp,povlook(blue,0.5),pc));
P1=projectToLine([0,u[1]],g1()); P1=turnz([P1[1],0,P1[2]]);
writeln(povpoint(P1,povlook(yellow)));
P2=projectToLine([0,u[2]],g1()); P2=turnz([P2[1],0,P2[2]]);
writeln(povpoint(P2,povlook(yellow)));
P3=projectToLine([0,u[1]],g()); P3=[P3[1],0,P3[2]];
writeln(povpoint(P3,povlook(yellow)));
P4=projectToLine([0,u[2]],g()); P4=[P4[1],0,P4[2]];
writeln(povpoint(P4,povlook(yellow)));
t1=scalp(vp,P1)-dp; t2=scalp(vp,P2)-dp; P5=P1+t1/(t1-t2)*(P2-P1);
writeln(povpoint(P5,povlook(yellow)));
writeln(povsegment(P1,P2,povlook(yellow)));
writeln(povsegment(P5,P3,povlook(yellow)));
writeln(povsegment(P5,P4,povlook(yellow)));
pcw=povcone([0,0,0],0,[0,0,a],1.01);
pcl=povcylinder([0,0,P1[3]-defaultpointsize/2],[0,0,P1[3]+defaultpointsize/2],1);
writeln(povintersection([pcw,pcl],povlook(gray)));
pc2=povcylinder([0,0,P2[3]-defaultpointsize/2],[0,0,P2[3]+defaultpointsize/2],1);
writeln(povintersection([pcw,pc2],povlook(gray)));
endfunction
```

Anda memerlukan kacamata merah/cyan untuk menghargai efek berikut.

```
>povanaglyph("scene",zoom=11,center=[0,0,0.5],height=10°,angle=140°);
```



Contoh 8: Geometri Bumi

Dalam buku catatan ini, kami ingin melakukan beberapa perhitungan sferis. Fungsi-fungsi tersebut terdapat dalam berkas "spherical.e" di folder contoh. Kami perlu memuat berkas tersebut terlebih dahulu.

```
>load "spherical.e";
```

Untuk memasukkan posisi geografis, kami menggunakan vektor dengan dua koordinat dalam radian (utara dan timur, nilai negatif untuk selatan dan barat). Berikut ini adalah koordinat untuk Kampus FMIPA UNY.

```
>FMIPA=[rad(-7,-46.467),rad(110,23.05)]
```

```
[-0.13569, 1.92657]
```

Anda dapat mencetak posisi ini dengan sposprint (cetak posisi bulat).

```
>sposprint(FMIPA) // posisi garis lintang dan garis bujur FMIPA UNY
```

```
S 7°46.467' E 110°23.050'
```

Mari kita tambahkan dua kota lagi, Solo dan Semarang.

```
>Solo=[rad(-7,-34.333),rad(110,49.683)]; Semarang=[rad(-6,-59.05),rad(110,24.533)];
>sposprint(Solo), sposprint(Semarang),
```

```
S 7°34.333' E 110°49.683'
S 6°59.050' E 110°24.533'
```

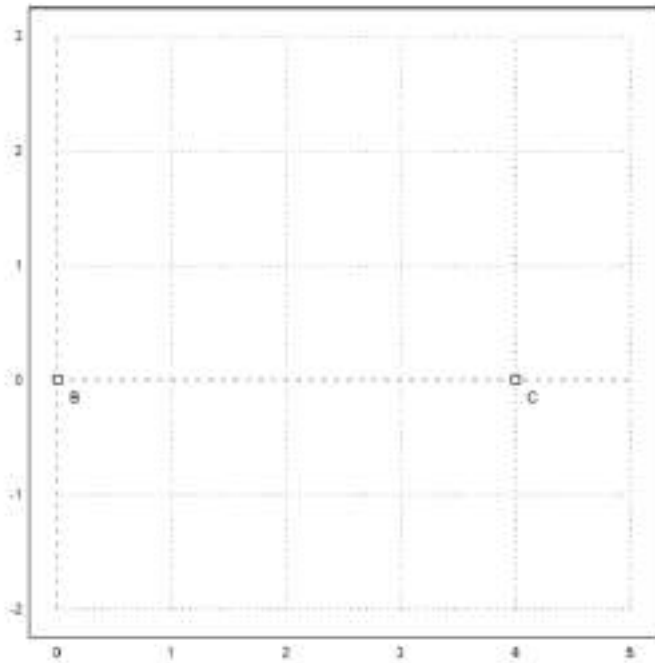
Pertama, kita hitung vektor dari satu ke yang lain pada bola ideal. Vektor ini adalah [arah, jarak] dalam radian. Untuk menghitung jarak di bumi, kita kalikan dengan jari-jari bumi pada garis lintang 7° .

```
>br=svector(FMIPA,Solo); degprint(br[1], br[2]*rearth(7°)->km // perkiraan jarak FMIPA-Solo
```

```
65°20'26.60''
53.8945384608
```

Ini adalah perkiraan yang bagus. Rutin berikut menggunakan perkiraan yang lebih baik lagi. Pada jarak yang pendek, hasilnya hampir sama.

```
>esdist(FMIPA,Semarang)->" km": // perkiraan jarak FMIPA-Semarang
```



Ada fungsi untuk judul, yang memperhitungkan bentuk elips bumi. Sekali lagi, kami mencetak dengan cara yang canggih.

```
>sdegprint(esdir(FMIPA,Solo))
```

65.34°

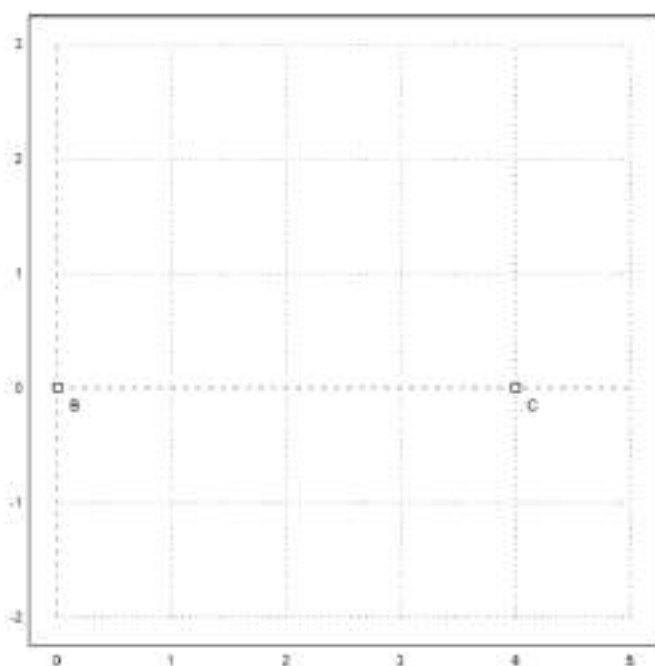
Sudut suatu segitiga melebihi 180° pada bola.

```
>asum=sangle(Solo,FMIPA,Semarang)+sangle(FMIPA,Solo,Semarang)+sangle(FMIPA,Semarang,Solo); degprint(
```

180°0'10.77''

Ini dapat digunakan untuk menghitung luas segitiga. Catatan: Untuk segitiga kecil, ini tidak akurat karena kesalahan pengurangan dalam asum-pi.

```
>(asum-pi)*rearth(48°)^2->" km^2": // perkiraan luas segitiga FMIPA-Solo-Semarang
```



Ada fungsi untuk ini, yang menggunakan lintang rata-rata segitiga untuk menghitung jari-jari bumi, dan menangani kesalahan pembulatan untuk segitiga yang sangat kecil.

```
>esarea(Solo,FMIPA,Semarang)->" km^2", //perkiraan yang sama dengan fungsi esarea()
```

```
2123.64310526 km^2
```

Kita juga dapat menambahkan vektor ke posisi. Vektor berisi arah dan jarak, keduanya dalam radian. Untuk mendapatkan vektor, kita menggunakan `svector`. Untuk menambahkan vektor ke posisi, kita menggunakan `saddvector`.

```
>v=svector(FMIPA,Solo); sposprint(saddvector(FMIPA,v)), sposprint(Solo),
```

```
S 7°34.333' E 110°49.683'  
S 7°34.333' E 110°49.683'
```

Fungsi-fungsi ini mengasumsikan bentuk bola yang ideal. Sama halnya di bumi.

```
>sposprint(esadd(FMIPA,esdir(FMIPA,Solo),esdist(FMIPA,Solo))), sposprint(Solo),
```

```
S 7°34.333' E 110°49.683'  
S 7°34.333' E 110°49.683'
```

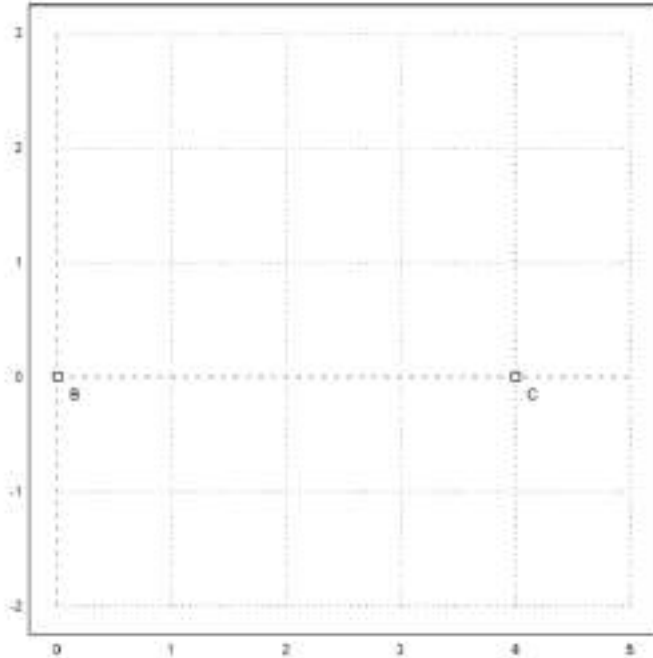
Mari kita lihat contoh yang lebih besar, Tugu Jogja dan Monas Jakarta (menggunakan Google Earth untuk mencari koordinatnya).

```
>Tugu=[-7.7833°,110.3661°]; Monas=[-6.175°,106.811944°];  
>sposprint(Tugu), sposprint(Monas)
```

```
S 7°46.998' E 110°21.966'  
S 6°10.500' E 106°48.717'
```

Menurut Google Earth, jaraknya adalah 429,66 km. Kami memperoleh perkiraan yang baik.

```
>esdist(Tugu,Monas)->" km": // perkiraan jarak Tugu Jogja - Monas Jakarta
```



Judulnya sama dengan yang dihitung di Google Earth.

```
>degprint(esdir(Tugu,Monas))
```

```
294°17'2.85''
```

Akan tetapi, kita tidak lagi memperoleh posisi target yang tepat, jika kita menambahkan arah dan jarak ke posisi awal. Hal ini terjadi karena kita tidak menghitung fungsi invers secara tepat, tetapi mengambil perkiraan radius bumi di sepanjang lintasan.

```
>sposprint(esadd(Tugu,esdir(Tugu,Monas),esdist(Tugu,Monas)))
```

```
S 6°10.500' E 106°48.717'
```

Namun, kesalahannya tidak besar.

```
>sposprint(Monas),
```

```
S 6°10.500' E 106°48.717'
```

Tentu saja, kita tidak dapat berlayar dengan arah yang sama dari satu tujuan ke tujuan lain, jika kita ingin mengambil jalur terpendek. Bayangkan, Anda terbang ke arah timur laut mulai dari titik mana pun di bumi. Kemudian Anda akan berputar ke kutub utara. Lingkaran besar tidak mengikuti arah yang konstan!

Perhitungan berikut menunjukkan bahwa kita jauh dari tujuan yang benar, jika kita menggunakan arah yang sama selama perjalanan kita.

```
>dist=esdist(Tugu,Monas); hd=esdir(Tugu,Monas);
```

Sekarang kita tambahkan 10 dikalikan sepersepuluh jaraknya, dengan memakai arah ke Monas, kita sampai di Tugu.

```
>p=Tugu; loop 1 to 10; p=esadd(p,hd,dist/10); end;
```

Hasilnya sangat jauh.

```
>sposprint(p), skmprint(esdist(p,Monas))
```

```
S 6°11.250' E 106°48.372'  
1.529km
```

Sebagai contoh lain, mari kita ambil dua titik di bumi pada garis lintang yang sama.

```
>P1=[30°,10°]; P2=[30°,50°];
```

Lintasan terpendek dari P1 ke P2 bukanlah lingkaran lintang 30°, tetapi lintasan yang lebih pendek yang dimulai 10° lebih jauh ke utara di P1.

```
>sdegprint(esdir(P1,P2))
```

```
79.69°
```

Namun, jika kita mengikuti pembacaan kompas ini, kita akan berputar ke kutub utara! Jadi kita harus menyesuaikan arah kita di sepanjang jalan. Untuk tujuan kasar, kita menyesuaikannya pada 1/10 dari total jarak.

```
>p=P1; dist=esdist(P1,P2); ...  
loop 1 to 10; dir=esdir(p,P2); sdegprint(dir), p=esadd(p,dir,dist/10); end;
```

```
79.69°  
81.67°  
83.71°  
85.78°  
87.89°  
90.00°  
92.12°  
94.22°  
96.29°  
98.33°
```

Jaraknya tidak tepat, karena kita akan menambahkan sedikit kesalahan, jika kita mengikuti arah yang sama terlalu lama.

```
>skmprint(esdist(p,P2))
```

```
0.203km
```

Kita memperoleh perkiraan yang baik, jika kita menyesuaikan arah setelah setiap 1/100 jarak total dari Tugu ke Monas.


```
>p=Tugu; dist=esdist(Tugu,Monas); ...
  loop 1 to 100; p=esadd(p,esdir(p,Monas),dist/100); end;
>skmprnt(esdist(p,Monas))
```

0.000km

Untuk keperluan navigasi, kita bisa mendapatkan urutan posisi GPS sepanjang lingkaran besar menuju Monas dengan fungsi navigasi.

```
>load spherical; v=navigate(Tugu,Monas,10); ...
  loop 1 to rows(v); sposprint(v[#]), end;
```

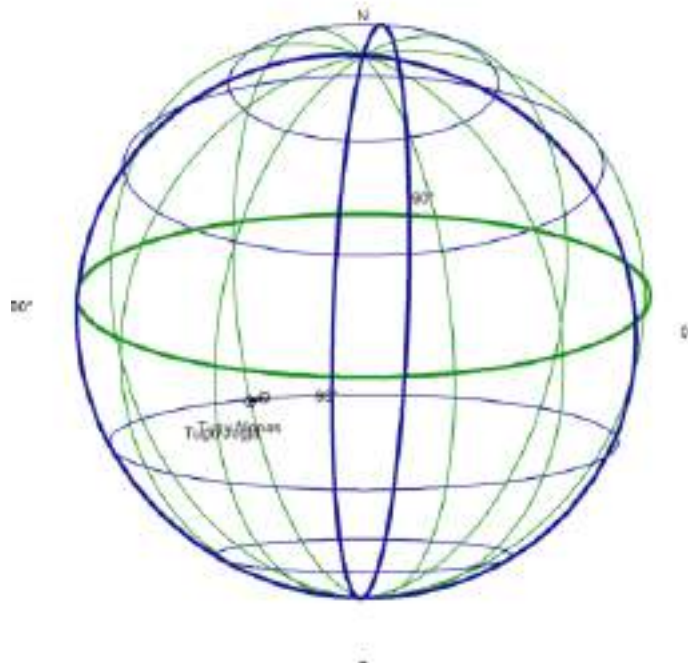
```
S 7°46.998' E 110°21.966'
S 7°37.422' E 110°0.573'
S 7°27.829' E 109°39.196'
S 7°18.219' E 109°17.834'
S 7°8.592' E 108°56.488'
S 6°58.948' E 108°35.157'
S 6°49.289' E 108°13.841'
S 6°39.614' E 107°52.539'
S 6°29.924' E 107°31.251'
S 6°20.219' E 107°9.977'
S 6°10.500' E 106°48.717'
```

Kita menulis suatu fungsi yang memplot bumi, dua posisi, dan posisi di antaranya.

```
>function testplot ...
  useglobal;
  plotearth;
  plotpos(Tugu,"Tugu Jogja"); plotpos(Monas,"Tugu Monas");
  plotposline(v);
endfunction
```

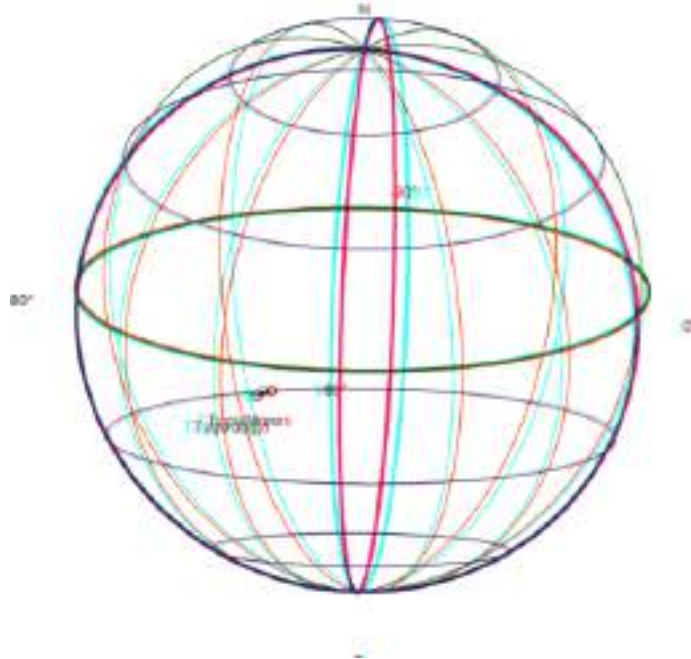
Sekarang rencanakan semuanya.

```
>plot3d("testplot",angle=25, height=6,>own,>user, zoom=4) :
```



Atau gunakan plot3d untuk mendapatkan tampilan anaglifnya. Ini tampak sangat bagus dengan kaca mata merah/biru kehijauan.

```
>plot3d("testplot",angle=25,height=6,distance=5,own=1,anaglyph=1, zoom=4) :
```



Latihan

1. Gambarkan segi-n beraturan jika diketahui titik pusat O , n , dan jarak titik pusat ke titik-titik sudut segi-n tersebut (jari-jari lingkaran luar segi-n), r .

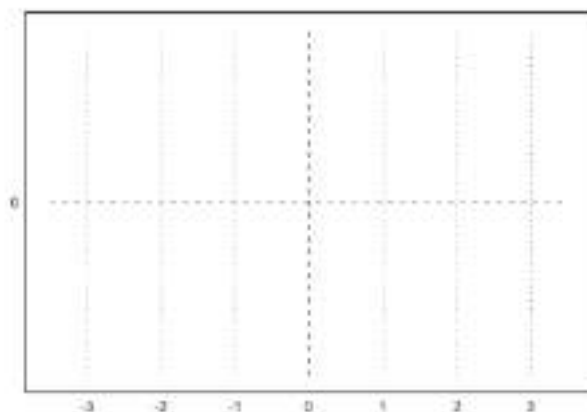
Petunjuk:

- Besar sudut pusat yang menghadap masing-masing sisi segi-n adalah $(360/n)$.
- Titik-titik sudut segi-n merupakan perpotongan lingkaran luar segi-n dan garis-garis yang melalui pusat dan saling membentuk sudut sebesar kelipatan $(360/n)$.
- Untuk n ganjil, pilih salah satu titik sudut adalah di atas.
- Untuk n genap, pilih 2 titik di kanan dan kiri lurus dengan titik pusat.
- Anda dapat menggambar segi-3, 4, 5, 6, 7, dst beraturan.

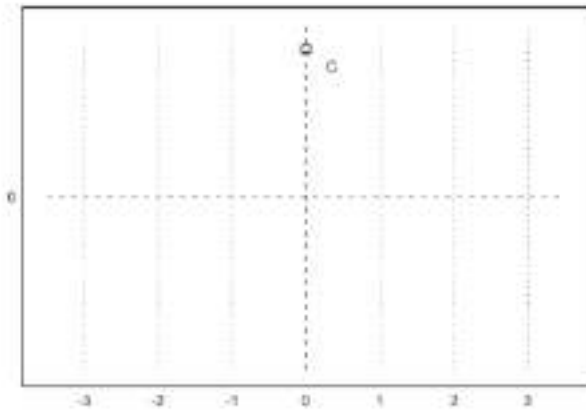
```
>load geometry
```

```
Numerical and symbolic geometry.
```

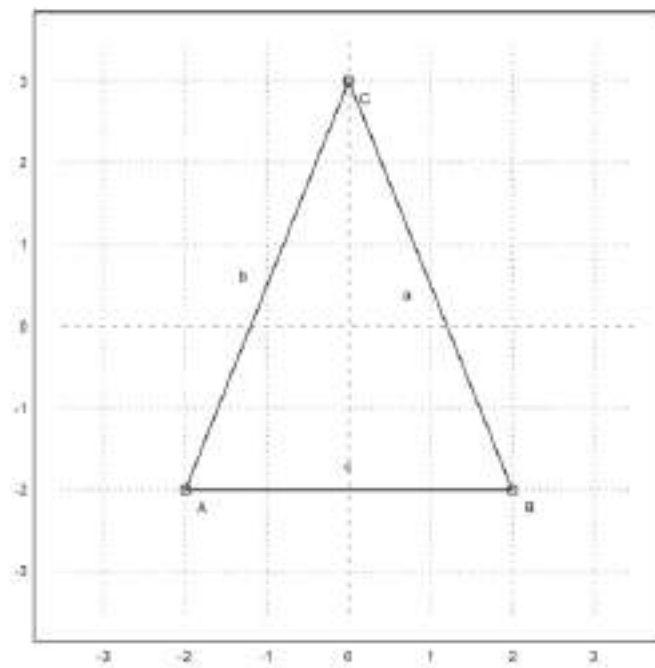
```
>setPlotRange(-3.5,3.5,-3.5,3.5):
```



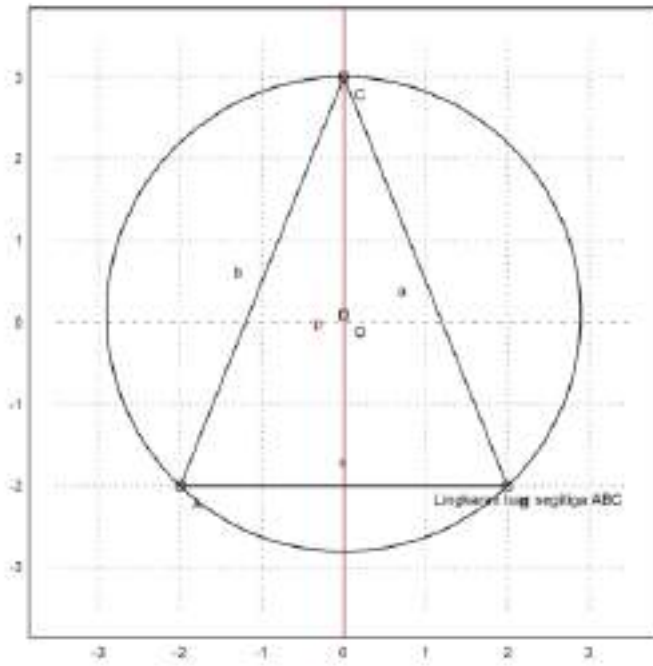
```
>A=[-2,-2]; plotPoint(A,"A");
>B=[2,-2]; plotPoint(B,"B");
>C=[0,3]; plotPoint(C,"C");
```



```
>plotSegment(A,B,"c");
>plotSegment(B,C,"a");
>plotSegment(A,C,"b");
>aspect(1):
```



```
>c=circleThrough(A,B,C);
>R=getCircleRadius(c);
>O=getCircleCenter(c);
>plotPoint(O,"O");
>l=angleBisector(A,C,B);
>color(2); plotLine(l); color(1);
>plotCircle(c,"Lingkaran luar segitiga ABC");
```



2. Gambarlah suatu parabola yang melalui 3 titik yang diketahui.

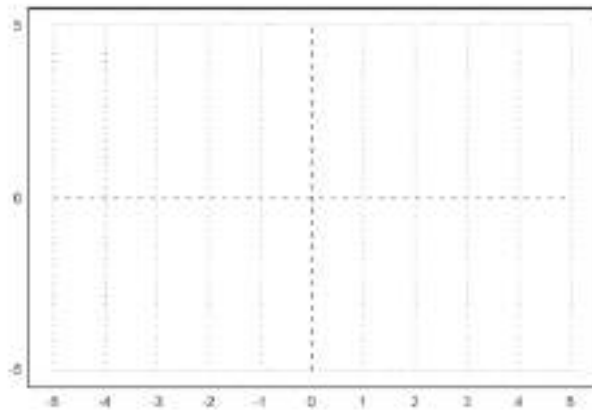
Petunjuk:

- Misalkan persamaan parabolanya $y = ax^2 + bx + c$.
- Substitusikan koordinat titik-titik yang diketahui ke persamaan tersebut.
- Selesaikan SPL yang terbentuk untuk mendapatkan nilai-nilai a , b , c .

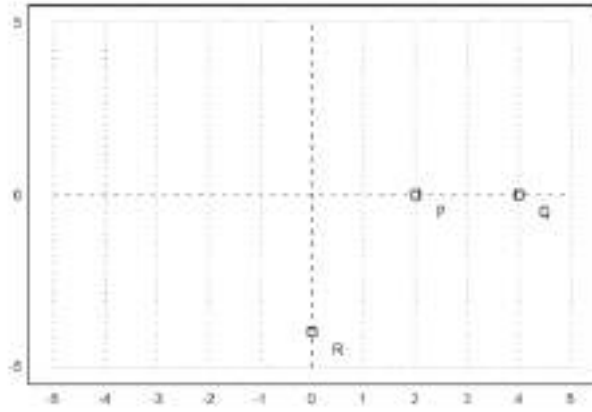
```
>load geometry
```

```
Numerical and symbolic geometry.
```

```
>setPlotRange(5); P=[2,0]; Q=[4,0]; R=[0,-4]:
```



```
>plotPoint(P,"P"); plotPoint(Q,"Q"); plotPoint(R,"R"):
```



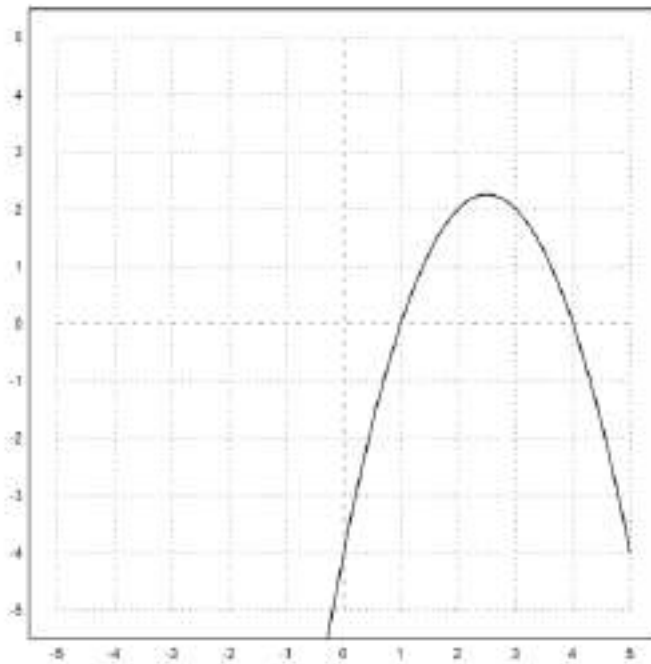
```
>sol &= solve([a+b=-c,16*a+4*b=-c,c=-4],[a,b,c])
```

```
[]
```

```
>function y&=-x^2+5*x-4
```

$$-x^2 + 5x - 4$$

```
>plot2d("-x^2+5*x-4",-5,5,-5,5):
```

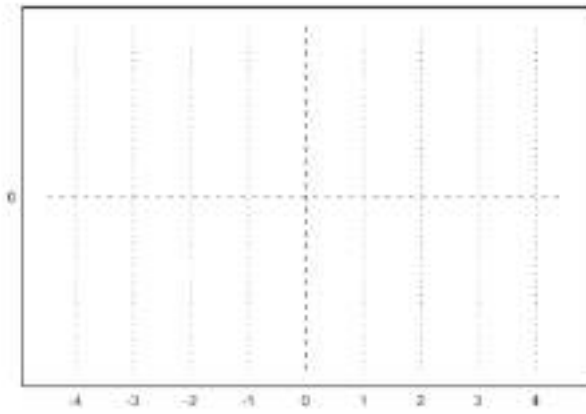


3. Gambarlah suatu segi-4 yang diketahui keempat titik sudutnya, misalnya A, B, C, D.
- Tentukan apakah segi-4 tersebut merupakan segi-4 garis singgung (sisinya-sisinya merupakan garis singgung lingkaran yang sama yakni lingkaran dalam segi-4 tersebut).
 - Suatu segi-4 merupakan segi-4 garis singgung apabila keempat garis bagi sudutnya bertemu di satu titik.
 - Jika segi-4 tersebut merupakan segi-4 garis singgung, gambar lingkaran dalamnya.
 - Tunjukkan bahwa syarat suatu segi-4 merupakan segi-4 garis singgung apabila hasil kali panjang sisi-sisi yang berhadapan sama.

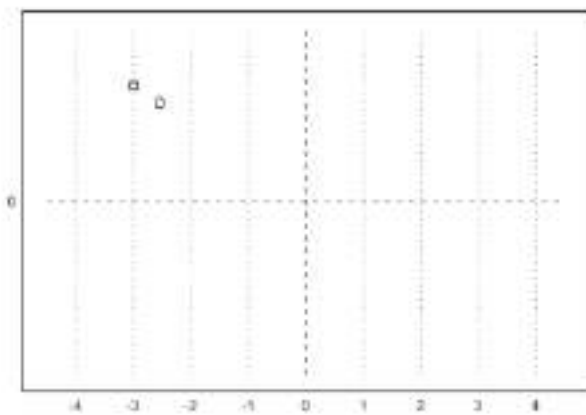
```
>load geometry
```

```
Numerical and symbolic geometry.
```

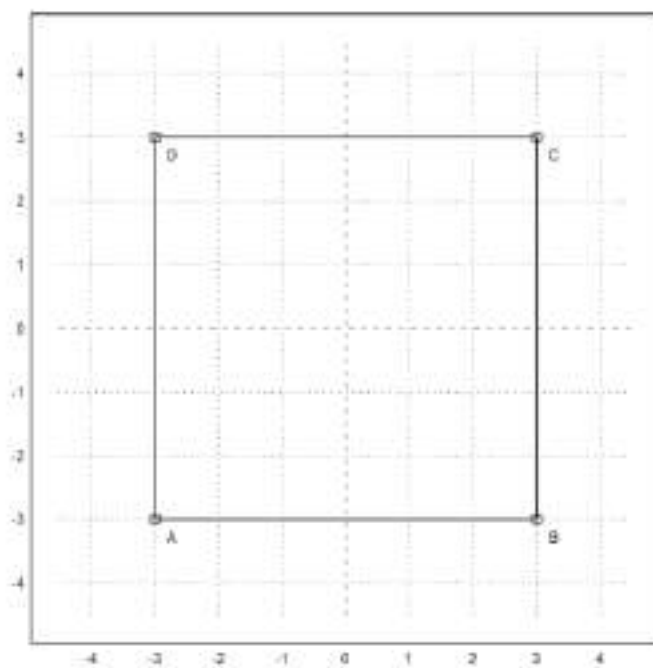
```
>setPlotRange(-4.5,4.5,-4.5,4.5):
```



```
>A=[-3,-3]; plotPoint(A,"A");
>B=[3,-3]; plotPoint(B,"B");
>C=[3,3]; plotPoint(C,"C");
>D=[-3,3]; plotPoint(D,"D"):
```

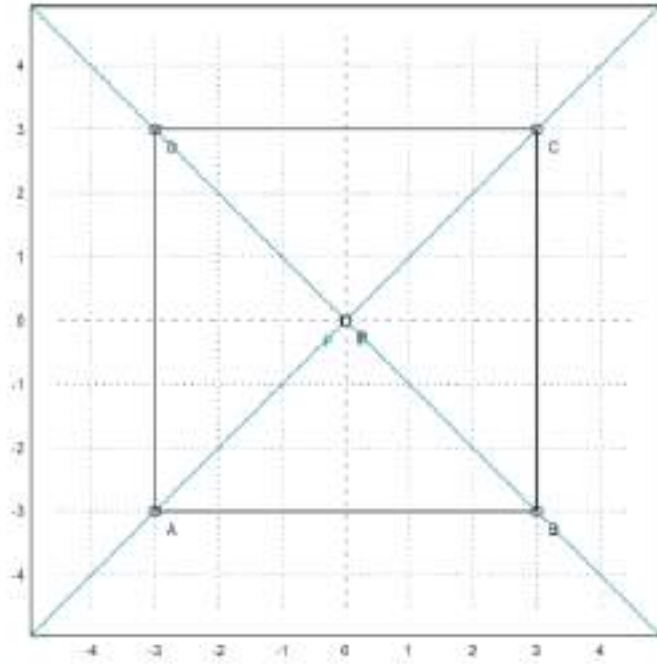


```
>plotSegment(A,B,"");
>plotSegment(B,C,"");
>plotSegment(C,D,"");
>plotSegment(A,D,"");
>aspect(1):
```



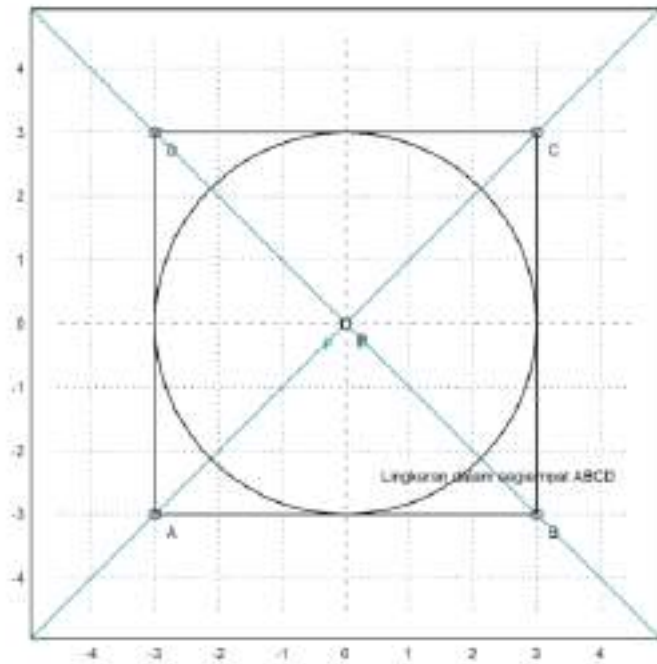
```
>l=angleBisector(A,B,C);
>m=angleBisector(B,C,D);
>P=lineIntersection(l,m);
```

```
>color(5); plotLine(l); plotLine(m); color(1);
>plotPoint(P,"P"):
```



Dari gambar diatas terlihat bahwa keempat garis bagi sudutnya bertemu di satu titik yaitu titik P

```
>r=norm(P-projectToLine(P,lineThrough(A,B)));
>plotCircle(circleWithCenter(P,r),"Lingkaran dalam segiempat ABCD"):
```



Dari gambar diatas, terlihat bahwa sisi-sisinya merupakan garis singgung lingkaran yang sama yaitu lingkaran dalam segiempat.
Akan ditunjukkan bahwa hasil kali panjang sisi-sisi yang berhadapan sama.

```
>AB=norm(A-B) //panjang sisi AB
```

6

```
>CD=norm(C-D) //panjang sisi CD
```

6

```
>AD=norm(A-D) //panjang sisi AD
```

6

```
>BC=norm(B-C) //panjang sisi BC
```

6

```
>AB.CD
```

36

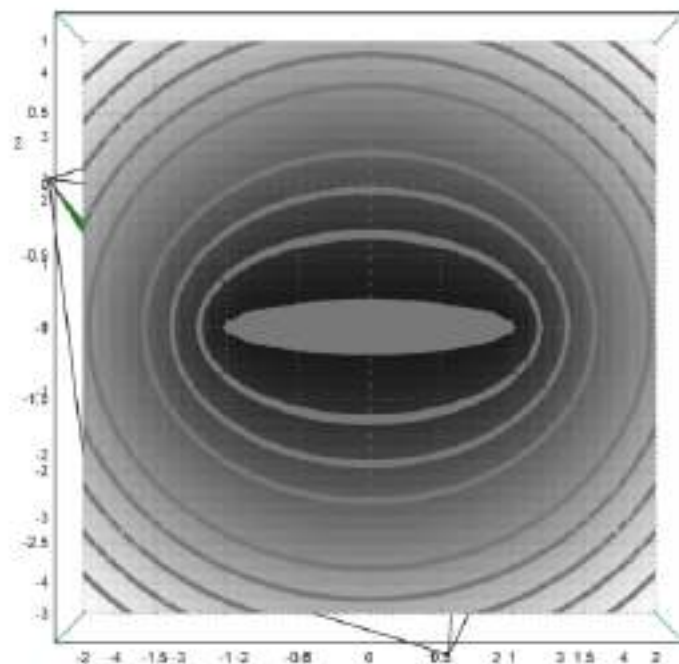
```
>AD.BC
```

36

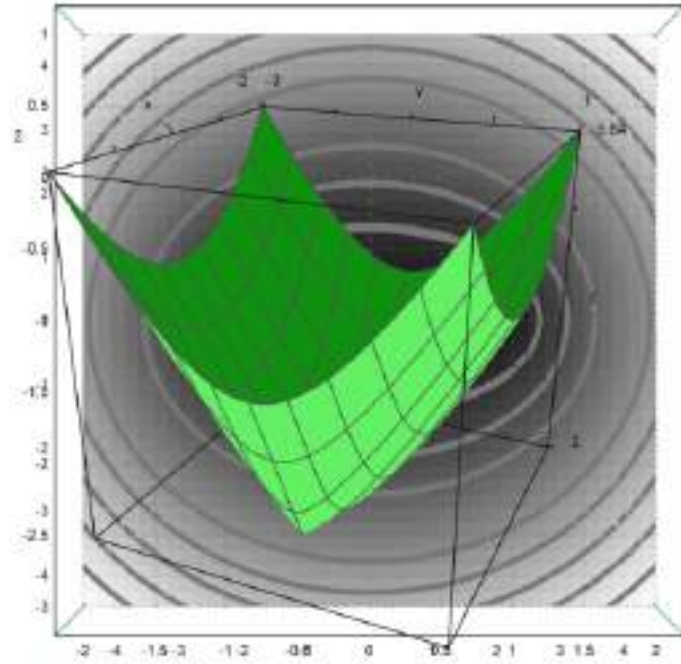
Terbukti bahwa hasil kali panjang sisi-sisi yang berhadapan sama yaitu 36. Jadi dapat dipastikan bahwa segiempat tersebut merupakan segiempat garis singgung.

4. Gambarkan suatu ellips jika diketahui kedua titik fokusnya, misalnya P dan Q. Ingat ellips dengan fokus P dan Q adalah tempat kedudukan titik-titik yang jumlah jarak ke P dan ke Q selalu sama (konstan).

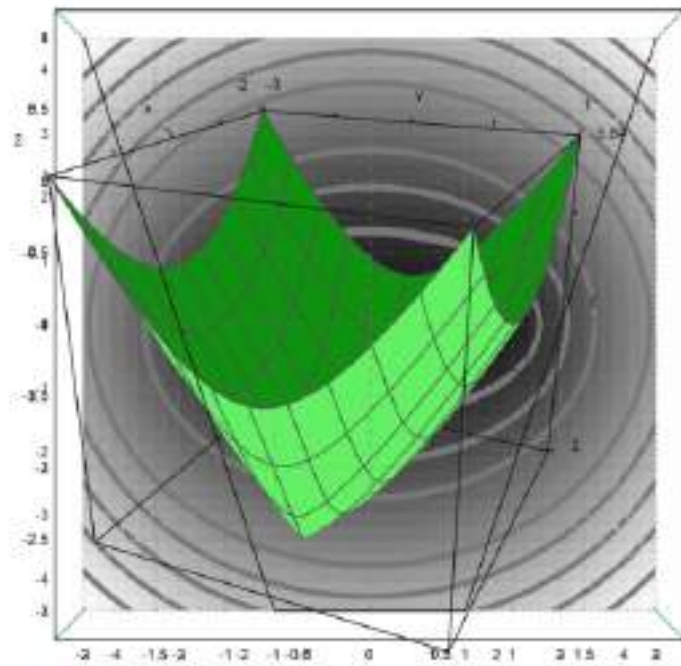
```
>P=[-1,-1]; Q=[1,-1];  
>function d1(x,y):=sqrt((x-P[1])^2+(y-P[2])^2)  
>Q=[1,-1]; function d2(x,y):=sqrt((x-P[1])^2+(y-P[2])^2)+sqrt((x-Q[1])^2+(y-Q[2])^2)  
>fcontour("d2",xmin=-2,xmax=2,ymin=-3,ymax=1,hue=1):
```



```
>plot3d("d2",xmin=-2,xmax=2,ymin=-3,ymax=1):
```

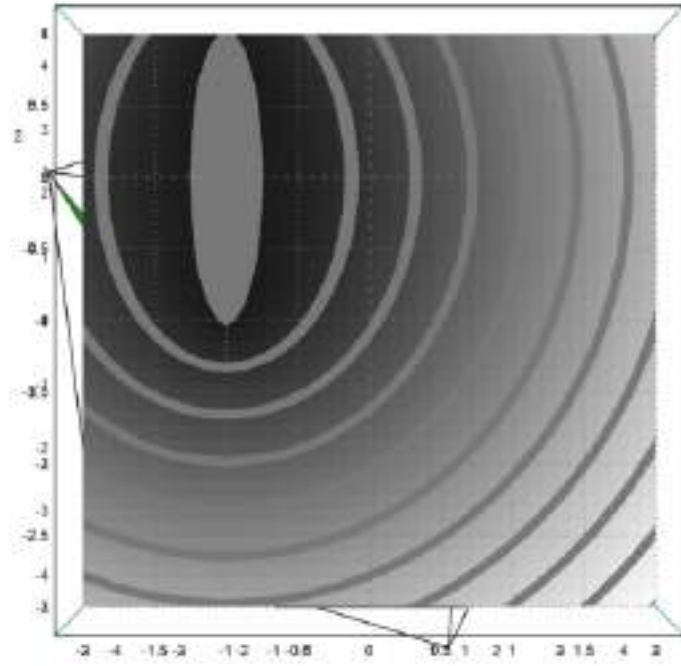



```
>plot2d("abs(x+1)+abs(x-1)",xmin=-3,xmax=3):
```

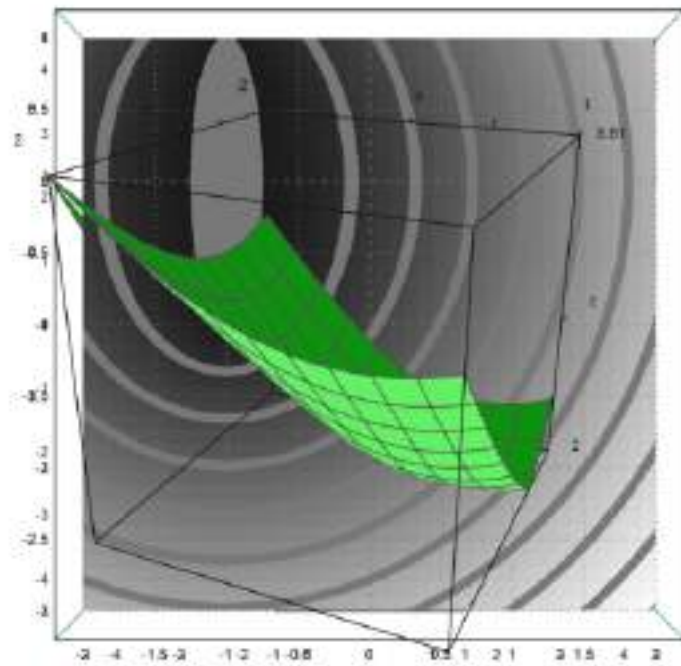


5. Gambarlah suatu hiperbola jika diketahui kedua titik fokusnya, misalnya P dan Q. Ingat ellips dengan fokus P dan Q adalah tempat kedudukan titik-titik yang selisih jarak ke P dan ke Q selalu sama (konstan).

```
>P=[-1,-1]; Q=[1,-1];
>function d1(x,y):=sqrt((x-p[1])^2+(y-p[2])^2)
>Q=[1,-1]; function d2(x,y):=sqrt((x-P[1])^2+(y-P[2])^2)+sqrt((x+Q[1])^2+(y+Q[2])^2)
>fcontour("d2",xmin=-2,xmax=2,ymin=-3,ymax=1,hue=1):
```



```
>plot3d("d2",xmin=-2,xmax=2,ymin=-3,ymax=1):
```



```
>plot2d("abs(x+1)+abs(x-1)",xmin=-3,xmax=3):
```

