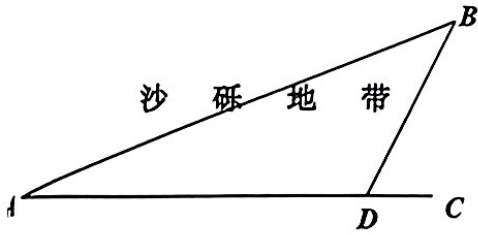


## 第六章：经典几何模型——胡不归

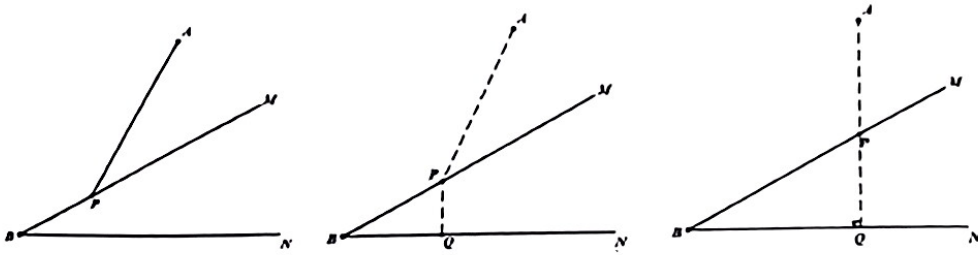
从前，有一个小伙子在外地学徒，当他获悉在家的老父亲病危的消息后，便立即启程赶路。由于思乡心切，他只考虑了两点之间线段最短的原理，所以选择了全是沙砾地带的直线路径  $A \rightarrow B$  (如图所示)，而忽视了走折线虽然路程多但速度快的实际情况，当他气喘吁吁地赶到家时，老人刚刚咽了气，小伙子失声痛哭。邻居劝慰小伙子时告诉说，老人弥留之际不断念叨着“胡不归？胡不归？…何以归”。这个古老的传说，引起了人们的思索，小伙子能否提前到家？倘若可以，他应该选择一条怎样的路线呢？这就是风靡千百年的“胡不归问题”。



### 二. “胡不归”模型建立

如图所示，已知  $\sin \angle MBN = k$ ，点  $P$  为角  $\angle MBN$  其中一边  $BM$  上的一个动点，点  $A$  在射线  $BM$ 、 $BN$  的同侧，连接  $AP$ ，则当“ $PA + k \cdot PB$ ”最小时， $P$  点的位置如何确定？

分析：本题的关键在于如何确定“ $k \cdot PB$ ”的大小，过点  $P$  作  $PQ \perp BN$  垂足为  $Q$ ，则  $k \cdot PB = PB \cdot \sin \angle MBN = PQ$ ，“ $PA + k \cdot PB$ ”的最小值转化为求“ $PA + PQ$ ”的最小值，即  $A$ 、 $P$ 、 $Q$  三点共线时最小。



### 三. “胡不归”模型破解策略

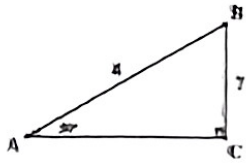
“胡不归”构造某角正弦值等于系数  $k$  ( $k$  小于 1)

当  $k$  值大于 1 时，则提取  $k$ ，构造某角正弦值等于系数  $\frac{1}{k}$

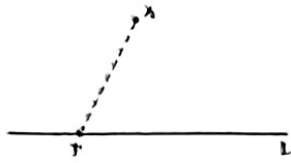
起点构造所需角 ( $k = \sin \angle CAE$ )  $\rightarrow$  过终点作所构角边的垂线  $\rightarrow$  利用垂线段最短解决

模型解剖

1、如图，在  $Rt\triangle ABC$  中， $\angle ACB=90^\circ$ ，若  $\angle A=30^\circ$ ， $AB=4$ ，则  $BC=$ \_\_\_\_\_；理由是\_\_\_\_\_

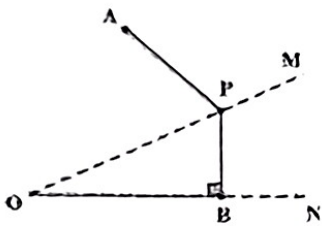


2、直线  $L$  外有点  $A$ ，点  $P$  是  $L$  上一动点，当点  $P$  在何处时，线段  $PA$  最小吗？

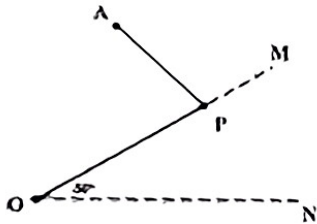


问题分析

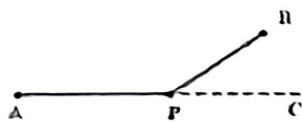
问题 1：如图，点  $A$  在  $\angle MON$  的外部，点  $P$  是  $OM$  上的一动点，过点  $P$  作  $PB \perp ON$  于  $B$ ，当  $PA+PB$  最小时，你能确定点  $P$  的位置吗？（请说明理由）



问题 2：点  $A$  在  $\angle MON$  的外部，点  $P$  是  $OM$  上的一动点， $\angle MON=30^\circ$ ，当点  $P$  在何处  $\frac{1}{2}OP+PA$  最小？



问题 3：点  $P$  是射线  $AC$  上一动点，点  $B$  是射线  $AC$  外一点，当点  $P$  在何处时， $\frac{1}{2}PA+PB$  最小？



问题 4：点  $P$  是射线  $AC$  上一动点，点  $B$  是射线  $AC$  外一点，当点  $P$  在何处时  $2PA+4PB$  最小？

