



2020 / 2021 EĞİTİM-ÖĞRETİM YILI ATATÜRK ORTOKULU  
5.SINIF MATEMATİK DERSİ YÜZDELER ÇALIŞMA KAĞIDI

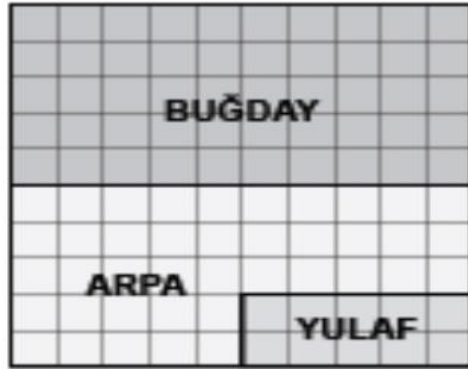
ÖĞRENCİNİN ADI - SOYADI:  
NUMARASI:  
SINIFI:

TARİH: .... / .... / .....

**YÖNERGE 1:** Aşağıda verilen sayıların istenilen yüzdelerini bulunuz.

- 1) 80 in %25 i kaçtır?
- 2) 0.3 ün yüzde kaç olduğunu yazınız.
- 3) 50 sayısının %90 ı kaçtır?
- 4) 160 sayısının %5 i kaçtır?
- 5) 70 sayısının %40 kaçtır?

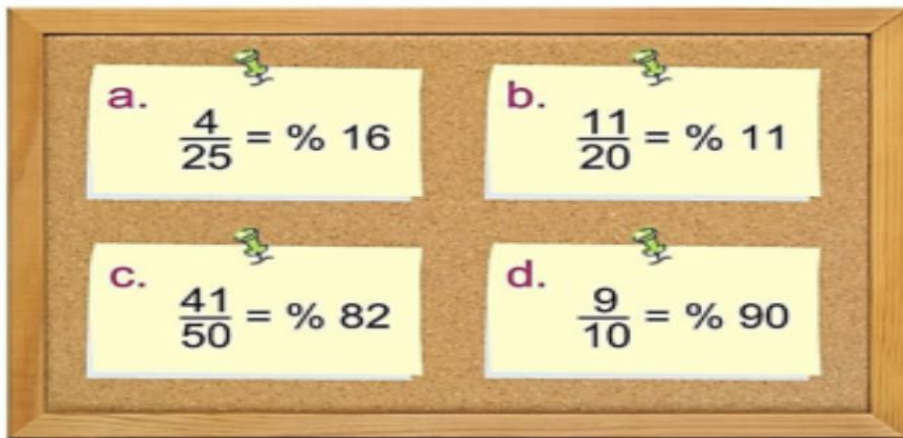
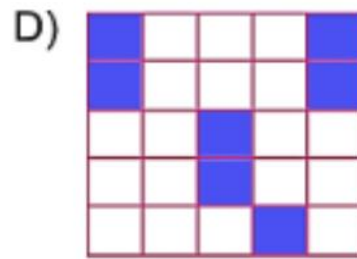
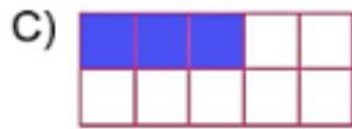

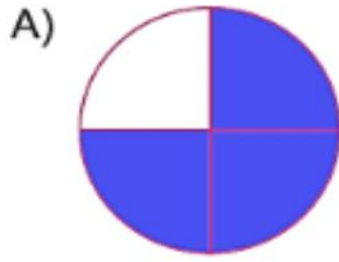
**YÖNERGE 3:** Aşağıdaki problemleri çözünüz.



Yukarıdaki şekilde bir çiftçinin tarlasına ektiği ürünler gösterilmiştir. Bu tarlanın yüzde kaçına arpa ekilmiştir?

- A) 25      B) 35      C) 40      D) 85

Eş parçalara bölünmüş aşağıdaki şekillerin hangisinde %40 modellenmiştir?



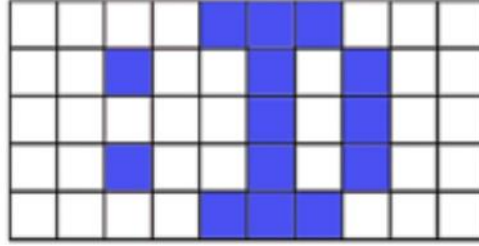
Yukarıdaki eşitliklerden hangisi yanlıştır?

A) a

B) b

C) c

D) d



Yukarıdaki şeklin %60'ını boyamak isteyen Ömer kaç tane kare daha boyaması gerekir?

- A) 32      B) 18      C) 15      D) 16

Murat 90 bilyesinin 36'sını arkadaşlarına hediye etmiştir.

**Buna göre Murat bilyelerinin yüzde kaçını arkadaşlarına hediye etmiştir?**

- A) 36      B) 40      C) 44      D) 48