
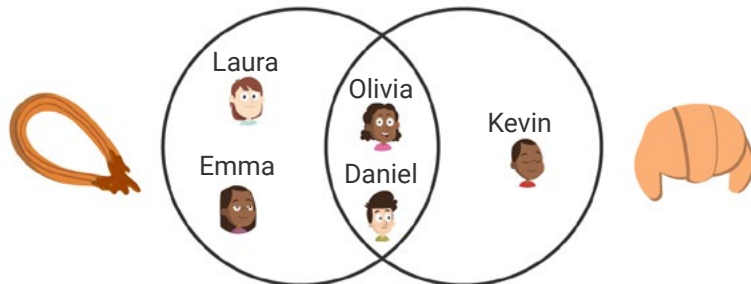


1. Un grup d'amics ha anat al cinema. Alguns han comprat crispetes i d'altres, refrescs. Completa el diagrama de Venn a partir de la situació representada.

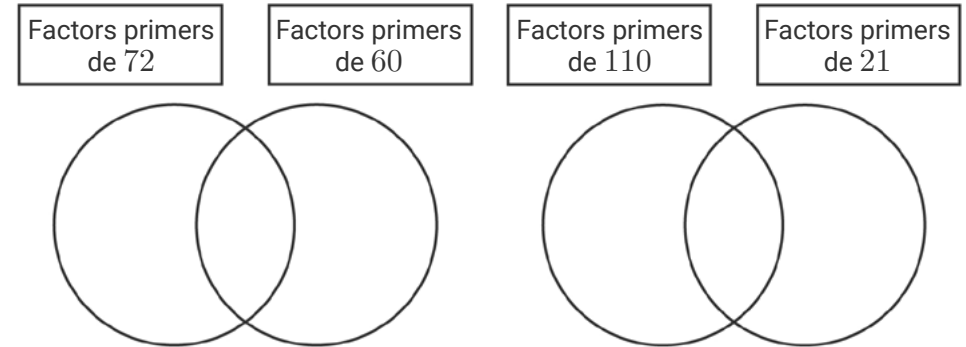


2. Un grup d'amics ha quedat per berenar. Alguns han menjat xurros i d'altres, croissants. Descriu la situació a partir del diagrama de Venn següent:

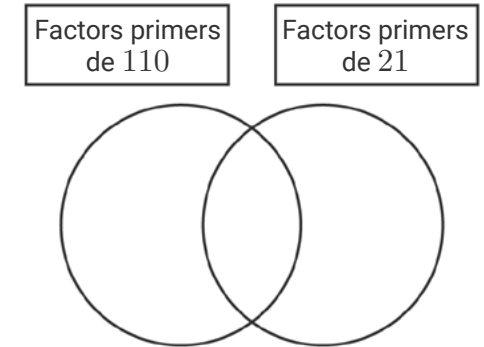


3. Descompon els nombres següents en factors primers. Després, completa el diagrama de Venn. Quin és el múltiple comú més petit (mcm)? I el divisor comú més gran (MCD)?

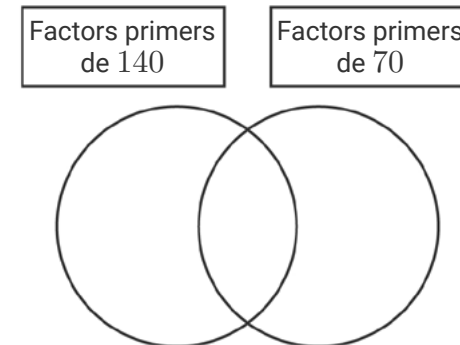
a. 72 i 60






b. 110 i 21

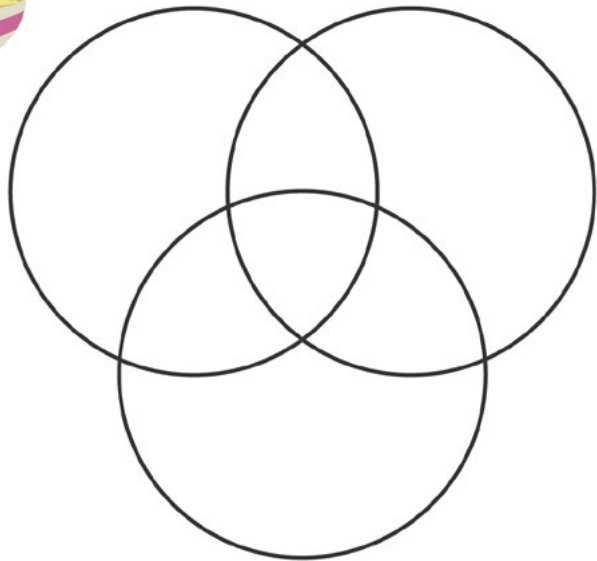


c. 140 i 70



1. Un grup d'amics ha anat al cinema. Alguns han comprat crispetes i d'altres, refrescs. Després de la pel·lícula, uns quants han comprat un gelat. Completa el diagrama de Venn a partir de la informació de la taula.

	Ambia	Bixin	Carlos	Júlia	Laura	Mihail
	✓	✓		✓		
	✓		✓	✓		✓
		✓		✓	✓	

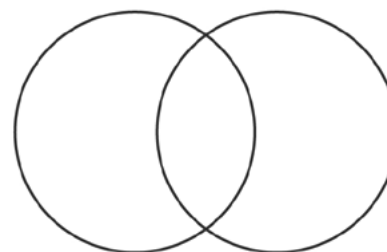


2. Descompon els nombres següents en factors primers. Després, completa el diagrama de Venn. Quin és el múltiple comú més petit (mcm)? I el divisor comú més gran (MCD)?

a. 110 i 91

Factors primers de 110

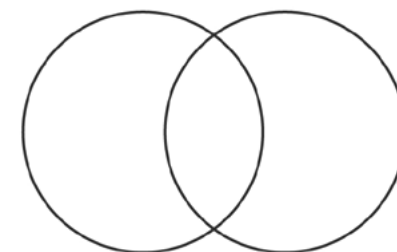
Factors primers de 91



b. 72 i 44

Factors primers de 72

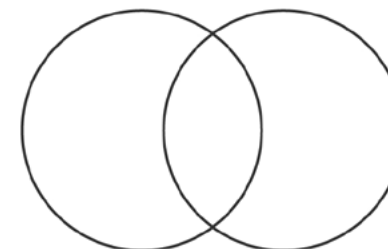
Factors primers de 44



c. 260 i 130

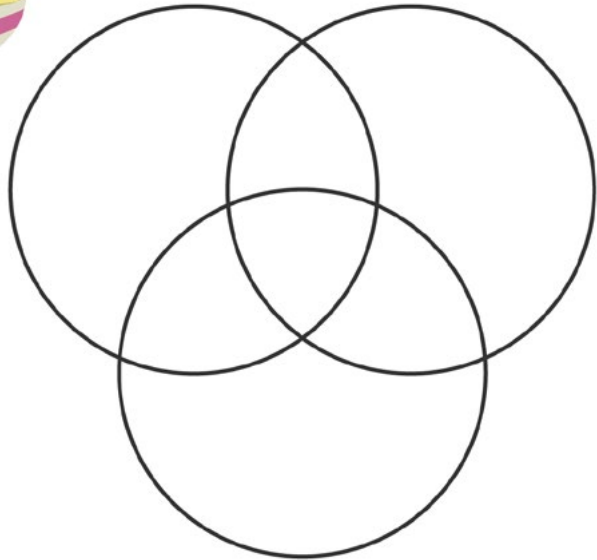
Factors primers de 260

Factors primers de 130



1. Un grup d'amics ha anat al cinema. Alguns han comprat crispetes i d'altres, refrescs. Després de la pel·lícula, uns quants han comprat un gelat. Completa el diagrama de Venn a partir de la informació següent:

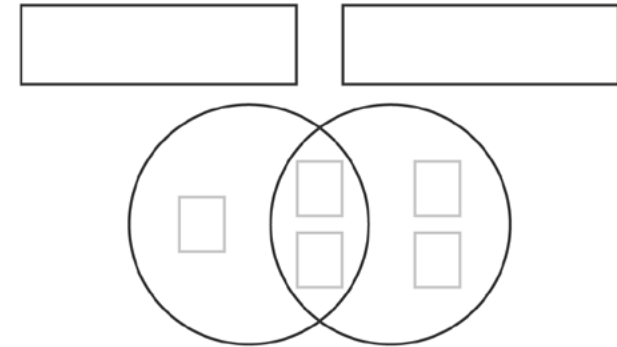
- I. La Júlia, l'Emily i en Carlos han comprat només un producte.
- II. L'Ambia, l'Emily i en Mihail són els únics que han comprat un gelat.
- III. Ningú ha comprat només crispetes i gelat.
- IV. En Nil, l'Ambia i en Carlos són els únics que han comprat crispetes.
- V. En Nil ha demanat al Mihail un glop del seu refresc perquè ell no n'havia comprat.



2. Omple cada casella del diagrama de Venn amb un nombre primer d'una xifra.

- Etiqueta cada conjunt.
- Quin és el múltiple comú més petit (mcm) de la parella de nombres? I el divisor comú més gran (MCD)?

a.



b.

