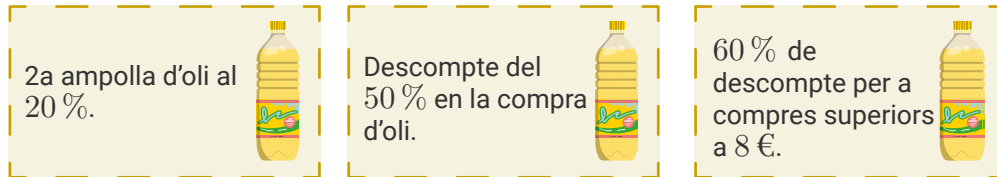


1. Vols comprar dues ampolles d'oli que costen 5 € cadascuna. Tens aquests tres cupons **no acumulables**:



- a. Sense necessitat de fer cap càlcul, justifica amb quin cupó pagaries menys.
- b. Calcula, per a cada cupó, quant pagaries si el fessis servir. Has triat l'opció més econòmica a l'apartat a?

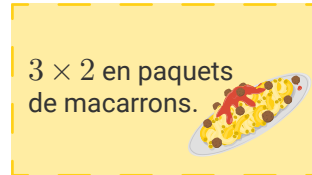
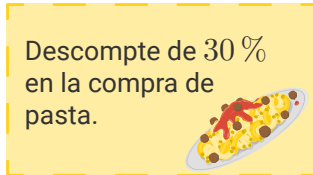

2. Durant el mes de maig, 60 000 persones van visitar un parc d'atraccions.

- a. Per al mes de juny, dos grups d'experts han fet una previsió, en percentatge, del creixement del nombre de visitants respecte del mes anterior. Quants milers de visitants tindrà el parc durant el mes de juny segons cada grup d'experts?

	Juny (previsió)	
	Creixement (%)	Nombre de visitants (en milers)
Grup d'experts 1	50	
Grup d'experts 2	30	

- b. Finalment, 66 000 persones van visitar el parc durant el mes de juny. Quin percentatge de creixement hi ha hagut respecte del nombre de visitants del mes de maig?

1. Vols comprar tres paquets de macarrons que costen 0,90 € cadascun. Tens aquests tres cupons **no acumulables**:



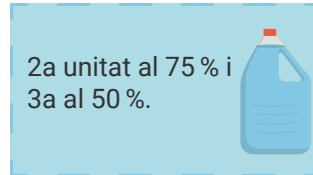
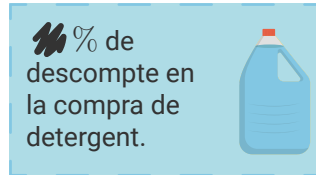
- a. Sense necessitat de fer cap càlcul, justifica amb quin cupó pagaries menys.
- b. Calcula, per a cada cupó, quant pagaries si el fessis servir. Has triat l'opció més econòmica a l'apartat a?

2. Durant el mes de juny, 3 000 persones van visitar un museu. Al juliol, el nombre de visitants va créixer un 10 % respecte del juny i, a l'agost, va créixer un 20 % respecte del juliol.

- a. Quantes persones van visitar el museu durant el mes d'agost?

- b. Quin ha sigut el creixement del nombre de visitants de l'agost respecte del mes de juny? Expressa'l en forma de percentatge.

1. Vols comprar tres paquets de detergent que costen 8 € cadascun. Tens aquests dos cupons **no acumulables**:



Quin percentatge de descompte hi havia en el cupó de l'esquerra si a la caixa et diuen que hauràs de pagar el mateix amb qualsevol dels dos cupons?

2. El meu proveïdor de fruita ha anat canviant els preus per ajustar-los als costos de producció. De gener a febrer va apujar-los un 10 % i, en veure que no n'hi havia prou, al març va tornar-los a apujar un 10 % respecte del febrer. Per una compra que al març m'ha costat 484 €, quant hauria pagat al gener?