

# Visualisasi dan Perhitungan Geometri dengan EMT

---

Nama : Nabila Safitri  
NIM : 22301244024  
Kelas : Pendidikan Matematika A 2022

---

Euler menyediakan beberapa fungsi untuk melakukan visualisasi dan perhitungan geometri, baik secara numerik maupun analitik (seperti biasanya tentunya, menggunakan Maxima). Fungsi-fungsi untuk visualisasi dan perhitungan geometri tersebut disimpan di dalam file program "geometry.e", sehingga file tersebut harus dipanggil sebelum menggunakan fungsi-fungsi atau perintah-perintah untuk geometri.

```
>load geometry
```

```
Numerical and symbolic geometry.
```

## Fungsi-fungsi Geometri

---

Fungsi-fungsi untuk Menggambar Objek Geometri:

`defaultd:=textheight()*1.5`: nilai asli untuk parameter `d`  
`setPlotrange(x1,x2,y1,y2)`: menentukan rentang `x` dan `y` pada bidang

koordinat

`setPlotRange(r)`: pusat bidang koordinat  $(0,0)$  dan batas-batas

sumbu-`x` dan `y` adalah  $-r$  sd  $r$

`plotPoint (P, "P")`: menggambar titik `P` dan diberi label "`P`"  
`plotSegment (A,B, "AB", d)`: menggambar ruas garis `AB`, diberi label

"`AB`" sejauh `d`

`plotLine (g, "g", d)`: menggambar garis `g` diberi label "`g`" sejauh `d`  
`plotCircle (c,"c",v,d)`: Menggambar lingkaran `c` dan diberi label "`c`"  
`plotLabel (label, P, V, d)`: menuliskan label pada posisi `P`

Fungsi-fungsi Geometri Analitik (numerik maupun simbolik):

turn(v, phi): memutar vektor v sejauh phi  
turnLeft(v): memutar vektor v ke kiri  
turnRight(v): memutar vektor v ke kanan  
normalize(v): normal vektor v  
crossProduct(v, w): hasil kali silang vektor v dan w.  
lineThrough(A, B): garis melalui A dan B, hasilnya [a,b,c] sdh.

$ax+by=c$ .

lineWithDirection(A,v): garis melalui A searah vektor v  
getLineDirection(g): vektor arah (gradien) garis g  
getNormal(g): vektor normal (tegak lurus) garis g  
getPointOnLine(g): titik pada garis g  
perpendicular(A, g): garis melalui A tegak lurus garis g  
parallel(A, g): garis melalui A sejajar garis g  
lineIntersection(g, h): titik potong garis g dan h  
projectToLine(A, g): proyeksi titik A pada garis g  
distance(A, B): jarak titik A dan B  
distanceSquared(A, B): kuadrat jarak A dan B  
quadrance(A, B): kuadrat jarak A dan B  
areaTriangle(A, B, C): luas segitiga ABC  
computeAngle(A, B, C): besar sudut  $\angle ABC$   
angleBisector(A, B, C): garis bagi sudut  $\angle ABC$   
circleWithCenter(A, r): lingkaran dengan pusat A dan jari-jari r  
getCircleCenter(c): pusat lingkaran c  
getCircleRadius(c): jari-jari lingkaran c  
circleThrough(A,B,C): lingkaran melalui A, B, C  
middlePerpendicular(A, B): titik tengah AB  
lineCircleIntersections(g, c): titik potong garis g dan lingkaran c  
circleCircleIntersections(c1, c2): titik potong lingkaran c1 dan

c2

planeThrough(A, B, C): bidang melalui titik A, B, C

Fungsi-fungsi Khusus Untuk Geometri Simbolik:

getLineEquation (g,x,y): persamaan garis g dinyatakan dalam x dan y

getHesseForm (g,x,y,A): bentuk Hesse garis g dinyatakan dalam x dan

y dengan titik A pada sisi positif (kanan/atas) garis

quad(A,B): kuadrat jarak AB

spread(a,b,c): Spread segitiga dengan panjang sisi-sisi a,b,c, yakni

$\sin(\alpha)^2$  dengan alpha sudut yang menghadap sisi a.

crosslaw(a,b,c,sa): persamaan 3 quads dan 1 spread pada segitiga

dengan panjang sisi a, b, c.

triplespread(sa,sb,sc): persamaan 3 spread sa,sb,sc yang memebntuk

suatu segitiga

`double spread(sa): Spread sudut rangkap Spread  $2\phi$ , dengan`

`sa =  $\sin(\phi)^2$  spread a.`

## Contoh 1: Luas, Lingkaran Luar, Lingkaran Dalam Segitiga

Untuk menggambar objek-objek geometri, langkah pertama adalah menentukan rentang sumbu-sumbu koordinat. Semua objek geometri akan digambar pada satu bidang koordinat, sampai didefinisikan bidang koordinat yang baru.

```
>setPlotRange(-0.5,2.5,-0.5,2.5); // mendefinisikan bidang koordinat baru
```

Sekarang atur tiga poin dan plot.

```
>A=[1,0]; plotPoint(A,"A"); // definisi dan gambar tiga titik  
>B=[0,1]; plotPoint(B,"B");  
>C=[2,2]; plotPoint(C,"C");
```

Lalu tiga segmen.

```
>plotSegment(A,B,"c"); // c=AB  
>plotSegment(B,C,"a"); // a=BC  
>plotSegment(A,C,"b"); // b=AC
```

Fungsi geometri meliputi fungsi untuk membuat garis dan lingkaran. Format untuk garis adalah  $[a, b, c]$ , yang merepresentasikan garis dengan persamaan  $ax + by = c$ .

```
>lineThrough(B,C) // garis yang melalui B dan C
```

```
[-1, 2, 2]
```

Hitung garis tegak lurus melalui A pada BC.

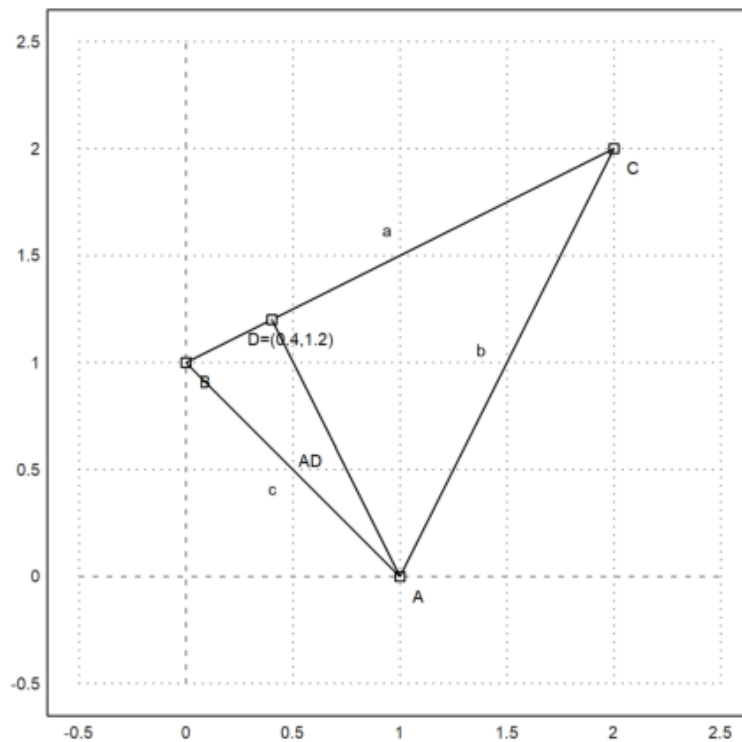
```
>h=perpendicular(A,lineThrough(B,C)); // garis h tegak lurus BC melalui A
```

Dan perpotongannya dengan BC.

```
>D=lineIntersection(h,lineThrough(B,C)); // D adalah titik potong h dan BC
```

Plot itu.

```
>plotPoint(D,value=1); // koordinat D ditampilkan  
>aspect(1); plotSegment(A,D): // tampilkan semua gambar hasil plot...()
```



Hitung luas ABC:

$$L_{\triangle ABC} = \frac{1}{2}AD \cdot BC.$$

```
>norm(A-D)*norm(B-C)/2 // AD=norm(A-D), BC=norm(B-C)
```

1.5

Cara lain menghitung rumus determinan.

```
>areaTriangle(A,B,C) // hitung luas segitiga langsung dengan fungsi
```

1.5

Cara lain menghitung luas segitiga ABC:

```
>distance(A,D)*distance(B,C)/2
```

1.5

Sudut di C

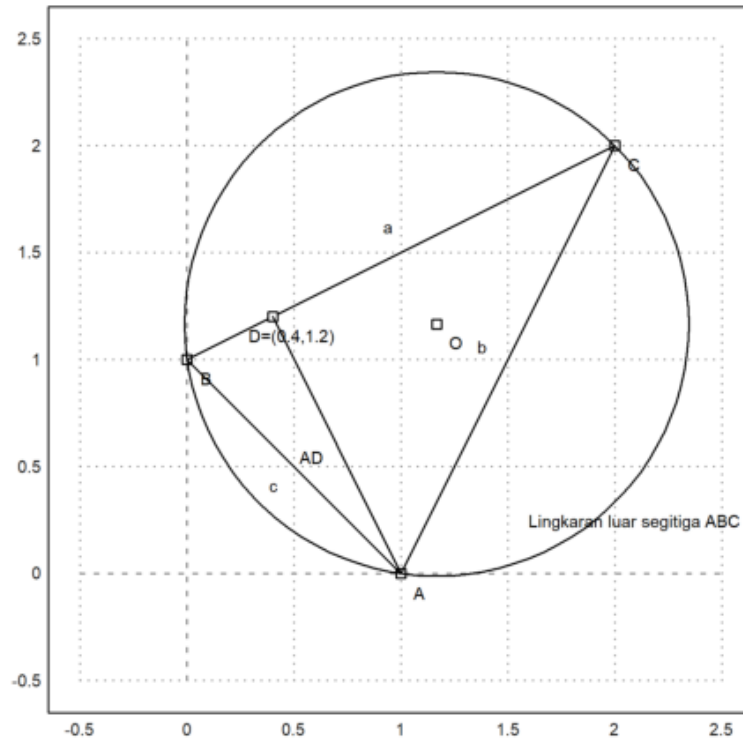


```
>degprint(computeAngle(B,C,A))
```

36°52'11.63''

Sekarang lingkaran sirkit segitiga.

```
>c=circleThrough(A,B,C); // lingkaran luar segitiga ABC  
>R=getCircleRadius(c); // jari2 lingkaran luar  
>O=getCircleCenter(c); // titik pusat lingkaran c  
>plotPoint(O,"O"); // gambar titik "O"  
>plotCircle(c,"Lingkaran luar segitiga ABC");
```



Tampilkan koordinat titik pusat dan jari-jari lingkaran luar.

>0, R

[1.16667, 1.16667]  
1.17851130198

Sekarang akan digambar lingkaran dalam segitiga ABC. Titik pusat lingkaran dalam adalah titik potong garis-garis bagi sudut.

```
>l=angleBisector(A,C,B); // garis bagi <ACB  
>g=angleBisector(C,A,B); // garis bagi <CAB  
>P=lineIntersection(l,g) // titik potong kedua garis bagi sudut
```

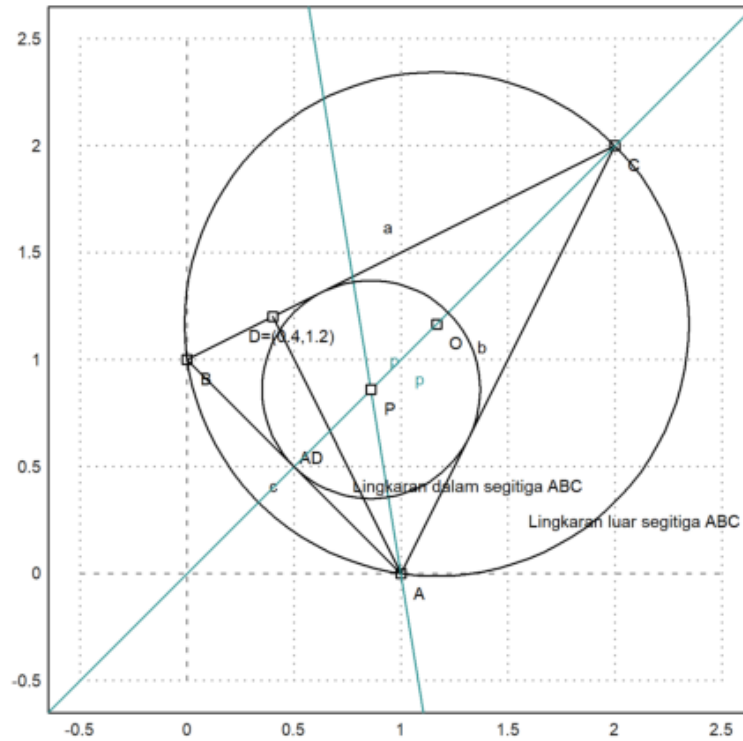
```
[0.86038, 0.86038]
```

Tambahkan semua ke plot.

```
>color(5); plotLine(l); plotLine(g); color(1); // gambar kedua garis bagi sudut  
>plotPoint(P,"P"); // gambar titik potongnya  
>r=norm(P-projectToLine(P,lineThrough(A,B))) // jari-jari lingkaran dalam
```

```
0.509653732104
```

```
>plotCircle(circleWithCenter(P,r),"Lingkaran dalam segitiga ABC"): // gambar lingkaran dalam
```



Latihan

1. Tentukan ketiga titik singgung lingkaran dalam dengan sisi-sisi segitiga ABC.
2. Gambar segitiga dengan titik-titik sudut ketiga titik singgung tersebut.
3. Tunjukkan bahwa garis bagi sudut yang ke tiga juga melalui titik pusat lingkaran dalam.
4. Gambar jari-jari lingkaran dalam.

Jawab:

1. Tentukan ketiga titik singgung lingkaran dalam dengan sisi-sisi segitiga ABC.  
Titik singgung garis BC dengan lingkaran dalam.

```
>s=lineThrough(B,C)
```

```
[-1, 2, 2]
```

```
>m=circleWithCenter(P,r)
```

```
[0.86038, 0.86038, 0.509654]
```

```
>S=lineCircleIntersections(s,m)
```

```
[0.632456, 1.31623]
```

Titik singgung garis AC dengan lingkaran dalam.

```
>p=lineThrough(A,C)
```

```
[-2, 1, -2]
```

```
>Q=lineCircleIntersections(p,m)
```

```
[1.31623, 0.632456]
```

Titik singgung garis AB dengan lingkaran dalam.

```
> q=lineThrough(A,B)
```

```
[-1, -1, -1]
```

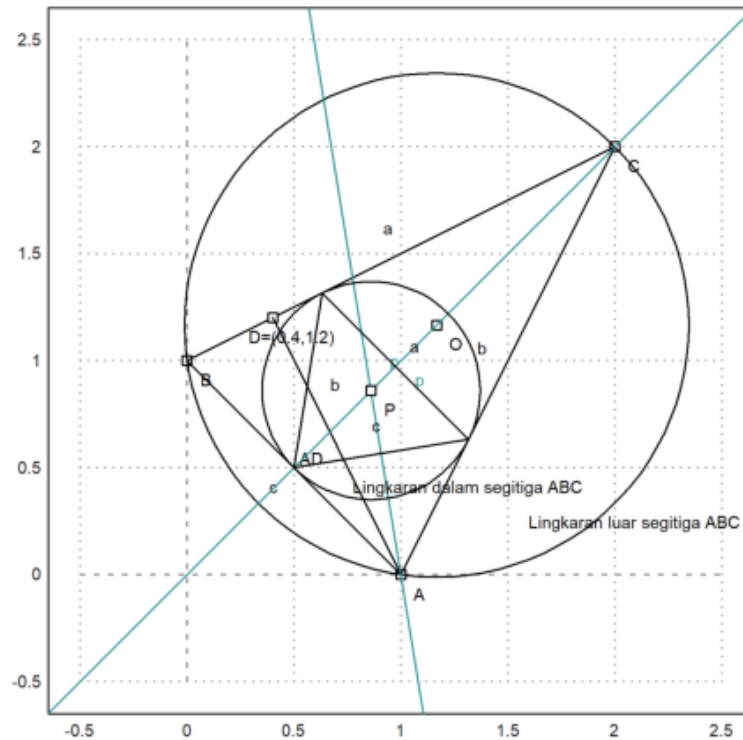
```
>L=lineCircleIntersections(q,m)
```

```
[0.5, 0.5]
```

Jadi titik singgung lingkaran dalam dengan sisi-sisi segitiga adalah  $(0.632456, 1.31623)$ ,  $(1.31632, 0.632456)$ ,  $(0.5, 0.5)$ .

2. Gambar segitiga dengan titik-titik sudut ketiga titik singgung tersebut.

```
>plotSegment(S,Q,"a");  
>plotSegment(S,L,"b");  
>plotSegment(L,Q,"c");
```



3. Tunjukkan bahwa garis bagi sudut yang ke tiga juga melalui titik pusat lingkaran dalam.

```
> P, r
```

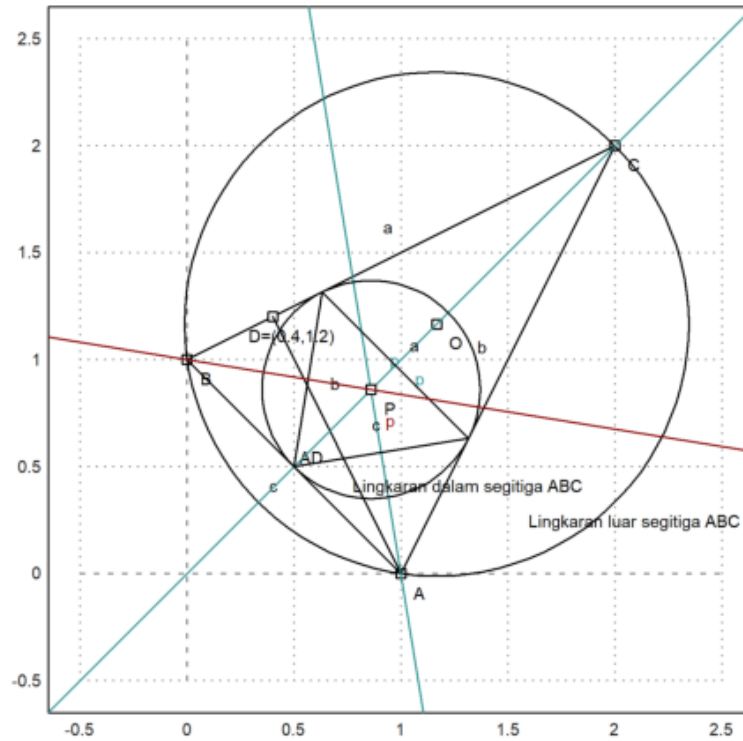
```
[0.86038, 0.86038]  
0.509653732104
```

```
>k=angleBisector(A,B,C)
```

```
[-0.264911, -1.63246, -1.63246]
```

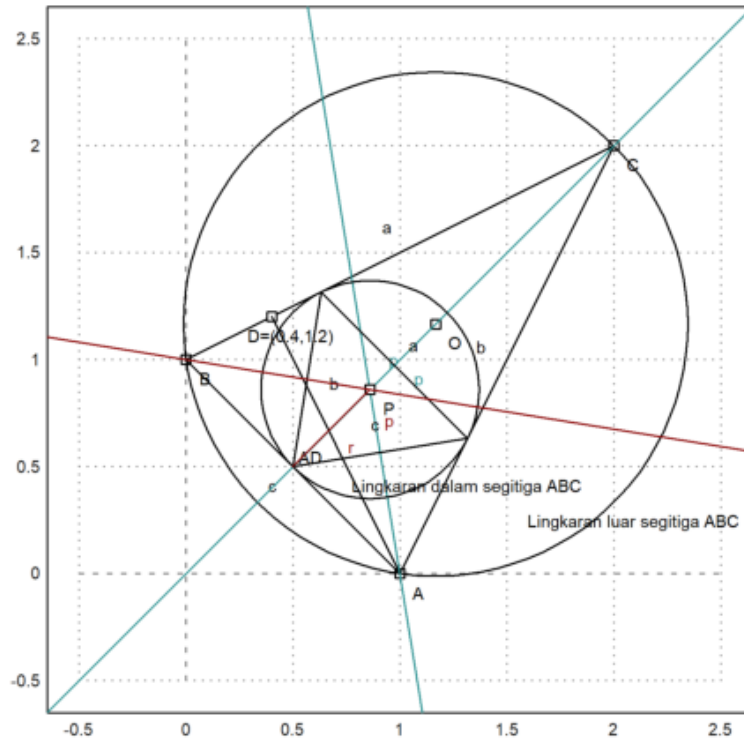
```
>color(2); plotLine(k):
```





4. Gambar jari-jari lingkaran dalam.

```
>plotSegment(P,L,"r"):
```



## Contoh 2: Geometri Simbolik

---

Kita dapat menghitung geometri tepat dan simbolis menggunakan Maxima.

Geometri file.e menyediakan fungsi yang sama (dan lebih banyak lagi) di Maxima. Namun, sekarang kita dapat menggunakan perhitungan simbolik.

```
>A := [1,0]; B := [0,1]; C := [2,2]; // menentukan tiga titik A, B, C
```

Fungsi garis dan lingkaran bekerja seperti fungsi Euler, tetapi menyediakan penghitungan simbolik.

```
>c := lineThrough(B,C) // c=BC
```

```
[- 1, 2, 2]
```

Kita bisa mendapatkan persamaan untuk sebuah garis dengan mudah.

```
>$getLineEquation(c,x,y), $solve(%,y) | expand // persamaan garis c
```

$$\left[ y = \frac{x}{2} + 1 \right]$$

$$\left[ y = \frac{x}{2} + 1 \right]$$

```
>$getLineEquation(lineThrough(A,[x1,y1]),x,y) // persamaan garis melalui A dan (x1, y1)
```

$$(x_1 - 1) y - x y_1 = -y_1$$

```
>h &= perpendicular(A,lineThrough(B,C)) // h melalui A tegak lurus BC
```

[2, 1, 2]

```
>Q &= lineIntersection(c,h) // Q titik potong garis c=BC dan h
```

2 6  
[-, -]  
5 5

```
>$projectToLine(A,lineThrough(B,C)) // proyeksi A pada BC
```

$$\left[ \frac{2}{5}, \frac{6}{5} \right]$$

```
>$distance(A,Q) // jarak AQ
```

$$\frac{3}{\sqrt{5}}$$

```
>cc &= circleThrough(A,B,C); $cc // (titik pusat dan jari-jari) lingkaran melalui A, B, C
```

$$\left[ \frac{7}{6}, \frac{7}{6}, \frac{5}{3\sqrt{2}} \right]$$

```
>r&=getCircleRadius(cc); $r , $float(r) // tampilkan nilai jari-jari
```

1.178511301977579

```
>$computeAngle(A,C,B) // nilai <ACB
```

$$\arccos\left(\frac{4}{5}\right)$$

```
>$solve(getLineEquation(angleBisector(A,C,B),x,y),y)[1] // persamaan garis bagi <ACB
```

$$y = x$$

```
>P &= lineIntersection(angleBisector(A,C,B),angleBisector(C,B,A)); $P // titik potong 2 garis bagi s
```

$$\left[ \frac{\sqrt{2}\sqrt{5}+2}{6}, \frac{\sqrt{2}\sqrt{5}+2}{6} \right]$$

```
>P() // hasilnya sama dengan perhitungan sebelumnya
```

```
[0.86038, 0.86038]
```

## Garis dan Lingkaran yang Berpotongan

---

Tentu saja, kita juga bisa memotong garis dengan lingkaran, dan lingkaran dengan lingkaran.

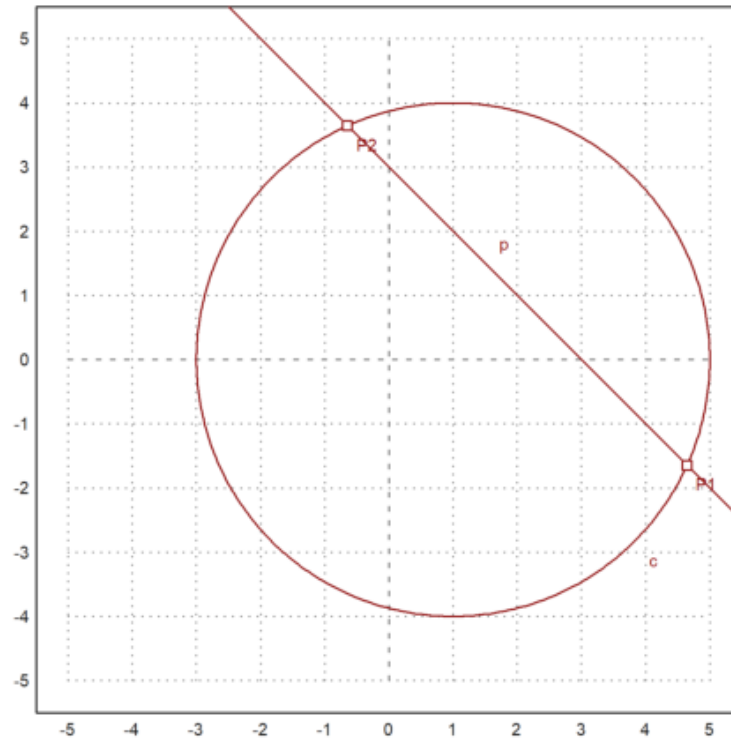
```
>A &:= [1,0]; c=circleWithCenter(A,4);  
>B &:= [1,2]; C &:= [2,1]; l=lineThrough(B,C);  
>setPlotRange(5); plotCircle(c); plotLine(l);
```

Perpotongan garis dengan lingkaran mengembalikan dua titik dan jumlah titik perpotongan.

```
>{P1,P2,f}=lineCircleIntersections(l,c);  
>P1, P2,
```

```
[4.64575, -1.64575]  
[-0.645751, 3.64575]
```

```
>plotPoint(P1); plotPoint(P2):
```



Hal yang sama di Maxima.

```
>c := circleWithCenter(A,4) // lingkaran dengan pusat A jari-jari 4
```



[1, 0, 4]

```
>l &= lineThrough(B,C) // garis l melalui B dan C
```

[1, 1, 3]

```
>$lineCircleIntersections(l,c) | radcan, // titik potong lingkaran c dan garis l
```

$\left[ \left[ \sqrt{7} + 2, 1 - \sqrt{7} \right], \left[ 2 - \sqrt{7}, \sqrt{7} + 1 \right] \right]$

Akan ditunjukkan bahwa sudut-sudut yang menghadap busur yang sama adalah sama besar.

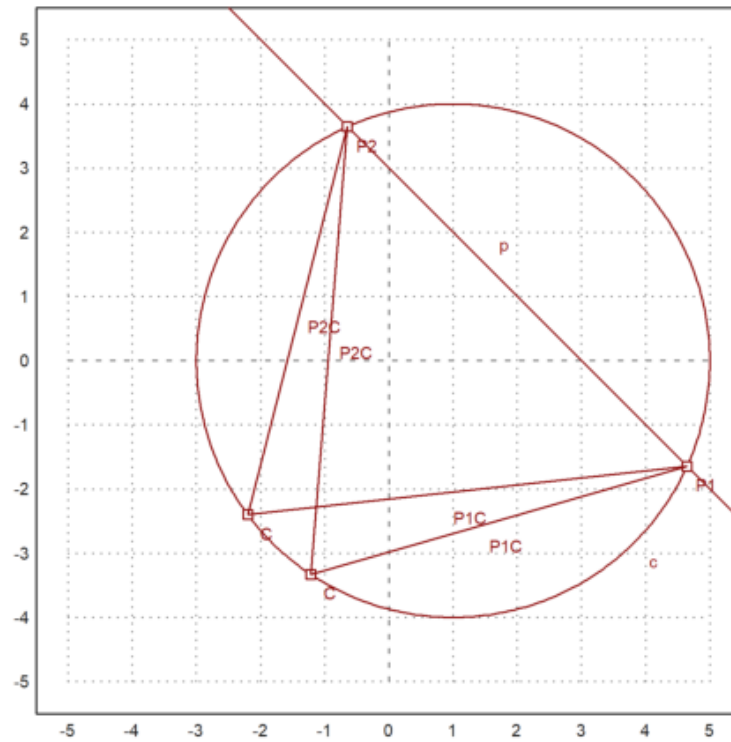
```
>C=A+normalize([-2,-3])*4; plotPoint(C); plotSegment(P1,C); plotSegment(P2,C);  
>degprint(computeAngle(P1,C,P2))
```

69°17'42.68''

```
>C=A+normalize([-4,-3])*4; plotPoint(C); plotSegment(P1,C); plotSegment(P2,C);  
>degprint(computeAngle(P1,C,P2))
```

69°17'42.68''

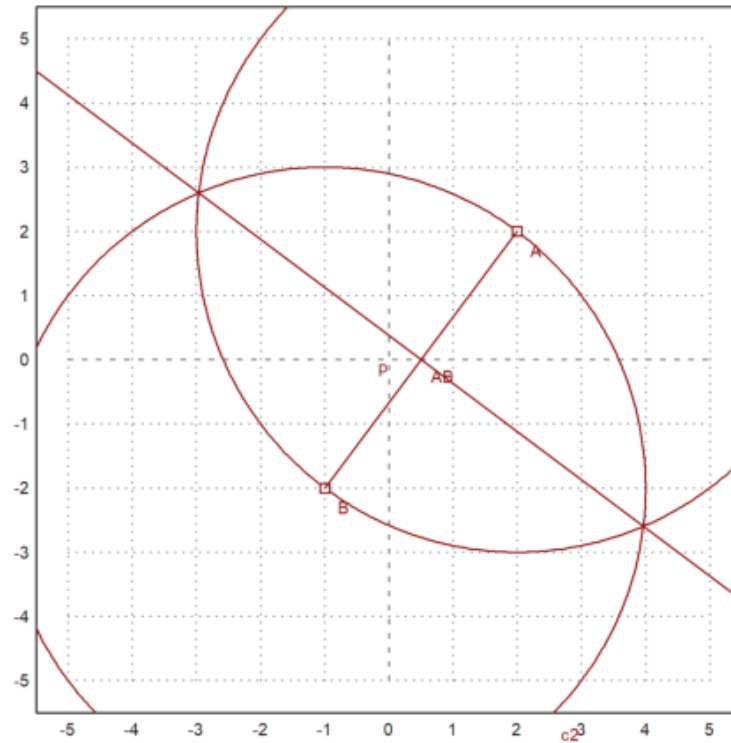
```
>insimg;
```



Berikut adalah langkah-langkah menggambar garis sumbu ruas garis AB:

1. Gambar lingkaran dengan pusat A melalui B.
2. Gambar lingkaran dengan pusat B melalui A.
3. Tarik garis melalui kedua titik potong kedua lingkaran tersebut. Garis ini merupakan garis sumbu (melalui titik tengah dan tegak lurus) AB.

```
>A=[2,2]; B=[-1,-2];  
>c1=circleWithCenter(A,distance(A,B));  
>c2=circleWithCenter(B,distance(A,B));  
>{P1,P2,f}=circleCircleIntersections(c1,c2);  
>l=lineThrough(P1,P2);  
>setPlotRange(5); plotCircle(c1); plotCircle(c2);  
>plotPoint(A); plotPoint(B); plotSegment(A,B); plotLine(l):
```



Selanjutnya, kita melakukan hal yang sama di Maxima dengan koordinat umum.

```
>A &= [a1,a2]; B &= [b1,b2];
>c1 &= circleWithCenter(A,distance(A,B));
>c2 &= circleWithCenter(B,distance(A,B));
>P &= circleCircleIntersections(c1,c2); P1 &= P[1]; P2 &= P[2];
```

Persamaan untuk persimpangan cukup terlibat. Tapi kita bisa menyederhanakan, jika kita menyelesaikan  $y$ .

```
>g = getLineEquation(lineThrough(P1,P2),x,y);  
>$solve(g,y)
```

$$\left[ y = \frac{-(2b_1 - 2a_1)x + b_2^2 + b_1^2 - a_2^2 - a_1^2}{2b_2 - 2a_2} \right]$$

Ini memang sama dengan tengah tegak lurus, yang dihitung dengan cara yang sama sekali berbeda.

```
>$solve(getLineEquation(middlePerpendicular(A,B),x,y),y)
```

$$\left[ y = \frac{-(2b_1 - 2a_1)x + b_2^2 + b_1^2 - a_2^2 - a_1^2}{2b_2 - 2a_2} \right]$$

```
>h =getLineEquation(lineThrough(A,B),x,y);  
>$solve(h,y)
```

$$\left[ y = \frac{(b_2 - a_2)x - a_1b_2 + a_2b_1}{b_1 - a_1} \right]$$

Perhatikan hasil kali gradien garis  $g$  dan  $h$  adalah:

$$\frac{-(b_1 - a_1)}{(b_2 - a_2)} \times \frac{(b_2 - a_2)}{(b_1 - a_1)} = -1.$$

Artinya kedua garis tegak lurus.

### **Contoh 3: Rumus Heron**

---

Rumus Heron menyatakan bahwa luas segitiga dengan panjang sisi-sisi a, b dan c adalah:

$$L = \sqrt{s(s-a)(s-b)(s-c)} \quad \text{dengan } s = (a+b+c)/2.$$

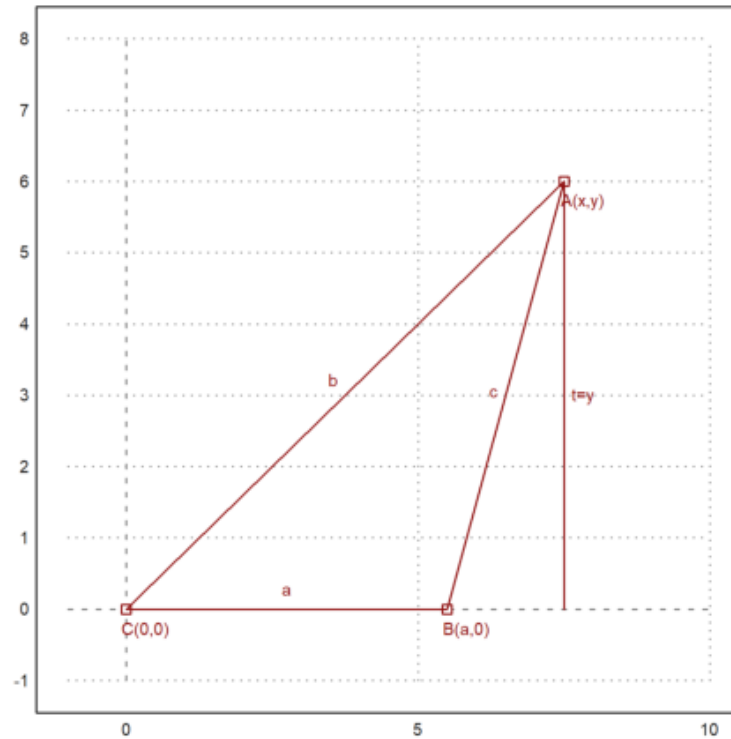
Untuk membuktikan hal ini kita misalkan C(0,0), B(a,0) dan A(x,y), b=AC, c=AB. Luas segitiga ABC adalah

$$L_{\triangle ABC} = \frac{1}{2}a \times y.$$

Nilai y didapat dengan menyelesaikan sistem persamaan:

$$x^2 + y^2 = b^2, \quad (x-a)^2 + y^2 = c^2.$$

```
>setPlotRange(-1,10,-1,8); plotPoint([0,0], "C(0,0)"); plotPoint([5.5,0], "B(a,0)"); ...
>plotPoint([7.5,6], "A(x,y)");
>plotSegment([0,0],[5.5,0], "a",25); plotSegment([5.5,0],[7.5,6], "c",15); ...
>plotSegment([0,0],[7.5,6], "b",25);
>plotSegment([7.5,6],[7.5,0], "t=y",25):
```



```
>&assume(a>0); sol &= solve([x^2+y^2=b^2, (x-a)^2+y^2=c^2], [x,y])
```

□



Ekstrak solusi y

```
>ysol &= y with sol[2][2]; $'y=sqrt(factor(ysol^2))
```

Maxima said:

part: invalid index of list or matrix.

-- an error. To debug this try: debugmode(true);

Error in:

```
ysol &= y with sol[2][2]; $'y=sqrt(factor(ysol^2)) ...
```

Kita mendapatkan formula Heron.

```
>function H(a,b,c) &= sqrt(factor((ysol*a/2)^2)); $'H(a,b,c)=H(a,b,c)
```

$$H(a, b, [1, 0, 4]) = \frac{a |ysol|}{2}$$

Tentu saja, setiap segitiga persegi panjang adalah kasus yang terkenal.

```
>H(3,4,5) //luas segitiga siku-siku dengan panjang sisi 3, 4, 5
```

```
Variable or function ysol not found.  
Try "trace errors" to inspect local variables after errors.  
H:  
  useglobal; return a*abs(ysol)/2  
Error in:  
H(3,4,5) //luas segitiga siku-siku dengan panjang sisi 3, 4, 5 ...  
^
```

Dan jelas juga, bahwa ini adalah segitiga dengan luas maksimal dan kedua sisinya 3 dan 4.

```
>aspect (1.5); plot2d(&H(3,4,x),1,7): // Kurva luas segitiga dengan panjang sisi 3, 4, x (1<= x <=7)
```

```
Variable or function ysol not found.  
Error in expression: 3*abs(ysol)/2  
%ploteval:  
  y0=f$(x[1],args());  
adaptiveevalone:  
  s=%ploteval(g$,t,args());  
Try "trace errors" to inspect local variables after errors.  
plot2d:  
  dw/n,dw/n^2,dw/n,auto,args());
```

Kasus umum juga berfungsi.

```
>$solve(diff(H(a,b,c)^2,c)=0,c)
```

Maxima said:

```
diff: second argument must be a variable; found [1,0,4]
-- an error. To debug this try: debugmode(true);
```

Error in:

```
$solve(diff(H(a,b,c)^2,c)=0,c) ...
```

Sekarang mari kita cari himpunan semua titik di mana  $b + c = d$  untuk beberapa konstanta  $d$ . Diketahui bahwa ini adalah elips.

```
>s1 &= subst(d-c,b,sol[2]); $s1
```

Maxima said:

```
part: invalid index of list or matrix.
-- an error. To debug this try: debugmode(true);
```

Error in:

```
s1 &= subst(d-c,b,sol[2]); $s1 ...
```

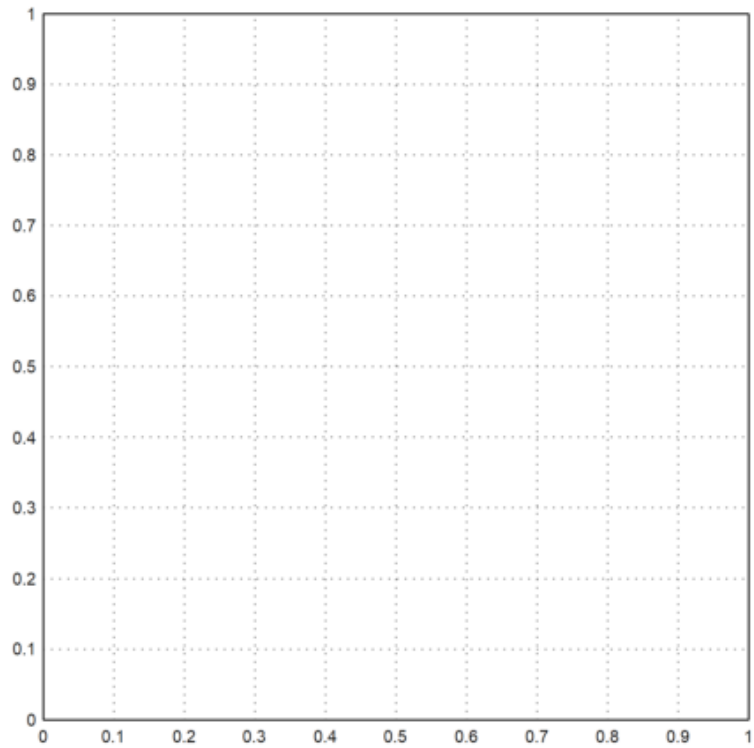
Dan membuat persamaan seperti ini

```
>function fx(a,c,d) &= rhs(s1[1]); $fx(a,c,d), function fy(a,c,d) &= rhs(s1[2]); $fy(a,c,d)
```

0

Sekarang kita bisa menggambar setnya. Sisi b bervariasi dari 1 hingga 4. Diketahui bahwa kita mendapatkan elips.

```
>aspect(1); plot2d(&fx(3,x,5),&fy(3,x,5),xmin=1,xmax=4,square=1):
```



Kita dapat memeriksa persamaan umum elips ini, yaitu.

$$\frac{(x - x_m)^2}{u^2} + \frac{(y - y_m)^2}{v^2} = 1,$$

di mana  $(x_m, y_m)$  adalah pusat, dan  $u$  dan  $v$  adalah setengah sumbu.

```
>$ratsimp((fx(a,c,d)-a/2)^2/u^2+fy(a,c,d)^2/v^2 with [u=d/2,v=sqrt(d^2-a^2)/2])
```

$$\frac{a^2}{d^2}$$

Kita melihat bahwa tinggi dan luas segitiga adalah maksimal untuk  $x = 0$ . Jadi luas segitiga dengan  $a + b + c = d$  adalah maksimal, jika sama sisi. Kami ingin mendapatkan ini secara analitis.

```
>eqns &= [diff(H(a,b,d-(a+b))^2,a)=0,diff(H(a,b,d-(a+b))^2,b)=0]; $eqns
```

$$\left[ \frac{a \text{ysol}^2}{2} = 0, 0 = 0 \right]$$

Kami mendapatkan beberapa minima, yang termasuk dalam segitiga dengan satu sisi 0, dan solusi  $a=b=c=d/3$ .

```
>$solve(eqns, [a,b])
```

$$[[a = 0, b = \%r_1]]$$

Ada juga metode Lagrange, memaksimalkan  $H(a,b,c)^2$  terhadap  $a+b+d=d$ .

```
>&solve([diff(H(a,b,c)^2,a)=1a,diff(H(a,b,c)^2,b)=1a, ...  
> diff(H(a,b,c)^2,c)=1a,a+b+c=d],[a,b,c,1a])
```

Maxima said:

```
diff: second argument must be a variable; found [1,0,4]  
-- an error. To debug this try: debugmode(true);
```

Error in:

```
... 1a, diff(H(a,b,c)^2,c)=1a,a+b+c=d],[a,b,c,1a]) ...  
^
```

Kita bisa membuat plot situasinya.

Pertama, atur poin di Maxima

```
>A &= at([x,y],sol[2]); $A
```

Maxima said:

```
part: invalid index of list or matrix.  
-- an error. To debug this try: debugmode(true);
```

Error in:

```
A &= at([x,y],sol[2]); $A ...  
^
```

```
>B &= [0,0]; $B, C &= [a,0]; $C
```

$[a, 0]$

Kemudian atur rentang plot, dan plot poinnya.

```
>setPlotRange(0,5,-2,3); ...  
>a=4; b=3; c=2; ...  
>plotPoint(mxmeval("B"),"B"); plotPoint(mxmeval("C"),"C"); ...  
>plotPoint(mxmeval("A"),"A"):
```

Variable a1 not found!

Use global variables or parameters for string evaluation.

Error in Evaluate, superfluous characters found.

Try "trace errors" to inspect local variables after errors.

mxmeval:

```
return evaluate(mxm(s));
```

Error in:

```
... otPoint(mxmeval("C"),"C"); plotPoint(mxmeval("A"),"A"): ...  
^
```

Plot segmennya.



```
>plotSegment(mxmeval("A"),mxmeval("C")); ...  
>plotSegment(mxmeval("B"),mxmeval("C")); ...  
>plotSegment(mxmeval("B"),mxmeval("A")):
```

```
Variable a1 not found!  
Use global variables or parameters for string evaluation.  
Error in Evaluate, superfluous characters found.  
Try "trace errors" to inspect local variables after errors.  
mxmeval:  
  return evaluate(mxm(s));  
Error in:  
plotSegment(mxmeval("A"),mxmeval("C")); plotSegment(mxmeval("B ...  
  ^
```

Hitung tengah tegak lurus di Maxima.

```
>h &= middlePerpendicular(A,B); g &= middlePerpendicular(B,C);
```

Dan bagian tengah dari keliling.

```
>U &= lineIntersection(h,g);
```

Kita mendapatkan rumus untuk jari-jari lingkaran.

```
>assume(a>0,b>0,c>0); $distance(U,B) | radcan
```

$$\frac{\sqrt{a_2^2 + a_1^2} \sqrt{a_2^2 + a_1^2 - 2 a a_1 + a^2}}{2 |a_2|}$$

Mari kita tambahkan ini ke plot.

```
>plotPoint(U()); ...  
>plotCircle(circleWithCenter(mxmeval("U"),mxmeval("distance(U,C)"))):
```

```
Variable a2 not found!  
Use global variables or parameters for string evaluation.  
Error in ^  
Error in expression: [a/2,(a2^2+a1^2-a*a1)/(2*a2)]  
Error in:  
plotPoint(U()); plotCircle(circleWithCenter(mxmeval("U"),mxmev ...  
^
```

Menggunakan geometri, kita mendapatkan rumus sederhana

$$\frac{a}{\sin(\alpha)} = 2r$$

untuk radius. Kita dapat memeriksa, apakah ini benar dengan Maxima. Maxima akan memfaktorkannya hanya jika kita mengkuadratkannya.

```
> $c^2/sin(computeAngle(A,B,C))^2 | factor
```

$$\left[ \frac{a_2^2 + a_1^2}{a_2^2}, 0, \frac{16(a_2^2 + a_1^2)}{a_2^2} \right]$$

**Contoh 4: Garis Euler dan Parabola**

---

Garis euler adalah garis yang ditentukan dari segitiga yang tidak sama sisi. Ini adalah garis tengah segitiga, dan melewati beberapa titik penting yang ditentukan dari segitiga, termasuk pusat ortosentrum, sirkumenter, pusat massa, titik Exeter, dan pusat lingkaran sembilan titik segitiga.

Untuk demonstrasi, kami menghitung dan memplot garis Euler dalam segitiga.

Pertama, kami menentukan sudut segitiga di Euler. Kami menggunakan definisi, yang terlihat dalam ekspresi simbolik.

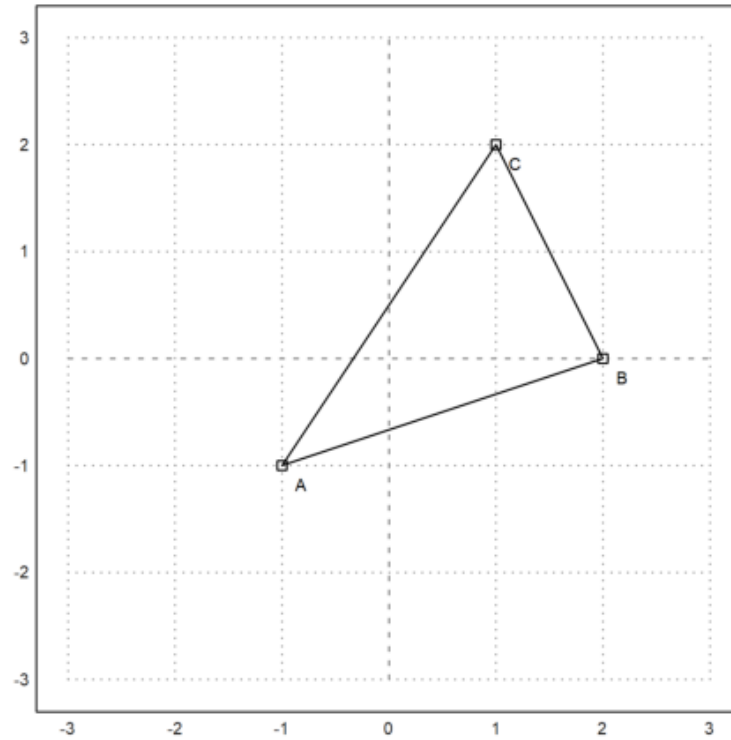
```
>A:=[-1,-1]; B:=[2,0]; C:=[1,2];
```

Untuk memplot objek geometris, kami menyiapkan area plot, dan menambahkan poin ke dalamnya. Semua plot objek geometris ditambahkan ke plot saat ini.

```
>setPlotRange(3); plotPoint(A,"A"); plotPoint(B,"B"); plotPoint(C,"C");
```

Kita juga bisa menambahkan sisi segitiga.

```
>plotSegment(A,B,""); plotSegment(B,C,""); plotSegment(C,A,""):
```



Berikut adalah luas segitiga menggunakan rumus determinan. Tentu saja kita harus mengambil nilai absolut dari hasil ini.

```
>$areaTriangle(A,B,C)
```

$$-\frac{7}{2}$$

Kita dapat menghitung koefisien dari sisi c.

```
>c = lineThrough(A,B)
```

$$[- 1, 3, - 2]$$

Dan juga dapatkan rumus untuk baris ini.

```
>$getLineEquation(c,x,y)
```

$$3y - x = -2$$

Untuk bentuk Hesse, kita perlu menentukan titik, sehingga titik tersebut berada di sisi positif dari bentuk Hesse. Memasukkan titik menghasilkan jarak positif ke garis.

```
>$getHesseForm(c,x,y,C), $at(%,[x=C[1],y=C[2]])
```

$$\frac{7}{\sqrt{10}}$$
$$\frac{7}{\sqrt{10}}$$

Sekarang kita menghitung sirkit ABC.

```
>LL &= circleThrough(A,B,C); $getCircleEquation(LL,x,y)
```

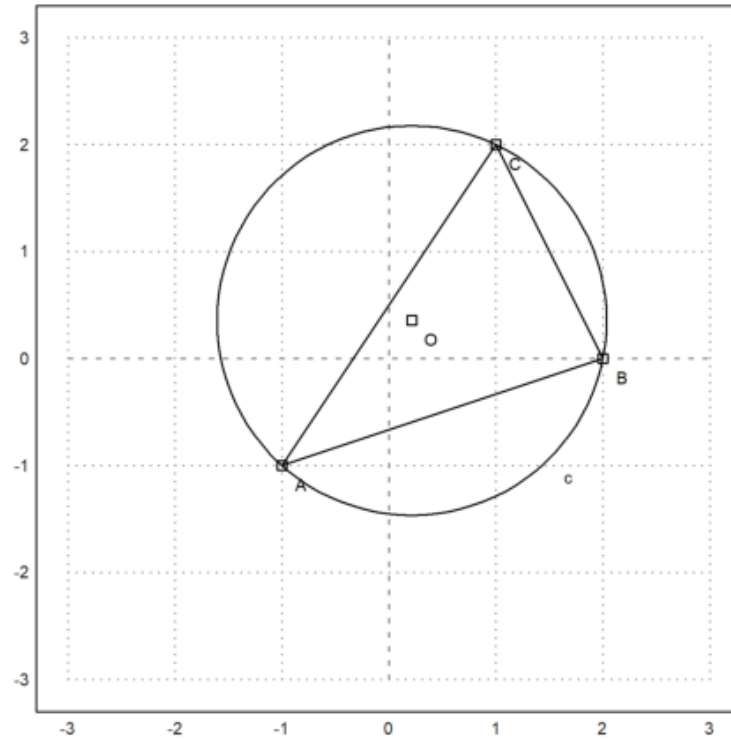
$$\left(y - \frac{5}{14}\right)^2 + \left(x - \frac{3}{14}\right)^2 = \frac{325}{98}$$

```
>O &= getCircleCenter(LL); $O
```

$$\left[\frac{3}{14}, \frac{5}{14}\right]$$

Plot lingkaran dan pusatnya. Cu dan U adalah simbolik. Kami mengevaluasi ekspresi ini untuk Euler.

```
>plotCircle(LL()); plotPoint(O(),"O"):
```





Kita dapat menghitung perpotongan ketinggian di ABC (orthocenter) secara numerik dengan perintah berikut.

```
>H &= lineIntersection(perpendicular(A,lineThrough(C,B)),...  
> perpendicular(B,lineThrough(A,C))); $H
```

$$\left[ \frac{11}{7}, \frac{2}{7} \right]$$

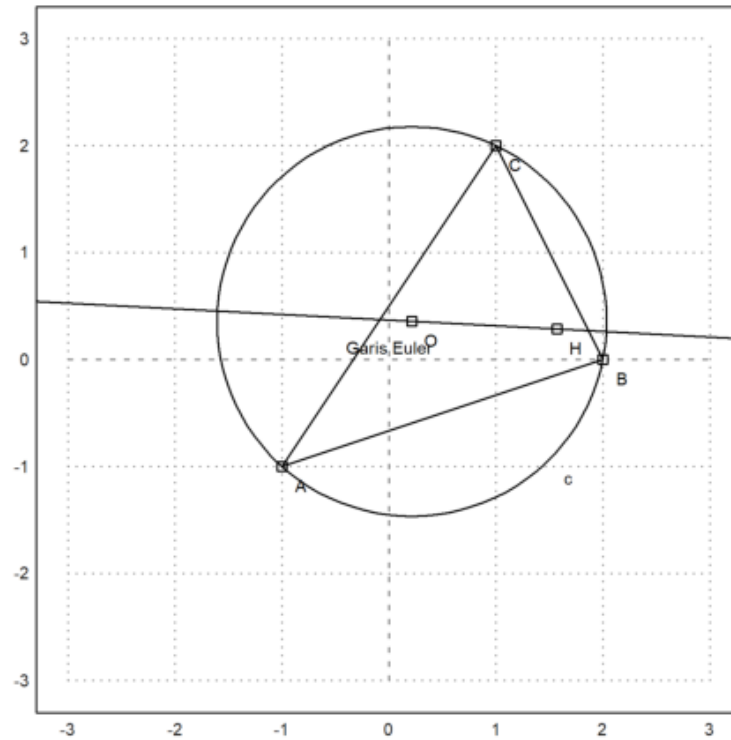
Sekarang kita dapat menghitung garis Euler dari segitiga tersebut.

```
>el &= lineThrough(H,O); $getLineEquation(el,x,y)
```

$$-\frac{19y}{14} - \frac{x}{14} = -\frac{1}{2}$$

Tambahkan ke plot kita.

```
>plotPoint(H(),"H"); plotLine(el(),"Garis Euler"):
```

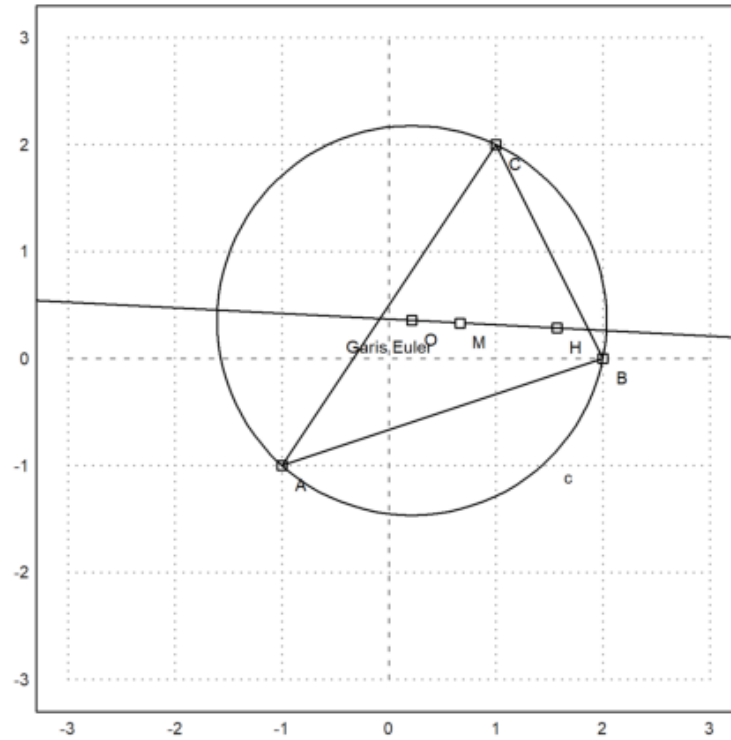


Pusat gravitasi harus berada di garis ini.

```
>M &= (A+B+C)/3; $getLineEquation(e1,x,y) with [x=M[1],y=M[2]]
```

$$-\frac{1}{2} = -\frac{1}{2}$$

```
>plotPoint(M(),"M"): // titik berat
```



Teorinya mengatakan bahwa  $MH=2*MO$ . Kita perlu menyederhanakan dengan radcan untuk mencapai ini.

```
>$distance(M,H)/distance(M,O)|radcan
```

2

Fungsinya termasuk fungsi untuk sudut juga.

```
>$computeAngle(A,C,B), degprint(%)
```

$$\arccos\left(\frac{4}{\sqrt{5}\sqrt{13}}\right)$$

60°15'18.43''

Persamaan untuk pusat lingkaran tidak terlalu bagus.

```
>Q &= lineIntersection(angleBisector(A,C,B),angleBisector(C,B,A))|radcan; $Q
```

$$\left[ \frac{\left(2^{\frac{3}{2}} + 1\right) \sqrt{5} \sqrt{13} - 15 \sqrt{2} + 3}{14}, \frac{(\sqrt{2} - 3) \sqrt{5} \sqrt{13} + 5 \cdot 2^{\frac{3}{2}} + 5}{14} \right]$$

Mari kita hitung juga ekspresi jari-jari lingkaran yang tertulis.

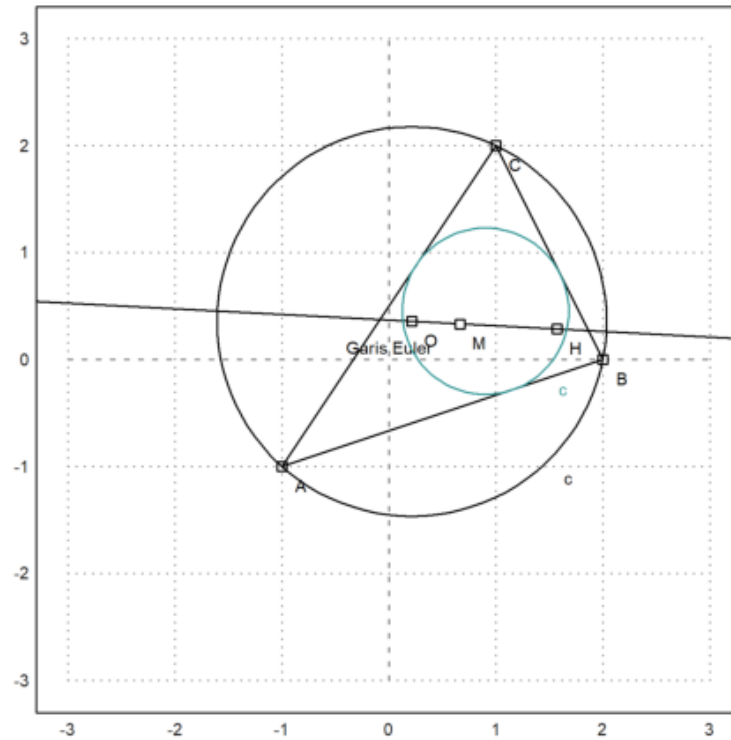
```
>r = distance(Q,projectToLine(Q,lineThrough(A,B)))|ratsimp; $r
```

$$\frac{\sqrt{(-41\sqrt{2} - 31)\sqrt{5}\sqrt{13} + 115\sqrt{2} + 614}}{7\sqrt{2}}$$

```
>LD = circleWithCenter(Q,r); // Lingkaran dalam
```

Mari kita tambahkan ini ke plot.

```
>color(5); plotCircle(LD()):
```



Parabola

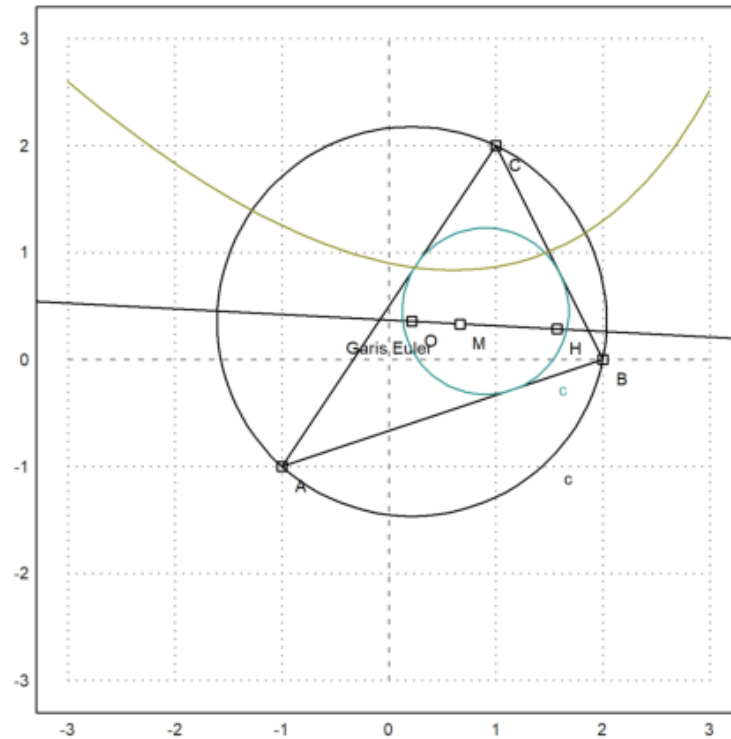
Selanjutnya akan dicari persamaan tempat kedudukan titik-titik yang berjarak sama ke titik C dan ke garis AB.

```
>p &= getHesseForm(lineThrough(A,B),x,y,C)-distance([x,y],C); $p='0
```

$$\frac{3y - x + 2}{\sqrt{10}} - \sqrt{(2 - y)^2 + (1 - x)^2} = 0$$

Persamaan tersebut dapat digambar menjadi satu dengan gambar sebelumnya.

```
>plot2d(p,level=0,add=1,contourcolor=6):
```



Ini seharusnya menjadi beberapa fungsi, tetapi pemecah default Maxima dapat menemukan solusi hanya, jika persamaan kita kuadratkan. Akibatnya, kami mendapatkan solusi palsu.

```
>akar &= solve(getHesseForm(lineThrough(A,B),x,y,C)^2-distance([x,y],C)^2,y)
```



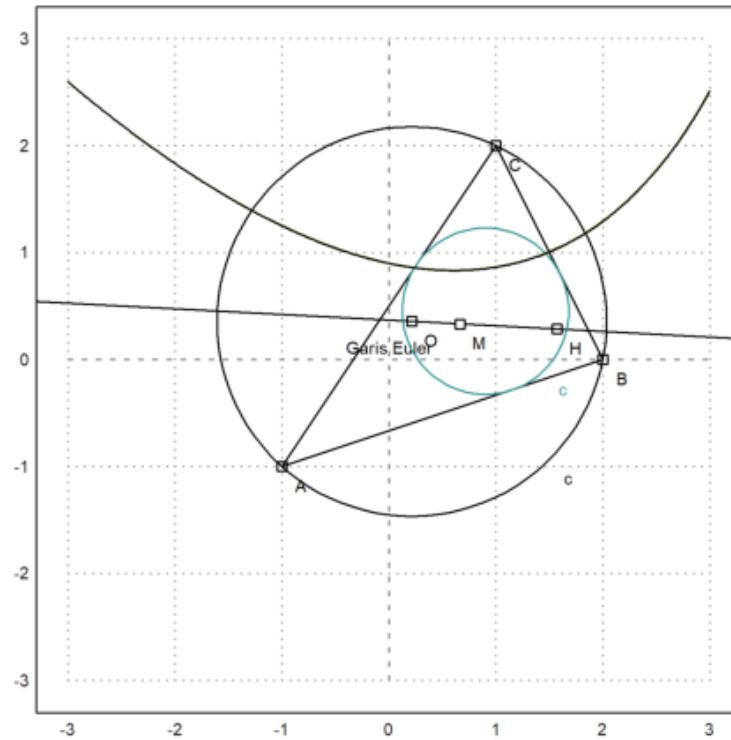
$$\begin{aligned} [y = -3x - \sqrt{70} \sqrt{9 - 2x} + 26, \\ y = -3x + \sqrt{70} \sqrt{9 - 2x} + 26] \end{aligned}$$

Solusi pertama adalah

maxima: akar[1]

Menambahkan solusi pertama ke pertunjukkan plot, bahwa itu memang jalan yang kita cari. Teori mengatakan kepada kita bajwa itu adalah parabola yang diputar.

```
>plot2d(&rhs(akar[1]),add=1):
```



```
>function g(x) &= rhs(akar[1]); $'g(x)= g(x)// fungsi yang mendefinisikan kurva di atas
```

$$g(x) = -3x - \sqrt{70} \sqrt{9 - 2x} + 26$$

```
>T &=[-1, g(-1)]; // ambil sebarang titik pada kurva tersebut  
>dTC &= distance(T,C); $fullratsimp(dTC), $float(%) // jarak T ke C
```

2.135605779339061

```
>U &= projectToLine(T,lineThrough(A,B)); $U // proyeksi T pada garis AB
```

$$\left[ \frac{80 - 3\sqrt{11}\sqrt{70}}{10}, \frac{20 - \sqrt{11}\sqrt{70}}{10} \right]$$

```
>dU2AB &= distance(T,U); $fullratsimp(dU2AB), $float(%) // jarak T ke AB
```

2.135605779339061

Ternyata jarak T ke C sama dengan jarak T ke AB. Coba Anda pilih titik T yang lain dan ulangi perhitungan-perhitungan di atas untuk menunjukkan bahwa hasilnya juga sama.

## Contoh 5: Trigonometri Rasional

---

Ini terinspirasi oleh ceramah N.J.Wildberger. Dalam bukunya "Proporsi Agung", Wildberger mengusulkan untuk menggantikan pengertian klasik tentang jarak dan sudut dengan kuadransi dan penyebaran. Dengan menggunakan ini, memang mungkin untuk menghindari fungsi trigonometri dalam banyak contoh, dan tetap "rasional".

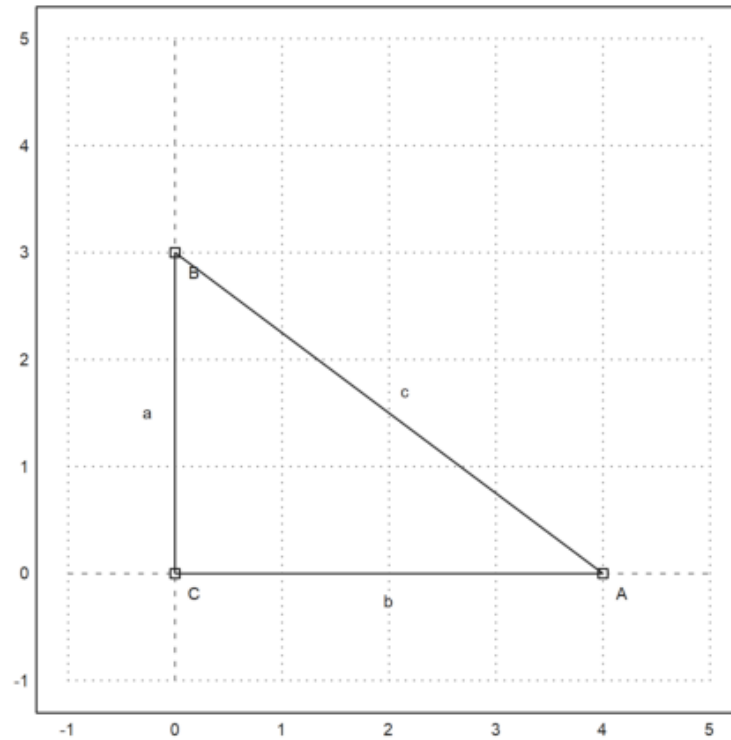
Berikut ini, saya memperkenalkan konsep, dan memecahkan beberapa masalah. Saya menggunakan perhitungan simbolik Maxima di sini, yang menyembunyikan keuntungan utama dari trigonometri rasional bahwa perhitungan dapat dilakukan dengan kertas dan pensil saja. Anda diundang untuk memeriksa hasil tanpa komputer.

Intinya adalah bahwa perhitungan rasional simbolis sering kali menghasilkan hasil yang sederhana. Sebaliknya, trigonometri klasik menghasilkan hasil trigonometri yang rumit, yang mengevaluasi ke pendekatan numerik saja.

```
>load geometry;
```

Untuk pendahuluan pertama, kami menggunakan segitiga persegi panjang dengan proporsi Mesir terkenal 3, 4 dan 5. Perintah berikut adalah perintah Euler untuk memplot geometri bidang yang terdapat dalam file Euler "geometry.e".

```
>C&:=[0,0]; A&:=[4,0]; B&:=[0,3]; ...  
>setPlotRange(-1,5,-1,5); ...  
>plotPoint(A,"A"); plotPoint(B,"B"); plotPoint(C,"C"); ...  
>plotSegment(B,A,"c"); plotSegment(A,C,"b"); plotSegment(C,B,"a"); ...  
>insimg(30);
```



Tentu saja,

$$\sin(w_a) = \frac{a}{c},$$

di mana  $\alpha$  adalah sudut di A. Cara biasa untuk menghitung sudut ini, adalah dengan melakukan invers dari fungsi sinus. Hasilnya adalah sudut yang tidak dapat dicerna, yang hanya dapat dicetak secara perkiraan.

```
>wa := arcsin(3/5); degprint(wa)
```

36°52'11.63''

Trigonometri rasional mencoba menghindari hal ini.

Pengertian pertama dari trigonometri rasional adalah kuadran, yang menggantikan jarak. Faktanya, itu hanyalah kuadrat jarak. Berikut ini,  $a$ ,  $b$ , dan  $c$  menunjukkan kuadrat sisi-sisinya.

Teorema Pythagoras menjadi  $a+b=c$  lalu.

```
>a &= 3^2; b &= 4^2; c &= 5^2; &a+b=c
```

25 = 25

Gagasan kedua dari trigonometri rasional adalah penyebarannya. Spread mengukur bukaan antar baris. Ini adalah 0, jika garis sejajar, dan 1, jika garis persegi panjang. Ini adalah kuadrat dari sinus sudut antara dua garis.

Penyebaran garis AB dan AC pada gambar di atas didefinisikan sebagai

$$s_a = \sin(\alpha)^2 = \frac{a}{c},$$

di mana  $a$  dan  $c$  adalah kuadrat dari segitiga persegi panjang mana pun dengan satu sudut di  $A$ .

```
>sa &= a/c; $sa
```

$$\frac{9}{25}$$

Ini lebih mudah dihitung daripada sudut, tentu saja. Tetapi Anda kehilangan properti yang sudut dapat ditambahkan dengan mudah.

Tentu saja, kita dapat mengubah nilai perkiraan sudut  $w$  menjadi sprad, dan mencetaknya sebagai pecahan.

```
>fracprint(sin(wa)^2)
```

$$9/25$$

Hukum cosinus dari trigonometri klasik diterjemahkan menjadi "hukum silang" berikut.

$$(c + b - a)^2 = 4bc(1 - s_a)$$

Di sini  $a$ ,  $b$ , dan  $c$  adalah kuadran dari sisi-sisi segitiga, dan  $sa$  adalah sebaran di sudut  $A$ . Sisi  $a$ , seperti biasa, berlawanan dengan sudut  $A$ .

Hukum ini diimplementasikan dalam file `geometry.e` yang kami muat ke Euler.

```
>$crosslaw(aa,bb,cc,saa)
```

$$\left[ \left( bb - aa + \frac{7}{6} \right)^2, \left( bb - aa + \frac{7}{6} \right)^2, \left( bb - aa + \frac{5}{3\sqrt{2}} \right)^2 \right] = \left[ \frac{14 bb (1 - saa)}{3}, \frac{14 bb (1 - saa)}{3}, \frac{5 \cdot 2^{\frac{3}{2}} bb (1 - saa)}{3} \right]$$

Dalam kasus kami, kita mendapatkan

```
>$crosslaw(a,b,c,sa)
```

$$1024 = 1024$$

Mari kita gunakan `crosslaw` ini untuk mencari sebaran di  $A$ . Untuk melakukan ini, kita menghasilkan `crosslaw` untuk kuadran  $a$ ,  $b$ , dan  $c$ , dan menyelesaikannya untuk sebaran yang tidak diketahui  $sa$ .

Anda dapat melakukan ini dengan tangan dengan mudah, tetapi saya menggunakan Maxima. Tentu saja, kami mendapatkan hasilnya, kami sudah mendapatkannya.

```
>$crosslaw(a,b,c,x), $solve(%,x)
```

$$\left[ x = \frac{9}{25} \right]$$



$$\left[ x = \frac{9}{25} \right]$$

Kami sudah tahu ini. Definisi penyebaran adalah kasus khusus dari hukum lintas hukum.

Kita juga bisa menyelesaikan ini untuk umum  $a$ ,  $b$ ,  $c$ . Hasilnya adalah rumus yang menghitung sebaran sudut segitiga berdasarkan kuadran ketiga sisinya.

```
>$solve(crosslaw(aa,bb,cc,x),x)
```

$$\left[ \left[ \frac{168 bb x + 36 bb^2 + (-72 aa - 84) bb + 36 aa^2 - 84 aa + 49}{36}, \frac{168 bb x + 36 bb^2 + (-72 aa - 84) bb + 36 aa^2 - 84 aa + 49}{36} \right] \right]$$

Kita bisa membuat fungsi dari hasilnya. Fungsi seperti itu sudah ditentukan dalam file `geometry.e Euler`.

```
>$spread(a,b,c)
```

$$\frac{9}{25}$$

Sebagai contoh, kita bisa menggunakannya untuk menghitung sudut segitiga bersisi

$$a, \quad a, \quad \frac{4a}{7}$$

Hasilnya rasional, yang tidak mudah didapat jika kita menggunakan trigonometri klasik.

```
>$spread(a,a,4*a/7)
```

$$\frac{6}{7}$$

Ini adalah sudut dalam derajat.

```
>degprint(arcsin(sqrt(6/7)))
```

67°47'32.44''

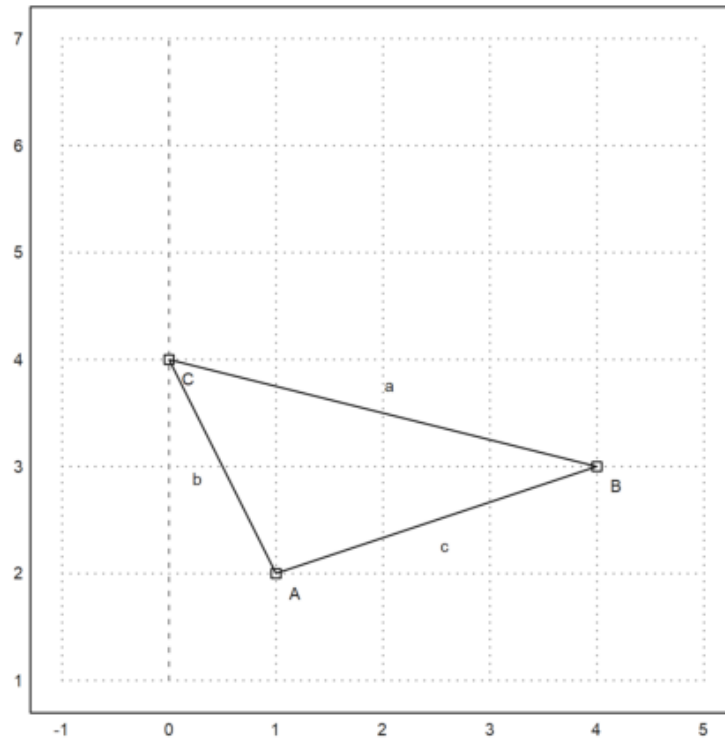
---

**Contoh lain**

Sekarang, mari kita coba contoh yang lebih canggih.

Kami mengatur tiga sudut segitiga sebagai berikut.

```
>A&:=[1,2]; B&:=[4,3]; C&:=[0,4]; ...  
>setPlotRange(-1,5,1,7); ...  
>plotPoint(A,"A"); plotPoint(B,"B"); plotPoint(C,"C"); ...  
>plotSegment(B,A,"c"); plotSegment(A,C,"b"); plotSegment(C,B,"a"); ...  
>insimg;
```



Menggunakan Pythagoras, mudah untuk menghitung jarak antara dua titik. Saya pertama kali menggunakan jarak fungsi file Euler untuk geometri. Jarak fungsi menggunakan geometri klasik.

```
>$distance(A,B)
```

$$\sqrt{10}$$

Euler juga memiliki fungsi kuadrans antara dua titik.

Dalam contoh berikut, karena  $c + b$  bukan  $a$ , segitiga tidak persegi panjang.

```
>c &= quad(A,B); $c, b &= quad(A,C); $b, a &= quad(B,C); $a,
```

17

Pertama, mari kita hitung sudut tradisional. Fungsi `computeAngle` menggunakan metode biasa berdasarkan perkalian titik dari dua vektor. Hasilnya adalah beberapa pendekatan floating point.

```
>wb &= computeAngle(A,B,C); $wb, $(wb/pi*180)()
```

$$\arccos\left(\frac{11}{\sqrt{10}\sqrt{17}}\right)$$

32.4711922908

Menggunakan pensil dan kertas, kita bisa melakukan hal yang sama dengan hukum silang. Kami memasukkan kuadran a, b, dan c ke dalam hukum silang dan menyelesaikan untuk x.

```
>$crosslaw(a,b,c,x), $solve(%,x),
```

$$\left[ x = \frac{49}{50} \right]$$

$$\left[ x = \frac{49}{50} \right]$$

Artinya, fungsi penyebaran yang didefinisikan dalam "geometry.e".

```
>sb &= spread(b,a,c); $sb
```

$$\frac{49}{170}$$

Maxima mendapatkan hasil yang sama dengan menggunakan trigonometri biasa, jika kita memaksakannya. Itu menyelesaikan istilah  $\sin(\arccos(\dots))$  menjadi hasil pecahan. Kebanyakan siswa tidak dapat melakukan ini.

```
>$sin(computeAngle(A,B,C))^2
```

$$\frac{49}{170}$$

Setelah kita mendapatkan sebaran di B, kita bisa menghitung tinggi  $h_a$  di sisi a. Ingat bahwa

$$s_b = \frac{h_a}{c}$$

Menurut definisi.

```
>ha &= c*sb; $ha
```

$$\frac{49}{17}$$

Gambar berikut telah diproduksi dengan program geometri C.a.R., yang dapat menggambar kuadran dan menyebar.

gambar : (20) Rational\_Geometry\_CaR.png

Menurut definisi, panjang  $h_a$  adalah akar kuadrat dari kuadrannya.

```
>$sqrt(ha)
```

$$\frac{7}{\sqrt{17}}$$

Sekarang kita bisa menghitung luas segitiga. Jangan lupa, bahwa kita berurusan dengan kuadran!

```
>sqrt(ha)*sqrt(a)/2
```

$$\frac{7}{2}$$

Rumus determinan yang biasa menghasilkan hasil yang sama.

```
>areaTriangle(B,A,C)
```

$$\frac{7}{2}$$

---

## Formula Heron

Sekarang, mari kita selesaikan masalah ini secara umum!

```
>remvalue(a,b,c,sb,ha);
```



Pertama-tama kita menghitung spread di B untuk segitiga dengan sisi a, b, dan c. Kemudian kami menghitung luas area yang dikuadratkan ("kuadrea"?), Memfaktorkannya dengan Maxima, dan kami mendapatkan rumus Heron yang terkenal.

Memang, ini sulit dilakukan dengan pensil dan kertas.

```
>$spread(b^2,c^2,a^2), $factor(%*c^2*a^2/4)
```

$$\frac{(-c + b + a)(c - b + a)(c + b - a)(c + b + a)}{16}$$

$$\frac{(-c + b + a)(c - b + a)(c + b - a)(c + b + a)}{16}$$

## Aturan Triple Spread

---

Kerugian dari spread adalah bahwa mereka tidak lagi hanya menambahkan sudut serupa. Namun, tiga sebaran segitiga memenuhi aturan "penyebaran rangkap tiga" berikut.

```
>&remvalue(sa,sb,sc); $triplespread(sa,sb,sc)
```

$$(sc + sb + sa)^2 = 2(sc^2 + sb^2 + sa^2) + 4sa sb sc$$

Aturan ini berlaku untuk tiga sudut yang bertambah menjadi  $180^\circ$ .

$$\alpha + \beta + \gamma = \pi$$

Sejak penyebaran

$$\alpha, \pi - \alpha$$

sama, aturan penyebaran tiga kali lipat juga benar, jika

$$\alpha + \beta = \gamma$$

Karena penyebaran sudut negatif adalah sama, aturan penyebaran tiga kali lipat juga berlaku, jika

$$\alpha + \beta + \gamma = 0$$

Misalnya, kita dapat menghitung sebaran sudut  $60^\circ$ . Ini  $3/4$ . Persamaan memiliki solusi kedua, di mana semua spread adalah 0.

```
>$solve(triplespread(x,x,x),x)
```

$$\left[ x = \frac{3}{4}, x = 0 \right]$$

Sebaran  $90^\circ$  jelaslah 1. Jika dua sudut dijumlahkan menjadi  $90^\circ$ , penyebarannya menyelesaikan persamaan penyebaran rangkap tiga dengan a, b, 1. Dengan perhitungan berikut kita mendapatkan  $a+b=1$ .

```
>triplespread(x,y,1), $solve(%,x)
```

$$[x = 1 - y]$$

Karena penyebaran  $180^\circ$ -t sama dengan penyebaran t, rumus penyebaran rangkap tiga juga berlaku, jika satu sudut adalah jumlah atau perbedaan dari dua sudut lainnya.

Jadi kita bisa menemukan sebaran sudut berlipat ganda. Perhatikan bahwa ada dua solusi lagi. Kami menjadikan ini sebuah fungsi.

```
>$solve(triplespread(a,a,x),x), function doublespread(a) &= factor(rhs(%[1]))
```

$$[x = 4a - 4a^2, x = 0]$$

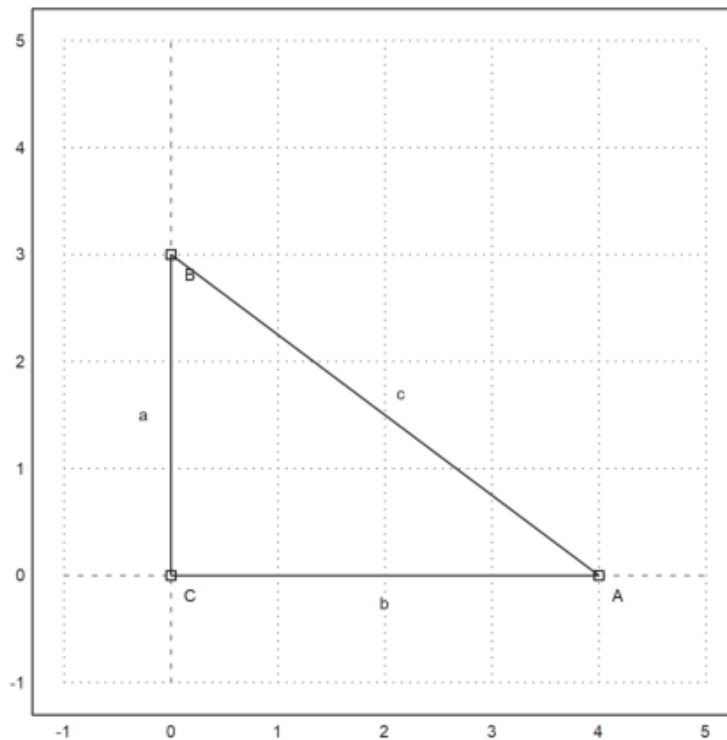
$$- 4 (a - 1) a$$

---

**Pembagi Sudut**

Ini situasinya, kita sudah tahu.

```
>C&:=[0,0]; A&:=[4,0]; B&:=[0,3]; ...  
>setPlotRange(-1,5,-1,5); ...  
>plotPoint(A,"A"); plotPoint(B,"B"); plotPoint(C,"C"); ...  
>plotSegment(B,A,"c"); plotSegment(A,C,"b"); plotSegment(C,B,"a"); ...  
>insimg;
```



Mari kita hitung panjang bisektor sudut pada A. Tapi kita ingin menyelesaikannya untuk umum a, b, c.

```
>remvalue(a,b,c);
```

Jadi pertama-tama kita menghitung sebaran sudut terbagi di A, menggunakan rumus sebaran rangkap tiga.

Masalah dengan rumus ini muncul lagi. Ini memiliki dua solusi. Kami harus memilih yang benar. Solusi lainnya mengacu pada sudut terbagi 180°-wa.

```
>$triplespread(x,x,a/(a+b)), $solve(%,x), sa2 &= rhs(%[1]); $sa2
```

$$\frac{-\sqrt{b}\sqrt{b+a}+b+a}{2b+2a}$$

$$\left[ x = \frac{-\sqrt{b}\sqrt{b+a}+b+a}{2b+2a}, x = \frac{\sqrt{b}\sqrt{b+a}+b+a}{2b+2a} \right]$$

$$\frac{-\sqrt{b}\sqrt{b+a}+b+a}{2b+2a}$$

Mari kita periksa persegi panjang Mesir.

```
>$sa2 with [a=3^2,b=4^2]
```

$$\frac{1}{10}$$

Kami dapat mencetak sudut di Euler, setelah mentransfer penyebaran ke radian.

```
>wa2 := arcsin(sqrt(1/10)); degprint(wa2)
```

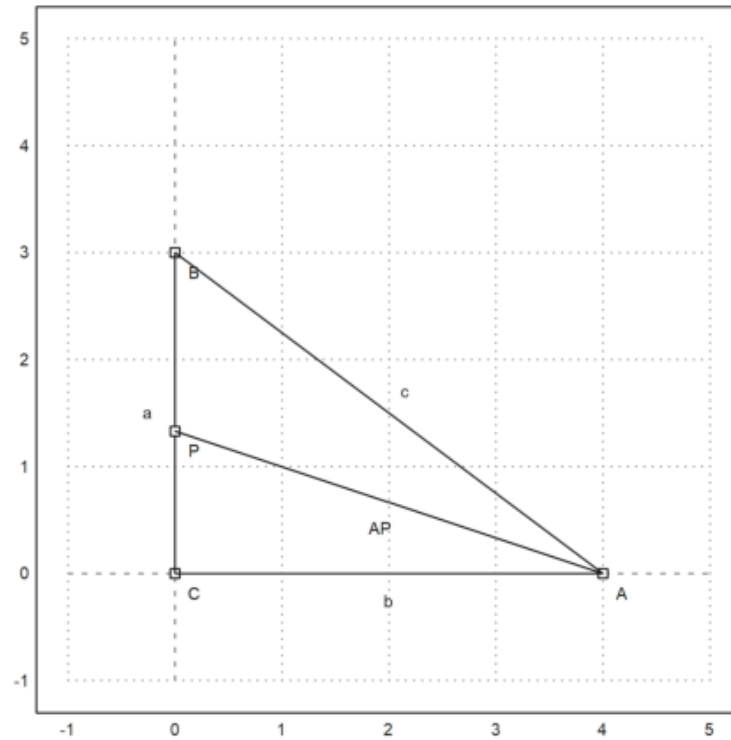
18°26'5.82''

Titik P adalah perpotongan dari garis bagi sudut dengan sumbu y.

```
>P := [0,tan(wa2)*4]
```

[0, 1.33333]

```
>plotPoint(P,"P"); plotSegment(A,P):
```



Mari kita periksa sudut dalam contoh spesifik kita.

```
>computeAngle(C,A,P), computeAngle(P,A,B)
```

```
0.321750554397  
0.321750554397
```

Sekarang kita menghitung panjang bisektor AP.

Kita menggunakan teorema sinus di segitiga APC. Teorema ini menyatakan bahwa

$$\frac{BC}{\sin(w_a)} = \frac{AC}{\sin(w_b)} = \frac{AB}{\sin(w_c)}$$

memegang di segitiga apa pun. Persegi itu, itu diterjemahkan ke dalam apa yang disebut "hukum penyebaran"

$$\frac{a}{s_a} = \frac{b}{s_b} = \frac{c}{s_c}$$

dimana a, b, c menunjukkan qudrance.

Karena BPA sebaran adalah  $1-sa^2$ , kita dapatkan darinya bisa  $/ 1 = b / (1-sa^2)$  dan dapat menghitung bisa (kuadran garis-garis).

```
>&factor(ratsimp(b/(1-sa2))); bisa &= %; $bisa
```

$$\frac{2b(b+a)}{\sqrt{b}\sqrt{b+a+b+a}}$$

Mari kita periksa rumus ini untuk nilai Mesir kita.

```
>sqrt(mxmeval("at(bisa,[a=3^2,b=4^2]")), distance(A,P)
```

4.21637021356

4.21637021356



Kami juga dapat menghitung P menggunakan rumus spread.

```
>py:=factor(ratsimp(sa2*bisa)); $py
```

$$-\frac{b \left( \sqrt{b} \sqrt{b+a} - b - a \right)}{\sqrt{b} \sqrt{b+a} + b + a}$$

Nilainya sama dengan yang kita dapatkan dengan rumus trigonometri.

```
>sqrt(mxmeval("at(py,[a=3^2,b=4^2])"))
```

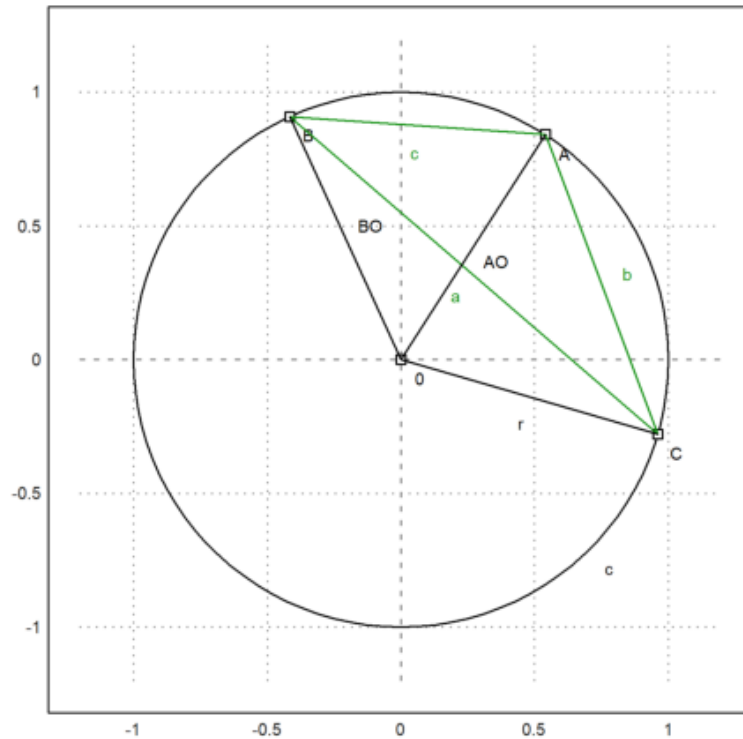
1.33333333333

---

**Sudut Akord**

Perhatikan situasi berikut.

```
>setPlotRange(1.2); ...
>color(1); plotCircle(circleWithCenter([0,0],1)); ...
>A:=[cos(1),sin(1)]; B:=[cos(2),sin(2)]; C:=[cos(6),sin(6)]; ...
>plotPoint(A,"A"); plotPoint(B,"B"); plotPoint(C,"C"); ...
>color(3); plotSegment(A,B,"c"); plotSegment(A,C,"b"); plotSegment(C,B,"a"); ...
>color(1); O:=[0,0]; plotPoint(O,"O"); ...
>plotSegment(A,O); plotSegment(B,O); plotSegment(C,O,"r"); ...
>insimg;
```



Kita bisa menggunakan Maxima untuk menyelesaikan rumus sebaran rangkap tiga untuk sudut di pusat O untuk  $r$ . Jadi kita mendapatkan rumus untuk jari-jari kuadrat dari keliling dalam hal kuadrat sisi.

Kali ini, Maxima menghasilkan beberapa angka nol yang kompleks, yang kita abaikan.

```
>remvalue(a,b,c,r); // hapus nilai-nilai sebelumnya untuk perhitungan baru
>rabc &= rhs(solve(triplespread(spread(b,r,r),spread(a,r,r),spread(c,r,r)),r)[4]); $rabc
```

$$-\frac{abc}{c^2 - 2bc + a(-2c - 2b) + b^2 + a^2}$$

Kita bisa menjadikannya sebagai fungsi Euler.

```
>function periradius(a,b,c) &= rabc;
```

Mari kita periksa hasilnya untuk poin A, B, C kita.

```
>a:=quadrance(B,C); b:=quadrance(A,C); c:=quadrance(A,B);
```

Radiusnya memang 1.

```
>periradius(a,b,c)
```

Faktanya, penyebaran CBA hanya bergantung pada  $b$  dan  $c$ . Ini adalah teorema sudut akord.

```
>$spread(b,a,c)*rabc | ratsimp
```

$$\frac{b}{4}$$

Sebenarnya sebarannya adalah  $b/(4r)$ , dan kita melihat bahwa sudut akor  $b$  adalah setengah dari sudut tengah.

```
>$doublespread(b/(4*r))-spread(b,r,r) | ratsimp
```

$$0$$

## Contoh 6: Jarak Minimal pada Bidang

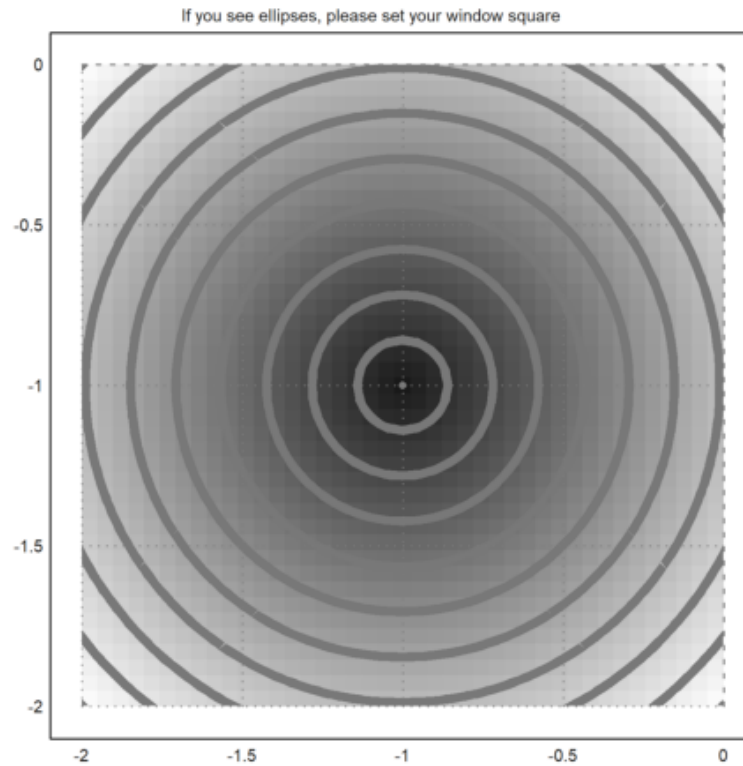
---

### Catatan awal

---

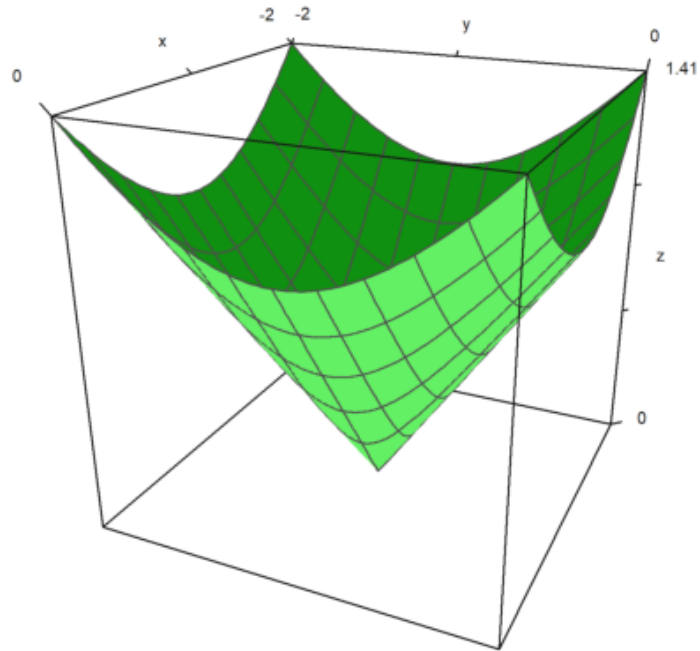
Fungsi yang, ke titik M di bidang, menetapkan jarak AM antara titik tetap A dan M, memiliki garis level yang agak sederhana: lingkaran berpusat di A.

```
>remvalue();  
>A=[-1,-1];  
>function d1(x,y):=sqrt((x-A[1])^2+(y-A[2])^2)  
>fcontour("d1",xmin=-2,xmax=0,ymin=-2,ymax=0,hue=1, ...  
>title="If you see ellipses, please set your window square");
```



dan grafiknya juga agak sederhana: bagian atas kerucut:

```
>plot3d("d1",xmin=-2,xmax=0,ymin=-2,ymax=0):
```



Tentu saja minimal 0 dicapai di A.

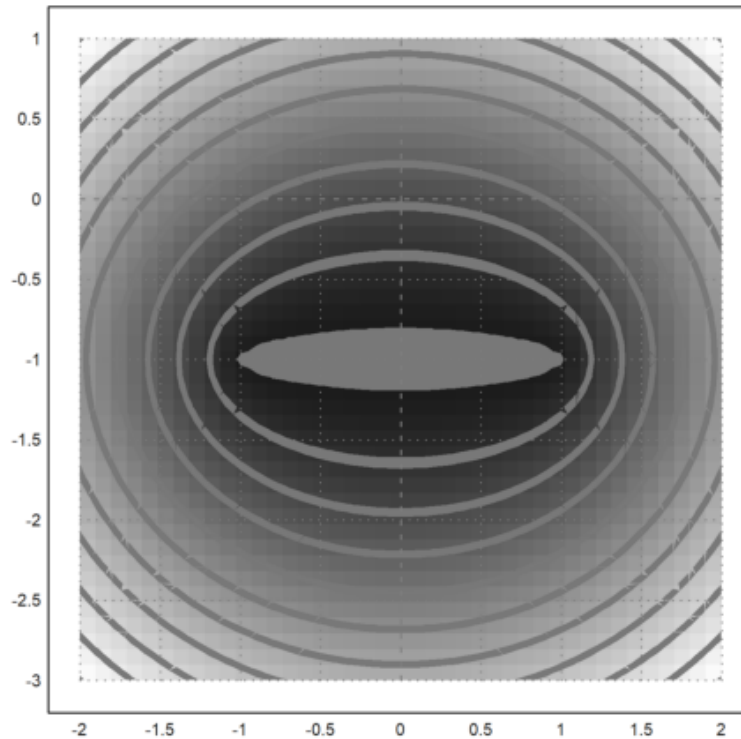
---

Dua titik



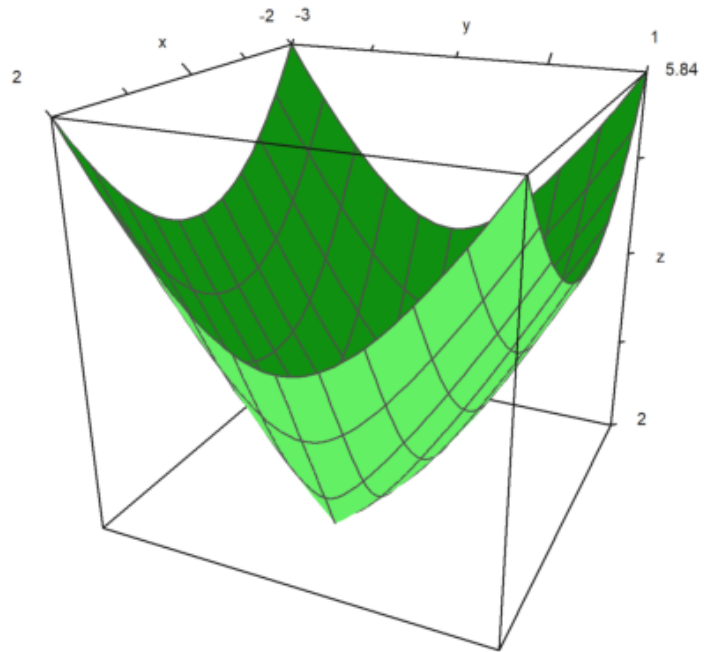
Sekarang kita melihat fungsi  $MA + MB$  dimana  $A$  dan  $B$  adalah dua titik (tetap). Ini adalah "fakta yang terkenal" bahwa kurva level adalah elips, titik fokusnya adalah  $A$  dan  $B$ ; kecuali untuk minimum  $AB$  yang konstan pada segmen  $[AB]$ :

```
>B=[1,-1];  
>function d2(x,y):=d1(x,y)+sqrt((x-B[1])^2+(y-B[2])^2)  
>fcontour("d2",xmin=-2,xmax=2,ymin=-3,ymax=1,hue=1):
```



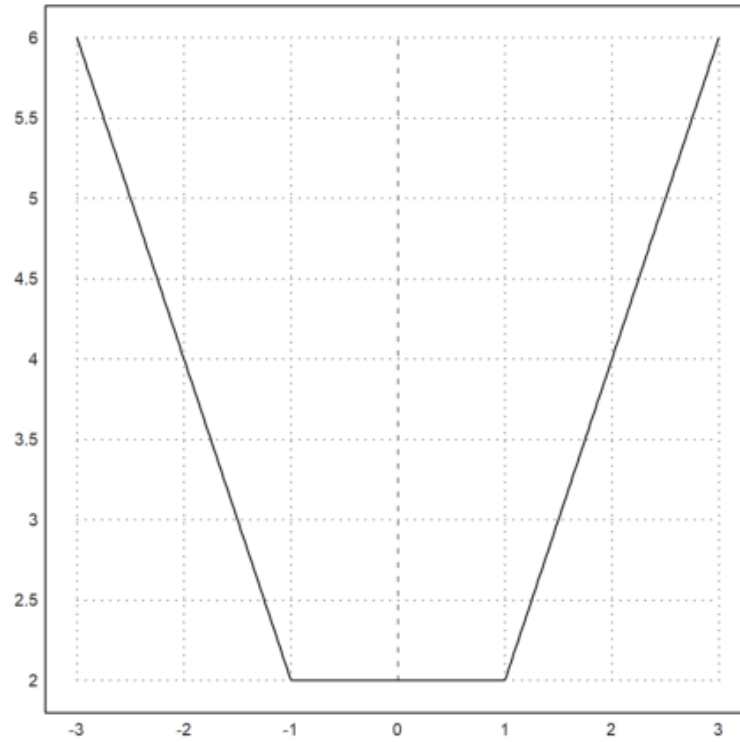
Grafiknya lebih menarik:

```
>plot3d("d2",xmin=-2,xmax=2,ymin=-3,ymax=1):
```



Batasan ke baris (AB) lebih terkenal:

```
>plot2d("abs(x+1)+abs(x-1)",xmin=-3,xmax=3):
```

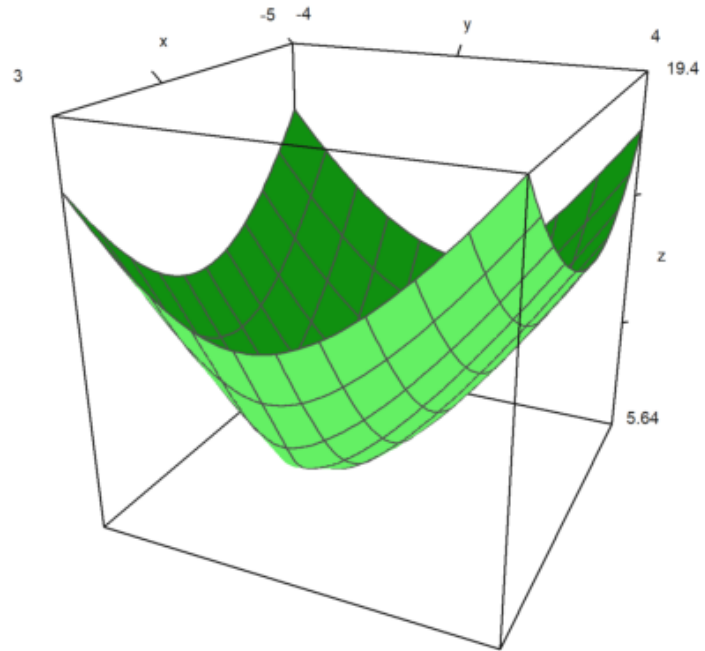


Sekarang hal-hal menjadi kurang sederhana: Sedikit kurang diketahui bahwa  $MA+MB+MC$  mencapai minimumnya pada satu titik bidang tetapi untuk menentukannya kurang sederhana:

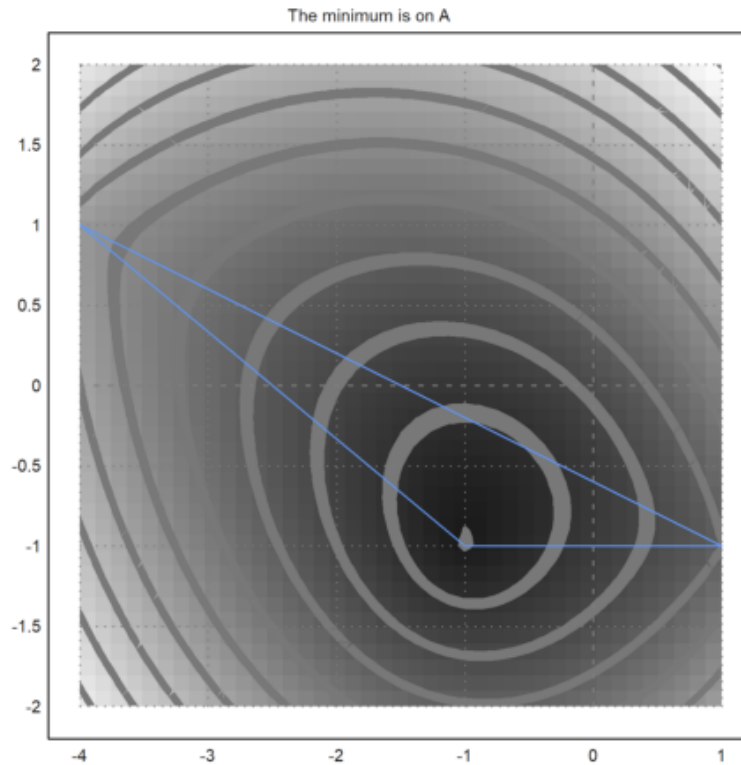
1) Jika salah satu sudut segitiga ABC lebih dari  $120^\circ$  (katakanlah dalam A), maka minimum tercapai pada titik ini (katakanlah AB+AC).

Contoh:

```
>C=[-4,1];  
>function d3(x,y):=d2(x,y)+sqrt((x-C[1])^2+(y-C[2])^2)  
>plot3d("d3",xmin=-5,xmax=3,ymin=-4,ymax=4);  
>insimg;
```

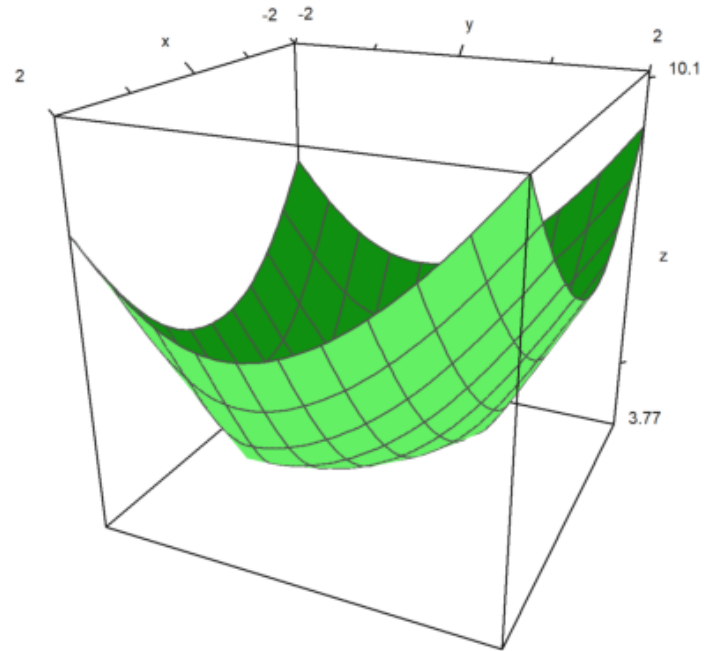


```
>fcontour("d3",xmin=-4,xmax=1,ymin=-2,ymax=2,hue=1,title="The minimum is on A");  
>P=(A_B_C_A)'; plot2d(P[1],P[2],add=1,color=12);  
>insimg;
```

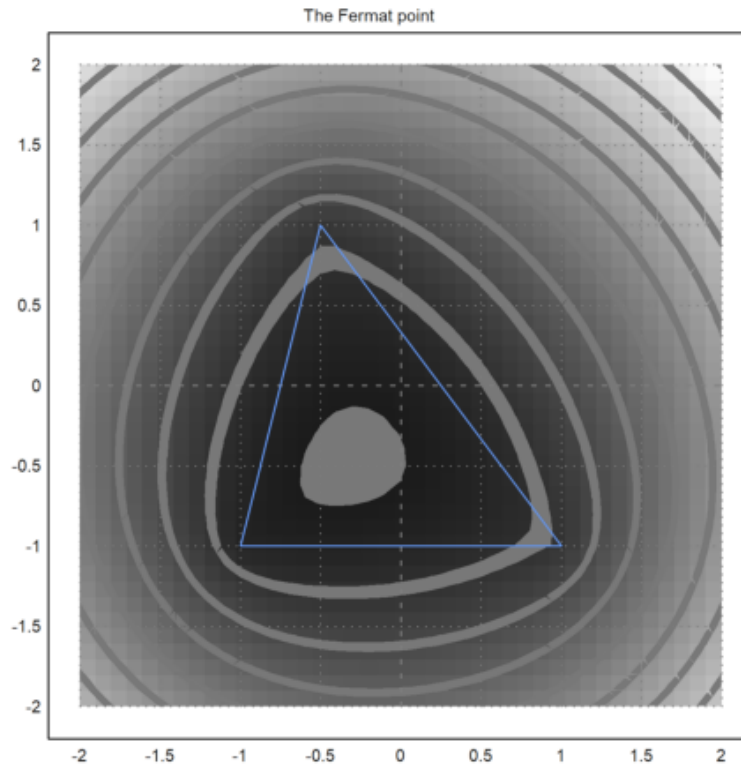


2) Tetapi jika semua sudut segitiga ABC kurang dari  $120^\circ$ , minimum berada pada titik F di bagian dalam segitiga, yang merupakan satu-satunya titik yang melihat sisi ABC dengan sudut yang sama (lalu masing-masing  $120^\circ$ ) :

```
>C=[-0.5,1];
>plot3d("d3",xmin=-2,xmax=2,ymin=-2,ymax=2):
```



```
>fcontour("d3",xmin=-2,xmax=2,ymin=-2,ymax=2,hue=1,title="The Fermat point");  
>P=(A_B_C_A)'; plot2d(P[1],P[2],add=1,color=12);  
>insimg;
```



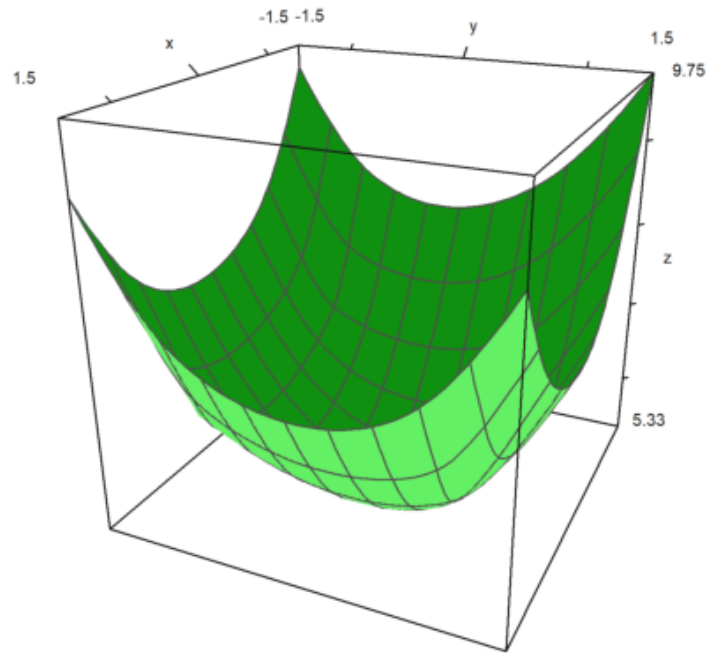
Merupakan kegiatan yang menarik untuk mewujudkan gambar di atas dengan perangkat lunak geometri; sebagai contoh, saya tahu soft tertulis di Java yang memiliki instruksi "garis kontur" ...

Semua ini di atas telah ditemukan oleh seorang hakim Prancis bernama Pierre de Fermat; dia menulis surat kepada para penggila lainnya seperti pendeta Marin Mersenne dan Blaise Pascal yang bekerja di bagian pajak penghasilan. Jadi titik unik  $F$  sehingga  $FA + FB + FC$  minimal disebut titik Fermat segitiga. Tetapi tampaknya beberapa tahun sebelumnya, Torricelli Italia telah menemukan titik ini sebelum Fermat melakukannya! Pokoknya tradisinya adalah mencatat poin ini ...

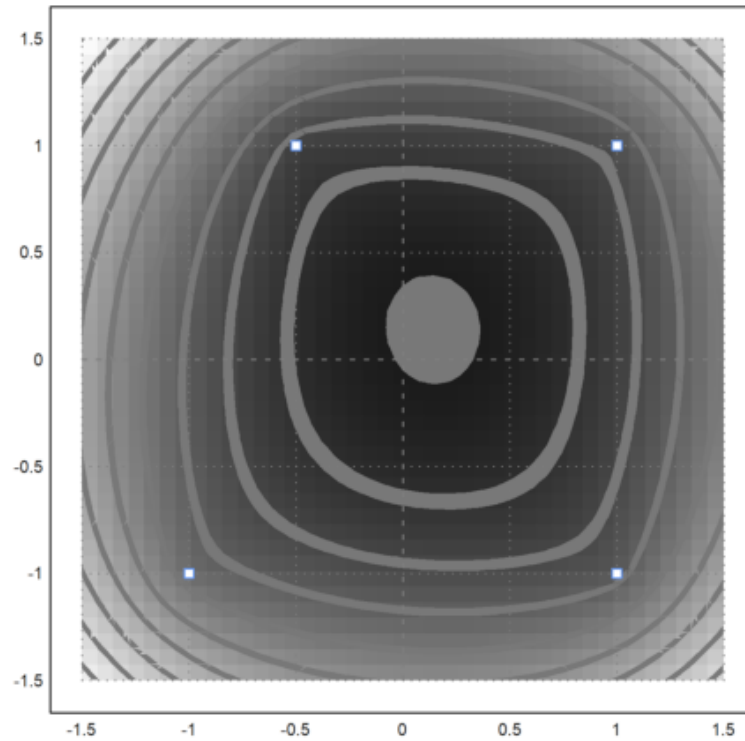


Langkah selanjutnya adalah menambahkan titik D ke-4 dan mencoba meminimalkan  $MA + MB + MC + MD$ ; katakanlah bahwa Anda adalah operator TV kabel dan ingin mencari di bidang mana Anda harus meletakkan antena sehingga Anda dapat memberi makan empat desa dan menggunakan kabel sesedikit mungkin!

```
>D=[1,1];  
>function d4(x,y):=d3(x,y)+sqrt((x-D[1])^2+(y-D[2])^2)  
>plot3d("d4",xmin=-1.5,xmax=1.5,ymin=-1.5,ymax=1.5):
```



```
>fcontour("d4",xmin=-1.5,xmax=1.5,ymin=-1.5,ymax=1.5,hue=1);  
>P=(A_B_C_D)'; plot2d(P[1],P[2],points=1,add=1,color=12);  
>insimg;
```



Masih ada minimum dan tidak ada yang dicapai pada simpul A, B, C atau D:

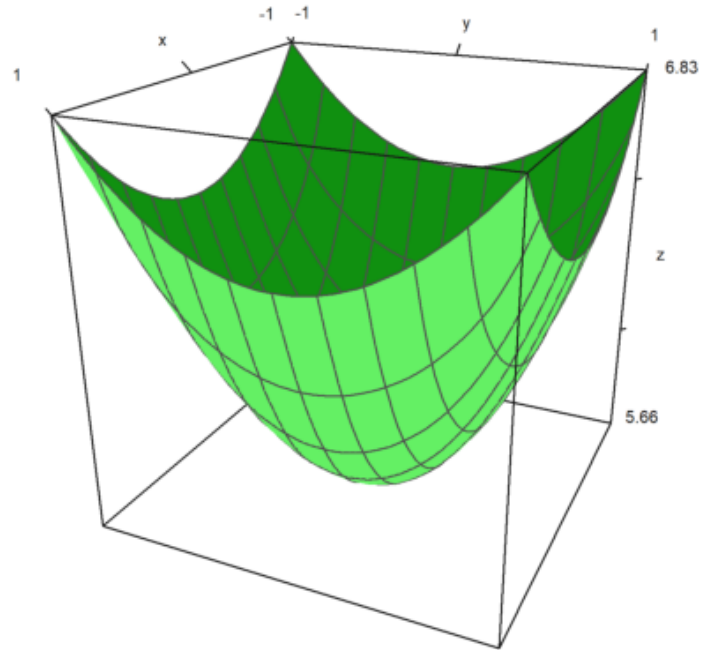
```
>function f(x):=d4(x[1],x[2])  
>neldermin("f",[0.2,0.2])
```

[0.142858, 0.142857]

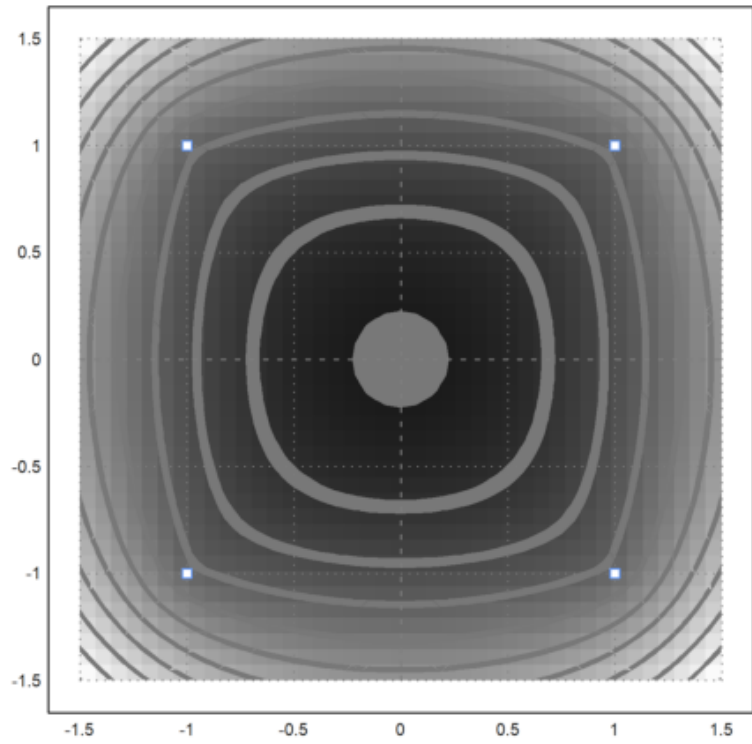
Tampaknya dalam kasus ini, koordinat titik optimal rasional atau mendekati rasional ...

Sekarang ABCD adalah bujur sangkar, kami berharap bahwa titik optimal adalah pusat ABCD:

```
>C=[-1,1];  
>plot3d("d4",xmin=-1,xmax=1,ymin=-1,ymax=1):
```



```
>fcontour("d4",xmin=-1.5,xmax=1.5,ymin=-1.5,ymax=1.5,hue=1);  
>P=(A_B_C_D)'; plot2d(P[1],P[2],add=1,color=12,points=1);  
>insimg;
```



## Contoh 7: Bola Dandelin dengan Povray

---

Anda dapat menjalankan demonstrasi ini, jika Anda memiliki Povray diinstal, dan pengine.exe di jalur program.

Pertama kami menghitung jari-jari bola.

Jika Anda melihat gambar di bawah, Anda melihat bahwa kita membutuhkan dua lingkaran yang menyentuh dua garis yang membentuk kerucut, dan satu garis yang membentuk bidang yang memotong kerucut.

Kami menggunakan file geometry.e dari Euler untuk ini.

```
>load geometry;
```

Pertama, dua garis yang membentuk kerucut.

```
>g1 &= lineThrough([0,0],[1,a])
```

```
[- a, 1, 0]
```

```
>g2 &= lineThrough([0,0],[-1,a])
```

$[-a, -1, 0]$

Lalu baris ketiga.

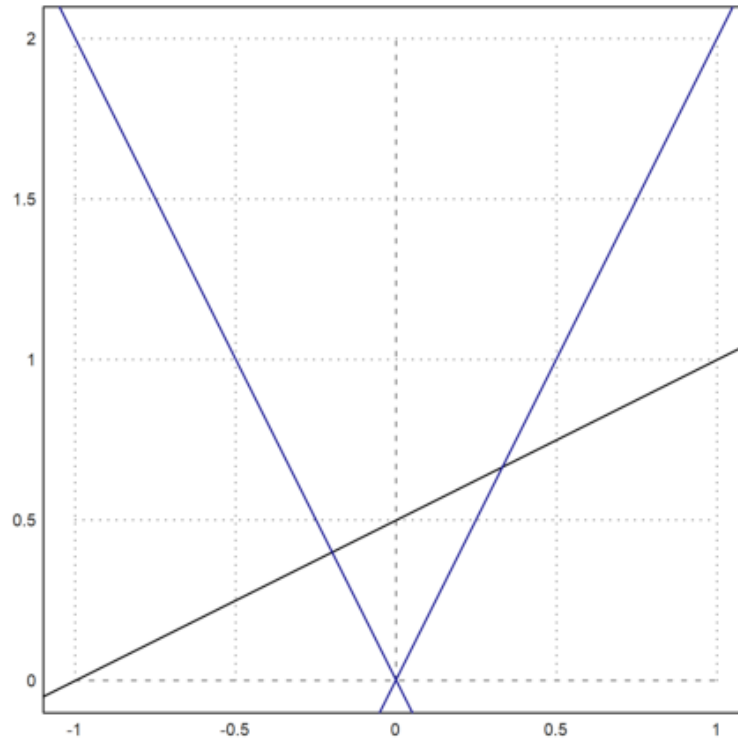
```
>g &= lineThrough([-1,0],[1,1])
```

$[-1, 2, 1]$

Kita merencanakan semuanya sejauh ini.

```
>setPlotRange(-1,1,0,2);  
>color(black); plotLine(g(),"")  
>a:=2; color(blue); plotLine(g1(),""), plotLine(g2(),""):
```





Sekarang kita ambil titik umum pada sumbu y.

>P &= [0,u]

[0, u]

Hitung jarak ke g1.

```
>d1 &= distance(P,projectToLine(P,g1)); $d1
```

$$\sqrt{\left(\frac{a^2 u}{a^2 + 1} - u\right)^2 + \frac{a^2 u^2}{(a^2 + 1)^2}}$$

Hitung jarak ke g.

```
>d &= distance(P,projectToLine(P,g)); $d
```

$$\sqrt{\left(\frac{u + 2}{5} - u\right)^2 + \frac{(2u - 1)^2}{25}}$$

Dan temukan pusat kedua lingkaran, di mana jaraknya sama.

```
>sol &= solve(d1^2=d^2,u); $sol
```

$$\left[ u = \frac{-\sqrt{5}\sqrt{a^2+1} + 2a^2 + 2}{4a^2 - 1}, u = \frac{\sqrt{5}\sqrt{a^2+1} + 2a^2 + 2}{4a^2 - 1} \right]$$

Ada dua solusi.

Kami mengevaluasi solusi simbolis, dan menemukan kedua pusat, dan kedua jarak.

```
>u := sol()
```

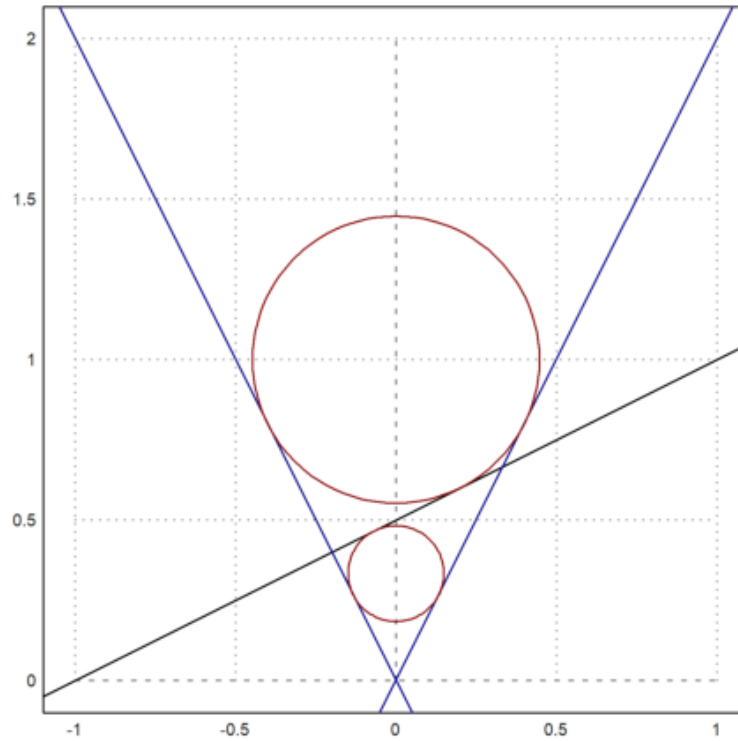
```
[0.333333, 1]
```

```
>dd := d()
```

```
[0.149071, 0.447214]
```

Plot lingkaran ke dalam gambar.

```
>color(red);  
>plotCircle(circleWithCenter([0,u[1]],dd[1]),"");  
>plotCircle(circleWithCenter([0,u[2]],dd[2]),"");  
>insimg;
```



---

Plot dengan Povray

Selanjutnya kami merencanakan semuanya dengan Povray. Perhatikan bahwa Anda mengubah perintah apa pun dalam urutan perintah Povray berikut, dan menjalankan kembali semua perintah dengan Shift-Return.

Pertama kita memuat fungsi povray.

```
>load povray;  
>defaultpovray="C:\Program Files\POV-Ray\v3.7\bin\pvengine.exe"
```

```
C:\Program Files\POV-Ray\v3.7\bin\pvengine.exe
```

Kita mengatur adegan dengan tepat.

```
>povstart(zoom=11,center=[0,0,0.5],height=10°,angle=140°);
```

Selanjutnya kita menulis dua bidang ke file Povray.

```
>writeln(povsphere([0,0,u[1]],dd[1],povlook(red)));  
>writeln(povsphere([0,0,u[2]],dd[2],povlook(red)));
```

Dan kerucutnya, transparan.

```
>writeln(povcone([0,0,0],0,[0,0,a],1,povlook(lightgray,1)));
```

Kami menghasilkan pesawat terbatas pada kerucut.

```
>gp=g();  
>pc=povcone([0,0,0],0,[0,0,a],1,"");  
>vp=[gp[1],0,gp[2]]; dp=gp[3];  
>writeln(povplane(vp,dp,povlook(blue,0.5),pc));
```

Sekarang kami menghasilkan dua titik pada lingkaran, di mana bola menyentuh kerucut.

```
>function turnz(v) := return [-v[2],v[1],v[3]]  
>P1=projectToLine([0,u[1]],g1()); P1=turnz([P1[1],0,P1[2]]);  
>writeln(povpoint(P1,povlook(yellow)));  
>P2=projectToLine([0,u[2]],g1()); P2=turnz([P2[1],0,P2[2]]);  
>writeln(povpoint(P2,povlook(yellow)));
```

Kemudian kami menghasilkan dua titik di mana bola menyentuh bidang. Ini adalah fokus elips.

```
>P3=projectToLine([0,u[1]],g()); P3=[P3[1],0,P3[2]];
>writeln(povpoint(P3,povlook(yellow)));
>P4=projectToLine([0,u[2]],g()); P4=[P4[1],0,P4[2]];
>writeln(povpoint(P4,povlook(yellow)));
```

Selanjutnya kita menghitung perpotongan P1P2 dengan bidang.

```
>t1=scalp(vp,P1)-dp; t2=scalp(vp,P2)-dp; P5=P1+t1/(t1-t2)*(P2-P1);
>writeln(povpoint(P5,povlook(yellow)));
```

Kami menghubungkan titik dengan segmen garis.

```
>writeln(povsegment(P1,P2,povlook(yellow)));
>writeln(povsegment(P5,P3,povlook(yellow)));
>writeln(povsegment(P5,P4,povlook(yellow)));
```

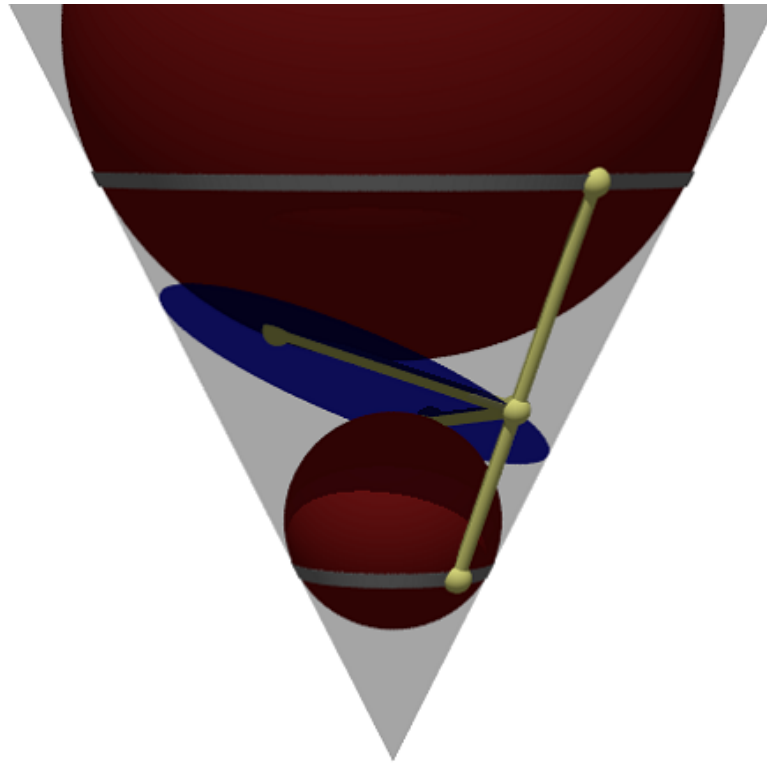
Sekarang kami membuat pita abu-abu, di mana bola menyentuh kerucut.

```
>pcw=povcone([0,0,0],0,[0,0,a],1.01);  
>pc1=povcylinder([0,0,P1[3]-defaultpointsize/2],[0,0,P1[3]+defaultpointsize/2],1);  
>writeln(povintersection([pcw,pc1],povlook(gray)));  
>pc2=povcylinder([0,0,P2[3]-defaultpointsize/2],[0,0,P2[3]+defaultpointsize/2],1);  
>writeln(povintersection([pcw,pc2],povlook(gray)));
```

Mulai program Povray.

```
>povend();
```





Untuk mendapatkan Anaglyph ini, kita perlu memasukkan semuanya ke dalam fungsi scene. Fungsi ini akan digunakan dua kali nanti.

```
>function scene () ...
```

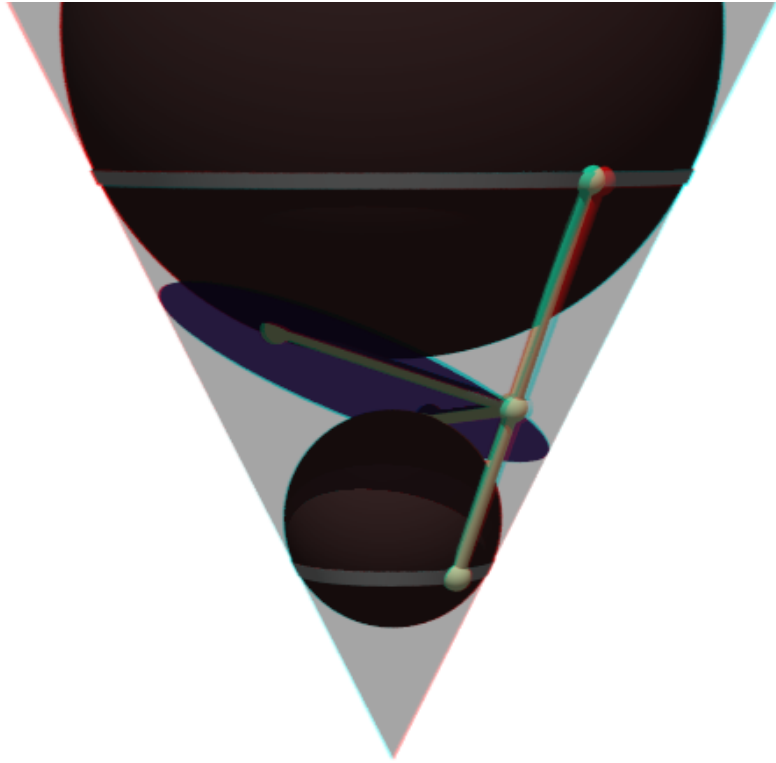
```

global a,u,dd,g,g1,defaultpointsize;
writeln(povsphere([0,0,u[1]],dd[1],povlook(red)));
writeln(povsphere([0,0,u[2]],dd[2],povlook(red)));
writeln(povcone([0,0,0],0,[0,0,a],1,povlook(lightgray,1)));
gp=g();
pc=povcone([0,0,0],0,[0,0,a],1,"");
vp=[gp[1],0,gp[2]]; dp=gp[3];
writeln(povplane(vp,dp,povlook(blue,0.5),pc));
P1=projectToLine([0,u[1]],g1()); P1=turnz([P1[1],0,P1[2]]);
writeln(povpoint(P1,povlook(yellow)));
P2=projectToLine([0,u[2]],g1()); P2=turnz([P2[1],0,P2[2]]);
writeln(povpoint(P2,povlook(yellow)));
P3=projectToLine([0,u[1]],g()); P3=[P3[1],0,P3[2]];
writeln(povpoint(P3,povlook(yellow)));
P4=projectToLine([0,u[2]],g()); P4=[P4[1],0,P4[2]];
writeln(povpoint(P4,povlook(yellow)));
t1=scalp(vp,P1)-dp; t2=scalp(vp,P2)-dp; P5=P1+t1/(t1-t2)*(P2-P1);
writeln(povpoint(P5,povlook(yellow)));
writeln(povsegment(P1,P2,povlook(yellow)));
writeln(povsegment(P5,P3,povlook(yellow)));
writeln(povsegment(P5,P4,povlook(yellow)));
pcw=povcone([0,0,0],0,[0,0,a],1.01);
pc1=povcylinder([0,0,P1[3]-defaultpointsize/2],[0,0,P1[3]+defaultpointsize/2],1);
writeln(povintersection([pcw,pc1],povlook(gray)));
pc2=povcylinder([0,0,P2[3]-defaultpointsize/2],[0,0,P2[3]+defaultpointsize/2],1);
writeln(povintersection([pcw,pc2],povlook(gray)));
endfunction

```

Anda membutuhkan kacamata merah / cyan untuk mengapresiasi efek berikut.

```
>povanaglyph("scene",zoom=11,center=[0,0,0.5],height=10°,angle=140°);
```



## Contoh 8: Geometri Bumi

---

Di notebook ini, kami ingin melakukan beberapa komputasi bola. Fungsi-fungsi tersebut terdapat dalam file "spherical.e" di folder contoh. Kita perlu memuat file itu dulu.

```
>load spherical.e
```

```
Spherical functions for Euler.
```

Untuk memasukkan posisi geografis, kami menggunakan vektor dengan dua koordinat dalam radian (utara dan timur, nilai negatif untuk selatan dan barat). Berikut koordinat Kampus FMIPA UNY.

```
>FMIPA=[rad(-7,-46.467),rad(110,23.05)]
```

```
[-0.13569, 1.92657]
```

Anda dapat mencetak posisi ini dengan `sposprint` (cetak posisi bola).

```
>sposprint(FMIPA) // posisi garis lintang dan garis bujur FMIPA UNY
```

```
S 7°46.467' E 110°23.050'
```

Mari kita tambahkan dua kota lagi, Solo dan Semarang.

```
>Solo=[rad(-7,-34.333),rad(110,49.683)]; Semarang=[rad(-6,-59.05),rad(110,24.533)];  
>sposprint(Solo), sposprint(Semarang),
```

```
S 7°34.333' E 110°49.683'  
S 6°59.050' E 110°24.533'
```

Pertama kita menghitung vektor dari satu bola ke bola lainnya pada bola ideal. Vektor ini adalah [heading, distance] dalam radian. Untuk menghitung jarak di bumi, kita mengalikan dengan jari-jari bumi pada garis lintang 7°.

```
>br=svector(FMIPA,Solo); degprint(br[1]), br[2]*rearth(7°)->km // perkiraan jarak FMIPA-Solo
```

```
65°20'26.60''  
53.8945384608
```

Ini adalah perkiraan yang bagus. Rutinitas berikut menggunakan perkiraan yang lebih baik. Pada jarak yang begitu dekat hasilnya hampir sama.

```
>esdist(FMIPA,Semarang)->" km", // perkiraan jarak FMIPA-Semarang
```

```
88.0114026318 km
```

Ada fungsi untuk heading, dengan mempertimbangkan bentuk bumi yang elips. Sekali lagi, kami mencetak dengan cara yang canggih.

```
>sdegprint(esdir(FMIPA,Solo))
```

65.34°

Sudut segitiga melebihi 180° pada bola.

```
>asum=sangle(Solo,FMIPA,Semarang)+sangle(FMIPA,Solo,Semarang)+sangle(FMIPA,Semarang,Solo); degprint(
```

180°0'10.77''

Ini dapat digunakan untuk menghitung luas segitiga. Catatan: Untuk segitiga kecil, ini tidak akurat karena kesalahan pengurangan dalam asum-pi.

```
>(asum-pi)*rearth(48°)^2->" km^2", //perkiraan luas segitiga FMIPA-Solo-Semarang
```

2116.02948749 km<sup>2</sup>

Ada fungsi untuk ini, yang menggunakan garis lintang rata-rata segitiga untuk menghitung jari-jari bumi, dan menangani kesalahan pembulatan untuk segitiga yang sangat kecil.

```
>esarea(Solo,FMIPA,Semarang)->" km^2", //perkiraan yang sama dengan fungsi esarea()
```

```
2123.64310526 km^2
```

Kami juga dapat menambahkan vektor ke posisi. Vektor berisi heading dan jarak, keduanya dalam radian. Untuk mendapatkan vektor, kami menggunakan `svector`. Untuk menambahkan vektor ke posisi, kami menggunakan `saddvector`.

```
>v=svector(FMIPA,Solo); sposprint(saddvector(FMIPA,v)), sposprint(Solo),
```

```
S 7°34.333' E 110°49.683'
```

```
S 7°34.333' E 110°49.683'
```

Fungsi-fungsi ini mengasumsikan bola yang ideal. Hal yang sama di bumi.

```
>sposprint(esadd(FMIPA,esdir(FMIPA,Solo),esdist(FMIPA,Solo))), sposprint(Solo),
```

```
S 7°34.333' E 110°49.683'
```

```
S 7°34.333' E 110°49.683'
```

Mari kita beralih ke contoh yang lebih besar, Tugu Jogja dan Monas Jakarta (menggunakan Google Earth untuk mencari koordinatnya).

```
>Tugu=[-7.7833°,110.3661°]; Monas=[-6.175°,106.811944°];  
>sposprint(Tugu), sposprint(Monas)
```

```
S 7°46.998' E 110°21.966'  
S 6°10.500' E 106°48.717'
```

Menurut Google Earth, jaraknya 429,66 km. Kami mendapatkan perkiraan yang bagus.

```
>esdist(Tugu,Monas)->" km", // perkiraan jarak Tugu Jogja - Monas Jakarta
```

```
431.565659488 km
```

Judulnya sama dengan yang dihitung di Google Earth.

```
>degprint(esdir(Tugu,Monas))
```

```
294°17'2.85''
```



Namun, kita tidak lagi mendapatkan posisi target yang tepat, jika kita menambahkan heading dan jarak ke posisi semula. Hal ini terjadi, karena kita tidak menghitung fungsi invers secara tepat, tetapi mengambil perkiraan jari-jari bumi di sepanjang jalan.

```
>sposprint(esadd(Tugu,esdir(Tugu,Monas),esdist(Tugu,Monas)))
```

S 6°10.500' E 106°48.717'

Namun, kesalahannya tidak besar.

```
>sposprint(Monas),
```

S 6°10.500' E 106°48.717'

Tentunya kita tidak bisa berlayar dengan tujuan yang sama dari satu tujuan ke tujuan lainnya, jika kita ingin mengambil jalur terpendek. Bayangkan, Anda terbang NE mulai dari titik mana pun di bumi. Kemudian Anda akan berputar ke kutub utara. Lingkaran besar tidak mengikuti arah yang konstan!

Perhitungan berikut menunjukkan bahwa kami jauh dari tujuan yang benar, jika kami menggunakan tajak yang sama selama perjalanan kami.

```
>dist=esdist(Tugu,Monas); hd=esdir(Tugu,Monas);
```

Sekarang kita tambahkan 10 kali sepersepuluh jaraknya, menggunakan heading ke Monas, kita sampai di Tugu.

```
>p=Tugu; loop 1 to 10; p=esadd(p,hd,dist/10); end;
```

Hasilnya masih jauh.

```
>sposprint(p), skmprint(esdist(p,Monas))
```

```
S 6°11.250' E 106°48.372'  
1.529km
```

Sebagai contoh lain, mari kita ambil dua titik di bumi pada ketinggian yang sama.

```
> P1=[30°,10°]; P2=[30°,50°];
```

Jalur terpendek dari P1 ke P2 bukanlah lingkaran dengan garis lintang  $30^\circ$ , tetapi jalur yang lebih pendek mulai  $10^\circ$  lebih jauh ke utara di P1.

```
>sdegprint(esdir(P1,P2))
```

```
79.69°
```

Tapi, jika kita mengikuti pembacaan kompas ini, kita akan berputar ke kutub utara! Jadi kita harus menyesuaikan arah tujuan kita di sepanjang jalan. Untuk tujuan kasar, kami menyesuaikannya pada 1/10 dari jarak total.

```
>p=P1; dist=esdist(P1,P2); ...  
> loop 1 to 10; dir=esdir(p,P2); sdegprint(dir), p=esadd(p,dir,dist/10); end;
```

```
79.69°  
81.67°  
83.71°  
85.78°  
87.89°  
90.00°  
92.12°  
94.22°  
96.29°  
98.33°
```

Jaraknya tidak tepat, karena kita akan menambahkan sedikit kesalahan, jika kita mengikuti tajuk yang sama terlalu lama.

```
>skmprint(esdist(p,P2))
```

0.203km

Kami mendapatkan perkiraan yang baik, jika kami menyesuaikan heading setelah setiap 1/100 dari total jarak dari Tugu ke Monas.

```
>p=Tugu; dist=esdist(Tugu,Monas); ...  
> loop 1 to 100; p=esadd(p,esdir(p,Monas),dist/100); end;  
>skmprint(esdist(p,Monas))
```

0.000km

Untuk keperluan navigasi, kita bisa mendapatkan urutan posisi GPS di sepanjang lingkaran besar menuju Monas dengan fungsi navigasi.

```
>load spherical; v=navigate(Tugu,Monas,10); ...  
> loop 1 to rows(v); sposprint(v[#]), end;
```

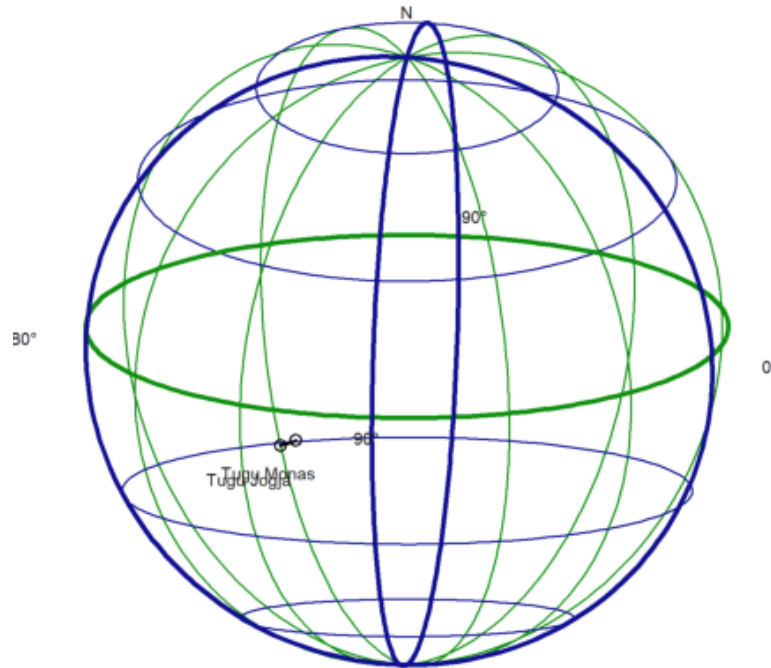
```
S 7°46.998' E 110°21.966'  
S 7°37.422' E 110°0.573'  
S 7°27.829' E 109°39.196'  
S 7°18.219' E 109°17.834'  
S 7°8.592' E 108°56.488'  
S 6°58.948' E 108°35.157'  
S 6°49.289' E 108°13.841'  
S 6°39.614' E 107°52.539'  
S 6°29.924' E 107°31.251'  
S 6°20.219' E 107°9.977'  
S 6°10.500' E 106°48.717'
```

Kami menulis sebuah fungsi, yang menggambarkan bumi, dua posisi, dan posisi di antaranya.

```
>function testplot ...  
  
    useglobal;  
    plotearth;  
    plotpos(Tugu,"Tugu Jogja"); plotpos(Monas,"Tugu Monas");  
    plotposline(v);  
endfunction
```

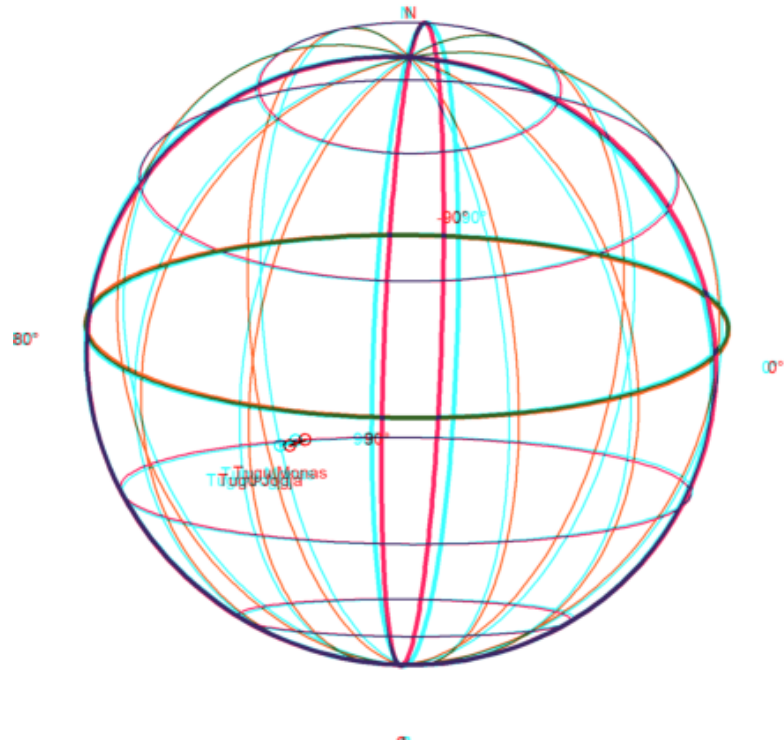
Sekarang plot semuanya.

```
>plot3d("testplot",angle=25, height=6,>own,>user, zoom=4):
```



Atau gunakan `plot3d` untuk mendapatkan tampilan anaglyphnya. Ini terlihat sangat bagus dengan kacamata merah / cyan.

```
>plot3d("testplot",angle=25,height=6,distance=5,own=1,anaglyph=1,zoom=4):
```



1. Gambarlah segi- $n$  beraturan jika diketahui titik pusat  $O$ ,  $n$ , dan jarak titik pusat ke titik-titik sudut segi- $n$  tersebut (jari-jari lingkaran luar segi- $n$ ),  $r$ .

Petunjuk:

- Besar sudut pusat yang menghadap masing-masing sisi segi- $n$  adalah  $(360/n)$ .
- Titik-titik sudut segi- $n$  merupakan perpotongan lingkaran luar segi- $n$  dan garis-garis yang melalui pusat dan saling membentuk sudut sebesar kelipatan  $(360/n)$ .
- Untuk  $n$  ganjil, pilih salah satu titik sudut adalah di atas.
- Untuk  $n$  genap, pilih 2 titik di kanan dan kiri lurus dengan titik pusat.
- Anda dapat menggambar segi-3, 4, 5, 6, 7, dst beraturan.

2. Gambarlah suatu parabola yang melalui 3 titik yang diketahui.

Petunjuk:

- Misalkan persamaan parabolanya  $y = ax^2 + bx + c$ .
- Substitusikan koordinat titik-titik yang diketahui ke persamaan tersebut.
- Selesaikan SPL yang terbentuk untuk mendapatkan nilai-nilai  $a$ ,  $b$ ,  $c$ .

3. Gambarlah suatu segi-4 yang diketahui keempat titik sudutnya, misalnya  $A$ ,  $B$ ,  $C$ ,  $D$ .

- Tentukan apakah segi-4 tersebut merupakan segi-4 garis singgung

(sisinya-sisintya merupakan garis singgung lingkaran yang sama yakni lingkaran dalam segi-4 tersebut).

- Suatu segi-4 merupakan segi-4 garis singgung apabila keempat



garis bagi sudutnya bertemu di satu titik.

- Jika segi-4 tersebut merupakan segi-4 garis singgung, gambar

lingkaran dalamnya.

- Tunjukkan bahwa syarat suatu segi-4 merupakan segi-4 garis

singgung apabila hasil kali panjang sisi-sisi yang berhadapan sama.

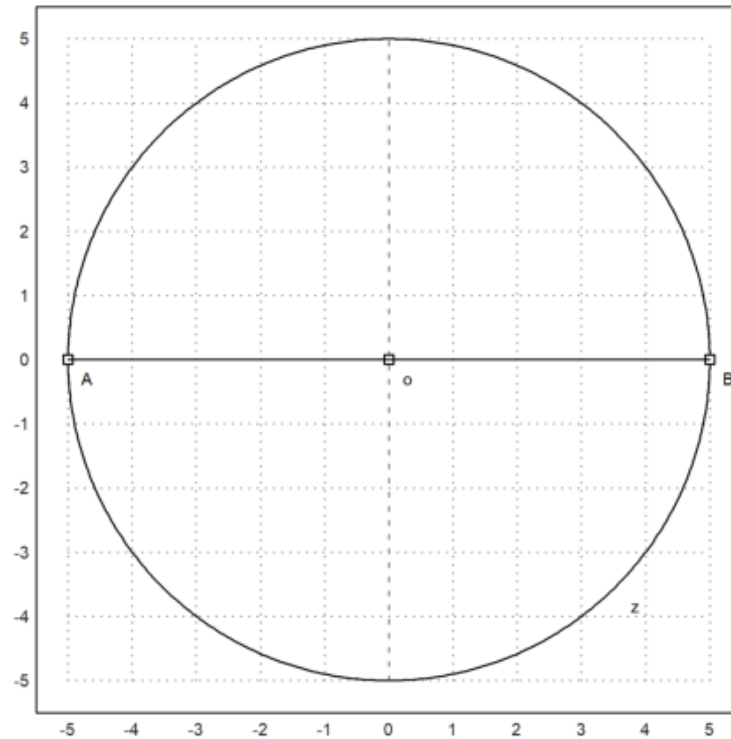
4. Gambarlah suatu ellips jika diketahui kedua titik fokusnya, misalnya P dan Q. Ingat ellips dengan fokus P dan Q adalah tempat kedudukan titik-titik yang jumlah jarak ke P dan ke Q selalu sama (konstan).

5. Gambarlah suatu hiperbola jika diketahui kedua titik fokusnya, misalnya P dan Q. Ingat ellips dengan fokus P dan Q adalah tempat kedudukan titik-titik yang selisih jarak ke P dan ke Q selalu sama (konstan).

Jawab:

1.

```
>o := [0,0]; z=circleWithCenter(o,5);  
>color(1); setPlotRange(5); plotPoint(o); plotCircle(z);  
>A=[-5,0]; plotPoint(A,"A");  
>B=[5,0]; plotPoint(B,"B");  
>plotSegment(A,B,""):
```

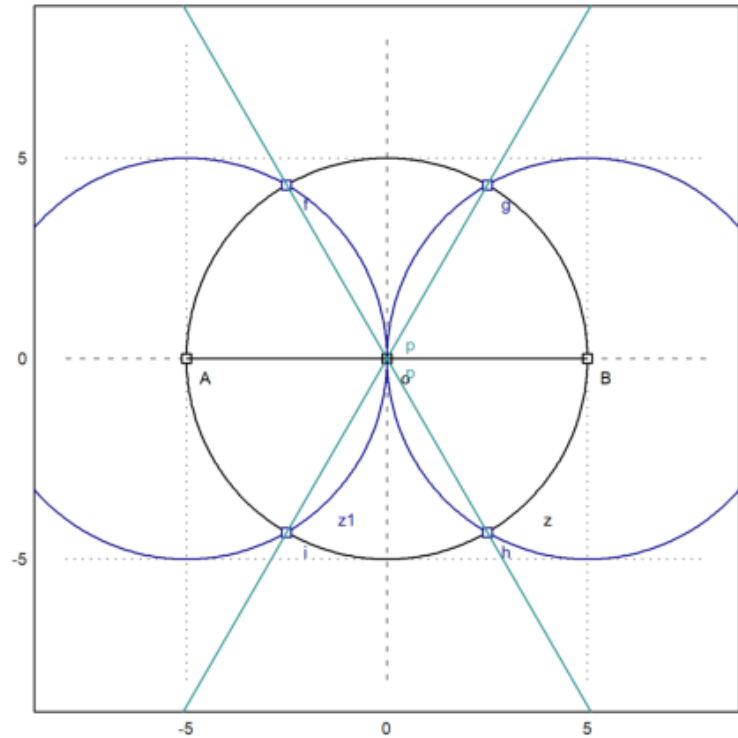


```

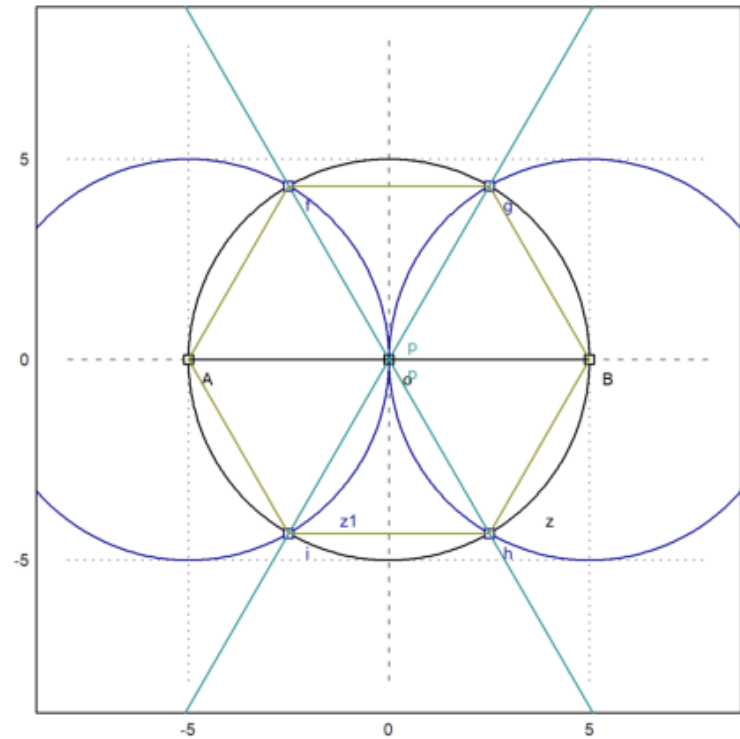
>z1=circleWithCenter(A,distance(A,o));
>z2=circleWithCenter(B,distance(B,o));
>f=circleCircleIntersections(z1,z);
>g=circleCircleIntersections(z,z2);
>h=circleCircleIntersections(z2,z);
>i=circleCircleIntersections(z,z1);
>r=lineThrough(f,h); s=lineThrough(g,i);

```

```
>setPlotRange(8); plotPoint(o); plotCircle(z); plotPoint(A,"A"); plotPoint(B,"B"); plotSegment(A,B,"  
>color(4); plotCircle(z1); plotCircle(z2); plotPoint(f); plotPoint(g); plotPoint(h); plotPoint(i);  
>color(5); plotLine(r); plotLine(s):
```

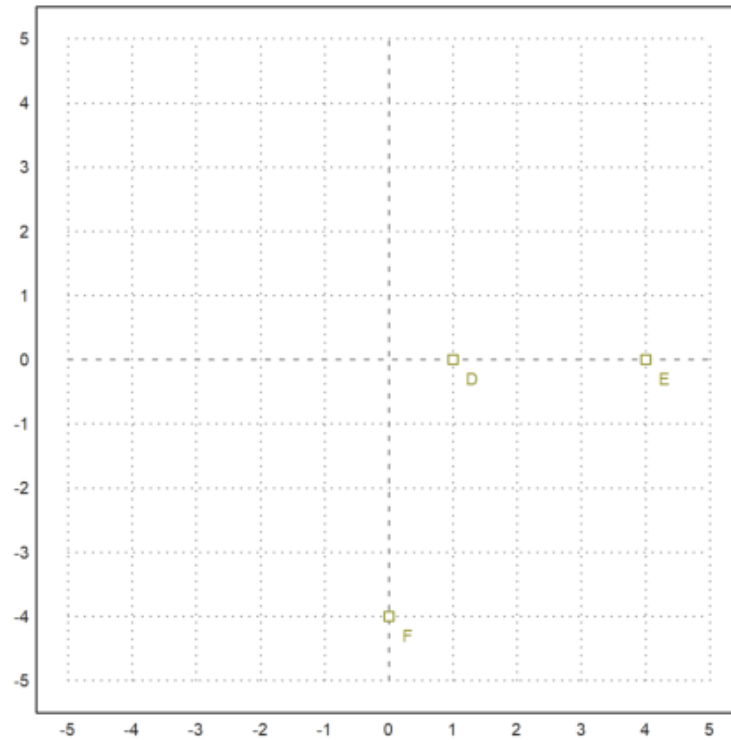


```
>color(6); plotSegment(A,f,""); plotSegment(A,i,""); plotSegment(f,g,""); ...  
> plotSegment(g,B,""); plotSegment(B,h,""); plotSegment(h,i,""):
```



2.

```
>setPlotRange(5); D=[1,0]; E=[4,0]; F=[0,-4];  
>plotPoint(D,"D"); plotPoint(E,"E"); plotPoint(F,"F"):
```



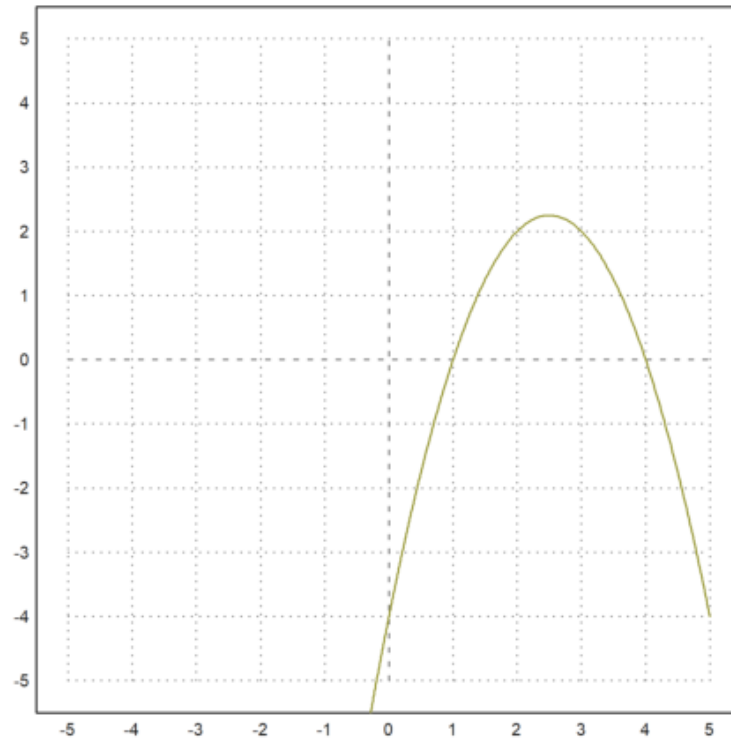
```
>sol &= solve([a+b=-c,16*a+4*b=-c,c=-4],[a,b,c])
```

```
[[a = - 1, b = 5, c = - 4]]
```

```
>function y&=-x^2+5*x-4
```

$$-x^2 + 5x - 4$$

```
>plot2d("-x^2+5*x-4",-5,5,-5,5):
```



3.

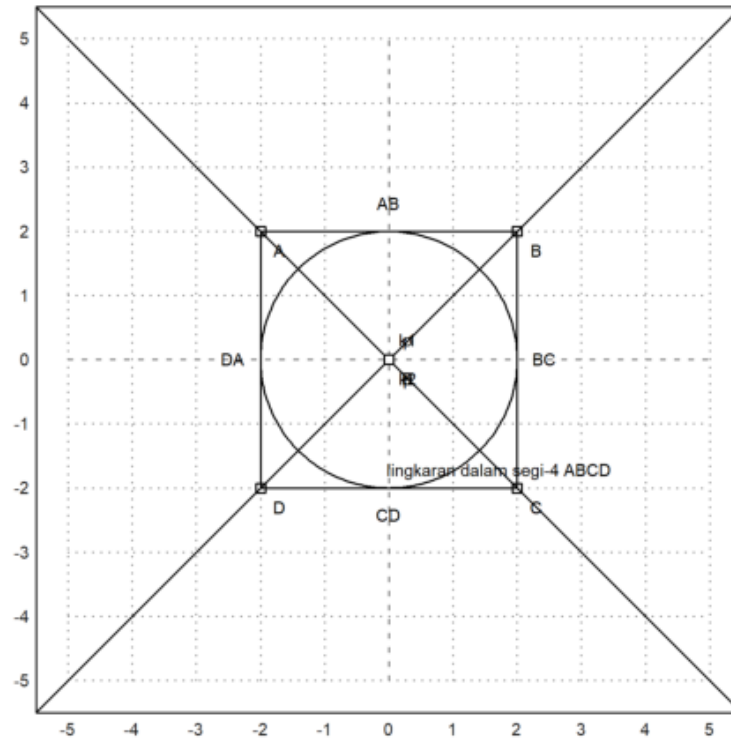
```
>setPlotRange(-5,5,-5,5);  
>A=[-2,2]; plotPoint(A,"A");  
>B=[2,2]; plotPoint(B,"B");  
>C=[2,-2]; plotPoint(C,"C");
```

```
>D=[-2,-2]; plotPoint(D,"D");  
>plotSegment(A,B);  
>plotSegment(B,C);  
>plotSegment(C,D);  
>plotSegment(D,A);  
>plotSegment(A,C,"k1");  
>plotSegment(B,D,"k2");  
>k1=lineThrough(A,C);  
>k2=lineThrough(B,D);  
>p=lineIntersection(k1,k2);  
>plotLine(k1); plotLine(k2);  
>plotPoint(p, "P");  
>r=norm(p-projectToLine(p,lineThrough(A,B)))
```

2

```
>plotCircle(circleWithCenter(p,r),"lingkaran dalam segi-4 ABCD");
```





```
>AB=norm(A-B) // panjang sisi AB
```

```
>CD=norm(C-D) // panjang sisi CD
```

4

```
>AD=norm(A-D) // panjang sisi AD
```

4

```
>BC=norm(B-C) // panjang sisi BC
```

4

```
>AB.CD
```

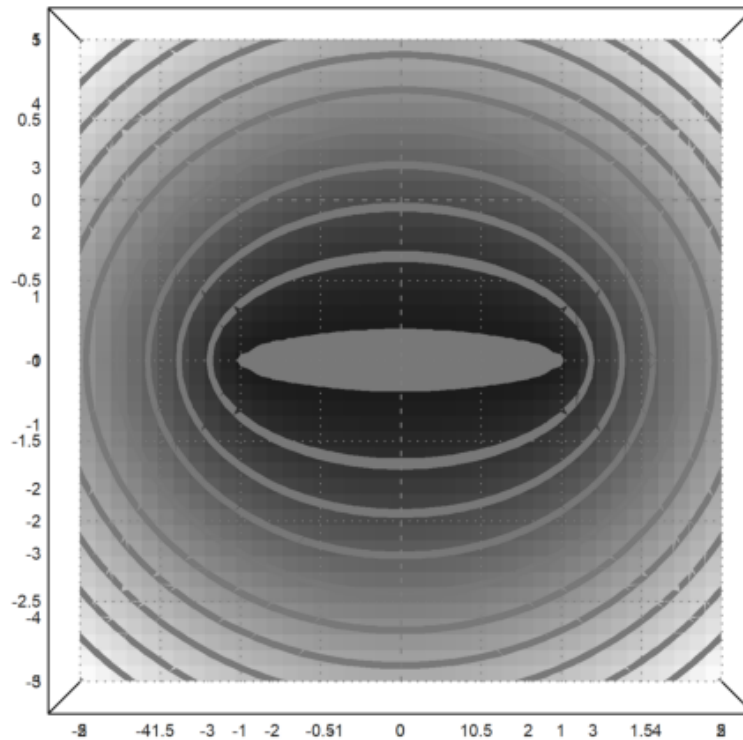
16

```
>AD.BC
```

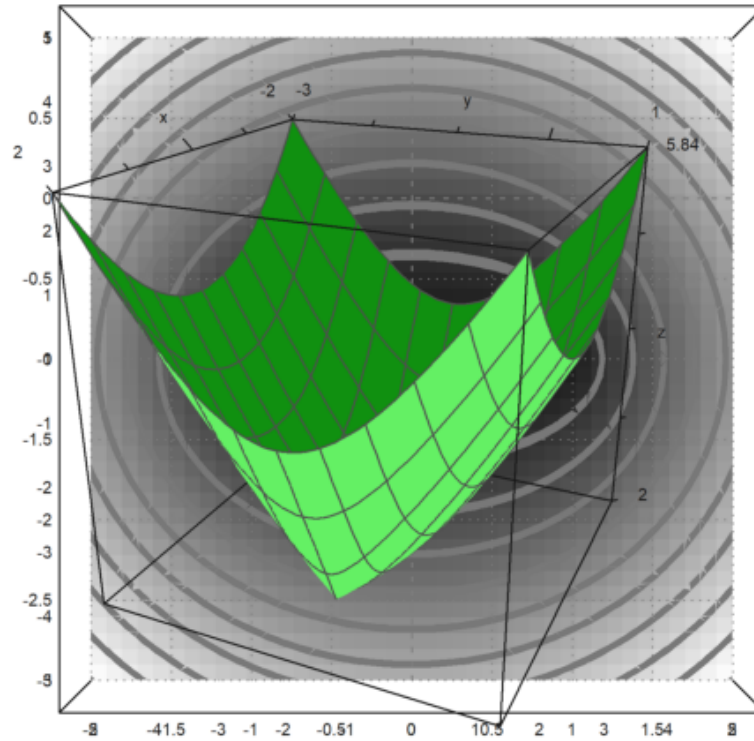
16

4.

```
>P=[-1,-1]; Q=[1,-1];  
>function d1(x,y):=sqrt((x-P[1])^2+(y-P[2])^2)  
>Q=[1,-1]; function d2(x,y):=sqrt((x-P[1])^2+(y-P[2])^2)+sqrt((x-Q[1])^2+(y-Q[2])^2)  
>fcontour("d2",xmin=-2,xmax=2,ymin=-3,ymax=1,hue=1):
```

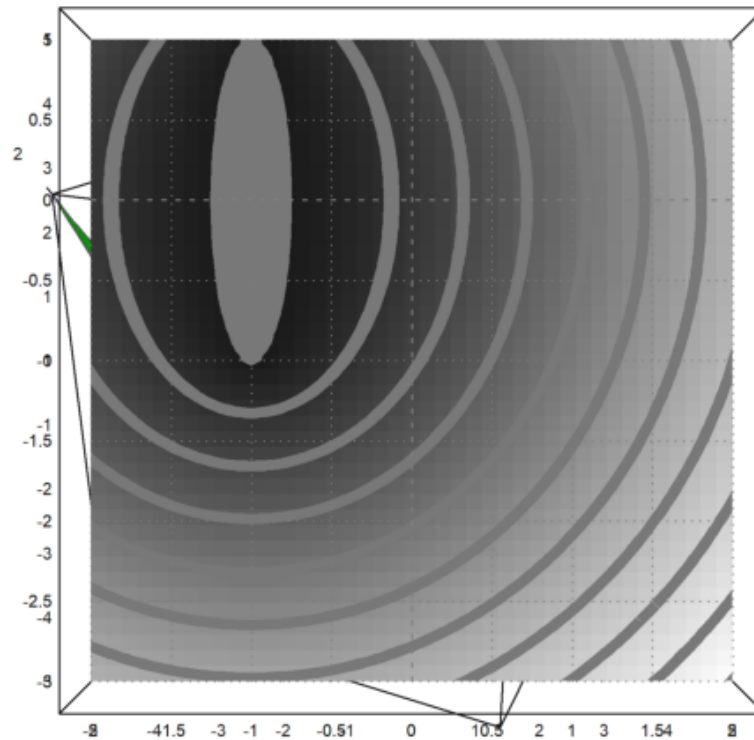


```
>plot3d("d2",xmin=-2,xmax=2,ymin=-3,ymax=1):
```

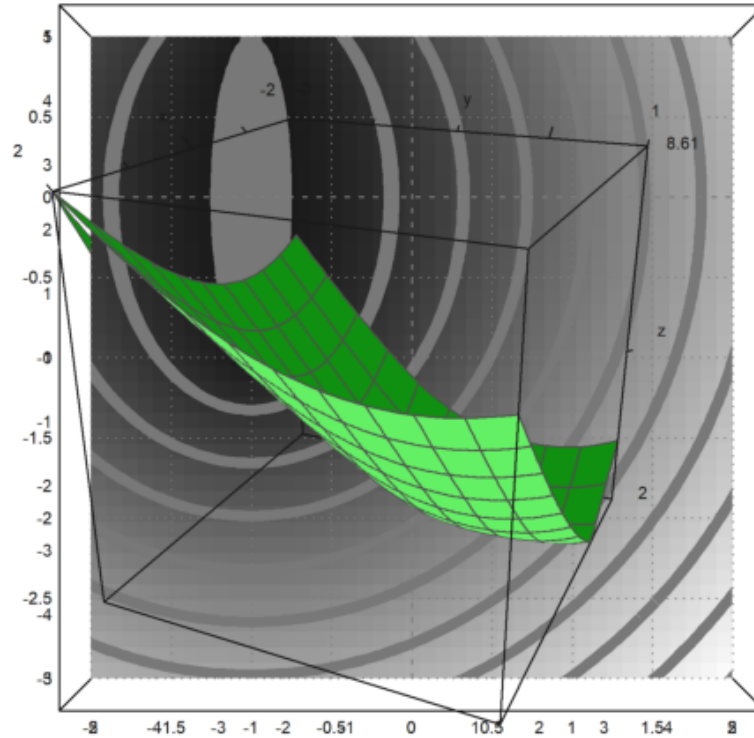


5.

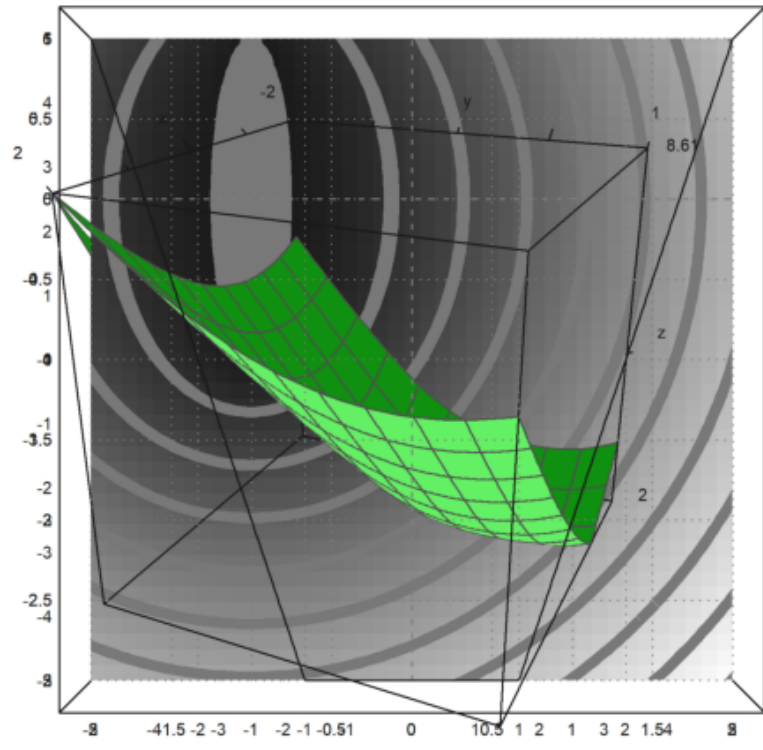
```
>P=[-1,-1]; Q=[1,-1];  
>function d1(x,y):=sqrt((x-p[1])^2+(y-p[2])^2)  
>Q=[1,-1]; function d2(x,y):=sqrt((x-P[1])^2+(y-P[2])^2)+sqrt((x+Q[1])^2+(y+Q[2])^2)  
>fcontour("d2",xmin=-2,xmax=2,ymin=-3,ymax=1,hue=1):
```



```
>plot3d("d2",xmin=-2,xmax=2,ymin=-3,ymax=1):
```



```
>plot2d("abs(x+1)+abs(x-1)",xmin=-3,xmax=3):
```



>