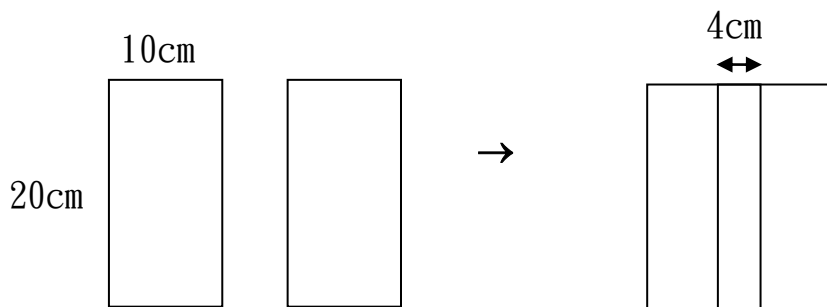




姓名：\_\_\_\_\_ ( ) 班別：4\_\_\_\_\_ 日期：\_\_\_\_\_

周界

1.



a. 上圖是由兩個各長 20cm，闊 10cm 的長方形重疊而成。  
用顏色筆畫新圖形的周界。

b. 重疊部分闊 4cm，新圖形的周界是多少？

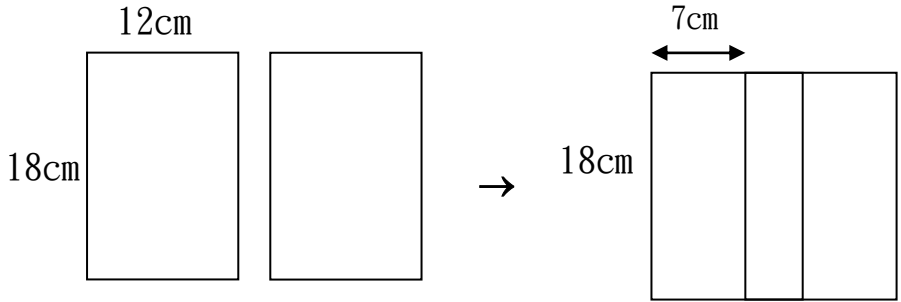
---

---

---

∴ 圖形的周界\_\_\_\_\_cm

2.



- a. 上圖是由兩個各長 18cm，闊 12cm 的長方形重疊而成。  
用顏色筆畫新圖形的周界。
- b. 新圖形的周界是多少？

---

---

---

∴ 圖形的周界\_\_\_\_\_cm

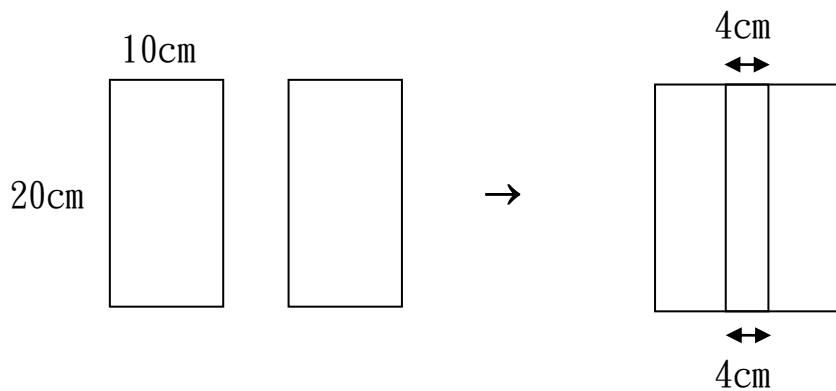


2016-2017 年度數學科 課堂活動 習作紙

姓名：\_\_\_\_\_ ( ) 班別：4\_\_\_\_\_ 日期：\_\_\_\_\_

周界

1.



- a. 上圖是由兩個各長 20cm，闊 10cm 的長方形重疊而成。用顏色筆畫新圖形的周界。
- b. 重疊部分闊 4cm，新圖形的周界是多少？

---



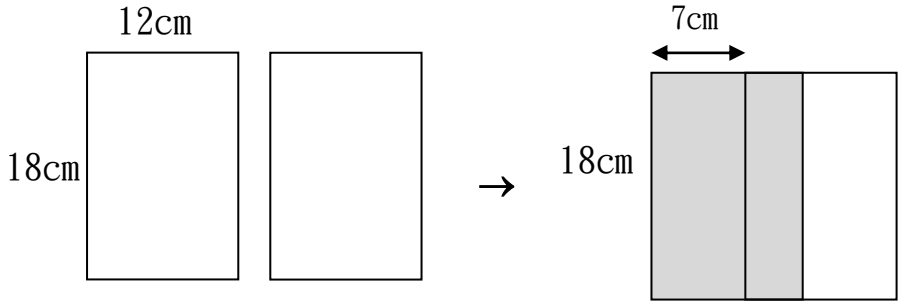
---



---

∴ 圖形的周界 \_\_\_\_\_ cm

2.



- a. 上圖是由兩個各長 18cm，闊 12cm 的長方形重疊而成。  
用顏色筆畫新圖形的周界。
- b. 新圖形的周界是多少？

---

---

---

∴ 圖形的周界\_\_\_\_\_cm