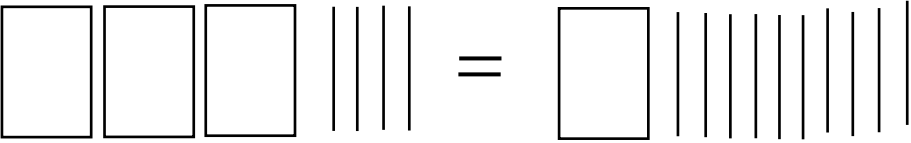
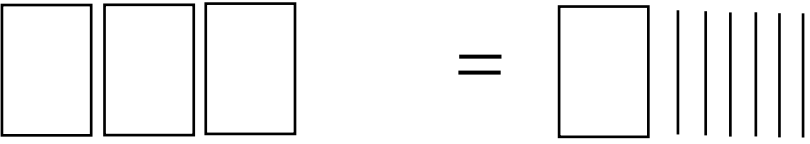
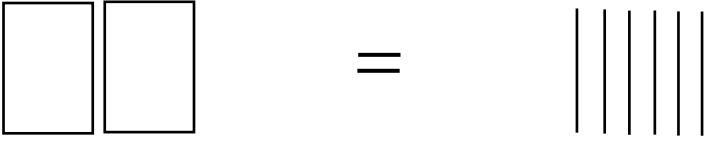
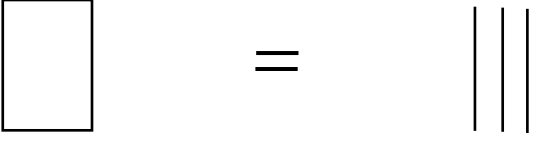


BOXMODELL 3

Boxengleichung	Aktion	Gleichung in Term-Schreibweise	Rechen-anweisung
	<p>Ich nehme auf jeder Seite <u>4</u> Hölzer weg.</p>	$3x + 4 = x + 10$	$ -4$
	<p>Ich nehme auf jeder Seite <u>1</u> Box(en) weg.</p>	$3x = x + 6$	$ -1$
	<p>Wenn ich <u>6</u> Hölzer auf <u>2</u> Boxen verteile, dann liegen in einer Box <u>3</u> Hölzer.</p>	$2x = 6$	$ :2$
		$x = 3$	
<p>PROBE:</p> 