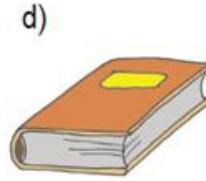
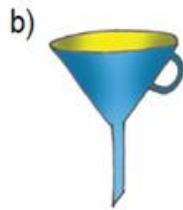
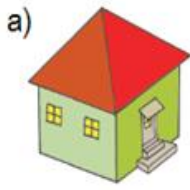


NASTAVNI LISTIĆ

1. Među predmetima na slici pronađi piramide.



2. Koji je mnogokut baza peterostrane piramide? _____.

3. Odgovori na sljedeća pitanja:

a. Koliko strana ima četverostrana piramida? _____.

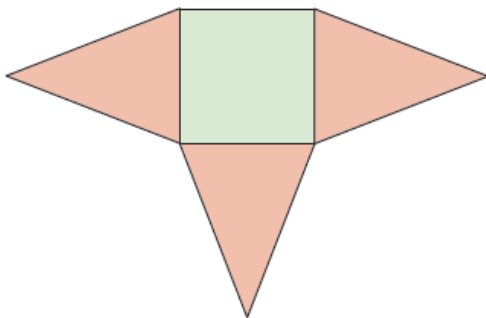
b. Koliko je baza (osnovki)? _____.

c. Koliko je pobočki? _____.

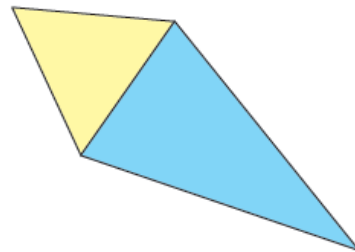
4. Nacrtaj mrežu pravilne trostrane piramide s osnovnim bridom duljine $a = 3.5 \text{ cm}$ i pobočnim bridom duljine $b = 5 \text{ cm}$.

5. Dovrši mrežu piramide.

a)



b)



6. Piramida ima 7 vrhova.

a. Koliko ta piramida ima bridova? _____

b. Koliko ima strana? _____

c. Koji je mnogokut baza piramide? _____

7. Što je baza pravilne trostrane piramide? _____.

8. Kako se zove piramida omeđena sa 6 bridova? _____.

9. Kako se zove piramida koja ima 12 pobočki? _____.

10. Kako se zove piramida koja ima 13 vrhova? _____.