


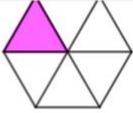



DENK KESİRLERİ EŞLEŞTİRELİM

Aşağıdaki görselde verilen şekilleri inceleyiniz ve şekillerin boyalı kısımlarına karşılık gelen kesre eşit ve denk kesirleri şekillerin altındaki kesirlerden bulunuz. Bulduğunuz sonuçları karşılaştırmak için verilen şekillerle aynı renkteki cevap kutucuğuna tıklayınız.

17:55 4.5G+ %100

GeoGebra [DERS OLUŞTUR](#)

Cevap 1 Cevap 2 Cevap 3 Cevap 4 Cevap 5

$\frac{7}{14}$ $\frac{2}{4}$ $\frac{50}{200}$ $\frac{21}{28}$ $\frac{31}{62}$ $\frac{25}{150}$ 0.75 $\frac{36}{144}$ 0.25 $\frac{12}{72}$

$\frac{3}{18}$ $\frac{32}{80}$ 0.4 $\frac{5}{10}$ $\frac{3}{6}$ $\frac{48}{64}$ $\frac{28}{70}$ $\frac{105}{210}$ $\frac{18}{45}$ $\frac{12}{48}$

1.Soru Denk kesir ve eşit kesir kavramlarını açıklayınız.

2.Soru Denk kesir ve eşit kesir arasındaki benzerlik ve farklılıkları arkadaşlarınızla tartışınız.