





數學科 工作紙 分數乘法(一)

姓名: _____ () 班別: _____ 日期: _____

	人數 (人)	每人吃去 (個)	畫圖	共吃去 (個)	列式
(1)	3	$\frac{1}{4}$			加法: _____ 乘法: _____
(2)	2	$\frac{2}{5}$			加法: _____ 乘法: _____
(3)	3	$\frac{3}{10}$			加法: _____ 乘法: _____
(4)	2	$\frac{3}{8}$			加法: _____ 乘法: _____

 試解釋如何從乘式中計出答案。

數學科 工作紙 分數乘法(一)

姓名: _____ () 班別: _____ 日期: _____

(1) 生日會中，曉琳、逸翹和云皓各喝去 $\frac{5}{6}$ 瓶橙汁，他們共喝去橙汁多少瓶？

畫圖：

列式計算: _____ = _____ (瓶)


(2) 浩賢和信謙各喝去 $1\frac{1}{3}$ 瓶益力多，他們共喝去益力多幾瓶？

畫圖：

列式計算: _____ = _____ (瓶)

(3) $\frac{7}{4} \times 3 = ?$

畫圖：



列式計算：_____ = _____