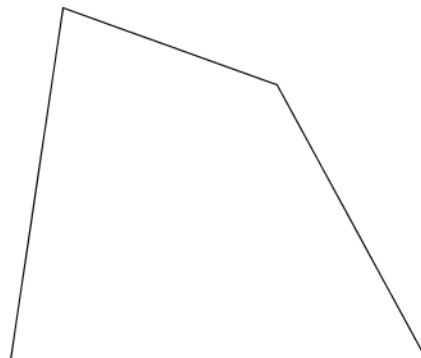
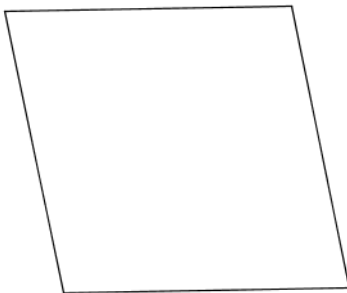

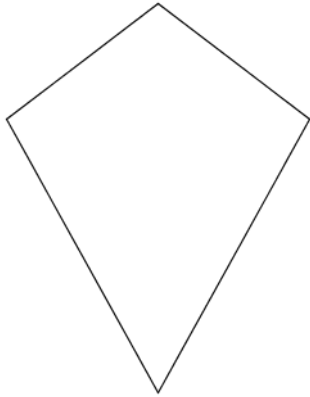


Diese Vierecke haben eine gemeinsame Eigenschaft:  
Die Diagonalen stehen aufeinander normal.  
Zeichne die Diagonalen ein und miss sie ab!  
Berechne die Flächeninhalte der Vierecke!



Die Flächeninhalte der Dreiecke (in ungeordneter Reihenfolge):  
14 cm<sup>2</sup>                      10 cm<sup>2</sup>                      16 cm<sup>2</sup>                      17 cm<sup>2</sup>