
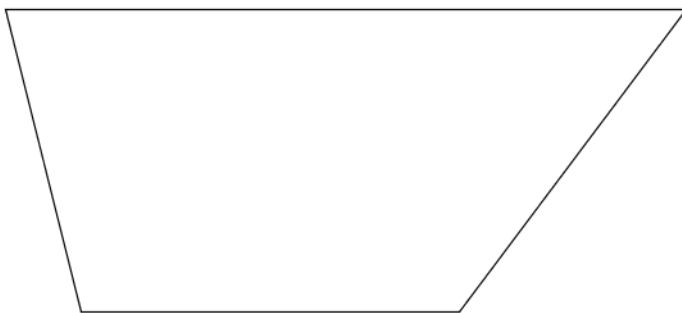
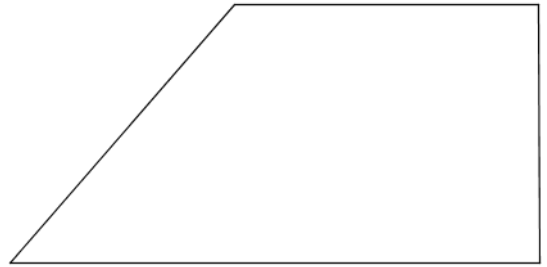



Miss die zur Berechnung der Flächeninhalte der Trapeze benötigten Längen ab!
Berechne die Flächeninhalte der Trapeze!



Die Flächeninhalte der Dreiecke (in ungeordneter Reihenfolge):

26 cm²

19 cm²

28 cm²

21 cm²

22 cm²