

小數的應用工作紙 (一)

姓名：_____ () 班別：_____ 日期：_____

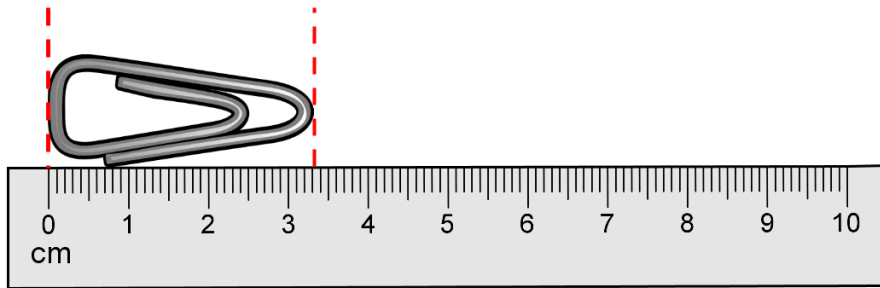
一、依照老師所示的高度，完成下表，並按高度由矮至高排序。

姓名	<u>嘉明</u>	<u>偉明</u>	<u>彤恩</u>	<u>明茵</u>
高度 (米)				

由矮至高的次序是：_____，_____，_____，_____

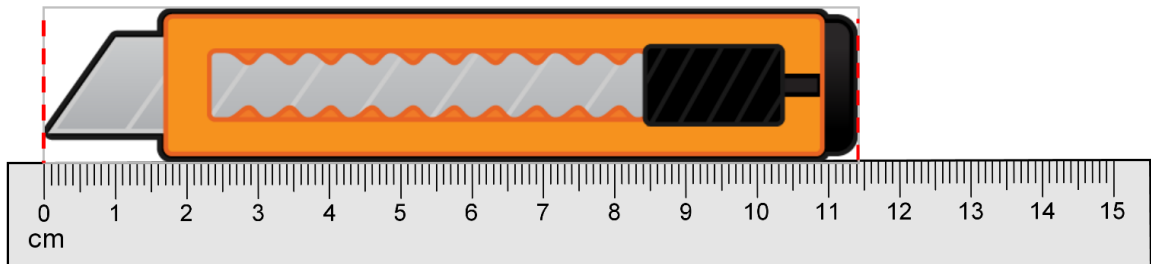
二、用小數記數。

1.



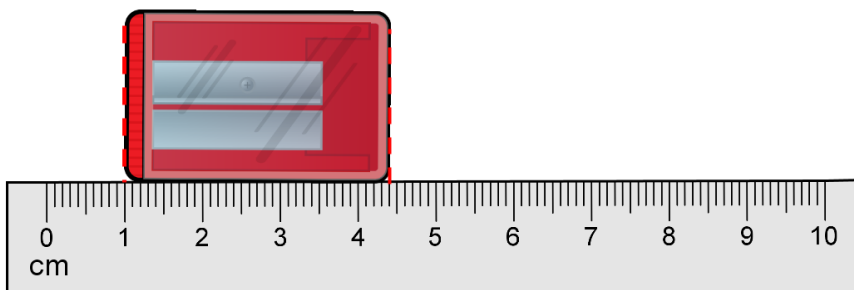
萬字夾的長度是 _____ 厘米。

2.



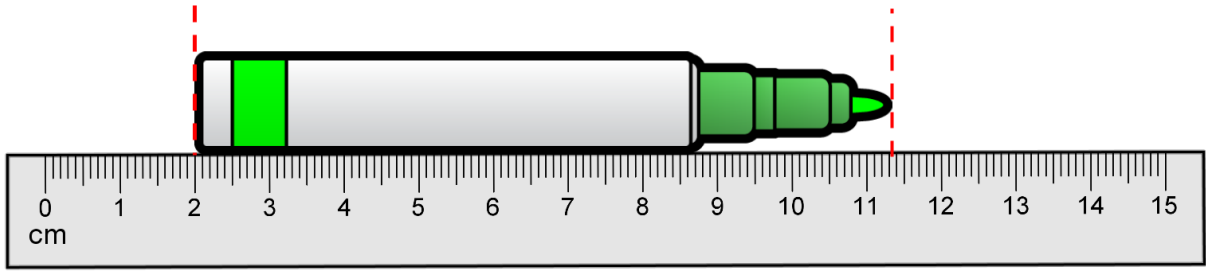
刀片的長度是 _____ 厘米。

3.



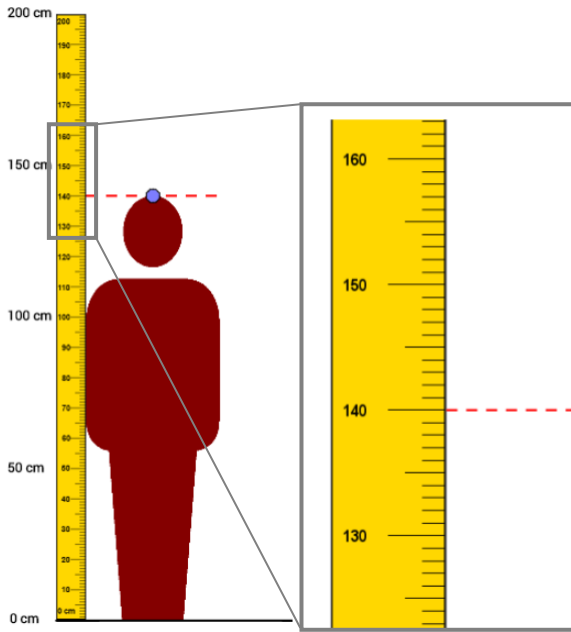
鉛筆刨的長度是 _____ cm。

4.



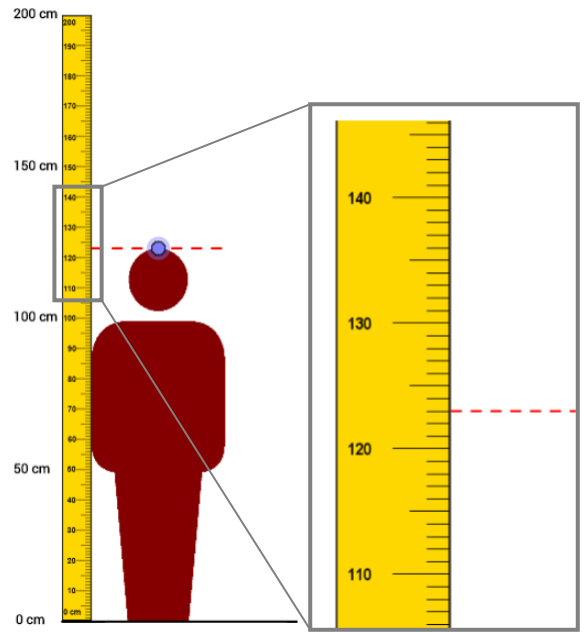
水筆的長度是_____厘米。

5.



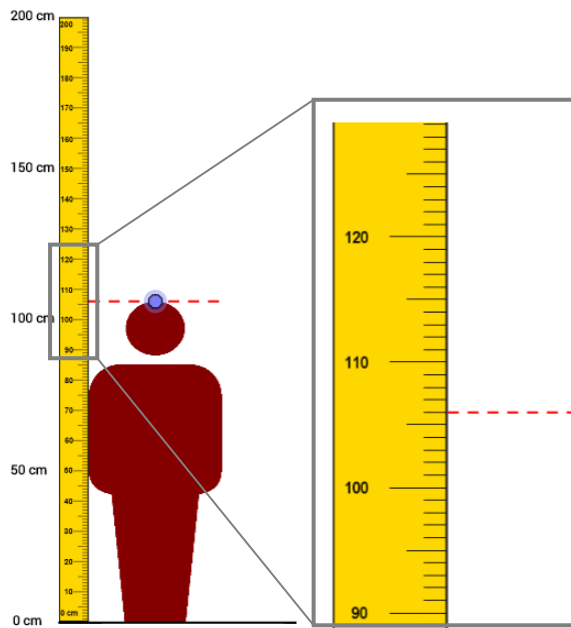
同學 A 的高度是_____米

6.



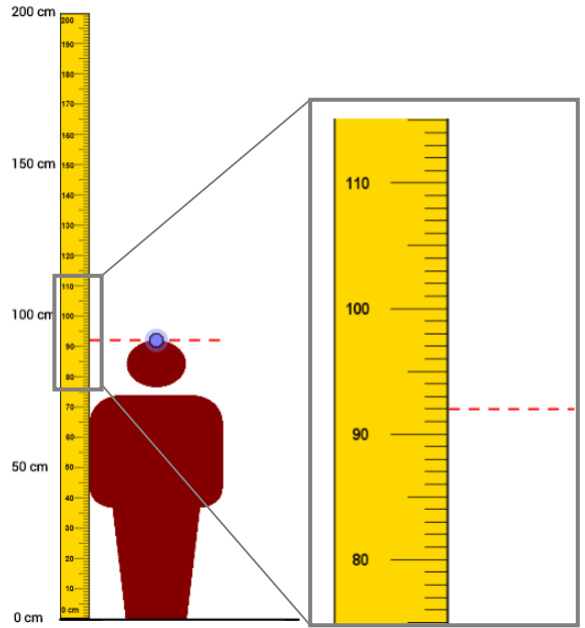
同學 B 的高度是_____米

7.



同學 C 的高度是_____米

8.

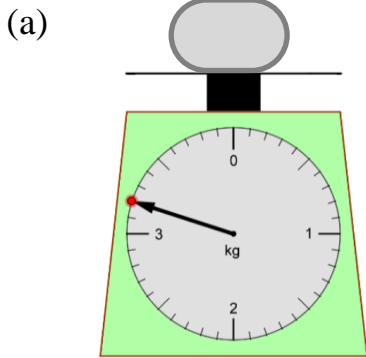


同學 D 的高度是_____米

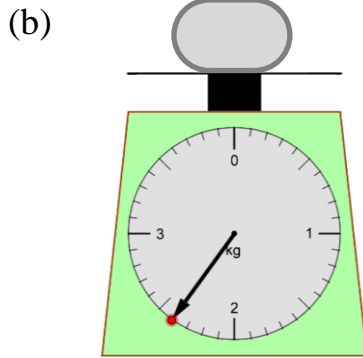
小數的應用工作紙 (二)

姓名：_____ () 班別：_____ 日期：_____

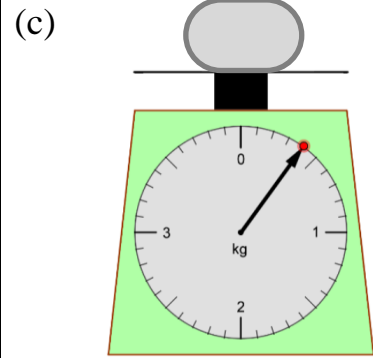
1. 寫出物件的重量。



物件的重量是_____公斤

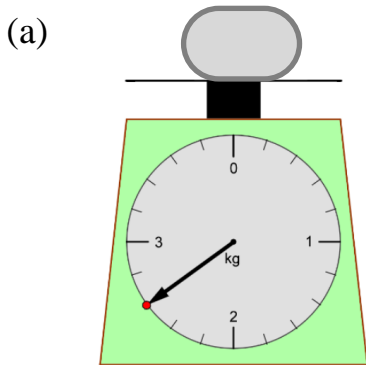


物件的重量是_____公斤



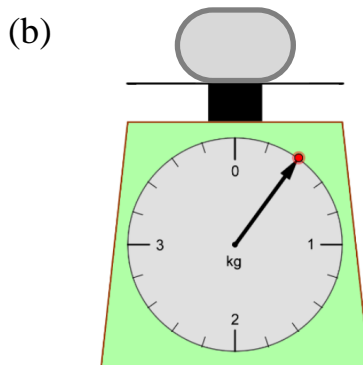
物件的重量是_____公斤

2. 寫出物件的重量。



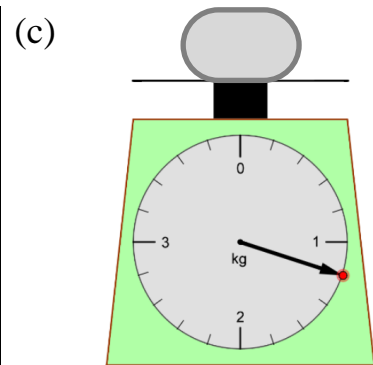
物件的重量是_____公斤

即是_____克



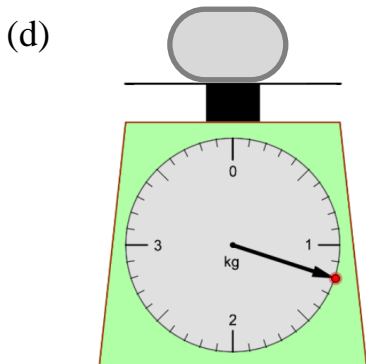
物件的重量是_____公斤

即是_____克



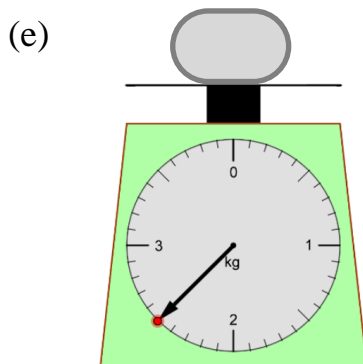
物件的重量是_____公斤

即是_____克



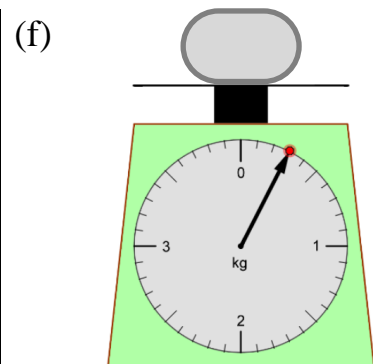
物件的重量是_____公斤

即是_____克



物件的重量是_____公斤

即是_____克



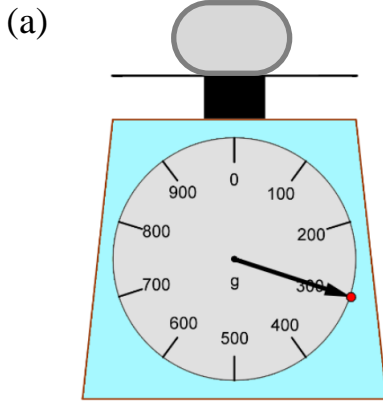
物件的重量是_____公斤

即是_____克

小數的應用工作紙 (三)

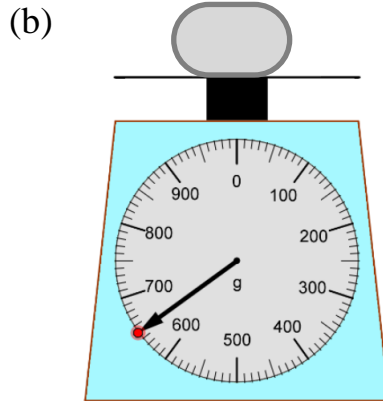
姓名：_____ () 班別：_____ 日期：_____

1. 寫出物件的重量。



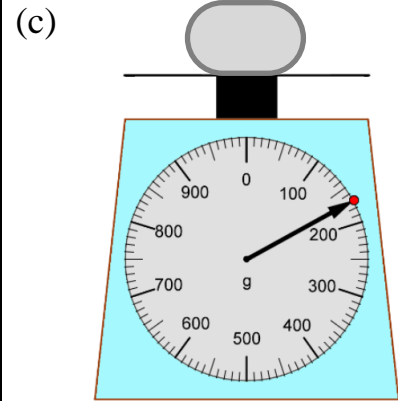
物件的重量是_____克

即是_____公斤



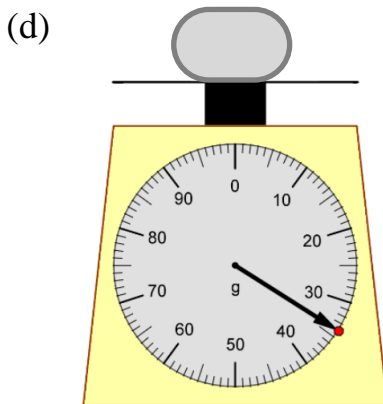
物件的重量是_____克

即是_____公斤



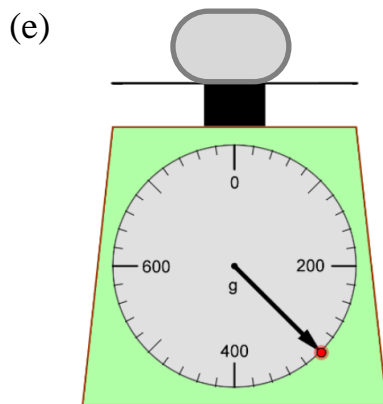
物件的重量是_____克

即是_____公斤



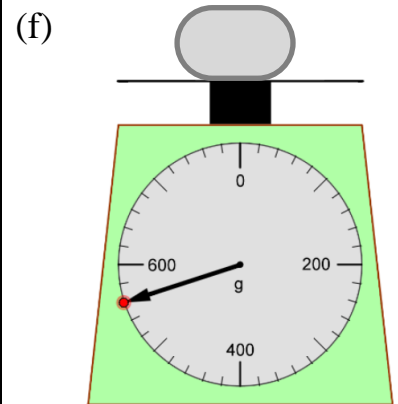
物件的重量是_____克

即是_____公斤



物件的重量是_____克

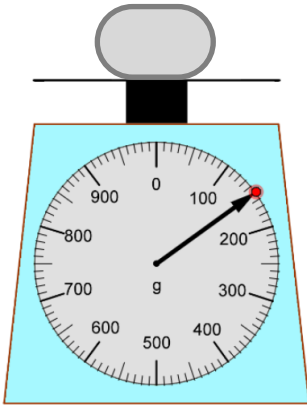
即是_____公斤



物件的重量是_____克

即是_____公斤

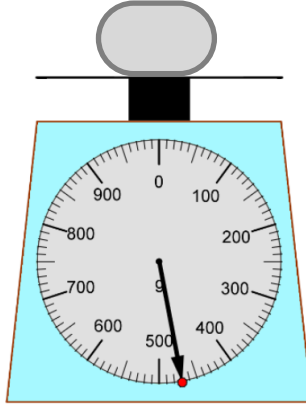
(g)



物件的重量是_____克

即是_____公斤

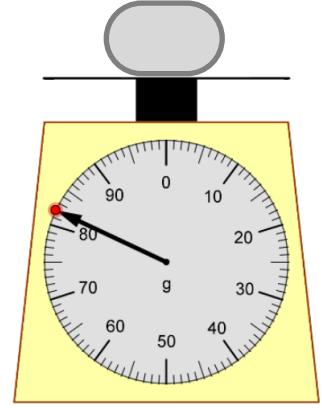
(h)



物件的重量是_____克

即是_____公斤

(i)

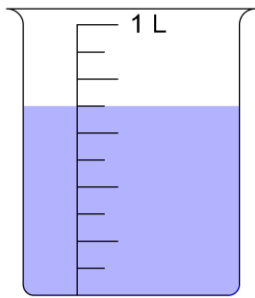


物件的重量是_____克

即是_____公斤

2. 下面的量杯各有水多少?

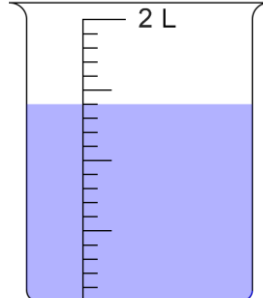
(a)



量杯內有水_____升

即是_____毫升

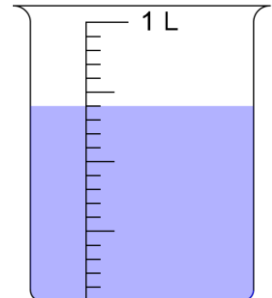
(b)



量杯內有水_____升

即是_____毫升

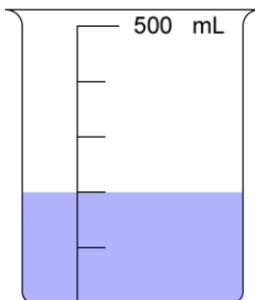
(c)



量杯內有水_____升

即是_____毫升

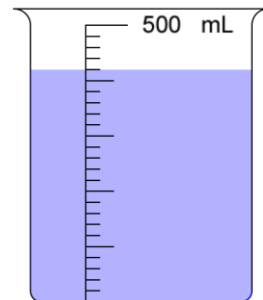
(e)



量杯內有水_____毫升

即是_____升

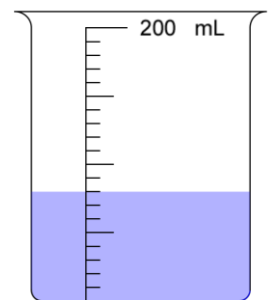
(f)



量杯內有水_____毫升

即是_____升

(g)



量杯內有水_____毫升

即是_____升

3. 填充題：依照題目要求，進行單位轉換。

(a) 4.306 公里 = _____ 米

(b) 12.47 米 = _____ 厘米

(c) 0.6 cm = _____ mm

(d) 0.346 L = _____ mL

(e) 4.8 升 = _____ 毫升

(f) 80.5 公斤 = _____ 克

(g) 0.69 kg = _____ g

(h) 0.409 公斤 = _____ 克

(i) 7 角 = _____ 元

(j) 42 角 = _____ 元

(k) 369 毫升 = _____ 升

(l) 26 mL = _____ L

(m) 468 米 = _____ 公里

(n) 82 m = _____ km

(o) 580 克 = _____ 公斤

(p) 700 g = _____ kg

4. 把下列各組數由大至小排列出來。

(a) 56 公里 300 米 5.653 公里 56400 米

_____ , _____ , _____

(b) 34.6 m 3380 cm 3 m 46 cm

_____ , _____ , _____

(c) 0.369 公斤 3690 克 3.021 公斤

_____ , _____ , _____

(d) 62.03 L 62104 mL 60 L 200 mL

_____ , _____ , _____