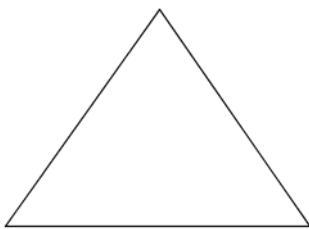
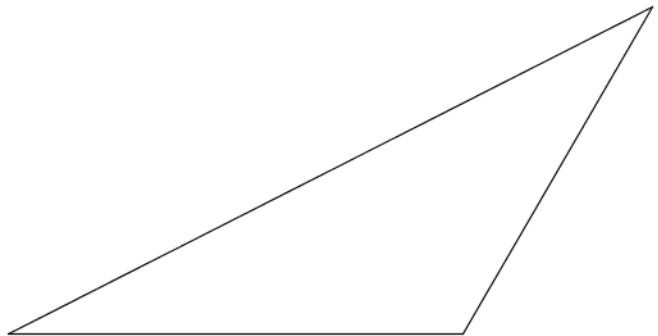
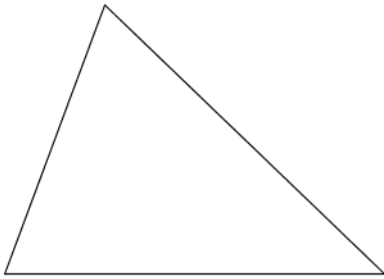
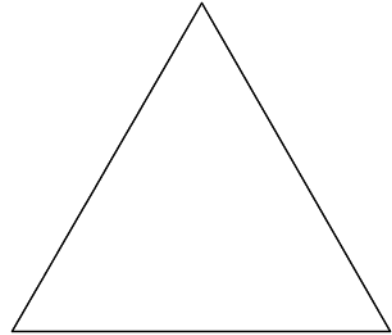
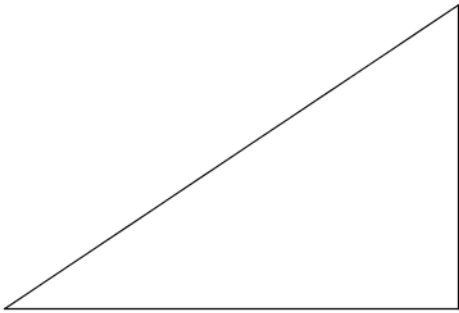


Miss die zur Berechnung der Flächeninhalte der Dreiecke benötigten Längen ab!
Berechne die Flächeninhalte der Dreiecke!



Die Flächeninhalte der Dreiecke (in ungeordneter Reihenfolge):

6 cm²

9 cm²

13 cm²

12 cm²

11 cm²