

分數除法

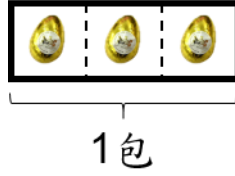
工作紙 (二)：分數和包含

姓名：_____ () 班別：5_____ 日期：_____

1. (a) 1 包朱古力有 3 粒。



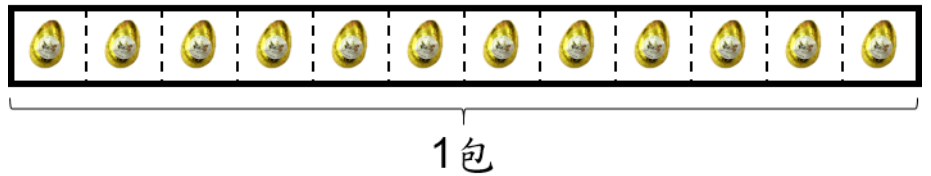
12 粒朱古力佔了：



(b) 1 包朱古力有 12 粒。



3 粒朱古力佔了：

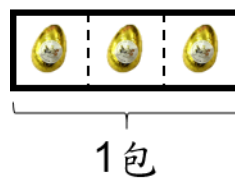


在下列各題中，按題意在圖中以 將朱古力分為若干包，並以分數表示答案。

2. (a) 1 包朱古力有 3 粒。



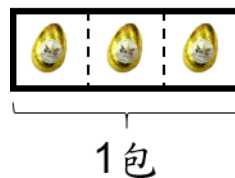
2 粒朱古力佔了：



(b) 1 包朱古力有 3 粒。



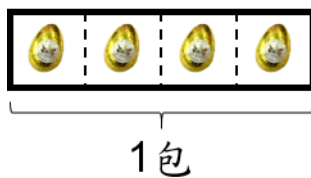
8 粒朱古力佔了：



2. (a) 1 包朱古力有 4 粒。



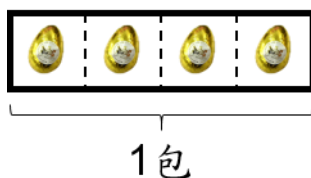
3 粒朱古力佔了：



(b) 1 包朱古力有 4 粒。



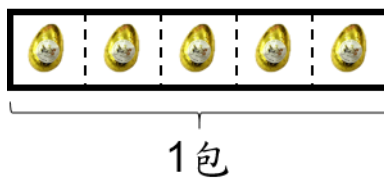
11 粒朱古力佔了：



3. 1 包朱古力有 5 粒。



9 粒朱古力佔了：



有 A 和 B 兩組物件，A 組有 a 件物件，B 組有 b 件物件。

A 組： a 件 B 組： b 件

B 組： b 件 A 組： a 件

A 組佔了 B 組的：

$$\square \div \square = \frac{\square}{\square}$$

B 組佔了 A 組的：

$$\square \div \square = \frac{\square}{\square}$$